

LÊ KIM LONG (Tổng Chủ biên)  
ĐẶNG XUÂN THỤ (Chủ biên)  
NGUYỄN ĐĂNG ĐẠT - LÊ THỊ HỒNG HẢI - NGUYỄN VĂN HẢI  
ĐƯƠNG KHÁNH LINH - TRẦN THỊ NHƯ MAI

# HOÁ HỌC

11

KẾT NỐI TRI THỨC  
VỚI CUỘC SỐNG



NHÀ XUẤT BẢN GIÁO DỤC VIỆT NAM

## HƯỚNG DẪN SỬ DỤNG SÁCH

Cuốn sách *Hoà học 11* nằm trong bộ sách *Kết nối tri thức với cuộc sống* của Nhà xuất bản Giáo dục Việt Nam. Cuốn sách có 6 chương, 25 bài học và được thiết kế thành các hoạt động học tập. Các hoạt động học tập trong mỗi bài học được chỉ dẫn cụ thể như sau:

**MỞ ĐẦU:** Câu hỏi gợi mở, thu hút sự quan tâm tìm hiểu bài học mới.

**HÌNH THÀNH KIẾN THỨC MỚI:** Học sinh thực hiện các hoạt động khám phá, tìm hiểu kết hợp các kiến thức đã có và được cung cấp để rút ra các nội dung hoá học.

**Hoạt động nghiên cứu:** Học sinh thực hiện các nhiệm vụ học tập và trực tiếp tham gia vào quá trình khám phá, phát hiện, hình thành và vận dụng kiến thức mới.

**Hoạt động thí nghiệm:** Học sinh thực hiện các thí nghiệm hoá học để phát hiện, hình thành kiến thức mới, phát triển năng lực nghiên cứu khoa học, thực hành thí nghiệm, khẳng định niềm tin vào khoa học.

**EM CÓ BIẾT?:** Mở rộng kiến thức, kết nối tri thức với cuộc sống.

**CÂU HỎI VÀ BÀI TẬP:** Giúp các em hiểu rõ vấn đề của bài học, nâng cao năng lực tư duy, ứng dụng kiến thức đã học được.

**EM ĐÃ HỌC:** Kiến thức, kĩ năng cơ bản của bài học.

**EM CÓ THỂ:** Vận dụng kiến thức, kĩ năng đã học.

Cuối mỗi chương là bài *Ôn tập*. Cuối sách có bảng *Giải thích một số thuật ngữ dùng trong sách*, giúp các em thuận tiện trong việc tra cứu.

*Hãy bảo quản, giữ gìn sách giáo khoa để dành tặng các em học sinh lớp sau!*

## LỜI NÓI ĐẦU

Trong Chương trình giáo dục phổ thông, Hoá học là môn học thuộc nhóm môn khoa học tự nhiên. Ở cấp Trung học phổ thông, học sinh lựa chọn môn Hoá học theo định hướng nghề nghiệp, sở thích và năng lực của bản thân.

Môn Hoá học giúp học sinh có được những tri thức cốt lõi về hoá học và ứng dụng những tri thức này vào cuộc sống, đồng thời có mối quan hệ với nhiều lĩnh vực giáo dục khác. Cùng với Toán học, Vật lí, Sinh học, Tin học và Công nghệ, môn Hoá học góp phần thúc đẩy giáo dục STEM, một trong những xu hướng giáo dục đang được coi trọng ở nhiều quốc gia trên thế giới.

Môn Hoá học hình thành, phát triển ở học sinh: năng lực đặc thù bộ môn; hứng thú học tập, nghiên cứu; tinh trung thực; thái độ tôn trọng các quy luật của thiên nhiên, ứng xử với thiên nhiên phù hợp với yêu cầu phát triển bền vững; khả năng lựa chọn nghề nghiệp phù hợp với năng lực và sở thích, điều kiện và hoàn cảnh của bản thân.

Nội dung cuốn sách Hoá học 11 bám sát chương trình giáo dục phổ thông 2018, được thiết kế thành 6 chương bao gồm các kiến thức về lí thuyết phản ứng hoá học, hoá học vô cơ, hoá học hữu cơ vừa bảo đảm củng cố các mạch nội dung phát triển kiến thức và kĩ năng thực hành đã hình thành từ cấp học dưới, vừa giúp học sinh có hiểu biết sâu sắc hơn về các kiến thức chung của hoá học, làm cơ sở để học tập, làm việc, nghiên cứu.

Các hoạt động học tập trong sách được lựa chọn sao cho các em học sinh có thể trực tiếp tham gia vào các hoạt động phù hợp với sở trường, năng lực, phát triển được năng lực tự học; thực hiện phân hoá sâu trong dạy học, tạo điều kiện để học sinh phát huy hết khả năng của mình.

Chúng tôi hi vọng cuốn sách sẽ là người bạn đồng hành, tin cậy, giúp các em nuôi dưỡng tình yêu hoá học và các em sẽ có những định hướng để lựa chọn nghề nghiệp trong tương lai.

Các tác giả

## MỤC LỤC

	Trang
Hướng dẫn sử dụng sách	2
Lời nói đầu	3
<b>Chương 1. CÂN BẰNG HOÁ HỌC</b>	<b>6</b>
<b>Bài 1</b> Khái niệm về cân bằng hoá học	6
<b>Bài 2</b> Cân bằng trong dung dịch nước	16
<b>Bài 3</b> Ôn tập chương 1	27
<b>Chương 2. NITROGEN – SULFUR</b>	<b>29</b>
<b>Bài 4</b> Nitrogen	29
<b>Bài 5</b> Ammonia - Muối ammonium	33
<b>Bài 6</b> Một số hợp chất của nitrogen với oxygen	38
<b>Bài 7</b> Sulfur và sulfur dioxide	42
<b>Bài 8</b> Sulfuric acid và muối sulfate	48
<b>Bài 9</b> Ôn tập chương 2	55
<b>Chương 3. ĐẠI CƯƠNG VỀ HOÁ HỌC HỮU CƠ</b>	<b>57</b>
<b>Bài 10</b> Hợp chất hữu cơ và hoá học hữu cơ	57
<b>Bài 11</b> Phương pháp tách biệt và tinh chế hợp chất hữu cơ	63
<b>Bài 12</b> Công thức phân tử hợp chất hữu cơ	70
<b>Bài 13</b> Cấu tạo hoá học hợp chất hữu cơ	74
<b>Bài 14</b> Ôn tập chương 3	80

	Trang
<b>Chương 4. HYDROCARBON</b>	82
Bài 15 Alkane	82
Bài 16 Hydrocarbon không no	92
Bài 17 Arene (Hydrocarbon thơm)	102
Bài 18 Ôn tập chương 4	110
<b>Chương 5. DẪN XUẤT HALOGEN – ALCOHOL – PHENOL</b>	112
Bài 19 Dẫn xuất halogen	112
Bài 20 Alcohol	119
Bài 21 Phenol	129
Bài 22 Ôn tập chương 5	134
<b>Chương 6. HỢP CHẤT CARBONYL – CARBOXYLIC ACID</b>	136
Bài 23 Hợp chất carbonyl	136
Bài 24 Carboxylic acid	145
Bài 25 Ôn tập chương 6	153
<b>Giải thích một số thuật ngữ dùng trong sách</b>	155

CHƯƠNG

1

# CÂN BẰNG HOÁ HỌC

BÀI  
1

## KHÁI NIỆM VỀ CÂN BẰNG HOÁ HỌC

**MỤC TIÊU:**

- Trình bày được khái niệm phản ứng thuận nghịch và trạng thái cân bằng của phản ứng thuận nghịch.
- Viết được biểu thức hằng số cân bằng ( $K_C$ ) của phản ứng thuận nghịch.
- Thực hiện được thí nghiệm nghiên cứu ảnh hưởng của nhiệt độ tới chuyển dịch cân bằng:
  - (1) Phản ứng:  $2NO_2 \rightleftharpoons N_2O_4$
  - (2) Phản ứng thủy phân sodium acetate.
- Vận dụng được nguyên lý chuyển dịch cân bằng Le Chatelier để giải thích ảnh hưởng của nhiệt độ, nồng độ, áp suất đến cân bằng hoá học.



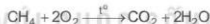
*Phản ứng hoá học là quá trình biến đổi các chất đầu thành sản phẩm. Tuy nhiên, có nhiều phản ứng, các chất sản phẩm sinh ra lại có thể phản ứng với nhau tạo thành chất đầu. Đối với những phản ứng này, làm thế nào để thu được nhiều sản phẩm hơn và làm tăng hiệu suất phản ứng?*



### PHẢN ỨNG MỘT CHIỀU VÀ PHẢN ỨNG THUẬN NGHỊCH

#### 1. Phản ứng một chiều

Xét phản ứng đốt cháy khí methane trong khí oxygen:



Khí đốt cháy khí methane, thu được sản phẩm là khí carbon dioxide và hơi nước. Trong điều kiện này, các chất sản phẩm không phản ứng được với nhau để tạo thành chất đầu. Phản ứng như trên được gọi là *phản ứng một chiều*.

Phương trình hoá học của phản ứng một chiều được biểu diễn bằng một mũi tên chỉ chiều phản ứng.



#### 2. Phản ứng thuận nghịch



Hai thí nghiệm sau đều được thực hiện ở cùng một điều kiện (bình kín dung tích 10 L, nhiệt độ 445 °C):

*Thí nghiệm 1:* Cho 1 mol  $H_2$  và 1 mol  $I_2$  vào bình kín. Kết quả thí nghiệm cho thấy dù thời gian phản ứng kéo dài bao lâu thì trong bình vẫn chỉ tạo ra 1,6 mol HI; còn dư 0,2 mol  $H_2$  và 0,2 mol  $I_2$ .

*Thí nghiệm 2:* Cho 2 mol HI vào bình. Kết quả thí nghiệm cũng cho thấy dù thời gian phản ứng kéo dài bao lâu thì trong bình vẫn chỉ tạo ra 0,2 mol H<sub>2</sub> và 0,2 mol I<sub>2</sub>; còn dư 1,6 mol HI.

*Thực hiện yêu cầu sau:*

- Viết phương trình hoá học của các phản ứng xảy ra trong thí nghiệm 1 và thí nghiệm 2.
- Trong cả hai thí nghiệm trên, dù thời gian phản ứng kéo dài bao lâu thì các chất đầu đều còn lại sau phản ứng. Giải thích.

Ở nhiệt độ 445 °C, trong bình chứa hỗn hợp H<sub>2</sub> và I<sub>2</sub> xảy ra đồng thời hai phản ứng:

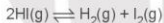


Ở thí nghiệm 1, khí H<sub>2</sub> tác dụng với I<sub>2</sub> tạo thành HI, đồng thời HI lại phân huỷ tạo thành I<sub>2</sub> và H<sub>2</sub> nên dù thời gian kéo dài bao lâu, phản ứng vẫn không thể xảy ra hoàn toàn.

Phản ứng giữa H<sub>2</sub> và I<sub>2</sub> trong điều kiện trên được gọi là phản ứng thuận nghịch và được biểu diễn bằng phương trình hoá học:



Tương tự, ở thí nghiệm 2 cũng xảy ra phản ứng thuận nghịch:



*Phản ứng thuận nghịch là phản ứng xảy ra theo hai chiều ngược nhau trong cùng điều kiện.*

Phương trình hoá học của phản ứng thuận nghịch được biểu diễn bằng hai nửa mũi tên ngược chiều nhau. Chiều từ trái sang phải là chiều phản ứng thuận, chiều từ phải sang trái là chiều phản ứng nghịch.

Trong thực tế, các phản ứng thuận nghịch xảy ra không hoàn toàn bởi vì trong cùng một điều kiện, các chất phản ứng tác dụng với nhau tạo thành các chất sản phẩm (phản ứng thuận), đồng thời các chất sản phẩm lại tác dụng với nhau tạo thành các chất ban đầu (phản ứng nghịch).



- Quá trình hình thành hang động, thạch nhũ là một ví dụ điển hình về phản ứng thuận nghịch trong tự nhiên.

Nước có chứa CO<sub>2</sub> chảy qua đá vôi, bào mòn đá tạo thành Ca(HCO<sub>3</sub>)<sub>2</sub> (phản ứng thuận) góp phần hình thành các hang động. Hợp chất Ca(HCO<sub>3</sub>)<sub>2</sub> trong nước lại bị phân huỷ tạo ra CO<sub>2</sub> và CaCO<sub>3</sub> (phản ứng nghịch), hình thành các thạch nhũ, măng đá, cột đá.

Viết phương trình hoá học của các phản ứng xảy ra trong hai quá trình trên.

- Phản ứng xảy ra khi cho khí  $\text{Cl}_2$  tác dụng với nước là một phản ứng thuận nghịch. Viết phương trình hoá học của phản ứng, xác định phản ứng thuận, phản ứng nghịch.
- Nhận xét nào sau đây **không** đúng?
  - Trong phản ứng một chiều, chất sản phẩm không phản ứng được với nhau tạo thành chất đầu.
  - Trong phản ứng thuận nghịch, các chất sản phẩm có thể phản ứng với nhau để tạo thành chất đầu.
  - Phản ứng một chiều là phản ứng luôn xảy ra không hoàn toàn.
  - Phản ứng thuận nghịch là phản ứng xảy ra theo hai chiều trái ngược nhau trong cùng điều kiện.

## II CÂN BẰNG HOÁ HỌC

### 1. Trạng thái cân bằng



Xét phản ứng thuận nghịch:  $\text{H}_2(\text{g}) + \text{I}_2(\text{g}) \rightleftharpoons 2\text{HI}(\text{g})$ .

Số liệu về sự thay đổi số mol các chất trong bình phản ứng ở thí nghiệm 1 được trình bày trong Bảng 1.1 dưới đây:

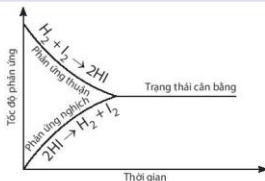
**Bảng 1.1.** Số mol các chất trong bình phản ứng của thí nghiệm 1 thay đổi theo thời gian

Thời gian (giây)	$t_0$	$t_1$	$t_2$	$t_3$	$t_4$	$t_5$	...	$t_\infty$
Số mol $\text{H}_2$	1,0	0,6	0,4	0,3	0,2	0,2	0,2	0,2
Số mol $\text{I}_2$	1,0	0,6	0,4	0,3	0,2	0,2	0,2	0,2
Số mol HI	0	0,8	1,2	1,4	1,6	1,6	1,6	1,6

Thực hiện các yêu cầu:

- Vẽ đồ thị biểu diễn sự thay đổi số mol các chất theo thời gian.
- Từ đồ thị, nhận xét về sự thay đổi số mol của các chất theo thời gian.
- Viết biểu thức định luật tác dụng khối lượng đối với phản ứng thuận và phản ứng nghịch, từ đó dự đoán sự thay đổi tốc độ của mỗi phản ứng theo thời gian (biết các phản ứng này đều là phản ứng đơn giản).
- Bắt đầu từ thời điểm nào thì số mol các chất trong hệ phản ứng không thay đổi nữa?

Trong thí nghiệm trên, lúc đầu phản ứng thuận có tốc độ lớn hơn phản ứng nghịch và ưu tiên tạo ra hydrogen iodide. Theo thời gian, tốc độ phản ứng thuận giảm dần, tốc độ phản ứng nghịch tăng dần đến khi tốc độ hai phản ứng bằng nhau (Hình 1.1). Tại thời điểm này, số mol của các chất hydrogen, iodine, hydrogen iodide không thay đổi nữa. Đây là thời điểm phản ứng thuận nghịch đạt tới trạng thái cân bằng.



**Hình 1.1.** Sự biến thiên tốc độ phản ứng thuận và phản ứng nghịch theo thời gian



**Trạng thái cân bằng** của phản ứng thuận nghịch là trạng thái tại đó tốc độ phản ứng thuận bằng tốc độ phản ứng nghịch.

Cân bằng hoá học là một cân bằng động, các chất tham gia phản ứng liên tục phản ứng với nhau để tạo thành sản phẩm và các chất sản phẩm cũng liên tục phản ứng với nhau để tạo thành các chất đầu nhưng với tốc độ bằng nhau nên ở trạng thái cân bằng, nồng độ các chất không thay đổi.



4. Cho phản ứng:  $2\text{HI}(\text{g}) \rightleftharpoons \text{H}_2(\text{g}) + \text{I}_2(\text{g})$

- a) Vẽ dạng đồ thị biểu diễn tốc độ của phản ứng thuận và phản ứng nghịch theo thời gian.
  - b) Xác định trên đồ thị thời điểm phản ứng trên bắt đầu đạt đến trạng thái cân bằng.
5. Cho các nhận xét sau:
- a) Ở trạng thái cân bằng, tốc độ phản ứng thuận bằng tốc độ phản ứng nghịch.
  - b) Ở trạng thái cân bằng, các chất không phản ứng với nhau.
  - c) Ở trạng thái cân bằng, nồng độ các chất sản phẩm luôn lớn hơn nồng độ các chất đầu.
  - d) Ở trạng thái cân bằng, nồng độ các chất không thay đổi.

Các nhận xét đúng là

- A. (a) và (b).      B. (b) và (c).      C. (a) và (c).      D. (a) và (d).

## 2. Hằng số cân bằng

### a) Biểu thức của hằng số cân bằng



Xét phản ứng thuận nghịch:  $\text{H}_2(\text{g}) + \text{I}_2(\text{g}) \rightleftharpoons 2\text{HI}(\text{g})$

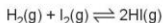
Thực hiện phản ứng trên trong bình kín, ở nhiệt độ 445 °C với các nồng độ ban đầu khác nhau. Số liệu về nồng độ các chất ở thời điểm ban đầu và ở trạng thái cân bằng trong các thí nghiệm được trình bày trong Bảng 1.2.

**Bảng 1.2.** Nồng độ các chất của phản ứng  $\text{H}_2(\text{g}) + \text{I}_2(\text{g}) \rightleftharpoons 2\text{HI}(\text{g})$  ở thời điểm ban đầu và ở trạng thái cân bằng

	Nồng độ các chất ở thời điểm ban đầu (mol/L)			Nồng độ các chất ở trạng thái cân bằng (mol/L)		
	$\text{H}_2$	$\text{I}_2$	HI	$\text{H}_2$	$\text{I}_2$	HI
Thí nghiệm 1	0,1	0,1	0	0,02000	0,02000	0,16000
Thí nghiệm 2	0,1	0,2	0	0,00532	0,10532	0,18936
Thí nghiệm 3	0,3	0,1	0	0,20290	0,00290	0,19420

Tính giá trị  $K_C = \frac{[\text{HI}]^2}{[\text{H}_2][\text{I}_2]}$  <sup>(1)</sup> ở mỗi thí nghiệm, nhận xét kết quả thu được.

$K_C = \frac{[\text{HI}]^2}{[\text{H}_2][\text{I}_2]}$  được gọi là biểu thức hằng số cân bằng của phản ứng thuận nghịch:



<sup>(1)</sup> Dấu [i] biểu thị nồng độ của chất i ở trạng thái cân bằng.

Xét phản ứng thuận nghịch tổng quát:  $aA + bB \rightleftharpoons cC + dD$

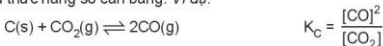
Ở trạng thái cân bằng, hằng số cân bằng ( $K_C$ ) của phản ứng được xác định theo biểu thức:

$$K_C = \frac{[C]^c [D]^d}{[A]^a [B]^b}$$


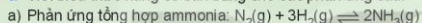
Trong đó: [A], [B], [C], [D] là nồng độ mol của các chất A, B, C, D ở trạng thái cân bằng; a, b, c, d là hệ số tỉ lượng của các chất trong phương trình hoá học của phản ứng.

Thực nghiệm cho thấy: hằng số cân bằng  $K_C$  của một phản ứng thuận nghịch chỉ phụ thuộc nhiệt độ và bản chất của phản ứng.

Đối với các phản ứng có chất rắn tham gia, không biểu diễn nồng độ của chất rắn trong biểu thức hằng số cân bằng. Ví dụ:



6. Viết biểu thức hằng số cân bằng cho các phản ứng sau:



7. Ammonia ( $NH_3$ ) được điều chế bằng phản ứng:  $N_2(g) + 3H_2(g) \rightleftharpoons 2NH_3(g)$

Ở t °C, nồng độ các chất ở trạng thái cân bằng là:

$$[N_2] = 0,45 \text{ M}; [H_2] = 0,14 \text{ M}; [NH_3] = 0,62 \text{ M}.$$

Tính hằng số cân bằng  $K_C$  của phản ứng trên tại t °C.

b) Ý nghĩa của hằng số cân bằng

Hằng số cân bằng  $K_C$  phụ thuộc vào bản chất của phản ứng và nhiệt độ.

Biểu thức xác định hằng số cân bằng  $K_C = \frac{[C]^c [D]^d}{[A]^a [B]^b}$  cho thấy:  $K_C$  càng lớn thì phản ứng

thuận càng chiếm ưu thế hơn và ngược lại,  $K_C$  càng nhỏ thì phản ứng nghịch càng chiếm ưu thế hơn.

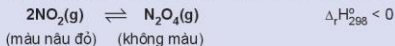


## CÁC YẾU TỐ ẢNH HƯỞNG ĐẾN SỰ CHUYỂN DỊCH CÂN BẰNG HOÁ HỌC

1. Ảnh hưởng của nhiệt độ



**Thí nghiệm 1. Ảnh hưởng của nhiệt độ đến sự chuyển dịch cân bằng:**



*Chuẩn bị:* 3 ống nghiệm chứa khí  $NO_2$  nút kín có màu giống nhau, cốc nước đá, cốc nước nóng.

*Tiến hành:*

- Ống nghiệm (1) để so sánh.
- Ngâm ống nghiệm (2) vào cốc nước đá trong khoảng 1 – 2 phút.
- Ngâm ống nghiệm (3) vào cốc nước nóng trong khoảng 1 – 2 phút.

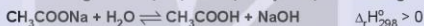
Lưu ý:  $\text{NO}_2$  là một khí độc, chú ý nút kín ống nghiệm.



**Hình 1.2.** Ảnh hưởng của nhiệt độ đến sự chuyển dịch cân bằng  $2\text{NO}_2(\text{g}) \rightleftharpoons \text{N}_2\text{O}_4(\text{g})$   
Quan sát sự thay đổi màu sắc của khí trong các ống nghiệm và hoàn thành vào vở theo mẫu bảng sau:

Tác động	Hiện tượng	Chiều chuyển dịch cân bằng (thuận/ngịch)	Chiều chuyển dịch cân bằng (toả nhiệt/thu nhiệt)
Tăng nhiệt độ	?	?	?
Giảm nhiệt độ	?	?	?

**Thí nghiệm 2.** Ảnh hưởng của nhiệt độ đến sự chuyển dịch cân bằng:




**Chuẩn bị:** dung dịch  $\text{CH}_3\text{COONa}$  0,5 M, phenolphthalein; cốc nước nóng, cốc nước đá, 3 ống nghiệm.

**Tiến hành:**

- Cho khoảng 10 mL dung dịch  $\text{CH}_3\text{COONa}$  0,5 M vào cốc thủy tinh, thêm 1 – 2 giọt phenolphthalein, khuấy đều.
- Chia dung dịch thu được vào 3 ống nghiệm. Ống nghiệm (1) để so sánh, ống nghiệm (2) ngâm vào cốc nước đá, ống nghiệm (3) ngâm vào cốc nước nóng.



**Hình 1.3.** Ảnh hưởng của nhiệt độ đến sự chuyển dịch cân bằng



Quan sát sự thay đổi màu sắc của dung dịch trong các ống nghiệm và hoàn thành vào vở theo mẫu bảng sau:

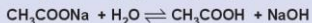
Tác động	Hiện tượng	Chiều chuyển dịch cân bằng (thuận/ngịch)	Chiều chuyển dịch cân bằng (phản ứng toả nhiệt/thu nhiệt)
Tăng nhiệt độ	?	?	?
Giảm nhiệt độ	?	?	?

Khi tăng nhiệt độ, cân bằng chuyển dịch theo chiều làm giảm nhiệt độ, tức là chiều phân ứng thu nhiệt ( $\Delta_r H_{298}^0 > 0$ ), nghĩa là chiều làm giảm tác động của việc tăng nhiệt độ và ngược lại.

## 2. Ảnh hưởng của nồng độ

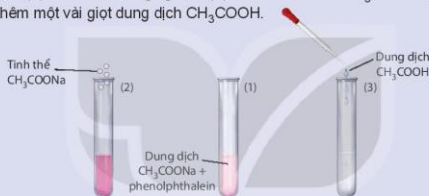


**Nghiên cứu ảnh hưởng của nồng độ đến sự chuyển dịch cân bằng:**




Thí nghiệm nghiên cứu ảnh hưởng của nồng độ đến sự chuyển dịch cân bằng trên được thực hiện như sau:

- Cho một vài giọt phenolphthalein vào dung dịch  $\text{CH}_3\text{COONa}$ , lắc đều, dung dịch có màu hồng nhạt.
- Chia dung dịch thu được vào ba ống nghiệm với thể tích gần bằng nhau. Ống nghiệm (1) để so sánh, ống nghiệm (2) thêm vài tinh thể  $\text{CH}_3\text{COONa}$ , ống nghiệm (3) thêm một vài giọt dung dịch  $\text{CH}_3\text{COOH}$ .



**Hình 1.4.** Ảnh hưởng của nồng độ đến sự chuyển dịch cân bằng



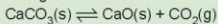
Quan sát sự thay đổi màu sắc của dung dịch trong các ống nghiệm (Hình 1.4) và hoàn thành vào vở theo mẫu bảng sau:

Tác động	Hiện tượng	Chiều chuyển dịch cân bằng (thuận/ngịch)	Chiều chuyển dịch cân bằng (tăng/giảm nồng độ)
Tăng nồng độ $\text{CH}_3\text{COONa}$	?	?	?
Tăng nồng độ $\text{CH}_3\text{COOH}$	?	?	?

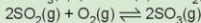
Khi tăng nồng độ một chất trong phản ứng thì cân bằng hoá học bị phá vỡ và chuyển dịch theo chiều làm giảm nồng độ của chất đó và ngược lại.



8. Cho các cân bằng sau:



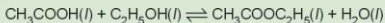
$$\Delta_r H_{298}^\circ = 176 \text{ kJ}$$



$$\Delta_r H_{298}^\circ = -198 \text{ kJ}$$

Nếu tăng nhiệt độ, các cân bằng trên chuyển dịch theo chiều nào? Giải thích.

9. Ester là hợp chất hữu cơ dễ bay hơi, một số ester được sử dụng làm chất tạo mùi thơm cho các loại bánh, thực phẩm. Phản ứng điều chế ester là một phản ứng thuận nghịch:

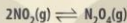


Hãy cho biết cân bằng trên chuyển dịch theo chiều nào nếu

- Tăng nồng độ của  $\text{C}_2\text{H}_5\text{OH}$ .
- Giảm nồng độ của  $\text{CH}_3\text{COOC}_2\text{H}_5$ .

### EM CÓ BIẾT

**Ảnh hưởng của áp suất tới chuyển dịch cân bằng:**



(màu nâu đỏ) (không màu)

Thí nghiệm nghiên cứu ảnh hưởng của áp suất đến sự chuyển dịch cân bằng trên được thực hiện như sau:

Lấy một ống xi-lanh đựng khí  $\text{NO}_2$ . Đẩy pit-tông xuống để làm giảm thể tích và làm tăng áp suất trong ống. Lúc này, màu của khí trong xi-lanh đậm hơn. Sau một thời gian, khí trong ống lại nhạt màu hơn (Hình 1.5). Như vậy, khi tăng áp suất, cân bằng trên chuyển dịch theo chiều làm giảm số mol khí trong xi-lanh.



**Hình 1.5.** Ảnh hưởng của áp suất đến sự chuyển dịch cân bằng  $2\text{NO}_2(\text{g}) \rightleftharpoons \text{N}_2\text{O}_4(\text{g})$

Khi tăng áp suất chung của hệ, thì cân bằng chuyển dịch theo chiều làm giảm áp suất, tức là chiều làm giảm số mol khí và ngược lại.

Đối với phản ứng thuận nghịch có tổng hệ số tỉ lượng của các chất khí ở hai vế của phương trình hoá học bằng nhau thì trạng thái cân bằng của hệ không bị chuyển dịch khi thay đổi áp suất chung của hệ.



10. Cho các cân bằng sau:

- a)  $2\text{SO}_2(\text{g}) + \text{O}_2(\text{g}) \rightleftharpoons 2\text{SO}_3(\text{g})$   
 b)  $\text{CO}(\text{g}) + \text{H}_2\text{O}(\text{g}) \rightleftharpoons \text{H}_2(\text{g}) + \text{CO}_2(\text{g})$   
 c)  $\text{PCl}_5(\text{g}) \rightleftharpoons \text{Cl}_2(\text{g}) + \text{PCl}_3(\text{g})$   
 d)  $\text{H}_2(\text{g}) + \text{I}_2(\text{g}) \rightleftharpoons 2\text{HI}(\text{g})$

Nếu tăng áp suất và giữ nguyên nhiệt độ, các cân bằng trên chuyển dịch theo chiều nào? Giải thích.



**EM CÓ BIẾT**

**Chất xúc tác**

Đối với các phản ứng thuận nghịch xảy ra với tốc độ chậm thì chất xúc tác giúp hệ phản ứng nhanh đạt tới trạng thái cân bằng. Chất xúc tác làm tăng tốc độ phản ứng thuận và phản ứng nghịch với số lần bằng nhau nên không làm chuyển dịch cân bằng.

**3. Nguyên lí chuyển dịch cân bằng Le Chatelier**

Qua việc nghiên cứu các yếu tố ảnh hưởng đến cân bằng, nhà hoá học người Pháp Le Chatelier (Lơ Sa-to-li-ê) đã đưa ra một nguyên lí mang tên ông như sau:

Một phản ứng thuận nghịch đang ở trạng thái cân bằng, khi chịu một tác động bên ngoài làm thay đổi nồng độ, nhiệt độ, áp suất thì cân bằng sẽ chuyển dịch theo chiều làm giảm tác động bên ngoài đó.

Nguyên lí chuyển dịch cân bằng Le Chatelier có ý nghĩa rất lớn khi được vận dụng vào kĩ thuật công nghiệp hoá học. Người ta có thể thay đổi các điều kiện để chuyển dịch cân bằng theo chiều mong muốn, làm tăng hiệu suất của phản ứng.

Ví dụ: Trong công nghiệp, ammonia được tổng hợp theo phản ứng



*Yếu tố áp suất:*

Theo phương trình hoá học của phản ứng trên, khi phản ứng xảy ra làm giảm số mol khí của hệ. Do đó, theo nguyên lí Le Chatelier, khi tăng áp suất thì cân bằng trên chuyển dịch theo chiều thuận, tức là theo chiều tạo ra nhiều ammonia hơn. Thực tế, phản ứng tổng hợp ammonia thường được thực hiện ở áp suất khoảng 200 bar.

*Yếu tố nhiệt độ:*

Phản ứng trên là phản ứng toả nhiệt. Do đó, để cân bằng chuyển dịch về phía tạo thành ammonia, cần thực hiện phản ứng ở nhiệt độ thấp. Tuy nhiên, ở nhiệt độ thấp, tốc độ của phản ứng này rất chậm. Vì vậy thực tế, ammonia được tổng hợp ở nhiệt độ khoảng 450 °C.

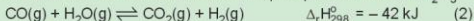
Ngoài ra, để tăng tốc độ phản ứng, người ta sử dụng chất xúc tác là bột Fe.

**11.** Trong công nghiệp, khí hydrogen được điều chế như sau:

Cho hơi nước đi qua than nung nóng, thu được hỗn hợp khí CO và H<sub>2</sub> (gọi là khí than ướt):

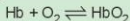


Trộn khí than ướt với hơi nước, cho hỗn hợp đi qua chất xúc tác Fe<sub>2</sub>O<sub>3</sub>:



- a) Vận dụng nguyên lí Le Chatelier, hãy cho biết cân tác động yếu tố nhiệt độ như thế nào để các cân bằng (1), (2) chuyển dịch theo chiều thuận.
- b) Trong thực tế, ở phản ứng (2), lượng hơi nước được lấy dư nhiều (4 – 5 lần) so với khí carbon monoxide. Giải thích.
- c) Nếu tăng áp suất, cân bằng (1), (2) chuyển dịch theo chiều nào? Giải thích.

12. Trong cơ thể người, hemoglobin (Hb) kết hợp oxygen theo phản ứng thuận nghịch được biểu diễn đơn giản như sau:



Ở phổi, nồng độ oxygen lớn nên cân bằng trên chuyển dịch sang phải, hemoglobin kết hợp với oxygen. Khi đến các mô, nồng độ oxygen thấp, cân bằng trên chuyển dịch sang trái, giải phóng oxygen. Nếu thiếu oxygen ở não, con người có thể bị đau đầu, chóng mặt.

- a) Vận dụng nguyên lí chuyển dịch cân bằng Le Chatelier, em hãy đề xuất biện pháp để oxygen lên não được nhiều hơn?
- b) Khi lên núi cao, một số người cũng gặp hiện tượng bị đau đầu, chóng mặt. Dựa vào cân bằng trên, em hãy giải thích hiện tượng này.

#### EM ĐÃ HỌC

- Phản ứng thuận nghịch là phản ứng xảy ra theo hai chiều trái ngược nhau trong cùng điều kiện.
- Cân bằng hoá học là trạng thái của phản ứng thuận nghịch, tại đó tốc độ phản ứng thuận bằng tốc độ phản ứng nghịch.
- Biểu thức hằng số cân bằng  $K_C$  của phản ứng thuận nghịch  $aA + bB \rightleftharpoons cC + dD$  là:

$$K_C = \frac{[C]^c [D]^d}{[A]^a [B]^b}$$

$K_C$  chỉ phụ thuộc nhiệt độ và bản chất của phản ứng, không phụ thuộc nồng độ ban đầu của các chất.

Không biểu diễn nồng độ chất rắn trong biểu thức hằng số cân bằng.

- Nguyên lí chuyển dịch cân bằng Le Chatelier: Một phản ứng thuận nghịch đang ở trạng thái cân bằng, khi chịu một tác động bên ngoài như biến đổi nồng độ, nhiệt độ, áp suất thì cân bằng sẽ chuyển dịch theo chiều làm giảm tác động bên ngoài đó.

#### EM CÓ THỂ

- Vận dụng được nguyên lí chuyển dịch cân bằng Le Chatelier để giải thích các cân bằng hoá học diễn ra trong tự nhiên và trong cơ thể người. Áp dụng trong việc chăm sóc sức khỏe và giải thích các hiện tượng trong tự nhiên,...
- Xác định được các yếu tố cân tác động để cân bằng hoá học chuyển dịch theo chiều mong muốn, làm tăng hiệu suất phản ứng.

BÀI  
2

## CÂN BẰNG TRONG DUNG DỊCH NƯỚC

### MỤC TIÊU:

- Nêu được khái niệm sự điện li, chất điện li, chất không điện li.
- Trình bày được thuyết Brønsted – Lowry về acid – base.
- Nêu được khái niệm và ý nghĩa của pH trong thực tiễn.
- Viết được biểu thức tính pH và biết cách sử dụng các chất chỉ thị để xác định pH bằng các chỉ thị phổ biến như giấy chỉ thị màu, quỳ tím, phenolphthalein,...
- Nêu được nguyên tắc xác định nồng độ acid, base mạnh bằng phương pháp chuẩn độ.
- Thực hiện được thí nghiệm chuẩn độ acid – base: Chuẩn độ dung dịch base mạnh (sodium hydroxide) bằng acid mạnh (hydrochloric acid).
- Trình bày được ý nghĩa thực tiễn cân bằng trong dung dịch nước của ion  $Al^{3+}$ ,  $Fe^{3+}$  và  $CO_3^{2-}$ .



Hình 2.1 cho thấy giá trị pH của dung dịch một số chất thông dụng. Vậy pH là gì? pH có ảnh hưởng gì đến đời sống? Xác định pH như thế nào?



Hình 2.1. Giá trị pH của một số dung dịch

## 1 SỰ ĐIỆN LI

### 1. Hiện tượng điện li



#### Tìm hiểu về sự điện li

Thí nghiệm thử tính dẫn điện của nước, muối ăn và dung dịch muối ăn được thực hiện như mô tả trong Hình 2.2.



Hình 2.2. Thử tính dẫn điện của dung dịch muối ăn



Thực hiện yêu cầu:

- Hãy nhắc lại khái niệm dòng điện.
- Đèn sáng cho thấy dung dịch NaCl dẫn điện, chứng tỏ trong dung dịch có hạt mang điện. Đó có thể là loại hạt nào (electron, phân tử NaCl, cation hay anion)?
- Hãy giải thích sự tạo thành hạt mang điện đó.

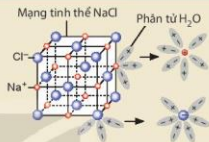
Quá trình phân li các chất trong nước tạo thành ion được gọi là sự điện li. Những chất khi tan trong nước phân li ra các ion được gọi là **chất điện li**.

### EM CÓ BIẾT

#### Sự phân li của NaCl trong nước

NaCl là hợp chất ion, trong tinh thể có các ion  $\text{Na}^+$  và  $\text{Cl}^-$  liên kết với nhau bằng lực hút tĩnh điện. Nước là một dung môi phân cực. Khi cho tinh thể NaCl vào nước, các ion  $\text{Na}^+$  và  $\text{Cl}^-$  trên bề mặt hút các phân tử nước lại gần. Các phân tử nước hướng các đầu âm vào ion  $\text{Na}^+$ , các đầu dương vào ion  $\text{Cl}^-$  và làm yếu liên kết giữa các cation, anion trong tinh thể và khuếch tán vào nước (Hình 2.3).

Quá trình trên được biểu diễn một cách đơn giản bằng phương trình điện li:  $\text{NaCl(aq)} \rightarrow \text{Na}^+(\text{aq}) + \text{Cl}^-(\text{aq})$ .



Hình 2.3. Mô hình biểu diễn sự phân li của NaCl trong nước

## 2. Chất điện li

### a) Chất điện li và chất không điện li



#### Tìm hiểu về chất điện li và chất không điện li

Kết quả thử tinh dẫn điện với các dung dịch hydrochloric acid (HCl), sodium hydroxide (NaOH), saccharose ( $\text{C}_{12}\text{H}_{22}\text{O}_{11}$ ), ethanol ( $\text{C}_2\text{H}_5\text{OH}$ ) được trình bày trong bảng dưới đây. **Hãy hoàn thành các thông tin còn thiếu trong bảng vào vở:**

	Dung dịch HCl	Dung dịch NaOH	Nước đường	Dung dịch ethanol
Hiện tượng	Đèn sáng	Đèn sáng	Đèn không sáng	Đèn không sáng
Dung dịch dẫn điện/không dẫn điện	?	?	?	?
Có/không có các ion trái dấu trong dung dịch	?	?	?	?
Chất điện li/chất không điện li	?	?	?	?

Thí nghiệm trên cho thấy: các chất như hydrochloric acid, sodium hydroxide,... tan trong nước phân li ra các ion nên chúng là **chất điện li**. Saccharose, ethanol,... không phân li ra các ion nên chúng là **chất không điện li**.

Sự phân li một chất thành các ion mang điện trái dấu trong dung dịch được biểu diễn bằng phương trình điện li.

Ví dụ:  $\text{NaOH(aq)} \longrightarrow \text{Na}^+(\text{aq}) + \text{OH}^-(\text{aq})$ ;  $\text{HCl(aq)} \longrightarrow \text{H}^+(\text{aq}) + \text{Cl}^-(\text{aq})$ .

b) **Chất điện li mạnh và chất điện li yếu**



**So sánh khả năng phân li trong nước của HCl và  $\text{CH}_3\text{COOH}$**

Kết quả thử tính dẫn điện với dung dịch HCl 0,1 M và dung dịch  $\text{CH}_3\text{COOH}$  0,1 M cho thấy trường hợp cốc đựng dung dịch HCl 0,1 M bóng đèn sáng hơn.

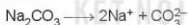
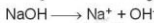
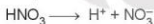
*Thực hiện yêu cầu sau:*

Hãy so sánh số ion mang điện trong hai dung dịch trên, từ đó cho biết acid nào phân li mạnh hơn.

Dựa vào mức độ phân li thành các ion, chất điện li được chia thành hai loại:

- **Chất điện li mạnh** là chất khi tan trong nước, hầu hết các phân tử chất tan đều phân li ra ion. Các chất điện li mạnh thường gặp là:
  - Các acid mạnh: HCl,  $\text{HNO}_3$ ,  $\text{H}_2\text{SO}_4$ ,...
  - Các base mạnh: NaOH, KOH,  $\text{Ca(OH)}_2$ ,  $\text{Ba(OH)}_2$ ,...
  - Hầu hết các muối.

Quá trình phân li của chất điện li mạnh xảy ra gần như hoàn toàn và được biểu diễn bằng mũi tên một chiều.

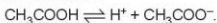


- **Chất điện li yếu** là chất khi tan trong nước chỉ có một phần số phân tử chất tan phân li ra ion, phần còn lại vẫn tồn tại ở dạng phân tử trong dung dịch.

Ví dụ: trong dung dịch  $\text{CH}_3\text{COOH}$  0,1 M, cứ 1 000 phân tử hoá tan thì chỉ có 3 phân tử phân li thành ion, còn lại tồn tại ở dạng phân tử.

Những chất điện li yếu gồm các acid yếu như  $\text{CH}_3\text{COOH}$ , HClO, HF,  $\text{H}_2\text{CO}_3$ ,... và base yếu như  $\text{Cu(OH)}_2$ ,  $\text{Fe(OH)}_2$ ,...

Quá trình phân li của chất điện li yếu là một phản ứng thuận nghịch và được biểu diễn bằng hai nửa mũi tên ngược chiều nhau



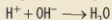
1. Viết phương trình điện li của các chất sau: HF, HI,  $\text{Ba(OH)}_2$ ,  $\text{KNO}_3$ ,  $\text{Na}_2\text{SO}_4$ .

## EM CÓ BIẾT

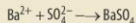
### Phương trình ion rút gọn

Trong dung dịch, chất điện li phân li thành các ion và chính các ion này trực tiếp tham gia vào phản ứng hoá học. Do vậy, phương trình dạng ion rút gọn được sử dụng để biểu diễn các phản ứng xảy ra giữa các chất điện li.

Ví dụ 1: Khi cho dung dịch HCl (chứa ion  $H^+$  và  $Cl^-$ ) tác dụng với dung dịch NaOH (chứa ion  $Na^+$  và  $OH^-$ ), thực tế chỉ xảy ra phản ứng giữa ion  $H^+$  và  $OH^-$  theo phương trình ion rút gọn:



Ví dụ 2: Khi cho dung dịch  $BaCl_2$  tác dụng với dung dịch  $Na_2SO_4$ , thực tế chỉ xảy ra phản ứng giữa ion  $Ba^{2+}$  và  $SO_4^{2-}$  theo phương trình ion rút gọn:



Phương trình ion rút gọn cho biết bản chất của phản ứng trong dung dịch các chất điện li.

## II THUYẾT ACID-BASE CỦA BRONSTED – LOWRY

### 1. Khái niệm acid và base theo thuyết Brønsted – Lowry

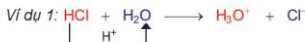


Cho các dung dịch: HCl, NaOH,  $Na_2CO_3$ .

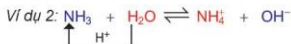
- Viết phương trình điện li của các chất trên.
- Sử dụng máy đo pH (hoặc giấy pH) xác định pH, môi trường (acid/base) của các dung dịch trên.
- Theo khái niệm acid-base trong môn *Khoa học tự nhiên* ở lớp 8, trong những chất cho ở trên: Chất nào là acid? Chất nào là base?

Khái niệm acid-base đề cập ở lớp 8 chỉ đúng với dung môi nước và chưa phản ánh đầy đủ bản chất acid/base. Năm 1923, nhà hoá học người Đan Mạch J. Brønsted (Bronstét) và nhà hoá học người Anh T. Lowry (Lao-ri) đã đưa ra một định nghĩa tổng quát hơn về acid, base.

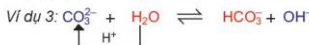
Thuyết Brønsted – Lowry cho rằng acid là chất cho proton ( $H^+$ ) và base là chất nhận proton.



Trong phản ứng trên: HCl cho  $H^+$ , HCl là acid;  $H_2O$  nhận  $H^+$ ,  $H_2O$  là base.

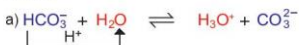


Trong phản ứng thuận,  $NH_3$  nhận  $H^+$  của  $H_2O$ ,  $NH_3$  là base,  $H_2O$  là acid. Trong phản ứng nghịch, ion  $NH_4^+$  là acid, ion  $OH^-$  là base.

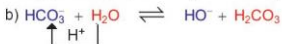


Trong phản ứng thuận,  $CO_3^{2-}$  nhận  $H^+$  của  $H_2O$ ,  $CO_3^{2-}$  là base,  $H_2O$  là acid. Trong phản ứng nghịch, ion  $HCO_3^-$  là acid, ion  $OH^-$  là base.

Ví dụ 4:



Trong phản ứng thuận,  $\text{HCO}_3^-$  nhường  $\text{H}^+$ ,  $\text{HCO}_3^-$  là acid,  $\text{H}_2\text{O}$  là base.  
 Trong phản ứng nghịch  $\text{CO}_3^{2-}$  là base,  $\text{H}_3\text{O}^+$  là acid.

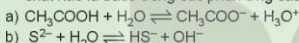


Trong phản ứng thuận,  $\text{HCO}_3^-$  nhận  $\text{H}^+$  từ nước,  $\text{HCO}_3^-$  là base,  $\text{H}_2\text{O}$  là acid. Trong phản ứng nghịch  $\text{H}_2\text{CO}_3$  là acid,  $\text{OH}^-$  là base.

Ion  $\text{HCO}_3^-$  vừa có thể nhận  $\text{H}^+$ , vừa có thể cho  $\text{H}^+$ , vậy  $\text{HCO}_3^-$  có tính chất lưỡng tính. Phân tử  $\text{H}_2\text{O}$  cũng vừa có thể nhận  $\text{H}^+$ , vừa có thể cho  $\text{H}^+$  nên  $\text{H}_2\text{O}$  cũng là chất lưỡng tính.



2. Dựa vào thuyết acid – base của Brønsted – Lowry, hãy xác định chất nào là acid, chất nào là base trong các phản ứng sau:

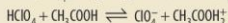


## 2. Ưu điểm của thuyết Brønsted – Lowry

Theo thuyết Arrhenius, trong phân tử acid phải có nguyên tử H, trong nước phân li ra ion  $\text{H}^+$ , trong phân tử base phải có nhóm OH, trong nước phân li ra ion  $\text{OH}^-$ . Thuyết Arrhenius chỉ đúng cho trường hợp dung môi là nước. Thuyết acid – base của Brønsted – Lowry tổng quát hơn thuyết Arrhenius, phân tử không có nhóm OH như  $\text{NH}_3$  hoặc ion như  $\text{CO}_3^{2-}$  cũng là base.

### EM CÓ BIẾT

Thuyết acid-base của Brønsted – Lowry còn có thể mở rộng đối với những phản ứng acid – base trong dung môi không phải nước. Ví dụ, perchloric acid ( $\text{HClO}_4$ ) trong dung môi acetic acid ( $\text{CH}_3\text{COOH}$ ), xảy ra phản ứng:



Trong phản ứng trên,  $\text{HClO}_4$  là acid vì là chất cho  $\text{H}^+$ , còn  $\text{CH}_3\text{COOH}$  là base vì là chất nhận  $\text{H}^+$ .



## III KHÁI NIỆM pH VÀ Ý NGHĨA CỦA pH TRONG THỰC TIỄN

### EM CÓ BIẾT

Tích số ion của nước ( $K_w$ )<sup>(1)</sup>

Trong dung dịch nước, tích số  $K_w = [\text{H}^+][\text{OH}^-]$  là một hằng số, chỉ phụ thuộc vào nhiệt độ và được gọi là tích số ion của nước. Ở 25 °C,  $K_w = 10^{-14}$ , tuy nhiên giá trị này có thể được dùng khi nhiệt độ không khác nhiều với 25 °C.

Đối với nước tinh khiết:  $[\text{H}^+] = [\text{OH}^-] = \sqrt{10^{-14}} = 10^{-7}$  (mol/L).

(1) Trong kí hiệu  $K_w$ , w là viết tắt của từ tiếng Anh: water (nước).

### 1. Khái niệm pH

Nồng độ ion  $H^+$  hoặc ion  $OH^-$  được dùng để đánh giá tính acid hoặc tính base của các dung dịch. Tuy nhiên, nếu các dung dịch có nồng độ  $H^+$ , nồng độ  $OH^-$  thấp, chúng là những số có số mũ âm hoặc có nhiều chữ số thập phân. Vì vậy, để tiện sử dụng, người ta dùng đại lượng pH với quy ước như sau:

$$pH = -\lg[H^+] \text{ hoặc } [H^+] = 10^{-pH}$$

Trong đó  $[H^+]$  là nồng độ mol của ion  $H^+$ .

Nếu dung dịch có  $[H^+] = 10^{-a}$  mol/L thì  $pH = a$ .

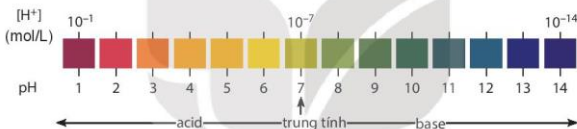
Ví dụ:  $[H^+] = 10^{-2}$  mol/L thì  $pH = 2$ .

Môi trường acid là môi trường có  $[H^+] > [OH^-]$  nên  $[H^+] > 10^{-7}$  mol/L hay  $pH < 7$ .

Môi trường base là môi trường có  $[H^+] < [OH^-]$  nên  $[H^+] < 10^{-7}$  mol/L hay  $pH > 7$ .

Môi trường trung tính là môi trường có  $[H^+] = [OH^-] = 10^{-7}$  mol/L hay  $pH = 7$ .

Thang pH thường dùng có giá trị từ 1 đến 14.



3. Một loại dầu gội đầu có nồng độ ion  $OH^-$  là  $10^{-5,17}$  mol/L.

- Tính nồng độ ion  $H^+$ , pH của loại dầu gội nói trên.
- Môi trường của loại dầu gội đầu trên là acid, base hay trung tính?

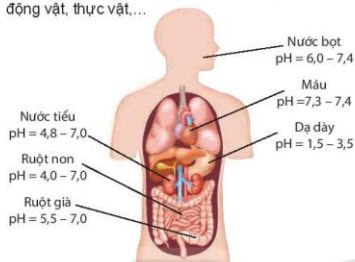
4. Một học sinh làm thí nghiệm xác định độ pH của đất như sau: Lấy một lượng đất cho vào nước rồi lọc lấy phần dung dịch. Dùng máy pH đo được giá trị pH là 4,52.

- Hãy cho biết môi trường của dung dịch là acid, base hay trung tính.
  - Loại đất trên được gọi là đất chua. Hãy đề xuất biện pháp để giảm độ chua, tăng độ pH của đất.
5. pH của dung dịch nào sau đây có giá trị nhỏ nhất?

- |                          |                                |
|--------------------------|--------------------------------|
| A. Dung dịch HCl 0,1 M.  | B. Dung dịch $CH_3COOH$ 0,1 M. |
| C. Dung dịch NaCl 0,1 M. | D. Dung dịch NaOH 0,01 M.      |

## 2. Ý nghĩa của pH trong thực tiễn

Chỉ số pH có ý nghĩa to lớn trong thực tiễn, pH có liên quan đến sức khỏe của con người, sự phát triển của động vật, thực vật,...



### ❗ EM CÓ BIẾT

Chỉ số pH trong nước tiểu thường trong khoảng 4,8 – 7,0. Nếu pH nước tiểu cao trên 8,0, bệnh nhân có thể đang mắc một số bệnh như sỏi thận, nhiễm trùng đường tiết niệu,...

Nếu pH nước tiểu thấp dưới 5,0, nước tiểu có tính acid hơn bình thường, bệnh nhân có thể đang mắc bệnh tiểu đường, tiểu chảy, mất nước,...

Hình 2.4. Chỉ số pH của các dịch trong cơ thể <sup>(1)</sup>

Trong cơ thể của người, máu và các dịch của dạ dày, mật, ... đều có giá trị pH trong một khoảng nhất định. Chỉ số pH trong cơ thể có liên quan đến tình trạng sức khỏe. Nếu chỉ số pH tăng hoặc giảm đột ngột, không nằm trong giới hạn cho phép thì có thể là dấu hiệu ban đầu của bệnh lí, người bệnh cần được khám để tìm ra nguyên nhân.

Một số động vật sống dưới nước cần môi trường có giá trị pH thích hợp, ví dụ: tôm và cá ưa sống trong môi trường nước có pH khoảng 7,5 – 8,5.

Một số loại thực vật chỉ phát triển tốt trong đất có giá trị pH thích hợp, ví dụ:

	Cây chè	Cây lúa	Cây cà chua
pH	4,5 – 5,5	5,5 – 6,5	6,0 – 7,0

Trong đời sống hàng ngày, các sản phẩm như dầu gội, xà phòng, kem dưỡng da, ... cũng đều cần có giá trị pH trong một khoảng nhất định để an toàn cho người sử dụng.



6. Đo pH của một cốc nước chanh được giá trị pH bằng 2,4. Nhận định nào sau đây **không** đúng?

- A. Nước chanh có môi trường acid.
- B. Nồng độ ion  $[H^+]$  của nước chanh là  $10^{-2.4}$  mol/L.
- C. Nồng độ ion  $[H^+]$  của nước chanh là 0,24 mol/L.
- D. Nồng độ của ion  $[OH^-]$  của nước chanh nhỏ hơn  $10^{-7}$  mol/L.

7. Nước Javel (chứa  $NaClO$  và  $NaCl$ ) được dùng làm chất tẩy rửa, khử trùng. Trong dung dịch, ion  $ClO^-$  nhận proton của nước để tạo thành  $HClO$ .

- a) Viết phương trình hoá học của phản ứng xảy ra và xác định chất nào là acid, chất nào là base trong phản ứng trên.
- b) Dựa vào phản ứng, hãy cho biết môi trường của nước Javel là acid hay base.

<sup>(1)</sup> Nguồn: Expert Opinion on Drug Metabolism & Toxicology.

## 4. Xác định pH

Giá trị pH của dung dịch được xác định gần đúng bằng cách sử dụng chất chỉ thị acid – base. Khi cần xác định giá trị pH chính xác hơn, người ta sử dụng máy đo pH.

Chất chỉ thị acid – base là chất có màu sắc biến đổi phụ thuộc vào giá trị pH của dung dịch. Một số chất chỉ thị như giấy pH, giấy quỳ, phenolphthalein có màu sắc thay đổi trong các khoảng pH khác nhau (Bảng 2.1).

**Bảng 2.1.** Màu của giấy pH, giấy quỳ và phenolphthalein trong dung dịch ở các khoảng pH khác nhau

Giấy quỳ	Đỏ pH ≤ 6	Tím pH = 7	Xanh pH ≥ 8
Phenolphthalein	pH < 8 Không màu		pH > 8 Màu hồng
Giấy pH			



### Làm chất chỉ thị màu từ hoa đậu biếc/bắp cải tím

*Chuẩn bị:*

- Hoa đậu biếc (khoảng 50 g) hoặc bắp cải tím thái nhỏ (khoảng 100 g).
- Cốc thủy tinh 250 mL, nước sôi, thìa thủy tinh, lưới/vải lọc.
- Các cốc (đã được dán nhãn) đựng giấm ăn, nước C sủi, nước rửa bát, nước soda, nước muối.
- Giấy pH hoặc máy đo pH.

*Tiến hành:*

- Ngâm khoảng 50 g hoa đậu biếc/100 g bắp cải tím đã được chuẩn bị vào 100 mL nước sôi trong khoảng 10 phút. Lọc bằng lưới lọc hoặc vải lọc, thu được dung dịch. Dung dịch này được sử dụng làm chất chỉ thị.
- Dùng máy đo pH (hoặc giấy pH) xác định pH của các dung dịch.
- Cho vài giọt chất chỉ thị lần lượt vào các dung dịch: giấm ăn, nước C sủi, nước rửa bát, nước soda, nước muối và khuấy đều. Quan sát sự đổi màu của các dung dịch.

Hoàn thành thông tin theo mẫu bảng sau vào vở:

	Giấm ăn	Nước C sủi	Nước rửa bát	Nước soda	Nước muối
pH	?	?	?	?	?
Màu của chất chỉ thị	?	?	?	?	?
Môi trường acid/base	?	?	?	?	?

## EM CÓ BIẾT

### Chất chỉ thị màu trong tự nhiên

Hoa đậu biếc, hoa cẩm tú cầu, hoa dâm bụt, bắp cải tím, ... có chứa các hợp chất hữu cơ mang màu và màu sắc của chúng thay đổi theo pH của môi trường nên có thể sử dụng chúng làm chất chỉ thị màu.

Ví dụ: sắc tố tạo màu đặc trưng cho đậu biếc là các hợp chất thuộc nhóm anthocyanin, một trong những chất chống oxy hoá tự nhiên. Ở môi trường pH nhỏ hơn 7 (môi trường acid), anthocyanin chuyển sang màu đỏ tím, ở môi trường pH lớn hơn 7 (môi trường base) chúng chuyển sang màu xanh sẫm.



Hoa đậu biếc



Bắp cải tím



Hoa dâm bụt



Hoa cẩm tú cầu

**Hình 2.5.** Một số loài thực vật có thể sử dụng làm chất chỉ thị màu

## IV SỰ THUYẾT PHÂN CỦA CÁC ION

### 1. Môi trường của một số dung dịch muối



Cho các dung dịch sau:  $\text{Na}_2\text{CO}_3$ ,  $\text{AlCl}_3$ ,  $\text{FeCl}_3$ .

- Dùng giấy pH xác định giá trị pH gần đúng của các dung dịch trên.
- Nhận xét và giải thích về môi trường của các dung dịch trên.

Khí tan trong nước, muối phân li thành các ion. Phản ứng giữa ion với nước tạo ra các dung dịch có môi trường khác nhau được gọi là phản ứng thủy phân.

Ví dụ 1: Trong dung dịch  $\text{Na}_2\text{CO}_3$ , ion  $\text{Na}^+$  không bị thủy phân, còn  $\text{CO}_3^{2-}$  thủy phân trong nước tạo ion  $\text{OH}^-$  theo phương trình:



Vì vậy, dung dịch  $\text{Na}_2\text{CO}_3$  có môi trường base.  $\text{Na}_2\text{CO}_3$  được sử dụng trong công nghiệp thực phẩm, dệt, nhuộm, công nghiệp thủy tinh, silicate, ...

Ví dụ 2: Trong dung dịch  $\text{AlCl}_3$  và  $\text{FeCl}_3$ , ion  $\text{Cl}^-$  không bị thủy phân, các ion  $\text{Al}^{3+}$  và  $\text{Fe}^{3+}$  bị thủy phân trong nước tạo ion  $\text{H}^+$  theo phương trình ở dạng đơn giản như sau:



Do đó, dung dịch  $\text{AlCl}_3$ ,  $\text{FeCl}_3$  có môi trường acid. Trong thực tế, các loại đất có chứa nhiều ion  $\text{Al}^{3+}$ ,  $\text{Fe}^{3+}$  có giá trị pH thấp hay còn gọi là đất chua. Để khử chua, người ta bón vôi cho đất.

Các muối nhôm và sắt, ví dụ: *phèn nhôm* ( $(\text{NH}_4)_2\text{SO}_4 \cdot \text{Al}_2(\text{SO}_4)_3 \cdot 24\text{H}_2\text{O}$ ) và *phèn sắt* ( $(\text{NH}_4)_2\text{SO}_4 \cdot \text{Fe}_2(\text{SO}_4)_3 \cdot 24\text{H}_2\text{O}$ ) được sử dụng làm chất keo tụ trong quá trình xử lý nước, dùng làm chất cầm màu trong công nghiệp dệt, nhuộm, hoặc làm chất kết dính, chống nhoe trong công nghiệp giấy, ...

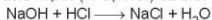


## V CHUẨN ĐỘ ACID-BASE

### 1. Nguyên tắc

**Chuẩn độ** là phương pháp xác định nồng độ của một chất bằng một dung dịch chuẩn đã biết nồng độ. Dựa vào thể tích của các dung dịch khi phản ứng vừa đủ với nhau, xác định được nồng độ dung dịch chất cần chuẩn độ.

Trong phòng thí nghiệm, nồng độ của dung dịch base mạnh (ví dụ NaOH) được xác định bằng một dung dịch acid mạnh (ví dụ HCl) đã biết trước nồng độ mol dựa trên phản ứng:



Khi các chất phản ứng vừa đủ với nhau, số mol HCl phản ứng bằng số mol NaOH.

Ta có:

$$V_{\text{HCl}} \cdot C_{\text{HCl}} = V_{\text{NaOH}} \cdot C_{\text{NaOH}}$$

Trong đó:

$C_{\text{HCl}}$  và  $C_{\text{NaOH}}$  lần lượt là nồng độ mol của dung dịch HCl và dung dịch NaOH;

$V_{\text{HCl}}$  và  $V_{\text{NaOH}}$  lần lượt là thể tích của dung dịch HCl và dung dịch NaOH (cùng đơn vị đo).

Khi biết  $V_{\text{HCl}}$ ,  $V_{\text{NaOH}}$  trong quá trình chuẩn độ và biết  $C_{\text{HCl}}$  sẽ tính được  $C_{\text{NaOH}}$ .

Thời điểm để kết thúc chuẩn độ được xác định bằng sự đổi màu của chất chỉ thị phenolphthalein.

### 2. Thực hành chuẩn độ acid – base

*Chuẩn bị:*

- Dung dịch HCl 0,1 M; dung dịch NaOH nồng độ khoảng 0,1 M; dung dịch phenolphthalein.
- Pipette 10 mL; burette 25 mL; bình tam giác 100 mL; bình tia nước cất; giá đỡ; kẹp burette.

*Tiến hành:*

- Dùng pipette lấy 10 mL dung dịch HCl 0,1 M cho vào bình tam giác, thêm 1 – 2 giọt phenolphthalein.
- Cho dung dịch NaOH vào burette, điều chỉnh dung dịch trong burette về mức 0.
- Mở khóa burette, nhỏ từng giọt dung dịch NaOH xuống bình tam giác (lắc đều trong quá trình chuẩn độ) đến khi dung dịch xuất hiện màu hồng nhạt (bền trong khoảng 10 giây) thì dừng chuẩn độ.
- Ghi lại thể tích dung dịch NaOH đã dùng.

*Tiến hành chuẩn độ ít nhất ba lần, ghi số liệu thực nghiệm và hoàn thành vào vở theo mẫu bảng sau:*

	$V_{\text{HCl}}$ (mL)	$V_{\text{NaOH}}$ (mL)	$V_{\text{b NaOH}}$ (mL)	$C_{\text{NaOH}}$ (mol/L)
Thí nghiệm 1	?	?	?	?
Thí nghiệm 2	?	?		
Thí nghiệm 3	?	?		



Hình 2.6. Chuẩn độ dung dịch NaOH bằng dung dịch HCl



Hình 2.7. Thao tác khi chuẩn độ

Lưu ý:

- Tránh để các hoá chất như dung dịch HCl, dung dịch NaOH bắn vào tay, mắt.
- Các dụng cụ thủy tinh (bình tam giác, burette, pipette,...) để vỡ, cần cẩn thận.



8. Nếu một số điểm cần chú ý trong quá trình chuẩn độ.
9. Nếu một số nguyên nhân có thể dẫn đến sai số trong quá trình chuẩn độ.

### EM DÃ HỌC

- Quá trình phân li các chất trong nước tạo thành các ion được gọi là *sự điện li*. Những chất khi tan trong nước phân li ra các ion được gọi là *chất điện li*. Các chất khi tan trong nước không phân li ra các ion được gọi là *chất không điện li*.
- Chất khi tan trong nước phân li hoàn toàn thành các ion là *chất điện li mạnh*.
- Thuyết Brønsted – Lowry về acid-base: acid là chất cho proton ( $H^+$ ) và base là chất nhận proton.
- Biểu thức tính pH:  $pH = -\lg[H^+]$  hoặc  $[H^+] = 10^{-pH}$ .
- Chất chỉ thị acid – base là chất có màu sắc biến đổi phụ thuộc vào giá trị pH của dung dịch. Các chất chỉ thị thông dụng gồm có: giấy quỳ, phenolphthalein, giấy pH.
- Phản ứng giữa ion với nước được gọi là phản ứng thủy phân.
- Chuẩn độ là phương pháp xác định nồng độ của một chất bằng một dung dịch chuẩn đã biết nồng độ.

### EM CÓ THỂ

- Tự làm chất chỉ thị màu bằng các nguyên liệu dễ kiếm như hoa đậu biếc, bắp cải tím,...
- Vận dụng kiến thức về pH trong cơ thể người để bảo vệ, chăm sóc sức khỏe.
- Xác định pH trong môi trường (đất, nước), từ đó có giải pháp cải tạo môi trường hoặc lựa chọn giống cây trồng, vật nuôi phục vụ cho sản xuất nông nghiệp, nuôi trồng thủy sản.
- Biết lựa chọn, sử dụng dược phẩm, mỹ phẩm, chất tẩy rửa có pH thích hợp để bảo vệ sức khỏe.
- Xác định được nồng độ dung dịch acid – base bằng phương pháp chuẩn độ.

BÀI  
3

ÔN TẬP CHƯƠNG 1

HỆ THỐNG HOÁ KIẾN THỨC

1. Cân bằng hoá học

<p><i>Phản ứng một chiều</i>  <math>aA + bB \rightarrow cC + dD</math></p> <p>Phản ứng chỉ xảy ra một chiều từ chất đầu tạo thành sản phẩm.</p>	<p><i>Phản ứng thuận nghịch</i>  <math>aA + bB \rightleftharpoons cC + dD</math></p> <p>Trong cùng điều kiện, phản ứng xảy ra theo hai chiều trái ngược nhau.</p>
Trạng thái cân bằng	$v_{\text{thuận}} = v_{\text{nghịch}}$ ; nồng độ các chất trong hệ phản ứng không đổi.
Hằng số cân bằng	$K_C = \frac{[C]^c [D]^d}{[A]^a [B]^b}$ <p>Trong đó: [A], [B], [C], [D] là nồng độ mol của các chất ở trạng thái cân bằng.                  Chất rắn không đưa vào biểu thức tính <math>K_C</math>.  <math>K_C</math> chỉ phụ thuộc vào bản chất của phản ứng và nhiệt độ.</p>
Các yếu tố ảnh hưởng đến cân bằng hoá học	Nhiệt độ, nồng độ, áp suất.
Nguyên lý chuyển dịch cân bằng Le Chatelier	Một phản ứng thuận nghịch đang ở trạng thái cân bằng, khi chịu một tác động bên ngoài như biến đổi nhiệt độ, nồng độ, áp suất thì cân bằng sẽ chuyển dịch theo chiều làm giảm tác động bên ngoài đó.

2. Cân bằng trong dung dịch nước

<p><i>Sự điện li</i></p> <p>Quá trình phân li các chất trong nước tạo thành ion.                  Chất điện li mạnh: acid mạnh, base mạnh, hầu hết muối.                  Chất điện li yếu: acid yếu, base yếu.                  Chất không điện li: nước, saccharose, ethanol,...</p>	<p><i>Thuyết acid – base của Bronsted – Lowry</i></p> <p>Acid là chất cho proton.                  Base là chất nhận proton.</p>
<p><math>pH = -\lg[H^+]</math> hoặc <math>[H^+] = 10^{-pH}</math></p> <p> <math>[H^+]</math> (mol/L): <math>10^{-1}</math>      <math>10^{-7}</math>      <math>10^{-14}</math>                  pH: 1   2   3   4   5   6   7   8   9   10   11   12   13   14                  ← acid — trung tính — base →             </p>	
Trong dung dịch nước, một số ion như $Al^{3+}$ , $Fe^{3+}$ và $CO_3^{2-}$ phản ứng với nước tạo ra các dung dịch có môi trường acid/base.	

**II LUYỆN TẬP**

**Câu 1.** Hằng số  $K_C$  của một phản ứng phụ thuộc vào yếu tố nào sau đây?

- A. Nồng độ.                      B. Nhiệt độ.                      C. Áp suất.                      D. Chất xúc tác.

**Câu 2.** Thêm nước vào 10 mL dung dịch HCl 1,0 mol/L để được 1 000 mL dung dịch A. Dung dịch mới thu được có pH thay đổi như thế nào so với dung dịch ban đầu?

- A. pH giảm đi 2 đơn vị.                      B. pH giảm đi 0,5 đơn vị.  
C. pH tăng gấp đôi.                      D. pH tăng 2 đơn vị.

**Câu 3.** Tính pH của các dung dịch sau:

- a) Dung dịch NaOH 0,1 M;  
b) Dung dịch HCl 0,1 M;  
c) Dung dịch  $\text{Ca}(\text{OH})_2$  0,01 M.

**Câu 4.** Viết biểu thức hằng số cân bằng  $K_C$  cho các phản ứng sau:

- a)  $2\text{SO}_2(\text{g}) + \text{O}_2(\text{g}) \rightleftharpoons 2\text{SO}_3(\text{g})$   
b)  $2\text{C}(\text{s}) + \text{O}_2(\text{g}) \rightleftharpoons 2\text{CO}(\text{g})$   
c)  $\text{AgCl}(\text{s}) \rightleftharpoons \text{Ag}^+(\text{aq}) + \text{Cl}^-(\text{aq})$

**Câu 5.** Cho cân bằng hoá học sau:  $\text{H}_2(\text{g}) + \text{I}_2(\text{g}) \rightleftharpoons 2\text{HI}(\text{g})$        $\Delta_f H_{298}^\circ = -9,6 \text{ kJ}$

Nhận xét nào sau đây không đúng?

- A. Khi tăng nhiệt độ, cân bằng trên chuyển dịch theo chiều nghịch.  
B. Ở nhiệt độ không đổi, khi tăng áp suất thì cân bằng không bị chuyển dịch.  
C. Ở nhiệt độ không đổi, khi tăng nồng độ  $\text{H}_2$  hoặc  $\text{I}_2$  thì giá trị hằng số cân bằng tăng.  
D. Ở trạng thái cân bằng, tốc độ phản ứng thuận bằng tốc độ phản ứng nghịch.

**Câu 6.** Xét phản ứng xảy ra trong lò luyện gang:



Nêu các yếu tố (nồng độ, nhiệt độ, áp suất) cần tác động vào cân bằng trên để cân bằng chuyển dịch về bên phải (làm tăng hiệu suất của phản ứng).

**Câu 7.** Cho cân bằng hoá học sau:



Ở 700 °C, hằng số cân bằng  $K_C = 8,3$ . Cho 1 mol khí CO và 1 mol hơi nước vào bình kín dung tích 10 lít và giữ ở 700 °C. Tính nồng độ các chất ở trạng thái cân bằng.

CHƯƠNG

2

NITROGEN – SULFUR

BÀI

4

NITROGEN

MỤC TIÊU:

- Phát biểu được trạng thái tự nhiên của nguyên tố nitrogen.
- Giải thích được tính trơ của đơn chất nitrogen ở nhiệt độ thường thông qua liên kết và giá trị năng lượng liên kết.
- Trình bày được sự hoạt động của đơn chất nitrogen ở nhiệt độ cao đối với hydrogen, oxygen. Liên hệ quá trình tạo và cung cấp nitrate cho đất từ nước mưa.
- Giải thích được các ứng dụng của đơn chất nitrogen khí và lỏng trong sản xuất, trong hoạt động nghiên cứu.



Trong công nghiệp, đơn chất nitrogen kết hợp với hydrogen tạo thành ammonia là một hợp chất quan trọng trong sản xuất phân bón, hoá chất.

Tại sao phản ứng trên cần thực hiện ở nhiệt độ cao? Đơn chất nitrogen đóng vai trò gì trong phản ứng đó?



TRẠNG THÁI TỰ NHIÊN



Nêu ứng dụng thực tiễn của khí nitrogen và diêm tiêu Chile mà em biết.

Trong khí quyển Trái Đất, nitrogen là nguyên tố phổ biến nhất, chiếm 75,5% khối lượng (hoặc 78,1% thể tích) và tập trung chủ yếu ở tầng đối lưu.

Trong vỏ Trái Đất, nguyên tố nitrogen tồn tại tập trung ở một số mỏ khoáng dưới dạng sodium nitrate (thường gọi là diêm tiêu Chile).

Nguyên tố nitrogen có trong tất cả cơ thể động vật và thực vật, là thành phần cấu tạo nên nucleic acid, protein,... Trong cơ thể người, nitrogen chiếm khoảng 3% khối lượng, đứng thứ tư sau oxygen, carbon và hydrogen.

Nguyên tố nitrogen tồn tại trong tự nhiên với hai đồng vị bền là  $^{14}\text{N}$  (99,63%) và  $^{15}\text{N}$  (0,37%).



EM CÓ BIẾT

Bệnh giảm áp của thợ lặn

Khí lặn sâu dưới nước, áp suất không khí trong buồng phổi tăng làm lượng nitrogen hoà tan trong máu tăng. Trong quá trình di chuyển lên mặt nước, áp suất giảm dần. Nếu người thợ lặn di chuyển lên mặt nước quá nhanh, nitrogen không kịp chuyển đến và thoát ra ở phổi, sẽ tạo thành các bọt khí trong mạch máu. Các bọt khí này làm tắc mạch máu hoặc chèn ép vào dây thần kinh, gây đau khớp, tê liệt hoặc tử vong.



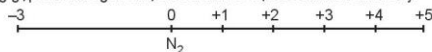
Hình 4.1. Thợ lặn biển

## II CẤU TẠO NGUYÊN TỬ, PHÂN TỬ

### 1. Cấu tạo nguyên tử

Nguyên tố nitrogen ở ô số 7, nhóm VA, chu kì 2 trong bảng tuần hoàn. Nguyên tử nitrogen có độ âm điện lớn (3,04). Nitrogen là phi kim điển hình.

Nitrogen tạo ra nhiều hợp chất với các số oxi hoá khác nhau từ -3 đến +5. Các số oxi hoá thường gặp của nitrogen được biểu diễn ở trục số oxi hoá dưới đây.



- Sắp xếp các hợp chất sau vào vị trí tương ứng trong trục biểu diễn số oxi hoá của nitrogen: NO, N<sub>2</sub>O, NO<sub>2</sub>, NH<sub>3</sub>, HNO<sub>2</sub>, HNO<sub>3</sub>, NH<sub>4</sub>Cl, KNO<sub>2</sub>, NaNO<sub>3</sub>.
- Dựa vào trục biểu diễn số oxi hoá của nitrogen để giải thích nitrogen có cả tính oxi hoá và tính khử. Viết một quá trình oxi hoá và một quá trình khử để minh họa.

### 2. Cấu tạo phân tử

Phân tử nitrogen gồm hai nguyên tử, liên kết với nhau bằng liên kết ba (1 liên kết  $\sigma$  và 2 liên kết  $\pi$ ). Phân tử nitrogen có năng lượng liên kết lớn (945 kJ/mol) và không có cực.



- Viết công thức electron, công thức Lewis và công thức cấu tạo của phân tử nitrogen.
- Từ cấu tạo phân tử, hãy cho biết tại sao phân tử N<sub>2</sub> có năng lượng liên kết lớn. Dự đoán về khả năng hoạt động hoá học của nitrogen ở nhiệt độ thường.

## III TÍNH CHẤT VẬT LÝ

Ở điều kiện thường, nitrogen là chất khí, không màu, không mùi, không vị, khó hoá lỏng (hoá lỏng ở -196 °C), tan rất ít trong nước (1 lit nước hoà tan được 0,012 lit khí nitrogen). Khí nitrogen không duy trì sự cháy và sự hô hấp.



- Dựa vào tương tác van der Waals, hãy giải thích tại sao đơn chất N<sub>2</sub> khó hoá lỏng và ít tan trong nước.



Hình 4.2. Lưu trữ tế bào gốc trong nitrogen lỏng

## IV TÍNH CHẤT HOÁ HỌC

Nitrogen khá trơ ở nhiệt độ thường, ở nhiệt độ cao, nitrogen trở nên hoạt động hơn. Nitrogen thể hiện cả tính oxi hoá và tính khử.

## 1. Tác dụng với hydrogen

Ở nhiệt độ cao, áp suất cao và có xúc tác, nitrogen hoá hợp trực tiếp với hydrogen, tạo thành ammonia. Đây là quá trình quan trọng nhất để sản xuất ammonia, thường gọi là quá trình Haber-Bosch (Ha-bơ Bốt), được phát minh bởi nhà hoá học Fritz Haber (Phờ-rit Ha-bơ) và được phát triển bởi kĩ sư Carl Bosch (Can Bốt). Quá trình Haber-Bosch được thực hiện ở quy mô công nghiệp từ năm 1913:



Phản ứng tổng hợp ammonia là quá trình trung gian quan trọng để sản xuất nitric acid, thuốc nổ, đạm nitrate, urea, ammpophos,...

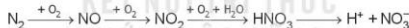
## 2. Tác dụng với oxygen

Ở nhiệt độ cao trên 3 000 °C hoặc có tia lửa điện, nitrogen kết hợp với oxygen, tạo ra nitrogen monoxide (NO) với hiệu suất rất thấp.



Trong tự nhiên, phản ứng trên xảy ra trong những cơn mưa dông kèm sấm sét, khởi đầu cho quá trình chuyển hoá từ nitrogen thành nitric acid. Nitric acid tan trong nước mưa và phân li ra ion nitrate ( $\text{NO}_3^-$ ) là một dạng phân đạm mà cây trồng hấp thụ được để sinh trưởng, phát triển.

Quá trình tạo và cung cấp đạm nitrate cho đất từ nước mưa được biểu diễn theo sơ đồ:



Trong thực tế, phản ứng hoá hợp giữa nitrogen với oxygen thường xảy ra đồng thời với quá trình đốt cháy nhiên liệu ở nhiệt độ cao bằng không khí. Các hoạt động giao thông vận tải và sản xuất công nghiệp là nguyên nhân chính gây phát thải các oxide của nitrogen vào khí quyển.



- Trong phương trình hoá học của phản ứng tổng hợp ammonia, hãy xác định các nguyên tử có sự thay đổi số oxi hoá và vai trò của nitrogen.
- Trong phương trình hoá học của phản ứng giữa nitrogen với oxygen:
  - Hãy xác định các nguyên tử có sự thay đổi số oxi hoá.
  - Tại sao thực tế không sử dụng phản ứng này để tạo ra NO, một hợp chất trung gian quan trọng trong công nghiệp sản xuất nitric acid?
- Viết các phương trình hoá học minh hoạ quá trình hình thành đạm nitrate trong tự nhiên xuất phát từ nitrogen.

## EM CÓ BIẾT

### Quy trình Haber-Bosch

Quy trình Haber-Bosch là một chìa khoá quan trọng trong công nghiệp sản xuất phân bón, giúp đảm bảo an ninh lương thực toàn cầu.

Hiện nay, quy trình Haber-Bosch vẫn đang tiếp tục được nghiên cứu, cải tiến theo hướng tìm kiếm những xúc tác hiệu quả hơn nhằm làm giảm nhiệt độ và giảm áp suất của phản ứng tổng hợp ammonia.

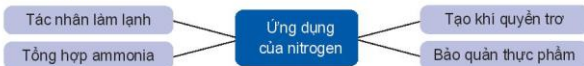
## EM CÓ BIẾT

Một số vi sinh vật chuyển hoá nitrogen thành phân đạm, tích lũy tại các nốt sần ở rễ cây họ đậu. Quá trình này góp phần cải tạo và bổ sung dinh dưỡng cho đất trồng.



Hình 4.3. Các nốt sần ở rễ cây họ đậu

## ỨNG DỤNG



Sưu tầm một số hình ảnh để báo cáo, thuyết trình về ứng dụng của nitrogen trong thực tiễn. Sử dụng các tính chất vật lí và hoá học để giải thích cơ sở khoa học của các ứng dụng này.



- a) Tại sao nitrogen lỏng được dùng để bảo quản mẫu vật phẩm trong y học?  
b) Tại sao dùng khí nitrogen để làm căng vỏ bao bì thực phẩm mà không dùng không khí?

## EM CÓ BIẾT

### Ứng dụng của nitrogen lỏng trong y tế và công nghệ thực phẩm

Nitrogen lỏng làm mô bị đóng băng ngay khi tiếp xúc nên được dùng điều trị trĩ mụn cóc và một số bệnh ngoài da.

Nitrogen lỏng được phun vào vỏ bao bì, sau đó gắn kín, nitrogen biến thành thể khí làm căng vỏ bao bì, vừa bảo vệ thực phẩm khi va chạm, vừa bảo quản được thực phẩm.

## EM ĐÃ HỌC

- Nguyên tố nitrogen tồn tại trong tự nhiên ở cả dạng đơn chất (trong khí quyển) và dạng hợp chất (nitrate, protein, nucleic acid,...).
- Hai nguyên tử trong phân tử nitrogen liên kết với nhau bằng một liên kết ba bền vững nên đơn chất nitrogen kém hoạt động hoá học ở nhiệt độ thường, hoạt động hoá học mạnh hơn ở nhiệt độ cao. Đơn chất nitrogen thể hiện cả tính oxi hoá (tác dụng với hydrogen) và tính khử (tác dụng với oxygen).
- Nitrogen có nhiều ứng dụng trong các ngành sản xuất hoá chất, bảo quản thực phẩm, dược phẩm, mẫu vật phẩm y tế....

## EM CÓ THỂ

- Giải thích quá trình tạo và cung cấp ion nitrate cho đất từ nước mưa.
- Giải thích được các ứng dụng của đơn chất nitrogen ở thể khí và thể lỏng trong bảo quản thực phẩm, dược phẩm, mẫu vật phẩm y tế.



**MỤC TIÊU:**

- Mô tả được công thức Lewis và dạng hình học của phân tử ammonia.
- Từ cấu tạo của phân tử ammonia, giải thích được tính tan, tính base, tính khử. Viết được phương trình hoá học minh hoạ.
- Vận dụng được kiến thức về cân bằng hoá học, tốc độ phản ứng, enthalpy cho phản ứng tổng hợp ammonia từ nitrogen và hydrogen trong quá trình Haber.
- Trình bày được tính chất cơ bản của muối ammonium và nhận biết ion ammonium trong dung dịch.
- Trình bày được ứng dụng của ammonia; ammonium nitrate và một số muối ammonium tan.
- Thực hiện được (hoặc quan sát video) thí nghiệm nhận biết được ion ammonium trong phân đạm chứa ion ammonium.



Từ ammonia, thông qua phản ứng nào có thể sản xuất phân đạm chứa ion ammonium? Ammonia đóng vai trò gì trong phản ứng đó?

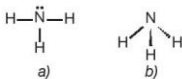
**1 AMMONIA**

**1. Cấu tạo phân tử**



1. Viết cấu hình electron của các nguyên tử H (Z = 1) và N (Z = 7).
2. Trình bày các bước lập công thức Lewis của phân tử ammonia.

Phân tử ammonia được tạo bởi một nguyên tử nitrogen liên kết với ba nguyên tử hydrogen và có dạng hình học là chóp tam giác:



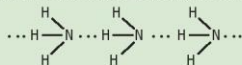
**Hình 5.1.** Công thức Lewis (a) và dạng hình học (b) của phân tử ammonia

Đặc điểm cấu tạo của phân tử ammonia:

- Nguyên tử nitrogen còn một cặp electron không liên kết, tạo ra vùng có mật độ điện tích âm trên nguyên tử nitrogen.
- Liên kết N-H phân cực, cặp electron dùng chung lệch về nguyên tử nitrogen làm cho nguyên tử hydrogen mang một phần điện tích dương.
- Liên kết N-H tương đối bền với năng lượng liên kết là 386 kJ/mol.



1. Từ đặc điểm cấu tạo của phân tử ammonia, hãy giải thích tại sao các phân tử ammonia có khả năng tạo liên kết hydrogen mạnh với nhau.



Hình 5.2. Liên kết hydrogen giữa các phân tử ammonia

## 2. Tính chất vật lí

Ammonia tồn tại ở cả trong môi trường đất, nước, không khí. Trong cơ thể người, ammonia được tạo ra trong quá trình chuyển hoá thức ăn chứa protein.

Ở điều kiện thường, ammonia tồn tại ở thể khí, không màu, nhẹ hơn không khí, mùi khai và xốc. Ammonia tan nhiều trong nước. Ở điều kiện thường, 1 lít nước hoà tan được khoảng 700 lít khí ammonia. Ammonia dễ hoá lỏng (hoá lỏng ở  $-33,3^\circ\text{C}$ ) và dễ hoá rắn (hoá rắn ở  $-77,7^\circ\text{C}$ ).




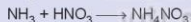

2. Hãy giải thích tại sao ammonia tan tốt trong nước.

## 3. Tính chất hoá học

### a) Tính base

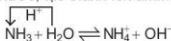


Trong công nghiệp, phản ứng giữa ammonia với acid được dùng để sản xuất phân bón:



Xác định chất cho, chất nhận proton trong mỗi phản ứng trên. Dùng mũi tên để biểu diễn sự cho, nhận đó.

Trong dung dịch, một phần nhỏ phân tử ammonia nhận proton của nước, tạo thành ion ammonium ( $\text{NH}_4^+$ ):



Dung dịch ammonia có môi trường base yếu, làm quỳ tím chuyển màu xanh, phenolphthalein chuyển màu hồng.

Ở thể khí, ammonia cũng có khả năng nhận proton, thể hiện tính chất của một base Bronsted-Lowry.

Ví dụ:  $\text{NH}_3(\text{g}) + \text{HCl}(\text{g}) \longrightarrow \text{NH}_4\text{Cl}(\text{s})$

### EM CÓ BIẾT

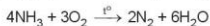
Amphos là một loại phân bón phức hợp, cung cấp đồng thời hai nguyên tố nitrogen và phosphorus cho cây trồng. Thành phần chính của amphos là sản phẩm của các phản ứng:




## b) Tính khử

Trong phân tử amonia, nguyên tử nitrogen có số oxi hoá  $-3$  (số oxi hoá thấp nhất của nitrogen) nên amonia thể hiện tính khử.

Khi đốt cháy trong oxygen, amonia cháy với ngọn lửa màu vàng.



Trong công nghiệp, phản ứng giữa amonia và oxygen được thực hiện ở nhiệt độ  $800\text{ }^\circ\text{C} - 900\text{ }^\circ\text{C}$  với xúc tác Pt.



Phản ứng trên là giai đoạn trung gian quan trọng trong quá trình sản xuất nitric acid theo phương pháp Ostwald (Ôt-xvan).



3. Trong hai phản ứng oxi hoá amonia bằng oxygen ở trên, hãy:
- Xác định các nguyên tử có sự thay đổi số oxi hoá.
  - Viết quá trình oxi hoá, quá trình khử.

### EM CÓ BIẾT

Amonia tự bốc cháy ở nhiệt độ  $651\text{ }^\circ\text{C}$  khi có sắt xúc tác và ở  $850\text{ }^\circ\text{C}$  khi không có xúc tác. Amonia có thể tạo hỗn hợp nổ với không khí khi nồng độ amonia trong hỗn hợp từ 16% đến 25% thể tích.

## 4. Ứng dụng

Tác nhân làm lạnh

Dung môi

Một số ứng dụng của amonia

Sản xuất nitric acid

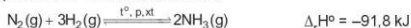
Sản xuất phân đạm



Sưu tầm một số hình ảnh để báo cáo, thuyết trình về ứng dụng của amonia trong thực tiễn. Sử dụng các tính chất vật lí và hoá học để giải thích cơ sở khoa học của các ứng dụng này.

## 5. Sản xuất

Trong công nghiệp, quá trình sản xuất amonia thường được thực hiện ở nhiệt độ  $400\text{ }^\circ\text{C} - 450\text{ }^\circ\text{C}$ , áp suất  $150 - 200\text{ bar}$ , xúc tác Fe.



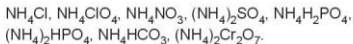
Vận dụng kiến thức về cân bằng hoá học, tốc độ phản ứng, biến thiên enthalpy để giải thích các điều kiện của phản ứng sản xuất amonia, cụ thể:

- Nếu tăng hoặc giảm nhiệt độ sẽ ảnh hưởng đến sự chuyển dịch cân bằng và tốc độ phản ứng như thế nào?
- Nếu giảm áp suất, cân bằng chuyển dịch theo chiều nào? Tại sao không thực hiện ở áp suất cao hơn?
- Vai trò của chất xúc tác trong phản ứng là gì?

## II MUỐI AMMONIUM

### 1. Tính tan, sự điện li

Một số muối ammonium phổ biến:



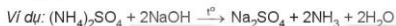
Hầu hết các muối ammonium đều dễ tan trong nước và phân li hoàn toàn ra ion.



Hình 5.3. Dạng hình học của ion ammonium

### 2. Tác dụng với kiềm – Nhận biết ion ammonium

Khi đun nóng hỗn hợp muối ammonium với dung dịch kiềm, sinh ra khí ammonia có mùi khai.



#### Thí nghiệm: Nhận biết ion ammonium trong phân đạm

**Chuẩn bị:** phân bón potassium nitrate và phân bón ammonium chloride dạng rắn, dung dịch NaOH 20%, giấy pH; bình xịt tia nước cất, 2 ống nghiệm, kẹp gỗ, đèn cồn.

**Tiến hành:**

- Cho khoảng 1 g phân bón potassium nitrate vào ống nghiệm (1) và khoảng 1 g phân bón ammonium chloride vào ống nghiệm (2).
- Thêm vào mỗi ống nghiệm khoảng 3 mL nước cất, lắc đều cho tan hết.
- Nhỏ 1 mL dung dịch NaOH 20% vào mỗi ống nghiệm, đun nóng nhẹ trên đèn cồn.
- Đưa hai mẫu giấy pH đã tẩm ướt vào miệng mỗi ống nghiệm.

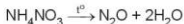
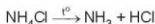
**Quan sát hiện tượng và trả lời câu hỏi:**

Dựa vào dấu hiệu nào để nhận biết ion ammonium? Giải thích bằng phương trình hoá học.

### 3. Tính chất kém bền nhiệt

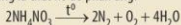
Các muối ammonium đều kém bền nhiệt và dễ bị phân huỷ khi nung nóng.

Ví dụ:



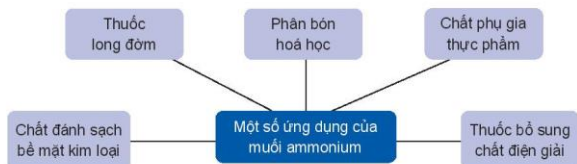
#### EM CÓ BIẾT

Ammonium nitrate vừa là phân bón nhưng đồng thời cũng là chất nổ do phản ứng:



Phản ứng trên là nguyên nhân vụ nổ kinh hoàng tại nhà kho chứa khoảng 2 700 tấn ammonium nitrate ở cảng Beirut (Lebanon) vào tháng 8 năm 2020. Do vậy, quá trình bảo quản, sử dụng chúng phải tuân theo nguyên tắc phòng và chống cháy, nổ.

#### 4. Ứng dụng



4. a) So sánh phân tử ammonia và ion ammonium về dạng hình học, số liên kết cộng hoá trị, số oxi hoá của nguyên tử nitrogen.  
b) Viết phương trình hoá học minh họa tính acid/base của ammonia và ammonium.

#### EM ĐÃ HỌC

- Phân tử ammonia có dạng chóp tam giác, phân tử chứa ba liên kết N–H phân cực và một cặp electron không liên kết trên nguyên tử nitrogen.
- Các phân tử ammonia tạo được liên kết hydrogen với nhau và với nước. Ammonia dễ hoá lỏng và dễ tan trong nước.
- Tính base và tính khử của ammonia được ứng dụng trong sản xuất phân bón, nitric acid,...
- Muối ammonium dễ tan, kém bền nhiệt, tác dụng với base, được dùng chủ yếu làm phân bón.

#### EM CÓ THỂ

- Vận dụng được kiến thức về cân bằng hoá học, tốc độ phản ứng, enthalpy cho phản ứng tổng hợp ammonia trong quá trình Haber-Bosch.
- Nhận biết được ion ammonium trong phân đạm.

## MỘT SỐ HỢP CHẤT CỦA NITROGEN VỚI OXYGEN

### MỤC TIÊU:

- Phân tích được nguồn gốc các oxide của nitrogen trong không khí và nguyên nhân gây hiện tượng mưa acid.
- Nêu được cấu tạo của  $\text{HNO}_3$ , tính acid, tính oxy hoá mạnh trong một số ứng dụng thực tiễn quan trọng của nitric acid.
- Giải thích được nguyên nhân, hệ quả của hiện tượng phú dưỡng.



Năm 1872, trong cuốn sách *Không khí và Mưa*, Robert Angus Smith (Rô-bôt An-gôt Smit) (nhà hoá học người Scotland) đã trình bày chi tiết về hiện tượng mưa acid. Đến cuối những năm 1960, mưa acid đã thực sự ảnh hưởng đến môi trường các vùng rộng lớn ở Tây Âu và Đông Bắc Mỹ. Ngày nay, mưa acid trở thành một trong các thảm hoạ môi trường toàn cầu. Mưa mưa acid là gì? Hợp chất của nitrogen với oxygen có vai trò gì trong hiện tượng đó?

### 1 CÁC OXIDE CỦA NITROGEN

#### 1. Công thức, tên gọi

Oxide của nitrogen được kí hiệu chung là  $\text{NO}_x$ , một loại hợp chất điển hình gây ô nhiễm không khí. Hợp chất  $\text{NO}_x$  có trong không khí là  $\text{NO}_2$ , NO,  $\text{N}_2\text{O}_4$ ,  $\text{N}_2\text{O}$ .

Oxide	$\text{N}_2\text{O}$	NO	$\text{NO}_2$	$\text{N}_2\text{O}_4$
Tên gọi	Dinitrogen oxide	Nitrogen monoxide	Nitrogen dioxide	Dinitrogen tetroxide

#### 2. Nguồn gốc phát sinh $\text{NO}_x$ trong không khí

Bên cạnh nguồn gốc tự nhiên như núi lửa phun trào, cháy rừng, mưa dông kèm theo sấm sét, sự phân huỷ các hợp chất hữu cơ, thì sự phát sinh  $\text{NO}_x$  chủ yếu là do hoạt động của con người. Các nguồn gây phát thải  $\text{NO}_x$  nhân tạo từ hoạt động giao thông vận tải, sản xuất công nghiệp, nông nghiệp, nhà máy nhiệt điện và trong đời sống.

**Bảng 6.1.** Nguyên nhân hình thành  $\text{NO}_x$  trong không khí

Loại $\text{NO}_x$	$\text{NO}_x$ nhiệt (thermal – $\text{NO}_x$ )	$\text{NO}_x$ nhiên liệu (fuel – $\text{NO}_x$ )	$\text{NO}_x$ tức thời (prompt – $\text{NO}_x$ )
Nguyên nhân tạo thành	Nhiệt độ rất cao (trên 3 000 °C) hoặc tia lửa điện làm nitrogen trong không khí bị oxy hoá: $\text{N}_2 + \text{O}_2 \rightleftharpoons 2\text{NO}$	Nitrogen trong nhiên liệu hoặc sinh khối <sup>(1)</sup> kết hợp với oxygen trong không khí.	Nitrogen trong không khí tác dụng với các gốc tự do <sup>(2)</sup> (gốc hydrocarbon, gốc hydroxyl,...).

$\text{NO}_x$  là một trong các nguyên nhân gây mưa acid, sương mù quang hoá, hiệu ứng nhà kính, thủng tầng ozone và hiện tượng phú dưỡng, làm ô nhiễm môi trường.

<sup>(1)</sup> Sinh khối là một thuật ngữ dùng để mô tả các vật chất hữu cơ có nguồn gốc từ sinh vật sống.

<sup>(2)</sup> Gốc tự do là nguyên tử/nhóm nguyên tử có electron tự do, chưa tạo thành cặp electron.

### 3. Mưa acid

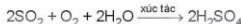


- Giải thích nguyên nhân phát thải  $\text{NO}_x$  từ hoạt động giao thông vận tải, nhà máy nhiệt điện, luyện kim, đốt nhiên liệu. Đề xuất các biện pháp nhằm cắt giảm các nguồn phát thải đó.
- Sưu tầm hình ảnh về ảnh hưởng của mưa acid đối với môi trường. Đề xuất một số giải pháp nhằm giảm thiểu nguy cơ gây mưa acid.

Nước mưa thông thường có pH khoảng 5,6 chủ yếu do có carbon dioxide hoà tan tạo môi trường acid yếu. Khi nước mưa có pH nhỏ hơn 5,6 thì gọi là hiện tượng *mưa acid*.

Tác nhân chính gây mưa acid là  $\text{SO}_2$  và  $\text{NO}_x$ , phát thải chủ yếu do các hoạt động công nghiệp, nhiệt điện, giao thông, khai thác và chế biến dầu mỏ,...

Với sự xúc tác của các ion kim loại trong khói bụi, khí  $\text{SO}_2$  và  $\text{NO}_x$  bị oxy hoá bởi oxygen, ozone, hydrogen peroxide, gốc tự do, ... rồi hoà tan vào nước, tạo thành sulfuric acid và nitric acid. Ví dụ:



Các giọt acid li ti tạo thành theo mưa rơi xuống bề mặt Trái Đất.

Mưa acid gây tác động xấu đối với môi trường, con người và sinh vật, rõ rệt nhất khi nước mưa có giá trị pH dưới 4,5. Mưa acid, ảnh hưởng đến sinh vật, ăn mòn các công trình xây dựng, kiến trúc bằng đá và kim loại,...



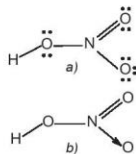
### NITRIC ACID

#### 1. Cấu tạo

Nitric acid ( $\text{HNO}_3$ ) có công thức Lewis và công thức cấu tạo như Hình 6.1.

Đặc điểm cấu tạo của phân tử nitric acid:

- Nguyên tử N có số oxy hoá +5, là số oxy hoá cao nhất của nitrogen.
- Liên kết O—H phân cực mạnh về phía nguyên tử oxygen.
- Liên kết N → O là liên kết cho nhận.



Hình 6.1.

Công thức Lewis (a) và công thức cấu tạo (b) của nitric acid



Từ đặc điểm cấu tạo, dự đoán tinh tan và tính chất hoá học của nitric acid.

#### 2. Tính chất vật lí

Nitric acid tinh khiết là chất lỏng, không màu, có khối lượng riêng  $D = 1,53 \text{ g/mL}$ . Nitric acid nóng chảy ở  $-42^\circ\text{C}$  và sôi ở  $83^\circ\text{C}$ . Nitric acid bốc khói mạnh trong không khí ẩm và tan vô hạn trong nước.

### 3. Tính chất hoá học

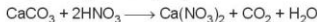


Viết phương trình phân li và các phương trình hoá học minh hoạ cho tính chất acid mạnh của nitric acid.

#### a) Tính acid

Nitric acid có khả năng cho proton, thể hiện tính chất của một acid Bronsted-Lowry.

Trong công nghiệp, nitric acid được sử dụng để sản xuất phân bón giàu dinh dưỡng như ammonium nitrate, calcium nitrate.



Ammonium nitrate cung cấp nguyên tố nitrogen ở cả dạng ammonium và cả dạng nitrate.

#### b) Tính oxi hoá

Phân tử nitric acid chứa nguyên tử nitrogen có số oxi hoá cao nhất (+5) nên nitric acid có khả năng nhận electron, thể hiện tính oxi hoá mạnh.

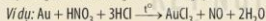
Do có tính oxi hoá mạnh, nitric acid thường được sử dụng để phá mẫu quặng trong việc nghiên cứu, xác định hàm lượng các kim loại trong quặng.



#### EM CÓ BIẾT

##### Ứng dụng nổi bật của nitric acid đặc

- Ở dạng đậm đặc, nitric acid được dùng để sản xuất thuốc nổ trinitrotoluene (TNT), nitroglycerin và thuốc súng không khói cellulose trinitrate. Trong các hợp chất đó, tính oxi hoá của nitric acid được bảo lưu ở các gốc nitrate và tham gia vào phản ứng cháy, nổ.
- Nitric acid đặc tạo với hydrochloric acid đặc hỗn hợp có tính oxi hoá mạnh (thường gọi là nước cường toan – aqua regia) có khả năng hoà tan vàng, platinum.



Phản ứng hoà tan vàng, platinum trong nước cường toan được sử dụng phổ biến ở nhiều phòng thí nghiệm nghiên cứu.



#### HIỆN TƯỢNG PHÚ DƯỠNG

Nguyên nhân của hiện tượng phú dưỡng là do sự dư thừa dinh dưỡng đã cung cấp nguồn thức ăn dồi dào cho sinh vật phù du phát triển rất mạnh.

Thông thường, khi hàm lượng nitrogen trong nước (bao gồm ion nitrate, nitrite, ammonium) đạt 300 µg/L và hàm lượng phosphorus (các dạng ion phosphate) đạt 20 µg/L sẽ gây ra hiện tượng phú dưỡng.



Nguồn dinh dưỡng ở ao, hồ thường có nguồn gốc từ nước thải (nông nghiệp, công nghiệp và sinh hoạt) được đưa đến ao, hồ thông qua các cống dẫn nước cố định hoặc do chảy tràn trên mặt đất khi mưa, lũ. Bên cạnh đó, ở nhiều đầm nuôi trồng thủy sản, sự dư thừa thức ăn chăn nuôi cũng tạo ra sự dư thừa dinh dưỡng.

Hiện tượng phú dưỡng gây cản trở sự hấp thụ ánh sáng mặt trời vào nước, làm giảm sự quang hợp của thực vật thủy sinh. Rong, tảo phát triển mạnh gây thiếu nguồn oxygen trầm trọng cho các loài khác (đặc biệt là tôm, cá), gây mất cân bằng sinh thái. Ngoài ra, xác rong, tảo phân huỷ gây ô nhiễm môi trường nước, không khí và tạo chất bùn lắng xuống lòng ao, hồ.



Hình 6.2. Ao, hồ có hiện tượng phú dưỡng do ô nhiễm



1. Nêu các biện pháp nhằm hạn chế hiện tượng phú dưỡng xảy ra ở các ao, hồ.
2. Hãy mô tả đặc điểm của ao, hồ có hiện tượng phú dưỡng và đề xuất cách cải tạo.

## EM ĐÃ HỌC

- Sự phát thải các oxide của nitrogen trong không khí chủ yếu do các hoạt động của con người như giao thông vận tải, nhiệt điện, sản xuất công nghiệp, nông nghiệp và đời sống.
- Nguyên nhân gây hiện tượng mưa acid do có sự phát thải quá nhiều khí  $\text{SO}_2$  và  $\text{NO}_x$  từ sản xuất công nghiệp, giao thông,...
- Nitric acid là acid mạnh và có tính oxi hoá mạnh.

## EM CÓ THỂ

- Liên hệ được tính chất hoá học của nitric acid trong một số quy trình sản xuất hoá chất.
- Giữ gìn môi trường nước của các ao, hồ trong khu vực em sinh sống và tham gia cải tạo những ao, hồ có hiện tượng phú dưỡng.

## MỤC TIÊU

- Nêu được các trạng thái tự nhiên của nguyên tố sulfur.
- Trình bày được cấu tạo, tính chất vật lý, hoá học cơ bản và ứng dụng của sulfur đơn chất.
- Thực hiện được thí nghiệm chứng minh sulfur đơn chất vừa có tính oxi hoá vừa có tính khử.
- Trình bày được tính oxi hoá, tính khử và ứng dụng của sulfur dioxide.
- Trình bày được sự hình thành sulfur dioxide do tác động của con người, tự nhiên, tác hại của sulfur dioxide và một số biện pháp làm giảm thiểu lượng sulfur dioxide thải vào không khí.



Trong công nghiệp, sulfur là nguyên liệu ban đầu, còn sulfur dioxide là hợp chất trung gian trong quá trình sản xuất sulfuric acid. Bên cạnh đó, sulfur dioxide cũng là một tác nhân gây ô nhiễm không khí.

Vậy, tính chất cơ bản của sulfur, sulfur dioxide là gì và làm thế nào để giảm thiểu tác hại của sulfur dioxide đối với môi trường?

## 1 SULFUR

### 1. Trạng thái tự nhiên

Sulfur (lưu huỳnh) là nguyên tố phổ biến thứ 17 trên vỏ Trái Đất, chiếm khoảng 0,03 – 0,1% khối lượng, tồn tại ở bốn dạng đồng vị bền:  $^{32}\text{S}$  (94,98%),  $^{33}\text{S}$  (0,76%),  $^{34}\text{S}$  (4,22%) và  $^{36}\text{S}$  (0,02%)<sup>(1)</sup>. Trong tự nhiên, sulfur tồn tại ở cả dạng đơn chất và dạng hợp chất. Đơn chất sulfur được phân bố ở vùng lân cận núi lửa và suối nước nóng.... Hợp chất sulfur gồm các khoáng vật sulfide, sulfate, protein,....

Sulfur được giải phóng ra khỏi lõi Trái Đất chủ yếu ở dạng sulfur dioxide ( $\text{SO}_2$ ) và hydrogen sulfide ( $\text{H}_2\text{S}$ ) khi núi lửa hoạt động. Sau đó, hydrogen sulfide chuyển hoá thành muối sulfide ít tan (tạo thành các khoáng vật pyrite, chalcopyrite,...) và sulfur dioxide chuyển hoá thành muối sulfate của calcium, barium (tạo thành các khoáng vật như thạch cao) (Hình 7.2). Trong cơ thể người, sulfur chiếm khoảng 0,2% khối lượng, có trong thành phần nhiều protein và enzyme.



Hình 7.1. Đá sulfur ở khu vực gần núi lửa



Pyrite ( $\text{FeS}_2$ )



Chalcopyrite ( $\text{CuFeS}_2$ )



Chu sa, thán sa  
( $\text{HgS}$ )



Thạch cao  
( $\text{CaSO}_4 \cdot 2\text{H}_2\text{O}$ )

Hình 7.2. Các khoáng vật chủ yếu của sulfur trên vỏ Trái Đất

<sup>(1)</sup> Nguồn: J. Räsänen, Encyclopedia of Analytical Science (Second Edition), 2005.



- Kê tên một ứng dụng thực tiễn của quặng pyrite, thạch cao, sulfuric acid mà em biết.

## 2. Cấu tạo nguyên tử, phân tử

### a) Cấu tạo nguyên tử



- Viết cấu hình electron của nguyên tử S ( $Z = 16$ ) và biểu diễn sự phân bố electron vào các ô orbital.
- Dựa vào cấu hình electron và độ âm điện của nguyên tử S, hãy đưa ra dự đoán về:
  - Số oxi hoá thấp nhất, cao nhất của nguyên tử S trong hợp chất.
  - Tính oxi hoá, tính khử của sulfur.

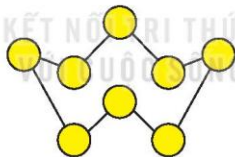
Nguyên tố sulfur ở ô số 16, nhóm VIA, chu kì 3 trong bảng tuần hoàn. Nguyên tử sulfur có độ âm điện là 2,58. Sulfur có tính phi kim.

Sulfur tạo ra nhiều hợp chất với các số oxi hoá khác nhau từ  $-2$  đến  $+6$ , ví dụ:  $\text{H}_2\text{S}$ ,  $\text{SO}_2$ ,  $\text{SO}_3$ ,...

### b) Cấu tạo phân tử

Phân tử sulfur gồm 8 nguyên tử ( $\text{S}_8$ ) có dạng vòng khép kín. Mỗi nguyên tử sulfur liên kết với hai nguyên tử bên cạnh bằng hai liên kết cộng hoá trị không phân cực. Liên kết S-S có năng lượng liên kết bằng 226 kJ/mol và độ dài liên kết là 205 pm.

Trong phản ứng hoá học, phân tử sulfur được viết đơn giản là S.



Hình 7.3. Phân tử sulfur  $\text{S}_8$



- Trong tinh thể sulfur, các phân tử  $\text{S}_8$  tương tác với nhau bằng lực van der Waals yếu. Hãy dự đoán về nhiệt độ nóng chảy (cao hay thấp) của đơn chất sulfur.

## 3. Tính chất vật lí

Đơn chất sulfur có hai dạng thù hình: dạng *tả phương* (bền ở nhiệt độ thường) và dạng *đơn tà*.

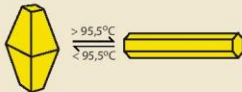
Sulfur không tan trong nước, ít tan trong alcohol, tan nhiều trong carbon disulfide.

Sulfur nóng chảy ở  $113^\circ\text{C}$  và sôi ở  $445^\circ\text{C}$ .

**EM CÓ BIẾT**

- Sulfur tà phương và sulfur đơn tà khác nhau về sự sắp xếp các phân tử  $S_8$  trong tinh thể (Hình 7.4).
- Tính chất dễ nóng chảy của sulfur được ứng dụng trong công nghệ khai thác sulfur từ mỏ theo phương pháp Frasch (Phờ-rát).

Nguyên tắc của phương pháp này là hoá lỏng sulfur ngâm dưới đất bằng hơi nước siêu nóng (ở khoảng  $180^\circ\text{C}$ ) với áp suất cao, sau đó kết hợp với bơm không khí nén để đẩy sulfur lỏng trào lên mặt đất theo đường ống dẫn.



Hình 7.4. Tinh thể sulfur

**4. Tính chất hoá học**

Khí tham gia phản ứng hoá học, sulfur có thể thể hiện tính oxi hoá hoặc tính khử. Trong thực tế, hầu hết các phản ứng của sulfur chỉ xảy ra khi đun nóng.

a) Tác dụng với hydrogen và kim loại



**Thí nghiệm: Sulfur tác dụng với sắt (iron)**

Chuẩn bị: bột sulfur, bột iron, ống nghiệm, kẹp gỗ, đèn cồn, bông.

Tiến hành:

- Trộn đều bột sulfur với bột iron theo tỉ lệ khối lượng khoảng 1 : 1,5.
- Lấy khoảng 2 g hỗn hợp vào ống nghiệm khô chịu nhiệt, dùng bông nút miệng ống nghiệm.
- Hơ nóng đều nửa dưới ống nghiệm trên ngọn lửa đèn cồn, sau đó đun tập trung vào phần chứa hỗn hợp.

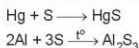
Quan sát, mô tả hiện tượng và thực hiện yêu cầu sau:

Dự đoán sản phẩm tạo thành sau thí nghiệm, viết phương trình hoá học của phản ứng và xác định chất oxi hoá, chất khử.

Ở nhiệt độ cao, sulfur tác dụng với hydrogen tạo thành hydrogen sulfide:



Sulfur tác dụng với thủy ngân (mercury) ngay ở nhiệt độ thường, tác dụng với nhiều kim loại khác ở nhiệt độ cao, tạo thành muối sulfide:



Phản ứng của mercury với sulfur được sử dụng để xử lí mercury rơi vãi.

## b) Tác dụng với phi kim



### Thí nghiệm: Sulfur tác dụng với oxygen

*Chuẩn bị:* bột sulfur, bình khí oxygen; muối sắt, đèn cồn, nút cao su.

*Tiến hành:*

- Lấy một ít bột sulfur vào muối sắt (đã cắm xuyên qua nút cao su).
- Hơ nóng muối sắt trên ngọn lửa đèn cồn đến khi sulfur nóng chảy và cháy một phần trong không khí.
- Đưa nhanh muối sắt vào bình khí oxygen.

*Quan sát và thực hiện các yêu cầu:*

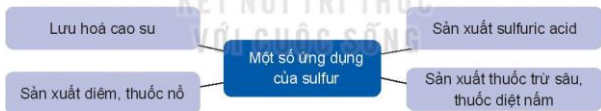
1. Viết phương trình hoá học và xác định chất oxi hoá, chất khử.
2. Nhận xét mức độ phản ứng cháy của sulfur trong không khí và trong khí oxygen.

Ở nhiệt độ thích hợp, sulfur tác dụng với một số phi kim như fluorine, oxygen,....



3. Trong phản ứng của sulfur với hydrogen, nhôm (aluminium), thủy ngân (mercury) và fluorine, hãy xác định sự thay đổi số oxi hoá của nguyên tử các nguyên tố. Sulfur là chất oxi hoá hay chất khử?

## 5. Ứng dụng



- Sưu tầm thông tin và trình bày về ứng dụng của một hợp chất có chứa nguyên tố sulfur trong thực tiễn.



## SULFUR DIOXIDE

### 1. Tính chất vật lý

Ở điều kiện thường, sulfur dioxide ( $\text{SO}_2$ ) là chất khí không màu, nặng hơn không khí, mùi hắc, tan nhiều trong nước (ở 20 °C, 1 lit nước hoà tan được 40 lit khí sulfur dioxide).

Sulfur dioxide là khí độc, hít thở không khí chứa sulfur dioxide vượt ngưỡng cho phép sẽ gây viêm đường hô hấp.

## 2. Tính chất hoá học



1. Sulfur dioxide là oxide acid (acidic oxide). Viết phương trình hoá học minh họa.
2. Dựa vào số oxi hoá của sulfur trong hợp chất sulfur dioxide, hãy dự đoán tính oxi hoá, tính khử của sulfur dioxide.

### a) Tính oxi hoá


Sulfur dioxide tác dụng với hydrogen sulfide tạo thành sulfur và nước.



Trong thực tiễn, phản ứng trên được dùng để chuyển hoá hydrogen sulfide trong khí thiên nhiên thành sulfur.

### b) Tính khử

Sulfur dioxide tác dụng với nitrogen dioxide ( $\text{NO}_2$ ) khi có xúc tác nitrogen oxide để chuyển hoá thành sulfur trioxide.



Trong không khí, sulfur dioxide chuyển hoá thành sulfur trioxide, sau đó kết hợp với hơi nước tạo thành sulfuric acid. Đây là phản ứng giải thích quá trình hình thành mưa acid khi không khí bị ô nhiễm bởi sulfur dioxide.



4. Hãy xác định sự thay đổi số oxi hoá của nguyên tử các nguyên tố và vai trò của sulfur dioxide trong phản ứng của sulfur dioxide với hydrogen sulfide và nitrogen dioxide.

## 3. Ứng dụng

Sulfur dioxide là chất trung gian quan trọng trong quá trình sản xuất sulfuric acid.

Do có khả năng tẩy trắng và diệt khuẩn, sulfur dioxide được sử dụng để tẩy trắng bột giấy, khử màu trong sản xuất đường, chống nấm mốc cho sản phẩm mây tre đan,...

Trong nghiên cứu, sulfur dioxide lỏng là một dung môi phân cực, được sử dụng để thực hiện nhiều phản ứng.



### EM CÓ BIẾT

Ở nhiều làng nghề sản xuất mây tre đan, sulfur được đốt cháy để tạo ra sulfur dioxide, một tác nhân có khả năng chống mốc và tẩy trắng sản phẩm mây tre đan. Quá trình đốt cháy sulfur tại các làng nghề thủ công gây ảnh hưởng đến sức khỏe con người và ô nhiễm môi trường.

## 4. Sulfur dioxide và ô nhiễm môi trường

### a) Nguồn phát sinh sulfur dioxide

Sulfur dioxide được sinh ra từ cả nguồn tự nhiên (khí thải núi lửa) và nguồn nhân tạo. Trên toàn thế giới, nguồn sulfur dioxide tự nhiên chiếm ưu thế, nhưng ở các khu vực đô thị và công nghiệp, nguồn nhân tạo chiếm ưu thế.

Nguồn sulfur dioxide nhân tạo chủ yếu sinh ra từ quá trình đốt cháy nhiên liệu có chứa tạp chất sulfur (than đá, dầu mỏ), đốt quặng sulfide (galen, blend) trong luyện kim, đốt sulfur và quặng pyrite trong sản xuất sulfuric acid,...

## b) Tác hại

Sulfur dioxide là một trong các tác nhân làm ô nhiễm khí quyển, gây mưa acid và viêm đường hô hấp ở người,...

## c) Biện pháp cắt giảm phát thải sulfur dioxide vào khí quyển

Dựa trên các nguồn phát sinh sulfur dioxide do hoạt động của con người, các biện pháp để cắt giảm sự phát thải khí này được đề xuất như sau: tăng cường sử dụng các nguồn năng lượng mới, năng lượng sạch, năng lượng tái tạo; sử dụng tiết kiệm, hiệu quả nguồn tài nguyên thiên nhiên; cải tiến công nghệ sản xuất, có biện pháp xử lý khí thải và tái chế các sản phẩm phụ có chứa sulfur.

### EM CÓ BIẾT

**Bảng 7.1. Hàm lượng cho phép tối đa của  $SO_2$  và  $NO_x$  trong không khí <sup>(1)</sup>**

Thông số ( $\mu\text{g}/\text{m}^3$ )	$SO_2$	$NO_x$
Trung bình 24 giờ	125	100
Trung bình năm	50	40

Giá trị trung bình 24 giờ và trung bình năm lần lượt là giá trị trung bình của các giá trị đo được trong khoảng thời gian 24 giờ liên tục (một ngày đêm) và trong khoảng thời gian một năm.



- Trình bày ứng dụng của sulfur dioxide. Giải thích.
- Kê tên một số nguồn phát thải sulfur dioxide vào khí quyển. Em hãy đề xuất một số biện pháp nhằm cắt giảm sự phát thải đó.

### EM ĐÃ HỌC

- Nguyên tố sulfur tồn tại trong tự nhiên ở cả dạng đơn chất (mỏ sulfur) và dạng hợp chất (quặng sulfide, sulfate,....).
- Đơn chất sulfur thể hiện tính oxi hoá (tác dụng với hydrogen, kim loại) và tính khử (tác dụng với oxygen, fluorine).
- Sulfur dioxide vừa có tính oxi hoá, vừa có tính khử. Sulfur dioxide là tác nhân gây ô nhiễm không khí, được sinh ra từ núi lửa và các hoạt động của con người.
- Ứng dụng của sulfur: sản xuất sulfuric acid, lưu hoá cao su, sản xuất diêm, thuốc nổ, thuốc trừ sâu, diệt nấm,....

### EM CÓ THỂ

- Giải thích được quá trình hình thành mưa acid từ sulfur dioxide.
- Đề xuất được một số biện pháp để cắt giảm sự phát thải sulfur dioxide vào khí quyển.

<sup>(1)</sup> Nguồn: Trích QCVN 05: 2013/BTNMT về Chất lượng không khí xung quanh.

## SULFURIC ACID VÀ MUỐI SULFATE

### MỤC TIÊU

- Trình bày được tính chất vật lý, cách bảo quản, sử dụng và nguyên tắc xử lý sơ bộ khi bỏng acid.
- Trình bày được cấu tạo phân tử  $H_2SO_4$ ; tính chất vật lý, tính chất hoá học cơ bản, ứng dụng của dung dịch sulfuric acid loãng, dung dịch sulfuric acid đặc và những lưu ý khi sử dụng sulfuric acid.
- Thực hiện được một số thí nghiệm chứng minh tính oxi hoá mạnh và tính háo nước của dung dịch sulfuric acid đặc.
- Vận dụng được kiến thức về năng lượng phản ứng, chuyển dịch cân bằng, vấn đề bảo vệ môi trường để giải thích các giai đoạn trong quá trình sản xuất sulfuric acid theo phương pháp tiếp xúc.
- Nêu được ứng dụng của một số muối sulfate quan trọng: barium sulfate, ammonium sulfate, calcium sulfate, magnesium sulfate và nhận biết được ion  $SO_4^{2-}$  trong dung dịch bằng ion  $Ba^{2+}$ .



Sulfuric acid là hoá chất quan trọng hàng đầu trong công nghiệp, được sử dụng cả ở dạng dung dịch loãng và dạng dung dịch đặc dựa trên những tính chất khác biệt.

Vậy, dung dịch sulfuric acid loãng và dung dịch sulfuric acid đặc có những tính chất quan trọng nào? Cần lưu ý điều gì khi bảo quản và sử dụng acid này để đảm bảo an toàn?



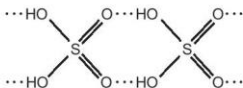
### SULFURIC ACID

#### 1. Cấu tạo phân tử

Phân tử sulfuric acid ( $H_2SO_4$ ) có công thức cấu tạo:  $HO-S(=O)_2-OH$ .



Với cấu tạo gồm các nguyên tử hydrogen linh động và các nguyên tử oxygen có độ âm điện lớn, giữa các phân tử sulfuric acid hình thành nhiều liên kết hydrogen.



Hình 8.1. Liên kết hydrogen giữa các phân tử sulfuric acid



- Dựa vào cấu tạo, cho biết phân tử sulfuric acid có khả năng cho bao nhiêu proton khi đóng vai trò là acid.
- Dựa vào tương tác giữa các phân tử, hãy dự đoán sulfuric acid là chất lỏng dễ bay hơi hay khó bay hơi.

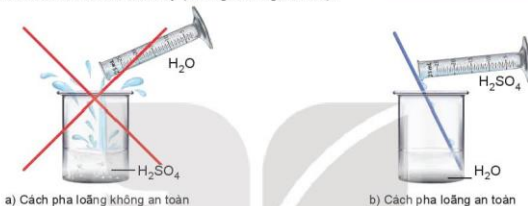


## 2. Tính chất vật lí

Ở điều kiện thường, sulfuric acid là chất lỏng sánh như dầu, không màu, không bay hơi, có tính hút ẩm mạnh.

Dung dịch sulfuric acid 98% có khối lượng riêng  $1,84 \text{ g/cm}^3$ , nặng gần gấp hai lần nước.

Sulfuric acid tan vô hạn trong nước và toả rất nhiều nhiệt. Do vậy, tuyệt đối không tự ý pha loãng sulfuric acid. Khi pha loãng dung dịch sulfuric acid đặc, để đảm bảo an toàn phải rót từ từ dung dịch sulfuric acid đặc vào nước, vừa rót vừa khuấy (không làm ngược lại).



Hình 8.2. Cách pha loãng dung dịch sulfuric acid đặc

## 3. Quy tắc an toàn

### a) Bảo quản

Sulfuric acid được bảo quản trong chai, lọ có nút đậy chặt, đặt ở vị trí chắc chắn.

Đặt chai, lọ đựng dung dịch sulfuric acid đặc cách xa các lọ chứa chất dễ gây cháy, nổ như chlorate, perchlorate, permanganate, dichromate.

### b) Sử dụng

Sulfuric acid gây bỏng khi rơi vào da, do vậy khi sử dụng cần tuân thủ các nguyên tắc:

- (1) Sử dụng găng tay, đeo kính bảo hộ, mặc áo thí nghiệm.
- (2) Cầm dụng cụ chắc chắn, thao tác cẩn thận.
- (3) Không tỉ, để chai đựng acid lên miệng cổ, ống đong khi rót acid.
- (4) Sử dụng lượng acid vừa phải, lượng acid còn thừa phải thu hồi vào lọ đựng.
- (5) Không được đổ nước vào dung dịch acid đặc.

### EM CÓ BIẾT

Sulfuric acid được sử dụng làm chất hút ẩm trong các bình hút ẩm để làm khô nhiều chất. Dung dịch sulfuric acid đặc cũng được sử dụng trong các bình rửa khí để tách loại hơi nước có lẫn trong các chất khí như chlorine, carbon dioxide, sulfur dioxide, ...



Hình 8.3. Kí hiệu cảnh báo sự nguy hiểm của sulfuric acid

### c) Sơ cứu khi bỏng acid

Khi bị bỏng sulfuric acid cần thực hiện sơ cứu theo các bước sau:

- (1) Nhanh chóng rửa ngay với nước lạnh nhiều lần để làm giảm lượng acid bám trên da. Nếu bị bỏng ở vùng mặt nhưng acid chưa bắn vào mắt thì nhắm chặt mắt khi ngâm rửa. Nếu acid đã bắn vào mắt thì úp mắt vào chậu nước sạch, mở mắt và chớp nhiều lần để rửa acid.
- (2) Sau khi ngâm rửa bằng nước, cần tiến hành trung hoà acid bằng dung dịch  $\text{NaHCO}_3$  loãng (khoảng 2%).
- (3) Băng bó tạm thời vết bỏng bằng băng sạch, cho người bị bỏng uống bù nước điện giải rồi đưa đến cơ sở y tế gần nhất.



2. a) Nêu các lưu ý bắt buộc để đảm bảo an toàn khi sử dụng dung dịch sulfuric acid đặc.  
b) Hãy cho biết ý nghĩa của kí hiệu cảnh báo ở Hình 8.3.

### 4. Tính chất hoá học

#### a) Dung dịch sulfuric acid loãng

Dung dịch sulfuric acid loãng có đầy đủ tính chất của một acid mạnh.



1. Em hãy cho biết các tính chất hoá học cơ bản của một acid.
2. Viết phương trình hoá học minh hoạ tính acid của dung dịch  $\text{H}_2\text{SO}_4$  loãng với: kim loại Fe, bột  $\text{MgO}$ , dung dịch  $\text{Na}_2\text{CO}_3$ , dung dịch  $\text{BaCl}_2$ .

#### EM CÒ BIẾT

Dung dịch sulfuric acid loãng được sử dụng phổ biến để tạo môi trường acid cho nhiều phản ứng trong công nghiệp và nghiên cứu.

- Sản xuất copper(II) sulfate:  $2\text{Cu} + \text{O}_2 + 2\text{H}_2\text{SO}_4 \longrightarrow 2\text{CuSO}_4 + 2\text{H}_2\text{O}$
- Chuẩn độ permanganate:  $5\text{H}_2\text{C}_2\text{O}_4 + 2\text{KMnO}_4 + 3\text{H}_2\text{SO}_4 \longrightarrow 10\text{CO}_2 + \text{K}_2\text{SO}_4 + 2\text{MnSO}_4 + 8\text{H}_2\text{O}$
- Sản xuất ac quy chì:  $\text{Pb} + \text{PbO}_2 + 2\text{H}_2\text{SO}_4 \longrightarrow 2\text{PbSO}_4 + 2\text{H}_2\text{O}$

#### b) Dung dịch sulfuric acid đặc

##### • Tính acid

Dung dịch sulfuric acid đặc có tính acid mạnh và khó bay hơi, được sử dụng để điều chế một số acid dễ bay hơi.

Trong công nghiệp, hydrogen fluoride được điều chế từ quặng fluorite theo phản ứng:



• *Tính oxi hoá*



**Thí nghiệm: Đồng (copper) tác dụng với dung dịch sulfuric acid đặc, nóng**

*Chuẩn bị:* đồng lá hoặc phoi bào, dung dịch sulfuric acid 70%; ống nghiệm, kẹp gỗ, đèn cồn, bông tẩm dung dịch NaOH loãng.

*Tiến hành:*

- Cho vài lá đồng đã cắt nhỏ vào ống nghiệm, thêm tiếp khoảng 3 mL dung dịch H<sub>2</sub>SO<sub>4</sub> 70%, dùng bông đã tẩm dung dịch NaOH loãng nút miệng ống nghiệm.
- Hơ nóng đều phần ống nghiệm chứa dung dịch trên ngọn lửa đèn cồn, sau đó đun tập trung vào đáy ống nghiệm.

*Lưu ý:* Dung dịch sulfuric acid đặc rơi vào da sẽ gây bỏng nặng, cần cẩn thận khi sử dụng.

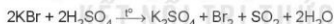
*Quan sát, mô tả hiện tượng xảy ra và thực hiện yêu cầu sau:*

1. Viết phương trình hoá học của phản ứng và xác định chất oxi hoá, chất khử.
2. Nhận xét về khả năng phản ứng của dung dịch sulfuric acid đặc, nóng với copper.

Dung dịch sulfuric acid đặc thể hiện tính oxi hoá mạnh, nhất là khi đun nóng, kèm theo sự giảm số oxi hoá của nguyên tử sulfur:



Dung dịch sulfuric acid đặc, nóng oxi hoá được nhiều kim loại, phi kim và hợp chất.



• *Tính háo nước*



**Thí nghiệm: Dung dịch sulfuric acid đặc tác dụng với đường mía**

*Chuẩn bị:* đường mía (C<sub>12</sub>H<sub>22</sub>O<sub>11</sub>), dung dịch sulfuric acid đặc; cốc thủy tinh loại 100 mL.

*Tiến hành:*

- Lấy khoảng 10 g đường mía cho vào cốc.
- Nhỏ đều trên bề mặt đường mía khoảng 2 mL dung dịch sulfuric acid đặc.

*Lưu ý:* Dung dịch sulfuric acid đặc rơi vào da sẽ gây bỏng nặng, cần cẩn thận khi sử dụng.

*Quan sát, mô tả hiện tượng xảy ra và thực hiện yêu cầu sau:*

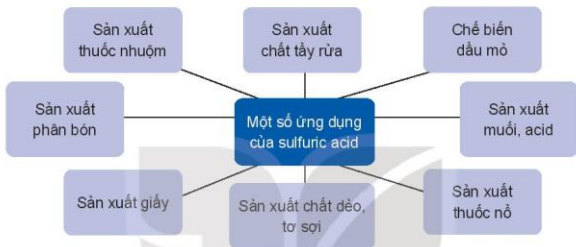
1. Viết phương trình hoá học của các phản ứng xảy ra trong thí nghiệm.
2. Dự đoán hiện tượng khi cho dung dịch sulfuric acid đặc tiếp xúc với các carbohydrate khác như cellulose (giấy, bông), tinh bột (gạo).

Dung dịch sulfuric acid đặc có khả năng lấy nước từ hợp chất carbohydrate và khiến chúng hoá đen (hiện tượng than hoá).



- a) Viết phương trình hoá học của phản ứng khi cho lần lượt các chất rắn sodium chloride (NaCl), sodium bromide (NaBr) tác dụng với dung dịch sulfuric acid đặc.  
b) Chỉ ra vai trò của sulfuric acid trong mỗi phản ứng đó.

## 5. Ứng dụng



Sưu tầm tài liệu và trình bày về các ứng dụng của sulfuric acid trong các ngành sản xuất và đời sống. Vì sao sulfuric acid là hoá chất có tầm quan trọng bậc nhất?



- Dung dịch sulfuric acid đặc được sử dụng để sản xuất phosphoric acid và phân bón superphosphate từ quặng phosphorite và apatite. Hãy viết phương trình hoá học của phản ứng giữa dung dịch sulfuric acid đặc với  $\text{Ca}_3(\text{PO}_4)_2$  trong hai quặng trên.

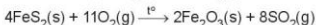
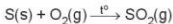
## 6. Sản xuất

Trong công nghiệp, sulfuric acid chủ yếu được sản xuất bằng phương pháp tiếp xúc, đi từ nguyên liệu chính là sulfur, quặng pyrite (chứa  $\text{FeS}_2$ ).

Phương pháp tiếp xúc gồm ba giai đoạn chính.

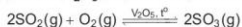
- Giai đoạn 1:** Sản xuất sulfur dioxide

Tùy thuộc vào nguồn nguyên liệu, sulfur dioxide được sản xuất bằng cách đốt cháy sulfur, pyrite hoặc quặng sulfide trong lò đốt bằng không khí.



- **Giai đoạn 2:** Sản xuất sulfur trioxide

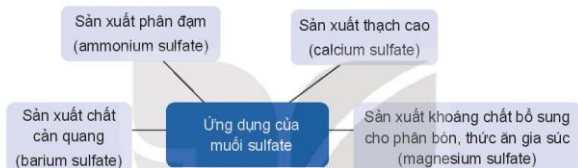
Oxi hoá sulfur dioxide bằng không khí dư ở nhiệt độ khoảng 450 °C, áp suất 1 – 2 bar, xúc tác vanadium(V) oxide ( $V_2O_5$ ), hiệu suất đạt trên 98%:



- **Giai đoạn 3:** Hấp thụ sulfur trioxide bằng sulfuric acid đặc, tạo ra oleum (hỗn hợp các acid có công thức chung dạng  $H_2SO_4 \cdot nSO_3$ ). Sau đó, pha loãng oleum vào nước thu được dung dịch sulfuric acid loãng.

## II MUỐI SULFATE

### 1. Ứng dụng



Tìm hiểu thêm và trình bày về các ứng dụng của muối sulfate mà em biết.

### 2. Nhận biết



**Thí nghiệm: Nhận biết ion  $SO_4^{2-}$  bằng ion  $Ba^{2+}$**

*Chuẩn bị:* dung dịch  $Na_2SO_4$ , dung dịch  $BaCl_2$ ; ống nghiệm, kẹp gỗ.

*Tiến hành:*

- Lấy khoảng 1 mL dung dịch  $Na_2SO_4$  cho vào ống nghiệm.
- Nhỏ vài giọt dung dịch  $BaCl_2$  vào ống nghiệm, lắc nhẹ.

*Quan sát hiện tượng xảy ra và thực hiện các yêu cầu:*

1. Viết phương trình hoá học dạng phân tử và ion rút gọn.
2. Dự đoán hiện tượng khi nhỏ dung dịch  $BaCl_2$  vào ống nghiệm đựng dung dịch  $H_2SO_4$  loãng.



**Hình 8.6.** Phản ứng giữa  $Na_2SO_4$  và  $BaCl_2$



5. Trình bày phương pháp hoá học để phân biệt các cặp dung dịch sau:

- $BaCl_2$  và  $NaCl$ ;
- $H_2SO_4$  loãng và  $HCl$ .

#### EM ĐÃ HỌC

- Dung dịch sulfuric acid loãng có các tính chất chung của acid.
- Dung dịch sulfuric acid đặc là chất lỏng sánh, có tính hút ẩm mạnh, hào nước, dễ gây bỏng.
- Dung dịch sulfuric acid đặc có tính acid mạnh và tính oxi hoá mạnh, oxi hoá nhiều đơn chất và hợp chất, nhất là khi đun nóng.
- Sulfuric acid và các muối sulfate có nhiều ứng dụng quan trọng trong các ngành sản xuất nông nghiệp, công nghiệp, dược phẩm, chế biến dầu mỏ,...
- Sulfuric acid được sản xuất chủ yếu bằng phương pháp tiếp xúc: sản xuất sulfur dioxide, sản xuất sulfur trioxide, hấp thụ sulfur trioxide bằng dung dịch sulfuric acid đặc.

#### EM CÓ THỂ

Bảo quản và sử dụng sulfuric acid an toàn, biết cách sơ cứu các trường hợp bỏng acid.

KẾT NỐI TRI THỨC  
VỚI CUỘC SỐNG

1 HỆ THỐNG HOÁ KIẾN THỨC

<p style="text-align: center;"><b>NITROGEN</b></p> <ul style="list-style-type: none"> <li>Nitrogen là nguyên tố phổ biến, góp phần tạo nên sự sống trên Trái Đất.</li> <li>Cấu hình electron lớp ngoài cùng của nguyên tử: <math>2s^2 2p^3</math>.</li> <li>Số oxi hoá thường gặp:                     <ul style="list-style-type: none"> <li>-3, 0, +1, +2, +3, +4, +5.</li> </ul> </li> <li>Phân tử nitrogen gồm 2 nguyên tử liên kết với nhau bằng liên kết ba bền vững (<math>N \equiv N</math>).</li> <li>Đơn chất nitrogen khá trơ ở nhiệt độ thường, hoạt động hoá học mạnh hơn khi đun nóng và có xúc tác.</li> <li>Đơn chất nitrogen thể hiện tính oxi hoá và tính khử.</li> </ul>	<p style="text-align: center;"><b>SULFUR - SULFUR DIOXIDE</b></p> <p style="text-align: center;"><b>Sulfur</b></p> <ul style="list-style-type: none"> <li>Sulfur là nguyên tố phổ biến trên Trái Đất, tồn tại ở cả dạng đơn chất và hợp chất.</li> <li>Cấu hình electron lớp ngoài cùng: <math>3s^2 3p^4</math>.</li> <li>Số oxi hoá thường gặp: -2, 0, +4, +6.</li> <li>Phân tử dạng mạch vòng gồm 8 nguyên tử (<math>S_8</math>) và tương đối bền.</li> <li>Sulfur thể hiện cả tính oxi hoá và tính khử.</li> </ul> <p style="text-align: center;"><b>Sulfur dioxide</b></p> <ul style="list-style-type: none"> <li>Sulfur dioxide phát thải ra môi trường từ quá trình đốt cháy nhiên liệu (than đá, dầu mỏ), đốt cháy sulfur và khoáng vật sulfide,...</li> <li>Sulfur dioxide có tính chất của oxide acid, có tính oxi hoá và tính khử.</li> </ul>
<p style="text-align: center;"><b>AMMONIA • MUỐI AMMONIUM</b></p> <p style="text-align: center;"><b>Ammonia</b></p> <ul style="list-style-type: none"> <li>Phân tử ammonia có dạng chóp tam giác, phân tử còn 1 cặp electron không liên kết.</li> <li>Khí ammonia có mùi khai, dễ tan trong nước, dễ hoá lỏng; ammonia có tính base và tính khử.</li> <li>Ammonia được sản xuất từ nitrogen và hydrogen theo quá trình Haber-Bosch.</li> </ul> <p style="text-align: center;"><b>Muối ammonium</b></p> <ul style="list-style-type: none"> <li>Muối ammonium thường dễ tan trong nước và kém bền nhiệt.</li> <li>Ion ammonium được nhận biết bằng phản ứng với kiềm, sinh ra khí có mùi khai.</li> </ul>	<p style="text-align: center;"><b>SULFURIC ACID • MUỐI SULFATE</b></p> <p style="text-align: center;"><b>Sulfuric acid</b></p> <ul style="list-style-type: none"> <li>Dung dịch sulfuric acid loãng có đầy đủ tính chất của một acid mạnh.</li> <li>Dung dịch sulfuric acid đặc có tính háo nước, có khả năng gây bỏng, có tính acid mạnh và tính oxi hoá mạnh.</li> <li>Bảo quản, sử dụng sulfuric acid đặc phải tuân theo quy tắc đảm bảo an toàn, phòng chống cháy, nổ.</li> <li>Sulfuric acid được sản xuất từ các nguyên liệu chính: sulfur, quặng pyrite.</li> </ul> <p style="text-align: center;"><b>Muối sulfate</b></p> <ul style="list-style-type: none"> <li>Các muối sulfate có nhiều ứng dụng thực tiễn: ammonium sulfate, barium sulfate, calcium sulfate, magnesium sulfate,...</li> <li>Ion sulfate trong dung dịch được nhận biết bằng ion <math>Ba^{2+}</math>.</li> </ul>

**MỘT SỐ HỢP CHẤT VỚI OXYGEN CỦA NITROGEN**

**Oxide của nitrogen**

- Các oxide của nitrogen là một trong số các tác nhân chính gây ô nhiễm không khí và gây mưa acid.

**Nitric acid**

- Nitric acid là chất lỏng, tan tốt trong nước, bốc khói trong không khí ẩm.
- Nitric acid có tính acid mạnh và tính oxi hoá mạnh.

**II LUYỆN TẬP**

**Câu 1.** Phân tử nitrogen có cấu tạo là

- A. N=N.                      B. N≡N.                      C. N—N.                      D. N→N.

**Câu 2.** Phân tử ammonia có dạng hình học nào sau đây?

- A. Chóp tam giác.      B. Chữ T.                      C. Chóp tứ giác.              D. Tam giác đều.

**Câu 3.** Ammonia đóng vai trò chất khử khi tác dụng với chất nào sau đây?

- A. H<sub>2</sub>O.                      B. HCl.                      C. H<sub>3</sub>PO<sub>4</sub>.                      D. O<sub>2</sub> (Pt, t°).

**Câu 4.** Khi so sánh phân tử ammonia với ion ammonium, nhận định nào sau đây là đúng?

- A. Điều chứa liên kết ion.                      B. Điều có tính acid yếu trong nước.  
C. Điều có tính base yếu trong nước.                      D. Điều chứa nguyên tử N có số oxi hoá là -3.

**Câu 5.** Cho vài giọt dung dịch BaCl<sub>2</sub> vào dung dịch nào sau đây sẽ tạo kết tủa trắng?

- A. NaCl.                      B. Na<sub>2</sub>SO<sub>4</sub>.                      C. NaNO<sub>3</sub>.                      D. NaOH.


**Câu 6.** Cho chất rắn nào sau đây vào dung dịch H<sub>2</sub>SO<sub>4</sub> đặc thì xảy ra phản ứng oxi hoá - khử?

- A. KBr.                      B. NaCl.                      C. CaF<sub>2</sub>.                      D. CaCO<sub>3</sub>.

**Câu 7.** Khi pha loãng dung dịch sulfuric acid đặc cần tuân thủ thao tác nào sau đây để đảm bảo an toàn?

- A. Rót từ từ acid vào nước.                      B. Rót nhanh acid vào nước.  
C. Rót từ từ nước vào acid.                      D. Rót nhanh nước vào acid.

**Câu 8.** Xét phản ứng trong giai đoạn đầu của quá trình Ostwald:



a) Tính  $\Delta_f H_{298}^\circ$  của phản ứng trên và cho biết phản ứng là toả nhiệt hay thu nhiệt? Có thể tận dụng nhiệt lượng này để làm gì?

Biết nhiệt tạo thành chuẩn của NH<sub>3</sub>(g), NO(g) và H<sub>2</sub>O(g) lần lượt là -45,9 kJ/mol; 91,3 kJ/mol và -241,8 kJ/mol.

b) Tính năng lượng liên kết trong phân tử NO.

Biết năng lượng liên kết N-H, O=O, O-H lần lượt là 386 kJ/mol, 494 kJ/mol và 459 kJ/mol.



CHƯƠNG

3

# ĐẠI CƯƠNG VỀ HÓA HỌC HỮU CƠ

BÀI  
10

## HỢP CHẤT HỮU CƠ VÀ HOÁ HỌC HỮU CƠ

### MỤC TIÊU

- Nêu được khái niệm hợp chất hữu cơ và hoá học hữu cơ; đặc điểm chung của các hợp chất hữu cơ.
- Phân loại được hợp chất hữu cơ (hydrocarbon và dẫn xuất).
- Nêu được khái niệm nhóm chức và một số loại nhóm chức cơ bản.
- Sử dụng được bảng tin hiệu phổ hồng ngoại (IR) để xác định một số nhóm chức cơ bản.

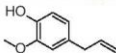


Các hợp chất hữu cơ đóng vai trò quan trọng với sự sống như protein, nucleic acid, hormone, ... Hợp chất hữu cơ là gì và chúng có những điểm chung gì?



### HỢP CHẤT HỮU CƠ VÀ HOÁ HỌC HỮU CƠ

#### 1. Khái niệm



a) Eugenol  
(có trong cây hương nhu)



b) Limonene (có trong vỏ  
quả chanh, cam, quýt, ...)



c) Tinh bột (có trong gạo,  
bột mì, khoai, sắn, ...)

**Hình 10.1.** Một số hợp chất hữu cơ trong tự nhiên

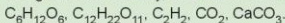
Hợp chất của carbon là hợp chất hữu cơ (trừ một số các hợp chất như carbon monoxide, carbon dioxide, muối carbonate, cyanide, carbide, ...).

Các hợp chất của carbon với các nguyên tố khác trong bảng tuần hoàn đã tạo nên hàng chục triệu hợp chất hữu cơ. Số lượng các chất hữu cơ mới vẫn đang tiếp tục tăng lên.

Hoá học hữu cơ là ngành hoá học chuyên nghiên cứu các hợp chất hữu cơ.



1. Đối tượng nghiên cứu của hoá học hữu cơ là gì?
2. Trong các chất sau đây, chất nào là chất hữu cơ?



## EM CÓ BIẾT

### Lịch sử phát triển của hoá học hữu cơ

Từ thời xa xưa, người ta đã biết đến và sử dụng một số chất hữu cơ trong đời sống như giấm ăn, rượu uống, một số chất màu hữu cơ, ... Đến cuối thế kỉ XVIII, đầu thế kỉ XIX, các nhà hoá học đã chiết tách được từ động vật, thực vật nhiều hợp chất hữu cơ như: oxalic acid (có trong sắn, rau chân vịt, măng, ...), citric acid (có trong các cây họ cam quýt: cam, chanh, bưởi, ...), lactic acid (có trong sữa chua, bánh bao, bánh mì, nước giải khát lên men, ...).

Năm 1806, lần đầu tiên Berzelius (Bơ-giê-li-ốt) đã dùng danh từ *hoá học hữu cơ* để chỉ ngành hoá học nghiên cứu về các hợp chất có nguồn gốc động vật, thực vật. Thời điểm này có thể xem như điểm mốc đánh dấu sự ra đời của hoá học hữu cơ.

Đầu thế kỉ XX, trên thế giới đã phát triển mạnh các ngành công nghiệp sản xuất được phẩm, sơn, nhựa, polymer, tơ sợi, cao su, ...

Thế kỉ XXI, hoá học xanh sẽ là một hướng đổi mới quan trọng để giúp ngành công nghiệp hoá chất phát triển. Trên thực tế, việc áp dụng những nguyên lí thân thiện với môi trường của hoá học xanh đã và đang góp phần giúp ngành hoá chất đi theo hướng phát triển bền vững, mang lại những lợi ích tích cực cho nhân loại cả về kinh tế, môi trường và xã hội.

## 2. Đặc điểm chung của các hợp chất hữu cơ

Các hợp chất hữu cơ có đặc điểm chung sau đây:

- Thành phần phân tử nhất thiết phải chứa nguyên tố carbon, thường có hydrogen, oxygen, nitrogen, halogen, sulfur, phosphorus, ...
- Liên kết hoá học chủ yếu là liên kết cộng hoá trị. Các nguyên tử carbon không những có khả năng liên kết với nguyên tử của các nguyên tố khác mà còn có thể liên kết với nhau tạo thành mạch carbon.
- Nhiệt độ nóng chảy thấp, nhiệt độ sôi thấp (dễ bay hơi) và thường không tan hoặc ít tan trong nước, tan trong các dung môi hữu cơ.
- Dễ cháy, kém bền với nhiệt nên dễ bị nhiệt phân huỷ.
- Phản ứng của các hợp chất hữu cơ thường xảy ra chậm, theo nhiều hướng và tạo ra hỗn hợp các sản phẩm. Để tăng tốc độ phản ứng thường cần đun nóng và có xúc tác.



3. So sánh thành phần nguyên tố, liên kết hoá học trong phân tử của hợp chất hữu cơ và của hợp chất vô cơ.

## II PHÂN LOẠI HỢP CHẤT HỮU CƠ

Dựa vào thành phần nguyên tố, hợp chất hữu cơ có thể phân thành hai loại: *hydrocarbon* và *dẫn xuất của hydrocarbon*.

*Hydrocarbon* là những hợp chất được tạo thành chỉ từ hai nguyên tố carbon và hydrogen. Một số hydrocarbon tiêu biểu:

Hydrocarbon	alkane	alkene	alkyne	arene
<i>Ví dụ</i>	CH <sub>4</sub>	CH <sub>2</sub> =CH <sub>2</sub>	CH≡CH	C <sub>6</sub> H <sub>6</sub>

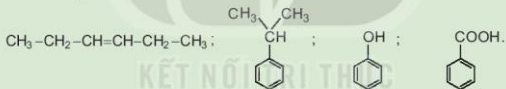
Khi một hay nhiều nguyên tử hydrogen trong phân tử hydrocarbon được thay thế bằng một hay nhiều nguyên tử hay nhóm nguyên tử khác (thường chứa oxygen, nitrogen, sulfur, halogen,...), thu được dẫn xuất của hydrocarbon.

Dẫn xuất của hydrocarbon được phân thành nhiều loại:

Dẫn xuất của hydrocarbon	dẫn xuất halogen	alcohol	carboxylic acid	...
<i>Ví dụ</i>	CH <sub>3</sub> Cl	C <sub>2</sub> H <sub>5</sub> OH	CH <sub>3</sub> COOH	...



4. Hãy phân loại các hợp chất hữu cơ cho dưới đây thành hai nhóm: hydrocarbon và dẫn xuất hydrocarbon.



## III NHÓM CHỨC TRONG PHÂN TỬ HỢP CHẤT HỮU CƠ

### 1. Khái niệm

*Nhóm chức là nguyên tử hoặc nhóm nguyên tử trong phân tử gây ra những tính chất hoá học đặc trưng của hợp chất hữu cơ.*

*Ví dụ:* Dimethyl ether (H<sub>3</sub>C—O—CH<sub>3</sub>) và ethanol (C<sub>2</sub>H<sub>5</sub>—OH) có cùng công thức phân tử C<sub>2</sub>H<sub>6</sub>O nhưng có các tính chất khác nhau. Dimethyl ether không phản ứng với sodium, trong khi ethanol phản ứng với sodium giải phóng hydrogen.



Nhóm —OH đã gây ra các phản ứng đặc trưng, phân biệt ethanol với dimethyl ether và với các loại hợp chất khác nên nhóm —OH được gọi là nhóm chức alcohol.

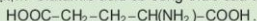
## 2. Một số loại nhóm chức cơ bản

**Bảng 10.1.** Một số nhóm chức cơ bản và công thức cấu tạo

Loại hợp chất	Nhóm chức	Ví dụ	Loại hợp chất	Nhóm chức	Ví dụ
Dẫn xuất halogen	-X (F, Cl, Br, I)	CH <sub>3</sub> Cl	Carboxylic acid	-COOH	CH <sub>3</sub> COOH
Alcohol	-OH	CH <sub>3</sub> OH	Ester	-COO-	CH <sub>3</sub> COOCH <sub>3</sub>
Aldehyde	-CHO	CH <sub>3</sub> CHO	Amine	-NH <sub>2</sub>	CH <sub>3</sub> NH <sub>2</sub>
Ketone	>C=O	CH <sub>3</sub> COCH <sub>3</sub>	Ether	-O-	CH <sub>3</sub> OCH <sub>3</sub>



5. Glutamic acid là một chất dẫn truyền thần kinh, giúp phòng ngừa và điều trị các triệu chứng suy nhược thần kinh do thiếu hụt glutamic acid như mất ngủ, nhức đầu, ù tai, chóng mặt,.... Glutamic acid có công thức cấu tạo:



Hãy nêu tên các nhóm chức có trong phân tử glutamic acid.

## 3. Phổ hồng ngoại và nhóm chức

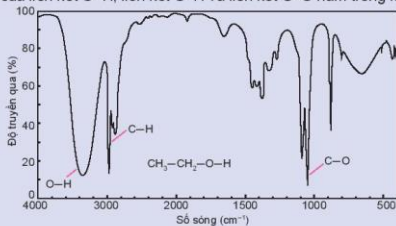
Phương pháp phổ hồng ngoại (Infrared Spectroscopy, được viết tắt là IR) là phương pháp vật lý rất quan trọng và phổ biến để nghiên cứu cấu tạo phân tử hợp chất hữu cơ.

Mỗi liên kết trong phân tử hợp chất hữu cơ hấp thụ một vài bức xạ hồng ngoại đặc trưng cho liên kết đó.

Phổ hồng ngoại của một chất được máy ghi lại tự động khi cho nguồn bức xạ hồng ngoại đi qua chất nghiên cứu. Phổ hồng ngoại thường biểu thị sự phụ thuộc của độ truyền qua (%) của bức xạ hồng ngoại vào số sóng ( $\text{cm}^{-1}$ ). Các cực tiểu truyền qua (hoặc cực đại hấp thụ) ứng với dao động của các liên kết trong phân tử chất nghiên cứu được gọi là các tín hiệu (hoặc peak). Dựa vào các số sóng hấp thụ đặc trưng trên phổ IR có thể dự đoán nhóm chức trong phân tử chất nghiên cứu.



- Hãy quan sát phổ hồng ngoại của ethanol (Hình 10.2) và cho biết số sóng hấp thụ đặc trưng của liên kết O-H, liên kết C-H và liên kết C-O nằm trong khoảng nào.



**Hình 10.2.** Phổ hồng ngoại của ethanol

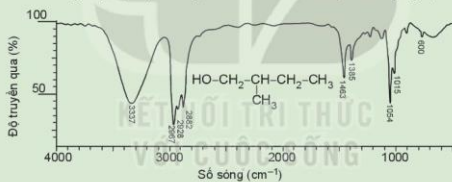
Bảng 10.2 là số sóng đặc trưng của một số nhóm chức cơ bản (phổ hồng ngoại).

**Bảng 10.2.** Số sóng hấp thụ đặc trưng trên phổ hồng ngoại của một số nhóm chức cơ bản<sup>(1)</sup>

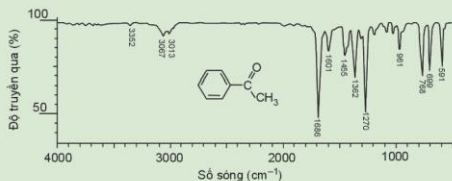
Nhóm chức/liên kết	Số sóng (cm <sup>-1</sup> )
—OH (alcohol)	3 650 – 3 200
—NH (amine)	3 350 – 3 300
—C <sup>H</sup> =O (aldehyde)	2 830 – 2 700 (C—H) 1 740 – 1 685 (C=O)
C <sup>H</sup> C=O (ketone)	1 715 – 1 660 (C=O)
C <sup>H</sup> C=O OH (carboxylic)	3 300 – 2 500 (OH) 1 717 (C=O)
C <sup>H</sup> C=O O (ester)	1 750 – 1 730 (C=O)



6. Chỉ ra số sóng hấp thụ đặc trưng của nhóm —OH trên phổ hồng ngoại của chất sau:

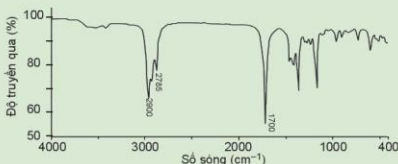


7. Chỉ ra số sóng hấp thụ đặc trưng của nhóm C=O (ketone) trên phổ hồng ngoại:



<sup>(1)</sup> Nguồn: Cơ sở Hoá học hữu cơ, Trần Quốc Sơn, Đặng Văn Liễu, NXBGD, 1999.

8. Chất X có công thức phân tử là  $C_6H_{10}O$  và có phổ hồng ngoại như sau:



Dựa vào Bảng 10.2 và phổ hồng ngoại, hãy dự đoán nhóm chức có trong phân tử X.

#### EM ĐÃ HỌC

- Hợp chất của carbon là hợp chất hữu cơ (trừ một số các hợp chất như carbon monoxide, carbon dioxide, muối carbonate, cyanide, carbide,...).
- Liên kết hoá học trong hợp chất hữu cơ thường là liên kết cộng hoá trị; nhiệt độ nóng chảy, nhiệt độ sôi thấp và thường không tan hoặc ít tan trong nước, tan trong các dung môi hữu cơ.
- Hợp chất hữu cơ dễ cháy, dễ bị nhiệt phân huỷ, các phản ứng thường xảy ra chậm, theo nhiều hướng và tạo ra hỗn hợp các sản phẩm.
- Hợp chất hữu cơ được phân thành hai loại: *hydrocarbon* và *đ dẫn xuất của hydrocarbon*.
- Nhóm chức là nguyên tử hoặc nhóm nguyên tử gây ra những tính chất hoá học đặc trưng của phân tử hợp chất hữu cơ.
- Phổ hồng ngoại thường được sử dụng để xác định sự có mặt của các nhóm chức trong phân tử hợp chất hữu cơ.

#### EM CÓ THỂ

Sử dụng được bảng tin hiệu phổ hồng ngoại (IR) để xác định một số nhóm chức cơ bản trong phân tử hợp chất hữu cơ, từ đó có thể dự đoán cấu trúc phân tử hợp chất hữu cơ.

BÀI  
11

## PHƯƠNG PHÁP TÁCH BIỆT VÀ TINH CHẾ HỢP CHẤT HỮU CƠ

### MỤC TIÊU

- Trình bày được nguyên tắc và cách thức tiến hành các phương pháp tách biệt và tinh chế hợp chất hữu cơ: chưng cất, chiết, kết tinh và sơ lược về sắc kí cột.
- Thực hiện được các thí nghiệm về chưng cất thường, chiết.
- Vận dụng được các phương pháp: chưng cất thường, chiết, kết tinh để tách biệt và tinh chế một số hợp chất hữu cơ trong cuộc sống.



Các hợp chất hữu cơ thu được trong tự nhiên hay bằng con đường tổng hợp trong phòng thí nghiệm thường ở dạng thô, lẫn các tạp chất cần phải loại bỏ. Muốn có được sản phẩm hữu cơ tinh khiết, người ta sử dụng những biện pháp nào?

### 1 PHƯƠNG PHÁP CHƯNG CÁT



Quá trình nấu rượu gạo thủ công được thực hiện như sau:

- Gạo được nấu chín, để nguội, rắc men, ủ kín 3 – 5 ngày, thu được một hỗn hợp chủ yếu gồm nước, ethanol và bã rượu.
- Đun nóng hỗn hợp trên đến nhiệt độ sôi, hơi bay ra đi vào đường ống dẫn. Hỗn hợp hơi trong đường ống được làm lạnh sẽ hoá lỏng và chảy vào bình hứng (Hình 11.1). Quá trình này gọi là chưng cất rượu.

Trả lời câu hỏi:

1. Trong quá trình chưng cất, tỉ lệ ethanol/nước giảm dần hay tăng dần, biết rằng ethanol có nhiệt độ sôi thấp hơn nước?
2. Vai trò của thùng nước lạnh là gì?



Hình 11.1.  
Thiết bị nấu rượu thủ công

#### 1. Nguyên tắc

Chưng cất là phương pháp tách chất dựa vào sự khác nhau về nhiệt độ sôi của các chất trong hỗn hợp ở một áp suất nhất định.

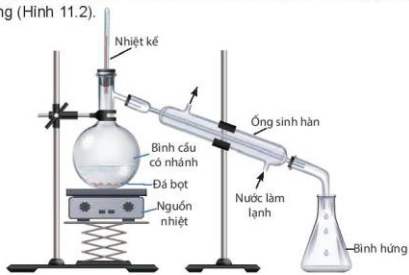
#### 2. Cách tiến hành

Chất lỏng cần tách được chuyển sang pha hơi, rồi làm lạnh cho hơi ngưng tụ, thu lấy chất lỏng ở khoảng nhiệt độ thích hợp.

#### 3. Ứng dụng

Phương pháp chưng cất dùng để tách các chất lỏng ra khỏi hỗn hợp các chất có nhiệt độ sôi khác nhau nhằm thu được chất lỏng tinh khiết hơn.

Để tách các chất lỏng có nhiệt độ sôi khác nhau nhiều, người ta dùng phương pháp chưng cất thường (Hình 11.2).



Hình 11.2. Thiết bị, dụng cụ tách chất bằng phương pháp chưng cất thường



**Thí nghiệm:** Chưng cất ethanol từ dung dịch ethanol – nước

*Chuẩn bị:* rượu (được nấu thủ công); bình cầu có nhánh 250 mL, nhiệt kế, ống sinh hàn ngược, ống đong 50 mL, bình tam giác 100 mL, đá bọt, nguồn nhiệt (bếp điện, đèn cồn).

*Tiến hành:*

- Cho 60 mL rượu được nấu thủ công vào bình cầu có nhánh (chú ý chất lỏng trong bình không vượt quá 2/3 thể tích bình), thêm vài viên đá bọt.
- Lắp dụng cụ như Hình 11.2.
- Đun nóng từ từ đến khi hỗn hợp sôi, quan sát nhiệt độ trên nhiệt kế thấy tăng dần, khi nhiệt độ trên nhiệt kế ổn định, đó chính là nhiệt độ sôi của hỗn hợp ethanol và nước. Khi nhiệt độ bắt đầu tăng trở lại thì tắt nguồn nhiệt, ngưng chưng cất.

*Trả lời câu hỏi và thực hiện yêu cầu sau:*

1. Nhiệt độ sôi của hỗn hợp ethanol ban đầu và nước là bao nhiêu? So sánh với nhiệt độ sôi của ethanol.
2. Dự đoán độ cồn của sản phẩm thay đổi như thế nào so với rượu ban đầu. Giải thích.



1. Phương pháp chưng cất thường được áp dụng trong trường hợp nào? Hãy lấy ví dụ trong thực tế.



**EM CÓ BIẾT**

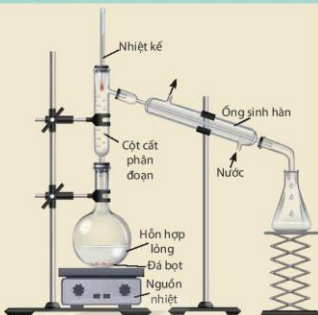
**Chung cất phân đoạn**

Phương pháp chung cất phân đoạn dùng để tách hai hay nhiều chất lỏng có nhiệt độ sôi khác nhau không nhiều và tan lẫn hoàn toàn trong nhau. Thiết bị, dụng cụ chung cất phân đoạn được bố trí như Hình 11.3.

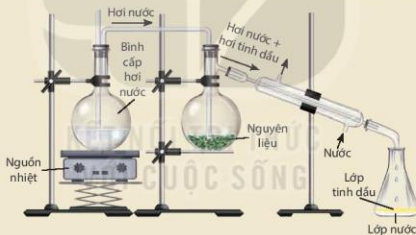
Khi đun nóng, chất có nhiệt độ sôi thấp hơn sẽ bay hơi ra trước rồi được ngưng tụ và thu lấy ở bình hứng.

**Chung cất lôi cuốn hơi nước**

Trong phương pháp chung cất lôi cuốn hơi nước, các chất có nhiệt độ sôi cao và không tan trong nước vẫn có thể tách ra khỏi hỗn hợp ở nhiệt độ sôi xấp xỉ nhiệt độ sôi của nước. Thiết bị chung cất lôi cuốn hơi nước được bố trí như Hình 11.4. Hỗn hợp hơi nước và hơi chất hữu cơ cùng đi qua ống sinh hàn ngưng tụ và được thu ở bình hứng.



Hình 11.3. Thiết bị, dụng cụ tách chất bằng phương pháp chung cất phân đoạn



Hình 11.4. Thiết bị, dụng cụ chung cất lôi cuốn hơi nước

**II PHƯƠNG PHÁP CHIẾT**

**1. Nguyên tắc**

Chiết là phương pháp tách biệt và tinh chế hỗn hợp các chất dựa vào sự hoà tan khác nhau của chúng trong hai môi trường không trộn lẫn vào nhau.

**2. Cách tiến hành**

- **Chiết lỏng – lỏng:** thường dùng để tách các chất hữu cơ hoà tan trong nước. Dùng một dung môi có khả năng hoà tan chất cần chiết, không trộn lẫn với dung môi ban đầu và có nhiệt độ sôi thấp để chiết. Sau khi lắc dung môi chiết với hỗn hợp chất

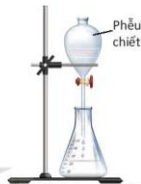
hữu cơ và nước, chất hữu cơ được chuyển phần lớn sang dung môi chiết và có thể dùng phễu chiết để tách riêng dịch chiết (dung dịch chứa chất cần chiết) khỏi nước. Khi hai chất lỏng không trộn lẫn được vào nhau, chất lỏng nào có khối lượng riêng nhỏ hơn sẽ tách thành lớp ở phía trên. Bằng cách lặp lại nhiều lần như trên, ta có thể tách được gần như hoàn toàn chất hữu cơ vào dung môi chiết. Sau đó, chưng cất dung môi ở nhiệt độ và áp suất thích hợp sẽ thu được chất hữu cơ.

- **Chiết lỏng – rắn:** dùng dung môi lỏng hoà tan chất hữu cơ để tách chúng ra khỏi hỗn hợp rắn.

### 3. Ứng dụng

Phương pháp chiết lỏng – lỏng dùng để tách lấy chất hữu cơ khi nó ở dạng nhũ tương hoặc huyền phù trong nước.

Áp dụng phương pháp chiết lỏng – rắn để tách lấy chất hữu cơ ra khỏi một hỗn hợp ở thể rắn, thường được áp dụng để ngâm rượu thuốc, phân tích thổ nhưỡng, phân tích dư lượng thuốc bảo vệ thực vật trong nông sản,....



Hình 11.5. Dụng cụ chiết



#### Tách $\beta$ -carotene từ nước ép cà rốt

Chuẩn bị: nước ép cà rốt, hexane; cốc thủy tinh 100 mL, bình tam giác 100 mL, phễu chiết 60 mL, giá thí nghiệm.

**Thực hành:**

- Cho khoảng 20 mL nước ép cà rốt vào phễu chiết. Thêm tiếp khoảng 20 mL hexane, lắc đều khoảng 2 phút.
- Để yên phễu chiết trên giá thí nghiệm khoảng 5 phút để chất lỏng tách thành hai lớp.
- Mở khoá phễu chiết cho phần nước ở dưới chảy xuống, còn lại phần dung dịch  $\beta$ -carotene hoà tan trong hexane.

**Trả lời câu hỏi:**

1. Nhận xét màu sắc của lớp hexane trong phễu chiết trước và sau khi chiết.
2. Thí nghiệm tách  $\beta$ -carotene từ nước cà rốt dựa theo nguyên tắc nào?

## EM CÓ BIẾT

### Phương pháp ngâm chiết

**Ngâm lạnh** là cách hay dùng nhất, áp dụng với đa số dược liệu. Cho dược liệu vào trong lọ, bình hoặc hũ, đổ một lượng rượu phù hợp rồi bịt kín kín lại, đặt ở nơi tối, mát. Ngâm từ 10 đến 15 ngày. Mùa đông có thể ngâm lâu hơn.

**Ngâm nóng** thường áp dụng cho các dược liệu có cấu tạo rắn chắc, khó chiết xuất và có khả năng chịu nhiệt. Trước hết, người ta cho dược liệu và rượu vào dụng cụ thích hợp, đậy kín, đun cách thủy cho đến khi sôi rồi đổ ngay sang bình ngâm. Đậy kín và tiếp tục ngâm trong 7 – 10 ngày như ngâm lạnh.



Hình 11.6. Thảo dược được ngâm chiết trong rượu



2. Tìm các ví dụ trong thực tế cuộc sống đã áp dụng phương pháp chiết. Mô tả cách thực hiện và cho biết em đã áp dụng phương pháp chiết lỏng – lỏng hay lỏng – rắn.



## PHƯƠNG PHÁP KẾT TINH

### 1. Nguyên tắc

*Kết tinh* là phương pháp tách biệt và tinh chế hỗn hợp các chất rắn dựa vào độ tan khác nhau và sự thay đổi độ tan của chúng theo nhiệt độ.

### 2. Cách tiến hành

- Hoà tan chất rắn lẫn tạp chất vào dung môi để tạo dung dịch bão hoà ở nhiệt độ cao. Dung môi thường dùng là nước, ethanol, acetone, ether, ethyl acetate,... hoặc đôi khi là hỗn hợp của chúng. Dung môi cần hoà tan tốt chất cần tinh chế ở nhiệt độ cao và hoà tan kém hơn chất cần tinh chế ở nhiệt độ thấp (Hình 11.7a).
- Lọc nóng loại bỏ chất không tan (Hình 11.7b).
- Để nguội và làm lạnh dung dịch thu được, chất cần tinh chế sẽ kết tinh (Hình 11.7c).
- Lọc để thu được chất rắn (Hình 11.7d).



Hình 11.7. Các bước tiến hành trong phương pháp kết tinh

Thực hiện kết tinh lại nhiều lần trong cùng một dung môi hoặc trong các dung môi khác nhau sẽ thu được tinh thể chất cần tinh chế.

### 3. Ứng dụng

Phương pháp kết tinh được dùng để tách và tinh chế các chất rắn.



#### Tinh chế đường đỏ thành đường trắng

Đường được làm từ mật mía và chưa qua tinh luyện thường được gọi là đường đỏ (hoặc đường vàng). Trong đường đỏ có các chất màu và tạp chất. Để tinh luyện đường đỏ thành đường trắng, người ta làm như sau:

- Hoà tan đường đỏ vào nước nóng, thêm than hoạt tính để khử màu, khuấy, lọc để thu được dung dịch trong suốt không màu.
- Có bột nước, để nguội thu được đường trắng ở dạng tinh thể.

*Hãy cho biết trong hai loại đường đỏ và đường trắng, đường nào tinh khiết hơn.*

## IV SẮC KÍ CỘT

### 1. Nguyên tắc

Sắc kí cột là phương pháp tách biệt và tinh chế hỗn hợp các chất dựa vào sự phân bố khác nhau của chúng giữa hai pha động và pha tĩnh.

Pha động là dung môi và dung dịch mẫu chất cần tách di chuyển qua cột. Pha tĩnh là một chất rắn có diện tích bề mặt rất lớn, có khả năng hấp phụ khác nhau các chất trong hỗn hợp cần tách, ví dụ: silica gel, aluminium oxide,.... Khi dung môi chạy qua cột, các chất hữu cơ được tách ra ở từng phân đoạn.

### 2. Cách tiến hành

- Sử dụng các cột thủy tinh có chứa các chất hấp phụ dạng bột (pha tĩnh), thường là aluminium oxide, silica gel,...
- Cho hỗn hợp cần tách lên cột sắc kí.
- Cho dung môi thích hợp chảy liên tục qua cột sắc kí. Thu các chất hữu cơ được tách ra ở từng phân đoạn khác nhau sau khi đi ra khỏi cột sắc kí.
- Loại bỏ dung môi để thu được chất cần tách.

### 3. Ứng dụng

Phương pháp sắc kí cột thường dùng để tách các chất hữu cơ có hàm lượng nhỏ và khó tách ra khỏi nhau.



**Hình 11.8.** Thiết bị, dụng cụ thực hiện tách chất bằng phương pháp sắc kí cột



3. Hãy cho biết bản chất của các cách làm sau đây thuộc loại phương pháp tách biệt và tinh chế nào?
- Giã lá cây chàm, cho vào nước, lọc lấy dung dịch màu để nhuộm sợi, vải.
  - Nấu rượu uống.
  - Ngâm rượu thuốc.
  - Làm đường cát, đường phèn từ nước mía.

#### EM ĐÃ HỌC

- Chưng cất** là phương pháp dựa vào sự khác nhau về nhiệt độ sôi của các chất trong hỗn hợp ở một áp suất nhất định.
- Chiết** là phương pháp tách biệt và tinh chế hỗn hợp các chất dựa vào sự hoà tan khác nhau của chúng trong hai dung môi không trộn lẫn vào nhau.
- Kết tinh** là phương pháp được dùng để tách và tinh chế các chất rắn dựa trên nguyên tắc:
  - Các chất khác nhau có độ hoà tan khác nhau trong cùng một dung môi.
  - Độ tan của chất cần tách giảm nhanh khi giảm nhiệt độ.
- Sắc kí cột** là phương pháp tách biệt và tinh chế hỗn hợp các chất dựa vào sự phân bố khác nhau của chúng giữa pha động và pha tĩnh.

#### EM CÓ THỂ

- Tách được tinh dầu vỏ quả bưởi, cam, chanh,... bằng phương pháp chưng cất và chiết.
- Tinh chế một số chất thông dụng trong đời sống (như đường mía) bằng phương pháp kết tinh.

BÀI  
12

# CÔNG THỨC PHÂN TỬ HỢP CHẤT HỮU CƠ

## MỤC TIÊU

- Nêu được khái niệm về công thức phân tử hợp chất hữu cơ.
- Sử dụng được kết quả phổ khối lượng (MS) để xác định phân tử khối của hợp chất hữu cơ.
- Lập được công thức phân tử hợp chất hữu cơ từ dữ liệu phân tích nguyên tố và phân tử khối.



Làm thế nào để lập công thức phân tử hợp chất hữu cơ từ dữ liệu phân tích nguyên tố và phân tử khối.

## 1 CÔNG THỨC PHÂN TỬ

### 1. Khái niệm

Công thức phân tử cho biết thành phần nguyên tố và số lượng nguyên tử của mỗi nguyên tố trong phân tử.

Ví dụ: Khí butane và propane là khí hoá lỏng được nén trong bình gas, được các gia đình sử dụng để đun, nấu có công thức phân tử là  $C_4H_{10}$  và  $C_3H_8$ .



Hãy viết công thức phân tử của các hợp chất hữu cơ có mô hình cho dưới đây:



methane



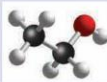
ethane



ethylene



ethyl chloride



ethanol

Cho biết trong mô hình:

- nguyên tử carbon
- nguyên tử oxygen

- nguyên tử hydrogen
- nguyên tử chlorine

### 2. Cách biểu diễn công thức phân tử hợp chất hữu cơ

a) Công thức tổng quát: cho biết các nguyên tố có trong phân tử hợp chất hữu cơ.

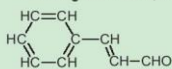
Ví dụ:  $C_xH_yO_z$  (x, y, z là các số nguyên dương) cho biết phân tử chất hữu cơ đã cho chứa ba nguyên tố C, H và O.

b) Công thức đơn giản nhất: cho biết tỉ lệ số nguyên tử của các nguyên tố có trong phân tử hợp chất hữu cơ (tỉ lệ các số nguyên tối giản).

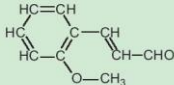
Ví dụ: Hợp chất có công thức phân tử là  $C_2H_4O_2$  thì công thức đơn giản nhất là  $CH_2O$ .



1. Khi nghiên cứu thành phần hoá học của tinh dầu quế, người ta thu được nhiều hợp chất hữu cơ trong đó có cinnamaldehyde và *o*-methoxycinnamaldehyde với công thức cấu tạo:



cinnamaldehyde



*o*-methoxycinnamaldehyde

Hãy viết công thức phân tử và công thức đơn giản nhất của các hợp chất này.

2. Viết công thức đơn giản nhất của các hợp chất hữu cơ có công thức phân tử sau:
- a)  $C_3H_8$ ;                      b)  $C_3H_6O_2$ ;  
c)  $C_4H_{10}O$ ;                    d)  $C_4H_6O_2$ .



**EM CÓ BIẾT**

**Chất hữu cơ đầu tiên được tổng hợp như thế nào?**

Năm 1828, Friedrich Wöhler (Phi-đrich Vô-lơ) (1800 – 1882), nhà hoá học người Đức, lần đầu tiên đã thực hiện thành công thí nghiệm tổng hợp chất hữu cơ urea (chất có trong nước tiểu) từ các chất không có trong cơ thể sống là potassium cyanide và ammonium sulfate. Điều này đã bác bỏ học thuyết cho rằng, các chất có trong cơ thể sinh vật về cơ bản, khác hẳn với các hoá chất không có nguồn gốc sinh vật, mở đầu cho sự phát triển của chuyên ngành hoá học hữu cơ.



**LẬP CÔNG THỨC PHÂN TỬ HỢP CHẤT HỮU CƠ**

1. Xác định phân tử khối bằng phương pháp phổ khối lượng

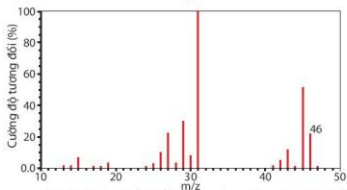
Phương pháp phổ khối lượng được sử dụng để xác định khối lượng phân tử các hợp chất hữu cơ.

Trong máy khối phổ, chất nghiên cứu bị bắn phá bởi một dòng electron tạo ra các mảnh ion. Ví dụ:  $M \xrightarrow[10^{-100\text{ eV}}]{+e} M^+ + e$

Mảnh ion  $[M^+]$  được gọi là mảnh ion phân tử. Giá trị  $m/z$  của mỗi mảnh ion và hàm lượng của chúng được thể hiện trên phổ khối lượng.

Đối với các hợp chất đơn giản, thường mảnh có giá trị  $m/z$  lớn nhất ứng với mảnh ion phân tử  $[M^+]$  và giá trị này bằng giá trị phân tử khối của chất nghiên cứu.

Ví dụ: Phổ khối lượng của ethanol có peak (pic) ion phân tử  $[C_2H_5O^+]$  có giá trị  $m/z = 46$ , đúng bằng phân tử khối của chất (Hình 12.1).

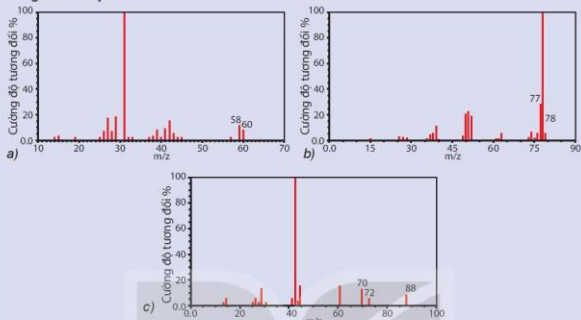


(1) Nguồn: <http://webbook.nist.gov/chemistry>.

Hình 12.1. Phổ khối lượng của ethanol (C<sub>2</sub>H<sub>6</sub>O)<sup>(1)</sup>



Hãy gán các chất hữu cơ sau:  $C_6H_6$ ,  $C_3H_8O$ ,  $C_4H_8O_2$  vào các phổ khối lượng tương ứng dưới đây.



Hình 12.2. Phổ khối lượng của một số hợp chất hữu cơ<sup>(1)</sup>

## EM CÓ BIẾT

### Phổ khối lượng ra đời như thế nào?

Phương pháp phổ khối lượng (Mass Spectrometry) được bắt đầu nghiên cứu từ cuối thế kỉ XIX. Năm 1886, Goldstein (Gôt-xtên) đã chỉ ra rằng một chùm tia ion dương có thể tách biệt ra khỏi nhau dưới tác dụng của một điện trường và từ trường. Năm 1930, Conrad (Con-rát) đã đưa ra thông báo đầu tiên về nghiên cứu phổ khối lượng các hợp chất hữu cơ.



Hình 12.3. Máy đo phổ khối lượng

## 2. Lập công thức phân tử hợp chất hữu cơ

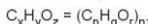
Một hợp chất hữu cơ có công thức phân tử là  $C_xH_yO_z$ . Thiết lập công thức đơn giản nhất bằng cách lập tỉ lệ  $x : y : z$  ở dạng số nguyên tối giản  $p : q : r$ .

Phân tích định lượng, ta được tỉ lệ phần trăm các nguyên tố trong phân tử.

$$x : y : z = \frac{\%m_C}{12,0} : \frac{\%m_H}{1,0} : \frac{\%m_O}{16,0} = p : q : r$$

Từ đó thiết lập được công thức đơn giản nhất:  $C_pH_qO_r$ .

Mối quan hệ giữa công thức phân tử và công thức đơn giản nhất:



Trong đó:  $p, q, r$  là các số nguyên tối giản;  $x, y, z, n$  là số nguyên dương.

Khi biết phân tử khối, xác định được giá trị  $n$ , từ đó suy ra công thức phân tử.

<sup>(1)</sup> Nguồn: <http://webbook.nits.gov/chemistry>.



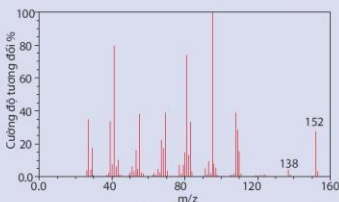


Camphor (có trong cây long não) là một chất rắn kết tinh màu trắng hay trong suốt giống như sáp với mùi thơm đặc trưng, thường dùng trong y học. Phần trăm khối lượng các nguyên tố trong camphor lần lượt là 78,94% carbon, 10,53% hydrogen

và 10,53% oxygen. Từ phổ khối lượng của camphor xác định được giá trị  $m/z$  của peak  $[M^+]$  bằng 152.

Hãy lập công thức phân tử của camphor theo các bước:

- Lập công thức đơn giản nhất của camphor.
- Xác định phân tử khối.
- Xác định công thức phân tử của camphor.



Hình 12.4. Phổ khối lượng của camphor<sup>(1)</sup>



3. Eugenol là thành phần chính trong tinh dầu đinh hương hoặc tinh dầu hương nhu. Chất này được sử dụng làm chất diệt nấm, dẫn dụ côn trùng. Phân tích phần trăm khối lượng các nguyên tố cho thấy, eugenol có 73,17% carbon; 7,31% hydrogen, còn lại là oxygen. Lập công thức phân tử của eugenol, biết rằng kết quả phân tích phổ khối lượng cho thấy phân tử khối của eugenol là 164.

#### EM ĐÃ HỌC

- Công thức phân tử cho biết số lượng nguyên tử của mỗi nguyên tố trong phân tử.
- Công thức tổng quát cho biết thành phần định tính các nguyên tố.
- Công thức đơn giản nhất cho biết tỉ lệ số nguyên tử của các nguyên tố có trong phân tử (tỉ lệ theo các số nguyên tố giản).
- **Phổ khối lượng:** được sử dụng để xác định phân tử khối của hợp chất hữu cơ.
- **Lập công thức phân tử hợp chất hữu cơ ( $C_xH_yO_z$ ):**

Công thức đơn giản nhất ( $C_pH_qO_r$ ):

$$C_xH_yO_z = (C_pH_qO_r)_n$$

(p, q, r là các số nguyên tố giản; x, y, z, n là các số nguyên dương).

#### EM CÓ THỂ

Xác định được công thức phân tử hợp chất hữu cơ dựa vào kết quả phân tích nguyên tố và phổ khối lượng.

<sup>(1)</sup> Nguồn: <http://webbook.nist.gov/chemistry>.

BÀI  
13

# CẤU TẠO HOÁ HỌC HỢP CHẤT HỮU CƠ

## MỤC TIÊU

- Trình bày được nội dung thuyết cấu tạo hoá học trong hoá học hữu cơ.
- Giải thích được hiện tượng đồng phân trong hoá học hữu cơ.
- Nêu được khái niệm chất đồng đẳng và dãy đồng đẳng.
- Viết được công thức cấu tạo của một số hợp chất hữu cơ đơn giản (công thức cấu tạo đầy đủ, công thức cấu tạo thu gọn).
- Nêu được chất đồng đẳng, chất đồng phân dựa vào công thức cấu tạo cụ thể của các hợp chất hữu cơ.



Tại sao số lượng các chất hữu cơ lớn hơn rất nhiều các chất vô cơ?

## 1 THUYẾT CẤU TẠO HOÁ HỌC

Năm 1861, Butlerov (Bút-lê-rốp) đưa ra khái niệm cấu tạo hoá học và thuyết cấu tạo hoá học bao gồm những luận điểm chính sau:

1. Trong phân tử chất hữu cơ, các nguyên tử liên kết với nhau theo đúng hoá trị và theo một thứ tự nhất định. Thứ tự liên kết đó được gọi là cấu tạo hoá học. Sự thay đổi thứ tự liên kết đó sẽ tạo ra chất khác.

*Ví dụ:* Ethanol và dimethyl ether đều có công thức phân tử  $C_2H_6O$  nhưng có tính chất vật lí và tính chất hoá học rất khác nhau do chúng có cấu tạo khác nhau.




Ethanol	Dimethyl ether
$CH_3-CH_2-OH$	$CH_3-O-CH_3$
Nhiệt độ sôi: $78,3^\circ C$	Nhiệt độ sôi: $-24,9^\circ C$
Tan vô hạn trong nước	Ít tan trong nước
Tác dụng với sodium tạo khí hydrogen	Không tác dụng với sodium

2. Trong phân tử chất hữu cơ, carbon có hoá trị IV. Các nguyên tử carbon không những liên kết với nguyên tử của các nguyên tố khác mà còn có thể liên kết trực tiếp với nhau tạo thành mạch carbon (mạch hở không phân nhánh, mạch hở phân nhánh hoặc mạch vòng). *Ví dụ:*

$CH_3-CH_2-CH_2-CH_2-CH_3$	$CH_3-CH_2-\overset{\text{CH}_3}{\underset{ }{\text{C}}}-CH_3$	$CH_3-\overset{\text{CH}_3}{\underset{\text{CH}_3}{\text{C}}}-CH_3$	
Mạch hở không phân nhánh	Mạch hở phân nhánh		Mạch vòng

3. Tính chất của các chất phụ thuộc vào thành phần phân tử (bản chất và số lượng các nguyên tử) và cấu tạo hoá học. Các nguyên tử trong phân tử có ảnh hưởng qua lại lẫn nhau.

Ví dụ:

	Hợp chất hữu cơ	Nhiệt độ sôi (°C) <sup>(1)</sup>	Tính chất/ứng dụng
Khác nhau về loại nguyên tử	CH <sub>4</sub>	-161,5	Không tan trong nước
	CH <sub>3</sub> OH	64,7	Tan vô hạn trong nước
Khác nhau về số lượng nguyên tử	C <sub>3</sub> H <sub>8</sub>	-42,1	Dùng làm nhiên liệu (gas)
	C <sub>20</sub> H <sub>42</sub>	343	Dùng làm nến (sáp)
Cùng công thức phân tử, khác cấu tạo hoá học	CH <sub>3</sub> -CH=CH <sub>2</sub>	-47,8	Dùng chế tạo nhựa polypropylene
		-32,8	Dùng làm chất gây mê qua đường hô hấp
Ảnh hưởng qua lại của các nhóm nguyên tử		181,7	Tác dụng với dung dịch NaOH và nước bromine
		161,8	Không tác dụng với dung dịch NaOH và nước bromine

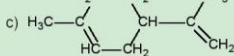
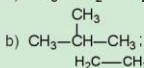
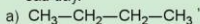
Thuyết cấu tạo hoá học giúp giải thích được hiện tượng đồng phân, hiện tượng đồng đẳng trong hoá học hữu cơ.



1. Viết công thức cấu tạo các hợp chất hữu cơ có cùng công thức phân tử sau:



2. Hãy cho biết có loại mạch carbon nào trong công thức cấu tạo của các chất sau đây.



<sup>(1)</sup> Nguồn: pubchem.ncbi.nlm.nih.gov.

## ĐEM CÓ BIẾT

### Tác giả của thuyết cấu tạo hoá học

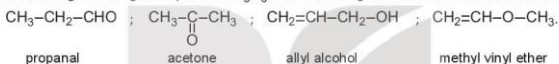
Aleksander Butlerov (A-lếch-xan-đơ Bút-lê-rốp) (1828 – 1886) là nhà hoá học hữu cơ người Nga, viện sĩ Viện Hàn lâm Khoa học Saint Petersburg (Xanh Pê-téc-bua). Ông là người sáng lập ra trường phái đầu tiên và cũng là lớn nhất của hoá học hữu cơ ở Nga. Ông đã xây dựng và chứng minh thuyết cấu tạo hoá học kinh điển của các hợp chất hữu cơ (1861). Công trình nghiên cứu của Butlerov đã chỉ ra định hướng phát triển trọng yếu của hoá học hữu cơ thế kỉ XIX – XX. Ông là người đầu tiên giải thích hiện tượng đồng phân (1864), phát hiện phản ứng trùng hợp isobutylene và dự đoán ứng dụng của phản ứng trùng hợp này trong tương lai.

## II CÔNG THỨC CẤU TẠO

### 1. Khái niệm

Công thức biểu diễn cách liên kết và thứ tự liên kết giữa các nguyên tử trong phân tử được gọi là công thức cấu tạo.

Ví dụ: Ứng với công thức phân tử  $C_3H_6O$  có bốn công thức cấu tạo mạch hở như sau:



### 2. Cách biểu diễn cấu tạo phân tử hợp chất hữu cơ

Công thức cấu tạo đầy đủ	Công thức cấu tạo thu gọn	
	Dạng 1: Các nguyên tử, nhóm nguyên tử cùng liên kết với một nguyên tử carbon được viết thành một nhóm	Dạng 2: Chỉ biểu diễn liên kết giữa các nguyên tử carbon với nhóm chức, mỗi đầu đoạn thẳng hoặc điểm gấp khúc ứng với 1 nguyên tử carbon (không biểu thị số nguyên tử hydrogen liên kết với mỗi nguyên tử carbon)
$\begin{array}{cccc} \text{H} & \text{H} & \text{H} & \text{H} \\   &   &   &   \\ \text{H}-\text{C}-\text{C}-\text{C}-\text{C}-\text{H} \\   &   &   &   \\ \text{H} & \text{H} & \text{H} & \text{H} \end{array}$	$\text{CH}_3\text{-CH}_2\text{-CH}_2\text{-CH}_3$	
$\begin{array}{cccc} \text{H} & \text{H} & \text{H} & \text{H} \\   &   &   &   \\ \text{H}-\text{C}-\text{C}-\text{C}-\text{C}-\text{H} \\   &   &   &   \\ \text{H} & \text{H} & \text{H} & \text{H} \\ & & \text{H} & \\ & &   & \\ & & \text{H} & \end{array}$	$\text{CH}_3\text{-}\underset{\text{CH}_3}{\text{CH}}\text{-CH}_2\text{-CH}_3$	
$\begin{array}{cccc} \text{H} & & & \text{H} \\   & & &   \\ \text{H}-\text{C}=\text{C}=\text{C}-\text{C}-\text{H} \\   &   &   &   \\ \text{H} & \text{H} & \text{H} & \text{H} \end{array}$	$\text{CH}_3\text{-CH=CH-CH}_3$	
$\begin{array}{cccc} \text{H} & \text{H} & \text{H} & \\   &   &   & \\ \text{H}-\text{C}-\text{C}-\text{C}-\text{H} \\   &   &   & \\ \text{H} & \text{O} & \text{H} & \\ &   & & \\ & \text{H} & & \end{array}$	$\text{CH}_3\text{-}\underset{\text{OH}}{\text{CH}}\text{-CH}_3$	



3. Viết công thức cấu tạo dạng thu gọn có thể có của các hợp chất hữu cơ ứng với công thức phân tử  $C_4H_{10}O$ .



### ĐỒNG PHẦN



a) Pinene (có trong nhựa thông)

b) Ocimene (có trong lá húng quế)



c) Myrcene (có trong lá húng quế, cỏ xạ hương, quả xoài)

**Hình 13.1.** Ba hợp chất có cùng công thức phân tử  $C_{10}H_{16}$

Ba hợp chất pinene, ocimene, myrcene có tính chất khác nhau nhưng lại có cùng công thức phân tử là  $C_{10}H_{16}$ , nên chúng là những chất đồng phân của nhau.

Những hợp chất hữu cơ khác nhau nhưng có cùng công thức phân tử được gọi là các chất đồng phân của nhau.

Các chất này có cùng công thức phân tử nhưng có tính chất khác nhau là do chúng có cấu tạo hoá học khác nhau.

Ứng với một công thức phân tử có thể có các đồng phân cấu tạo về mạch carbon, loại nhóm chức, vị trí nhóm chức.

Ví dụ:

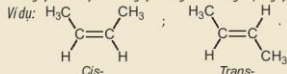
Đồng phân mạch carbon	$CH_3-CH_2-CH_2-CH_2-CH_3$	$CH_3-CH_2-\overset{\overset{CH_3}{ }}{CH}-CH_3$
Đồng phân loại nhóm chức	$CH_3-CH_2-CH_2-OH$	$CH_3-O-CH_2-CH_3$
Đồng phân vị trí nhóm chức	$CH_3-CH_2-CH_2-OH$	$CH_3-\underset{\underset{OH}{ }}{CH}-CH_3$

## EM CÓ BIẾT

Ngoài đồng phân cấu tạo, các hợp chất hữu cơ còn có **đồng phân hình học** và **đồng phân quang học**. Các loại đồng phân này có cấu tạo giống nhau, chỉ khác nhau vị trí không gian của nguyên tử, nhóm nguyên tử trong phân tử.

**Đồng phân hình học** xuất hiện khi:

- Phân tử có bộ phận cứng nhắc (nối đôi) làm cản trở sự quay tự do của các nguyên tử liền kết trực tiếp với carbon có nối đôi.
- Hai nguyên tử hay nhóm nguyên tử gắn với cùng một nguyên tử carbon có nối đôi phải khác nhau.



4. Viết các công thức cấu tạo của hợp chất có công thức phân tử  $\text{C}_5\text{H}_{12}$ .
5. Cặp chất nào sau đây là đồng phân của nhau?
  - A.  $\text{C}_2\text{H}_5\text{OH}$  và  $\text{CH}_3\text{O}-\text{C}_2\text{H}_5$ .
  - B.  $\text{CH}_3\text{O}-\text{CH}_3$  và  $\text{CH}_3\text{CHO}$ .
  - C.  $\text{CH}_3-\text{CH}_2-\text{CH}_2-\text{OH}$  và  $\text{CH}_3-\text{CH}(\text{OH})-\text{CH}_3$ .
  - D.  $\text{CH}_3-\text{CH}_2-\text{CH}_2-\text{CH}_3$  và  $\text{CH}_3-\text{CH}_2-\text{CH}=\text{CH}_2$ .



## IV ĐỒNG ĐẲNG



### Tim hiểu về đồng đẳng

Trong quá trình chế biến dầu mỏ, người ta thu được nhiều khí như  $\text{C}_2\text{H}_4$ ,  $\text{C}_3\text{H}_6$ ,  $\text{C}_4\text{H}_8$ ,...

Công thức phân tử	Công thức cấu tạo	Nhiệt độ sôi (°C) <sup>(1)</sup>	Phản ứng đặc trưng
$\text{C}_2\text{H}_4$	$\text{CH}_2=\text{CH}_2$	-103,7	Làm mất màu dung dịch nước bromine
$\text{C}_3\text{H}_6$	$\text{CH}_2=\text{CH}-\text{CH}_3$	-47,6	
$\text{C}_4\text{H}_8$	$\text{CH}_2=\text{CH}-\text{CH}_2-\text{CH}_3$	-6,5	

Trả lời câu hỏi:

1. So sánh thành phần phân tử và đặc điểm cấu tạo của ba hợp chất trên.
2. Theo em, tại sao các hợp chất trên đều có cùng tính chất hoá học đặc trưng là làm mất màu dung dịch bromine?

*Các chất hữu cơ có tính chất hoá học tương tự nhau và thành phần phân tử hơn kém nhau một hay nhiều nhóm  $\text{CH}_2$  được gọi là các chất đồng đẳng của nhau, chúng hợp thành một dãy đồng đẳng.*

<sup>(1)</sup> Nguồn: pubchem.ncbi.nlm.nih.gov.

Ví dụ:

Dãy đồng đẳng	Công thức chung	Một số hợp chất tiêu biểu
Alkane	$C_nH_{2n+2}$ ( $n \geq 1$ )	$CH_4, C_2H_6, C_3H_8, \dots$
Alcohol no, đơn chức, mạch hở	$C_nH_{2n+2}O$ ( $n \geq 1$ )	$CH_3OH, C_2H_5OH, C_3H_7OH, \dots$
Aldehyde no, đơn chức, mạch hở	$C_nH_{2n}O$ ( $n \geq 1$ )	$HCHO, CH_3CHO, C_2H_5CHO, \dots$



6. Viết công thức phân tử của các chất có từ 3 đến 5 nguyên tử carbon trong phân tử trong dãy đồng đẳng của acetylene ( $C_2H_2$ ).
7. Trong các dãy chất sau đây, dãy nào gồm các chất là đồng đẳng của nhau?
- A.  $CH_3-CH_2-OH$  và  $CH_3-CH_2-CH_2-OH$ .  
 B.  $CH_3-O-CH_3$  và  $CH_3-CH_2-OH$ .  
 C.  $CH_4, C_2H_6$  và  $C_4H_8$ .  
 D.  $CH_4$  và  $C_3H_6$ .

#### EM ĐÃ HỌC

- Các nguyên tử trong phân tử của mỗi hợp chất hữu cơ có một thứ tự liên kết xác định gọi là cấu tạo hoá học. Công thức biểu diễn cấu tạo hoá học gọi là công thức cấu tạo.
- Những hợp chất hữu cơ khác nhau nhưng có cùng công thức phân tử được gọi là các chất đồng phân của nhau. Có các đồng phân cấu tạo về mạch carbon, loại nhóm chức, vị trí nhóm chức.
- Các chất hữu cơ có tính chất hoá học tương tự nhau và thành phần phân tử hơn kém nhau một hay nhiều nhóm  $CH_2$  được gọi là các chất đồng đẳng của nhau, chúng hợp thành một dãy đồng đẳng.

#### EM CÓ THỂ

Vận dụng thuyết cấu tạo hoá học để viết được công thức cấu tạo của một số hợp chất hữu cơ đơn giản, thường gặp trong cuộc sống.



HỆ THỐNG HOÁ KIẾN THỨC

Hợp chất hữu cơ

Hydrocarbon

Dẫn xuất của hydrocarbon

PHƯƠNG PHÁP TÁCH VÀ TÍNH CHẾ HỢP CHẤT HỮU CƠ

	Chưng cất	Chiết	Kết tinh	Sắc kí cột
Nguyên tắc	Chưng cất là phương pháp tách chất dựa vào sự khác nhau về nhiệt độ sôi của các chất trong hỗn hợp ở một áp suất nhất định.	Chiết là phương pháp dùng tách biệt và tinh chế hỗn hợp các chất dựa vào sự hoà tan khác nhau của chúng trong hai dung môi không trộn lẫn vào nhau.	Kết tinh là phương pháp tách biệt và tinh chế hỗn hợp các chất rắn dựa vào độ tan khác nhau và sự thay đổi độ tan của chúng theo nhiệt độ.	Sắc kí cột là phương pháp tách biệt và tinh chế hỗn hợp các chất dựa vào sự phân bố khác nhau của chúng giữa pha động và pha tĩnh.
Cách tiến hành	Khi nâng nhiệt độ của hỗn hợp gồm nhiều chất lỏng có nhiệt độ sôi khác nhau, thì chất nào có nhiệt độ sôi thấp hơn sẽ bay ra trước. Dùng sinh hàn lạnh sẽ thu được chất lỏng.	Dùng một dung môi thích hợp để chuyển chất cần tách sang pha lỏng (gọi là dịch chiết). Tách lấy dịch chiết, giải phóng dung môi sẽ thu được chất cần tách.	Dùng một dung môi thích hợp hoà tan chất cần tinh chế ở nhiệt độ cao tạo dung dịch bão hoà. Sau đó làm lạnh, chất rắn sẽ kết tinh, lọc, thu được sản phẩm.	Cho hỗn hợp cần tách lên cột sắc kí, sau đó cho dung môi thích hợp chảy liên tục qua cột sắc kí. Thu các chất hữu cơ được tách ra ở từng phân đoạn khác nhau sau khi đi ra khỏi cột sắc kí. Loại bỏ dung môi để thu được chất cần tách.
Vận dụng	Chưng cất thường: để tách các chất lỏng có nhiệt độ sôi khác nhau nhiều.	Phương pháp chiết lỏng – lỏng: để tách lấy chất hữu cơ khi nó ở dạng hỗn hợp lỏng. Phương pháp chiết lỏng – rắn: để tách lấy chất trong hỗn hợp rắn.	Phương pháp kết tinh: để tách và tinh chế các chất rắn.	Sử dụng phương pháp sắc kí có thể tách được hỗn hợp chứa nhiều chất khác nhau.



### CÔNG THỨC PHÂN TỬ HỢP CHẤT HỮU CƠ

Công thức tổng quát	Công thức đơn giản nhất
Cho biết các nguyên tố có trong hợp chất hữu cơ.	Cho biết: tỉ lệ tối giản của số nguyên tử các nguyên tố có trong phân tử.
$C_xH_yO_z$	$C_pH_qO_r$
$C_xH_yO_z = (C_pH_qO_r)_n$	
Trong đó: p, q, r là các số nguyên tối giản; x, y, z, n là các số nguyên dương.	

### CẤU TẠO PHÂN TỬ HỢP CHẤT HỮU CƠ

- Trong phân tử hợp chất hữu cơ, các nguyên tử liên kết với nhau theo đúng hoá trị và theo một thứ tự nhất định. Thứ tự liên kết đó được gọi là cấu tạo hoá học. Công thức biểu diễn cách liên kết và thứ tự liên kết giữa các nguyên tử trong phân tử gọi là công thức cấu tạo.
- Đồng phân cấu tạo gồm đồng phân mạch carbon, đồng phân nhóm chức và đồng phân vị trí nhóm chức.
- Đồng đẳng là những hợp chất có tính chất hoá học tương tự nhau nhưng có thành phần phân tử hơn kém nhau một hay nhiều nhóm  $CH_2$ .

## II LUYỆN TẬP

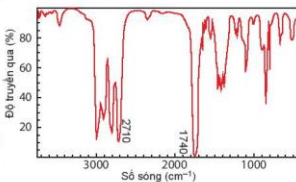
**Câu 1.** Viết công thức cấu tạo các đồng phân mạch hở có cùng công thức phân tử  $C_3H_6O$ .

**Câu 2.** Tại sao khi đun nóng đến nhiệt độ thích hợp, đường kính (màu trắng) chuyển thành màu nâu rồi màu đen?

**Câu 3.** Hợp chất hữu cơ A có chứa carbon, hydrogen, oxygen, nitrogen. Thành phần phần trăm khối lượng của nguyên tố carbon, hydrogen, nitrogen lần lượt là 34,29%, 6,67%, 13,33%. Công thức phân tử của A cũng là công thức đơn giản nhất. Xác định công thức phân tử của A.

**Câu 4.** Hợp chất A có công thức phân tử  $C_3H_6O$ . Khi đo phổ hồng ngoại cho kết quả như hình bên.

Hãy xác định công thức cấu tạo của A.



**Câu 5.** Retinol là vitamin A, có nguồn gốc động vật, có vai trò hỗ trợ thị giác của mắt còn vitamin C giúp tăng khả năng miễn dịch của cơ thể. Để xác định công thức phân tử của các hợp chất này, người ta đã tiến hành phân tích nguyên tố và đo phổ khối lượng. Kết quả khảo sát được trình bày trong bảng sau:

Hợp chất	% C	% H	% O	Giá trị m/z của peak ion phân tử [M <sup>+</sup> ]
Vitamin C	40,90	4,55	54,55	176
Vitamin A	83,92	10,49	5,59	286

Hãy lập công thức phân tử của vitamin A và vitamin C.

CHƯƠNG

4

HYDROCARBON

BÀI  
15

ALKANE

MỤC TIÊU

- Nêu được khái niệm về alkane, nguồn alkane trong tự nhiên, công thức chung của alkane.
- Trình bày được quy tắc gọi tên theo danh pháp thay thế; áp dụng gọi được tên cho một số alkane (C1 - C10) mạch không phân nhánh và một số alkane mạch nhánh chứa không quá 5 nguyên tử C.
- Trình bày được và giải thích được đặc điểm về tính chất vật lí của một số alkane.
- Trình bày được đặc điểm về liên kết hoá học trong phân tử alkane, hình dạng phân tử của methane, ethane; phản ứng thế, cracking, reforming, phản ứng oxi hoá hoàn toàn, phản ứng oxi hoá không hoàn toàn.
- Thực hiện được thí nghiệm: hexane với dung dịch thuốc tím, với nước bromine ở nhiệt độ thường và khi đun nóng (hoặc chiếu sáng), đốt cháy hexane; quan sát, mô tả các hiện tượng thí nghiệm và giải thích được tính chất hoá học của alkane.
- Trình bày được các ứng dụng của alkane trong thực tiễn và cách điều chế alkane trong công nghiệp.
- Trình bày được một trong các nguyên nhân gây ô nhiễm không khí là do các chất trong khí thải của các phương tiện giao thông; hiểu và thực hiện được một số biện pháp hạn chế ô nhiễm môi trường do các phương tiện giao thông gây ra.



Khí thiên nhiên, khí dầu mỏ, xăng, nhiên liệu phản lực (jet fuel) và dầu diesel có vai trò rất quan trọng trong mọi lĩnh vực của đời sống, kinh tế, công nghiệp. Vậy thành phần chính của các nhiên liệu này là gì? Ngoài ra, các alkane có phải là nguồn nguyên liệu quan trọng cho công nghiệp sản xuất các hoá chất hữu cơ hiện nay không?



KHÁI NIỆM, DANH PHÁP

1. Khái niệm và công thức chung của alkane

Alkane là các hydrocarbon no mạch hở chỉ chứa liên kết đơn (liên kết  $\sigma$ ) C-H và C-C trong phân tử.

Công thức chung của alkane:  $C_nH_{2n+2}$  (n là số nguyên,  $n \geq 1$ ).

Ví dụ:  $CH_4$ ,  $C_2H_6$ ,  $C_3H_8$ ,  $C_4H_{10}$ ,  $C_5H_{12}$ ,...

2. Danh pháp

a) Alkane không phân nhánh

Tên theo danh pháp thay thế của alkane mạch không phân nhánh:

Phân nền (chỉ số lượng nguyên tử carbon)	ane
---	-----

**Bảng 15.1. Tên thay thế của một số alkane mạch không phân nhánh**

Số nguyên tử carbon	Công thức alkane	Phần nền	Tên alkane
1	CH <sub>4</sub>	meth-	methane
2	CH <sub>3</sub> CH <sub>3</sub>	eth-	ethane
3	CH <sub>3</sub> CH <sub>2</sub> CH <sub>3</sub>	prop-	propane
4	CH <sub>3</sub> [CH <sub>2</sub> ] <sub>2</sub> CH <sub>3</sub>	but-	butane
5	CH <sub>3</sub> [CH <sub>2</sub> ] <sub>3</sub> CH <sub>3</sub>	pent-	pentane
6	CH <sub>3</sub> [CH <sub>2</sub> ] <sub>4</sub> CH <sub>3</sub>	hex-	hexane
7	CH <sub>3</sub> [CH <sub>2</sub> ] <sub>5</sub> CH <sub>3</sub>	hept-	heptane
8	CH <sub>3</sub> [CH <sub>2</sub> ] <sub>6</sub> CH <sub>3</sub>	oct-	octane
9	CH <sub>3</sub> [CH <sub>2</sub> ] <sub>7</sub> CH <sub>3</sub>	non-	nonane
10	CH <sub>3</sub> [CH <sub>2</sub> ] <sub>8</sub> CH <sub>3</sub>	dec-	decane

**b) Alkane mạch nhánh**

**Gốc alkyl:** Phần còn lại sau khi lấy đi một nguyên tử hydrogen từ phân tử alkane (công thức chung của gốc alkyl là C<sub>n</sub>H<sub>2n+1</sub>).

Tên gốc alkyl:

Phần nền (chỉ số lượng nguyên tử carbon) yl

Ví dụ: methyl (CH<sub>3</sub>-), ethyl (C<sub>2</sub>H<sub>5</sub>-), propyl (C<sub>3</sub>H<sub>7</sub>-),...

Alkane mạch nhánh gồm alkane mạch chính kết hợp với một hay nhiều nhánh.

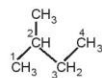
Tên theo danh pháp thay thế của alkane mạch phân nhánh:

Số chỉ vị trí mạch nhánh-tên nhánh tên alkane mạch chính

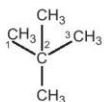
Lưu ý:

- Chọn mạch dài nhất, có nhiều nhánh nhất làm mạch chính.
- Đánh số nguyên tử carbon mạch chính sao cho mạch nhánh có số chỉ vị trí nhỏ nhất.
- Dùng chữ số (1, 2, 3, ...) và gạch nối (-) để chỉ vị trí nhánh, nhóm cuối cùng viết liền với tên mạch chính.
- Nếu có nhiều nhánh giống nhau: dùng các từ như di- (2), tri- (3), tetra- (4), ... để chỉ số lượng nhóm giống nhau; tên nhánh viết theo thứ tự bằng chữ cái.

Ví dụ:



2-methylbutane



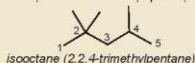
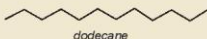
2,2-dimethylpropane (neopentane)

## EM CÓ BIẾT

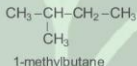
### Chỉ số octane của xăng

Để đo chất lượng xăng, người ta dùng *chỉ số octane*, là đại lượng đặc trưng cho tính chống kích nổ của nhiên liệu. Chỉ số octane càng cao thì khả năng chịu nén của nhiên liệu trước khi phát nổ (đốt cháy) càng lớn. Chỉ số octane dựa trên thang điểm mà isooctane là 100, còn heptane là 0. Ví dụ: xăng RON 95 là hỗn hợp các hydrocarbon có tính chống kích nổ tương đương với hỗn hợp 95% isooctane và 5% heptane về thể tích.

Alkane phân nhánh cao (ví dụ: isooctane) là thành phần quan trọng nhất trong xăng, còn các alkane không phân nhánh (ví dụ: dodecane) là thành phần quan trọng trong nhiên liệu diesel và nhiên liệu phản lực.



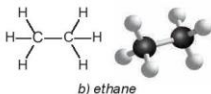
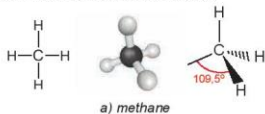
- Viết các công thức cấu tạo và gọi tên theo danh pháp thay thế của alkane có công thức phân tử  $C_9H_{20}$  và phân loại các đồng phân đó.
- Viết công thức cấu tạo của alkane có tên gọi 2-methylpropane.
- Tên gọi của chất sau đây bị sai, em hãy giải thích và sửa lại cho đúng:



## ĐẶC ĐIỂM CẤU TẠO

Trong phân tử alkane chỉ chứa các liên kết đơn C–C và C–H, các liên kết này là liên kết sigma bền vững và kém phân cực. Do vậy, phân tử alkane hầu như không phân cực và ở điều kiện thường chúng tương đối trơ về mặt hoá học.

Trong phân tử methane, bốn liên kết C–H giống nhau tạo với nhau một góc  $109,5^\circ$  và hướng về bốn đỉnh của một tứ diện đều (Hình 15.1a).



Hình 15.1. Công thức cấu tạo và mô hình phân tử của methane và ethane



## TÍNH CHẤT VẬT LÝ

**Bảng 15.2.** Tính chất vật lý của một số alkane <sup>(1)</sup>

Alkane	Nhiệt độ nóng chảy (°C)	Nhiệt độ sôi (°C)	Khối lượng riêng (g/cm <sup>3</sup> ) ở 20°C
methane	-182,5	-161,5	-
ethane	-183,3	-88,6	-
propane	-187,7	-42,1	0,501
butane	-138,3	-0,5	0,579
pentane	-129,7	36,1	0,626
hexane	-95,3	68,7	0,659
heptane	-90,6	98,4	0,684
octane	-56,8	125,7	0,703
nonane	-53,6	150,8	0,718
decane	-29,7	174,0	0,730

Ở điều kiện thường, alkane từ C1 đến C4 và neopentane ở trạng thái khí, từ C5 đến C17 (trừ neopentane) ở trạng thái lỏng, không màu, alkane từ C18 trở lên là chất rắn màu trắng (còn gọi là sáp paraffin). Các alkane mạch nhánh thường có nhiệt độ sôi thấp hơn so với đồng phân alkane mạch không phân nhánh. Alkane không tan hoặc tan rất ít trong nước và nhẹ hơn nước, tan tốt hơn trong các dung môi hữu cơ.

### VỚI EM CÓ BIẾT

#### Các alkane trong tự nhiên

- Các chất hoá học được đồng vận và còn trùng sử dụng để giao tiếp trong tự nhiên được gọi là pheromone. Ví dụ: alkane 18 nguyên tử carbon có tên gọi 2-methylheptadecane là một loại pheromone được hổ cái sử dụng để thu hút hổ đực.
- Lớp vỏ của các loại quả hoặc biểu bì của nhiều loại lá có chứa sáp. Thành phần của sáp thực vật này gồm các alkane dạng rắn, thường hay gặp là các alkane C<sub>27</sub>H<sub>56</sub>, C<sub>29</sub>H<sub>60</sub> và C<sub>31</sub>H<sub>64</sub>. Chức năng chính của sáp thực vật là ngăn chặn sự mất nước từ lá hoặc quả. Để bảo quản nhiều loại quả, trái cây, người ta phủ lên vỏ một lớp sáp mỏng nhằm mục đích giúp giữ hoa quả tươi lâu hơn.



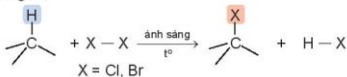
- Dựa vào Bảng 15.2, em hãy nhận xét về quy luật biến đổi nhiệt độ sôi của alkane theo phân tử khối.

<sup>(1)</sup> Nguồn: <http://pubchem.ncbi.nlm.nih.gov>.

## IV TÍNH CHẤT HOÁ HỌC


### 1. Phản ứng thế

Khi đặt bình chứa hỗn hợp của alkane với halogen (thường là chlorine hoặc bromine) trong phòng tối và ở nhiệt độ phòng, phản ứng không xảy ra. Nhưng nếu đun nóng hoặc chiếu ánh sáng sẽ xảy ra phản ứng thế nguyên tử hydrogen trong alkane bằng các nguyên tử halogen:



Phản ứng trên được gọi là phản ứng halogen hoá alkane. Sản phẩm của phản ứng halogen hoá là các dẫn xuất halogen.

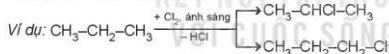
*Ví dụ:* Khi trộn methane với chlorine và chiếu ánh sáng từ ngoại, sản phẩm thu được là chloromethane.



Phản ứng thế có thể tiếp tục diễn ra với các nguyên tử hydrogen còn lại của chloromethane cho hỗn hợp các sản phẩm chloromethane, dichloromethane, trichloromethane và tetrachloromethane.



Khi thực hiện phản ứng thế halogen vào các alkane có từ 3 nguyên tử carbon trở lên sẽ thu được hỗn hợp các sản phẩm thế monohalogen.



#### **Thí nghiệm: phản ứng bromine hoá hexane**

*Chuẩn bị:* ống nghiệm, hexane, nước bromine, cốc thủy tinh.

*Tiến hành:*

- Cho vào ống nghiệm khoảng 1 mL hexane rồi cho tiếp vào đó khoảng 1 mL nước bromine. Quan sát thấy ống nghiệm có hai lớp, lớp dưới là nước bromine màu vàng, lớp trên là hexane không màu.
- Lắc đều và quan sát hiện tượng.
- Đặt ống nghiệm vào cốc nước ấm (khoảng 50 °C), quan sát hiện tượng xảy ra.

*Trả lời câu hỏi:*

1. Nếu hiện tượng xảy ra trong quá trình thí nghiệm. Giải thích.
2. Viết phương trình hoá học ở dạng công thức phân tử của phản ứng xảy ra trong thí nghiệm trên (nếu có), giả thiết là chỉ có một nguyên tử hydrogen được thay thế.



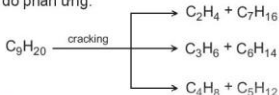
5. Viết sơ đồ phản ứng của butane với bromine trong điều kiện có chiếu sáng, tạo thành các sản phẩm monobromine.

## 2. Phản ứng cracking

*Cracking alkane là quá trình phân cắt liên kết C-C (bẻ gãy mạch carbon) của các alkane mạch dài để tạo thành hỗn hợp các hydrocarbon có mạch carbon ngắn hơn.*

Phản ứng cracking được ứng dụng trong công nghiệp lọc dầu. Phản ứng cracking được thực hiện trong điều kiện nhiệt độ cao và thường có xúc tác.

*Ví dụ:* Cracking nonane  $C_9H_{20}$  thu được các alkane mạch ngắn hơn là C5 – C7 và alkene C2 – C4. Sơ đồ phản ứng:

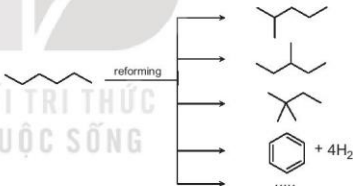


## 3. Phản ứng reforming

*Reforming alkane là quá trình chuyển các alkane mạch không phân nhánh thành các alkane mạch phân nhánh và các hydrocarbon mạch vòng nhưng không làm thay đổi số nguyên tử carbon trong phân tử và cũng không làm thay đổi đáng kể nhiệt độ sôi của chúng.*

Reforming alkane xảy ra quá trình đồng phân hoá (isomer hoá) và arene hoá (thơm hoá). Quá trình reforming thường được thực hiện với các alkane C5 – C11 trong điều kiện nhiệt độ cao và thường có xúc tác.

*Ví dụ:* reforming hexane thu được các alkane mạch nhánh và các hydrocarbon mạch vòng.

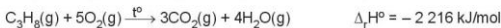
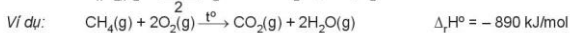
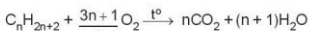


Quá trình reforming được ứng dụng trong công nghiệp lọc dầu để làm tăng chỉ số octane của xăng và sản xuất các arene (benzene, toluene, xylene) làm nguyên liệu cho công nghiệp tổng hợp hữu cơ.

## 4. Phản ứng oxi hoá

### a) Phản ứng oxi hoá hoàn toàn (phản ứng cháy)

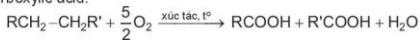
Khi tiếp xúc với oxygen và có tia lửa khơi mào, alkane bị đốt cháy tạo thành khí carbon dioxide, hơi nước và giải phóng năng lượng.



Phản ứng cháy của alkane có vai trò rất quan trọng đối với đời sống con người. Đốt cháy các alkane cung cấp nhiệt để đun nấu, sưởi ấm và cung cấp năng lượng cho các ngành công nghiệp.

**b) Phản ứng oxi hoá không hoàn toàn**

Ở nhiệt độ cao, có mặt xúc tác, alkane bị oxi hoá cắt mạch carbon bởi oxygen tạo thành hỗn hợp carboxylic acid:



Các acid béo mạch dài dùng để sản xuất xà phòng và các chất tẩy rửa được điều chế bằng phương pháp oxi hoá cắt mạch các alkane C25 – C35.



**Thí nghiệm: phản ứng oxi hoá hexane**

*Chuẩn bị:* hexane, dung dịch  $KMnO_4$  1%; ống nghiệm, bát sứ, que đóm.

*Tiến hành:*

**1. Phản ứng của hexane với dung dịch  $KMnO_4$**

Cho khoảng 1 mL hexane vào ống nghiệm, thêm vài giọt dung dịch  $KMnO_4$  1%, lắc đều ống nghiệm trong khoảng 5 phút, sau đó đặt ống nghiệm vào giá rồi để yên khoảng 10 phút. Quan sát thấy ống nghiệm có 2 lớp, lớp dưới là dung dịch  $KMnO_4$  trong nước màu tím, lớp trên là hexane không màu.

**2. Phản ứng đốt cháy hexane**

Cho khoảng 1 mL hexane (lưu ý không được lấy nhiều hơn) vào bát sứ nhỏ, cẩn thận đưa que đóm đang cháy vào bề mặt chất lỏng, hexane bốc cháy cho ngọn lửa màu vàng.

*Trả lời câu hỏi:*

- Hexane có phản ứng với dung dịch  $KMnO_4$  ở điều kiện thường không? Tại sao?
- Tại sao lại đốt cháy hexane trong bát sứ mà không nên đốt trong cốc thủy tinh? Viết phương trình hoá học của phản ứng xảy ra.
- Nếu đốt cháy hexane trong điều kiện thiếu oxygen sẽ tạo ra carbon monoxide và nước. Hãy viết phương trình hoá học của phản ứng này.



- Viết phương trình hoá học của phản ứng đốt cháy hoàn toàn pentane.



## V ỨNG DỤNG

Khí thiên nhiên và khí dầu mỏ là nhiên liệu sạch và được sử dụng rộng rãi trên thế giới. Chúng được sử dụng làm nhiên liệu trong sản xuất và đời sống.

LPG (Liquefied Petroleum Gas) thường phẩm chứa propane  $C_3H_8$  và butane  $C_4H_{10}$ .

Ngoài ra, khí thiên nhiên và khí dầu mỏ với thành phần chính là methane được dùng làm nguyên liệu để sản xuất phân bón urea, hydrogen và ammonia.

Các alkane lỏng được sử dụng làm nhiên liệu xăng, diesel và nhiên liệu phản lực (jet fuel),...

Các alkane C6, C7, C8 là nguyên liệu để sản xuất benzene, toluene và các đồng phân xylene.

Các alkane từ C11 đến C20 (vaseline) được dùng làm kem dưỡng da, sáp nê, thuốc mỡ. Các alkane từ C20 đến C35 (paraffin) được dùng làm nến, sáp,...



7. Tại sao ở các cây xăng, kho chứa xăng dầu thường treo các biển cấm dưới đây?



## EM CÓ BIẾT

Hiện nay, nhà máy nhiệt điện Phú Mỹ tại tỉnh Bà Rịa – Vũng Tàu sử dụng nguồn nhiên liệu là khí mỏ Nam Côn Sơn và mỏ Bạch Hổ, cung cấp cho hệ thống điện quốc gia hàng tỉ kWh mỗi năm. Nhà máy đạm Phú Mỹ và đạm Cà Mau là các nhà máy sản xuất phân bón lớn ở nước ta. Mỗi năm, hai nhà máy này cung cấp hàng triệu tấn phân bón, đảm bảo nhu cầu phân đạm của cả nước. Nguyên liệu chính của hai nhà máy là khí dầu mỏ từ mỏ dầu Bạch Hổ và khí thiên nhiên từ các mỏ trong bể Cửu Long thuộc thềm lục địa phía Nam.

## VI ĐIỀU CHẾ

### 1. Phương pháp điều chế alkane ở thể khí trong công nghiệp

Các alkane ở thể khí chủ yếu được lấy từ khí thiên nhiên và khí dầu mỏ. Sau khi loại bỏ các hợp chất không phải là hydrocarbon (đặc biệt là  $H_2S$  và  $CO_2$ ), khí được dẫn qua đường ống dẫn đến nơi tiêu thụ hoặc được nén lại ở dạng lỏng (hoá lỏng ở áp suất cao) để dễ dàng vận chuyển. Khí dầu mỏ hoá lỏng là LPG, còn khí thiên nhiên hoá lỏng là LNG (liquefied natural gas).

### 2. Phương pháp điều chế alkane ở thể lỏng, rắn trong công nghiệp

Khí chưng cất dầu mỏ nhận được hỗn hợp alkane có chiều dài mạch carbon khác nhau ở các phân đoạn sôi khác nhau. Để nhận được các alkane tinh khiết cần phải có các công nghệ tách và tinh chế rất phức tạp.

Khi ngưng tụ chứa chủ yếu alkane C5 – C8, là sản phẩm thu được khi khai thác dầu mỏ. Chúng được bơm lên cùng với dầu và được ngưng tụ thành chất lỏng. Khi ngưng tụ thường được chế biến thành xăng.

## EM CÓ BIẾT

### Vi khuẩn methanogen

Vi khuẩn methanogen có khả năng xúc tác cho chuyển hoá carbon dioxide và hydrogen trong biogas tạo thành methane:  $\text{CO}_2 + 4\text{H}_2 \xrightarrow{\text{v. xúc tác}} \text{CH}_4 + 2\text{H}_2\text{O}$

Vi khuẩn methanogen cũng xúc tác cho quá trình chuyển hoá các phế thải sinh khối, các chất thải của động vật, ... thành methane và giải phóng khoảng 2 tỉ tấn methane mỗi năm. Lượng methane trong khí quyển chủ yếu là do quá trình này tạo ra.

## VII Ô NHIỄM KHÔNG KHÍ DO PHƯƠNG TIỆN GIAO THÔNG

### 1. Các chất trong khí thải của phương tiện giao thông gây ô nhiễm không khí

Quá trình cháy của xăng, dầu diesel trong động cơ các phương tiện giao thông tạo ra sản phẩm cuối cùng là  $\text{CO}_2$ . Khí này là nguyên nhân chính gây hiệu ứng nhà kính làm Trái Đất nóng lên. Nếu xăng, dầu diesel cháy không hoàn toàn, thiếu oxygen thì tạo ra khí CO, VOCs (các hợp chất hữu cơ dễ bay hơi như formaldehyde, benzene, toluene, ...) và các hạt bụi đen chứa các hợp chất arene đa vòng rất độc. Nhiên liệu chứa sulfur khi cháy sinh ra các oxide của sulfur  $\text{SO}_x$ . Ngoài ra quá trình cháy tạo nhiệt độ cao khiến oxygen và nitrogen trong không khí phản ứng với nhau, tạo thành các loại oxide của nitrogen ( $\text{NO}_x$ ). Các chất này gây ô nhiễm môi trường không khí.

### 2. Một số biện pháp hạn chế ô nhiễm môi trường do các phương tiện giao thông

- Sử dụng nhiên liệu cháy sạch: Để bảo vệ sức khỏe con người, trong tiêu chuẩn nhiên liệu có yêu cầu nghiêm ngặt về chỉ số octane<sup>(1)</sup> đối với xăng và chỉ số cetane<sup>(2)</sup> đối với diesel. Ngoài ra còn có yêu cầu về hàm lượng kim loại nặng. Đối với xăng, có yêu cầu về hàm lượng benzene. Theo tiêu chuẩn EURO 4 và EURO 5, hàm lượng benzene phải nhỏ hơn 1% về thể tích. Đối với nhiên liệu diesel, có yêu cầu về hàm lượng sulfur và hàm lượng arene đa vòng. Theo tiêu chuẩn EURO 4, hàm lượng sulfur phải dưới 50 mg/kg và theo EURO 5 phải dưới 10 mg/kg. Theo tiêu chuẩn EURO 4 và EURO 5, hàm lượng arene đa vòng PAHs phải dưới 11%.
- Sử dụng nhiên liệu sinh học như xăng pha thêm ethanol (E5, E10) và biodiesel. Ethanol vừa là phụ gia tăng chỉ số octane vừa là nhiên liệu cháy sạch. Biodiesel là methyl ester của các acid béo trong dầu mỡ động thực vật phi thực phẩm, nhiên liệu này có chỉ số cetane cao, không chứa sulfur và arene.
- Sử dụng các phương tiện giao thông tiết kiệm năng lượng và chuyển đổi sang các loại động cơ điện.

(1) Chỉ số octane (octane number) đặc trưng cho tính chống kích nổ của xăng.

(2) Chỉ số cetane (cetane number) đặc trưng cho khả năng tự bốc cháy của nhiên liệu diesel.

### EM DỄ HỌC

- Công thức tổng quát của alkane:  $C_nH_{2n+2}$  ( $n \geq 1$ ).
- Trong điều kiện thường, alkane C1 – C4 và neopentane ở trạng thái khí, C5 – C17 (trừ neopentane) là chất lỏng không màu, từ C18 trở lên là chất rắn.
- Các phản ứng của alkane:
  - Phản ứng thế:  $C_nH_{2n+2} \xrightarrow{+X_2} C_nH_{2n+1}X \xrightarrow{+X_2} C_nH_{2n}X_2 \xrightarrow{+X_2} \dots$
  - Cracking alkane mạch dài thu được hỗn hợp alkane mạch ngắn hơn để chế biến thành xăng và alkene C2 – C4 làm nguyên liệu cho tổng hợp hữu cơ.
  - Reforming alkane mạch không phân nhánh thu được alkane mạch nhánh để sản xuất xăng có chỉ số octane cao và các arene làm nguyên liệu cho tổng hợp hữu cơ.
  - Phản ứng oxi hoá:
 
$$C_nH_{2n+2} + \frac{3n+1}{2} O_2 \xrightarrow{t^o} nCO_2 + (n+1)H_2O$$

$$RCH_2-CH_2R' + \frac{5}{2} O_2 \xrightarrow{\text{xúc tác, } t^o} RCOOH + R'COOH + H_2O$$
- Trong công nghiệp, nguyên liệu sản xuất alkane lấy từ khí thiên nhiên và dầu mỏ.
- Ứng dụng: nhiên liệu (LPG, LNG, xăng, diesel, nhiên liệu phản lực); nguyên liệu cho công nghiệp hoá chất, dược phẩm, mỹ phẩm, phân bón,...

### EM CÓ THỂ

- Vận dụng các kiến thức về alkane, giải thích: các ứng dụng của các alkane trong cuộc sống như làm nhiên liệu phục vụ sinh hoạt trong gia đình, phương tiện giao thông và trong công nghiệp; vì sao alkane là nguyên liệu đầu vào của tổng hợp hữu cơ, công nghiệp hoá chất.
- Bảo vệ môi trường sống bằng cách sử dụng các phương tiện giao thông tiết kiệm năng lượng, hạn chế sử dụng nhiên liệu hoá thạch là nguồn tài nguyên thiên nhiên không tái tạo, tăng cường sử dụng các nhiên liệu sạch như xăng E5, E10 và biodiesel.

**MỤC TIÊU**

- Nêu được khái niệm về alkene và alkyne, công thức chung của alkene; đặc điểm liên kết, hình dạng phân tử của ethylene và acetylene.
- Gọi được tên một số alkene, alkyne đơn giản (C<sub>2</sub>-C<sub>5</sub>), tên thông thường một vài alkene, alkyne thường gặp.
- Nêu được khái niệm và xác định được đồng phân hình học (*cis*-, *trans*-) trong một số trường hợp đơn giản.
- Nêu được đặc điểm về tính chất vật lí của một số alkene, alkyne.
- Trình bày được các tính chất hoá học của alkene, alkyne: phản ứng cộng hydrogen, cộng halogen (bromine); cộng hydrogen halide (HBr) và cộng nước; quy tắc Markovnikov; phản ứng trùng hợp của alkene; phản ứng của alk-1-yne với dung dịch AgNO<sub>3</sub> trong NH<sub>3</sub>; phản ứng oxy hoá.
- Thực hiện được thí nghiệm điều chế và thử tính chất của ethylene và acetylene; mô tả các hiện tượng thí nghiệm và giải thích được tính chất hoá học của alkene, alkyne.
- Trình bày được ứng dụng của các alkene và acetylene trong thực tiễn; phương pháp điều chế alkene, acetylene trong phòng thí nghiệm (phản ứng dehydrate hoá alcohol điều chế alkene, từ calcium carbide điều chế acetylene) và trong công nghiệp (phản ứng cracking điều chế alkene, điều chế acetylene từ methane).



Sự ra đời của hoá học alkene khoảng giữa thế kỉ XX là một dấu mốc quan trọng tạo nên bước đột phá cho sự phát triển mạnh mẽ của công nghiệp hoá học hữu cơ.

Vậy, alkene, alkyne có vai trò quan trọng thế nào trong hoá học nói chung và hoá hữu cơ nói riêng?



**1 KHÁI NIỆM, ĐỒNG PHÂN, DANH PHÁP**

**1. Khái niệm và công thức chung của alkene, alkyne**



Em hãy viết công thức electron, công thức Lewis của các hydrocarbon sau: C<sub>2</sub>H<sub>6</sub>, C<sub>2</sub>H<sub>4</sub>, C<sub>2</sub>H<sub>2</sub>. Nhận xét sự khác nhau về đặc điểm liên kết trong phân tử của ba hydrocarbon trên.

Hydrocarbon không no là những hydrocarbon trong phân tử có chứa liên kết đôi, liên kết ba (gọi chung là liên kết bội) hoặc đồng thời cả liên kết đôi và liên kết ba.

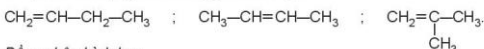
Hydrocarbon không no	Alkene	Alkyne
Khái niệm	Alkene là các hydrocarbon không no, mạch hở, có chứa một liên kết đôi $\text{C}=\text{C}$ trong phân tử.	Alkyne là các hydrocarbon không no, mạch hở có chứa một liên kết ba $\text{-C}\equiv\text{C-}$ trong phân tử.
Công thức chung	C <sub>n</sub> H <sub>2n</sub> (n ≥ 2)	C <sub>n</sub> H <sub>2n-2</sub> (n ≥ 2)
Ví dụ	C <sub>2</sub> H <sub>4</sub> , C <sub>3</sub> H <sub>6</sub> , C <sub>4</sub> H <sub>8</sub> ...	C <sub>2</sub> H <sub>2</sub> , C <sub>3</sub> H <sub>4</sub> , C <sub>4</sub> H <sub>6</sub> ...

## 2. Đồng phân

### a) Đồng phân cấu tạo

Alkene và alkyne có hai loại đồng phân cấu tạo là đồng phân vị trí liên kết bội (từ C4 trở lên) và đồng phân mạch carbon (từ C4 trở lên với alkene và từ C5 trở lên với alkyne).

Ví dụ: alkene C<sub>4</sub>H<sub>8</sub> có ba đồng phân cấu tạo:



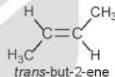
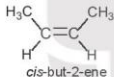
### b) Đồng phân hình học


Trong phân tử alkene nếu mỗi nguyên tử carbon của liên kết đôi liên kết với hai nguyên tử hoặc hai nhóm nguyên tử khác nhau thì sẽ có đồng phân hình học.

Nếu mạch chính nằm ở cùng một phía của liên kết đôi, gọi là đồng phân hình học dạng *cis*-.

Nếu mạch chính nằm ở hai phía khác nhau của liên kết đôi, gọi là đồng phân hình học dạng *trans*-.

Ví dụ: phân tử but-2-ene có hai đồng phân hình học dạng *cis*- và dạng *trans*-.



1. Điều kiện để có đồng phân hình học của alkene  là gì?

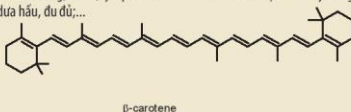
2. Alkene  $\text{CH}_2=\underset{\text{CH}_3}{\text{C}}-\text{CH}_3$  có đồng phân hình học không? Giải thích.

## EM CÓ BIẾT

### Các hydrocarbon không no trong tự nhiên

Trong tự nhiên, các hydrocarbon mạch hở và mạch vòng chứa liên kết đôi ở dạng alkadiene, alkatriene, alkapoliene, cycloalkene,... có nhiều trong tinh dầu thảo mộc. Các tinh dầu này có chứa các chất gọi là terpene. Phần tử của terpene được tạo thành từ các đơn vị mắt xích cơ bản là isoprene (2-methyl-but-1,3-diene).

Ví dụ: limonene có trong tinh dầu cam, chanh; myrcene được tìm thấy trong các thực vật có mùi thơm đậm như xoài, hoa bia, lá nguyệt quế, cỏ xạ hương, sả và húng quế; ocimene có trong lá cây húng quế, chúng có mùi thơm rất dễ chịu;  $\alpha$ -pinene và  $\beta$ -pinene là thành phần chính của dầu thông;  $\beta$ -carotene có thể được tìm thấy trong các loại rau, củ màu vàng, màu da cam như khoai lang, cà rốt; lycopene là sắc tố màu đỏ tươi được tìm thấy trong nhiều loại rau quả có màu đỏ như cà chua, dưa hấu, đu đủ;...



**Hình 16.1.** Công thức cấu tạo của limonene và  $\beta$ -carotene

### 3. Danh pháp

Tên theo danh pháp thay thế của alkene và alkyne:

Phần nền-vị trí liên kết bội

ene hoặc yne

Lưu ý:

- Chọn mạch carbon dài nhất, có nhiều nhánh nhất và có chứa liên kết bội làm mạch chính.
- Đánh số sao cho nguyên tử carbon có liên kết bội (đôi hoặc ba) có chỉ số nhỏ nhất (đánh số mạch chính từ đầu gần liên kết bội).
- Dùng chữ số (1, 2, 3,...) và gạch nối (-) để chỉ vị trí liên kết bội (nếu chỉ có một vị trí duy nhất của liên kết bội thì không cần).
- Nếu alkene hoặc alkyne có nhánh thì cần thêm vị trí nhánh và tên nhánh trước tên của alkene và alkyne tương ứng với mạch chính.

Bảng 16.1. Tên gọi của của một số alkene, alkyne

Số carbon	Công thức alkene	Tên alkene	Công thức alkyne	Tên alkyne
2	$\text{CH}_2=\text{CH}_2$	ethene (ethylene)	$\text{HC}\equiv\text{CH}$	ethyne (acetylene)
3	$\text{CH}_2=\text{CH}-\text{CH}_3$	propene (propylene)	$\text{HC}\equiv\text{C}-\text{CH}_3$	propyne
4	$\text{CH}_2=\text{CH}-\text{CH}_2-\text{CH}_3$ $\text{CH}_3-\text{CH}=\text{CH}-\text{CH}_3$ $\begin{array}{c} \text{CH}_2=\text{C}-\text{CH}_3 \\   \\ \text{CH}_3 \end{array}$	but-1-ene but-2-ene methylpropene	$\text{HC}\equiv\text{C}-\text{CH}_2-\text{CH}_3$ $\text{CH}_3-\text{C}\equiv\text{C}-\text{CH}_3$	but-1-yne but-2-yne
5	$\text{CH}_2=\text{CH}-\text{CH}_2-\text{CH}_2-\text{CH}_3$	pent-1-ene	$\text{HC}\equiv\text{C}-\text{CH}_2-\text{CH}_2-\text{CH}_3$	pent-1-yne

(Tên thông thường của một số alkene, alkyne được để trong ngoặc)



- Viết các công thức cấu tạo và gọi tên theo danh pháp thay thế của các alkene và alkyne có công thức phân tử  $\text{C}_5\text{H}_{10}$ ,  $\text{C}_5\text{H}_8$ .
- Trong các chất sau, chất nào có đồng phân hình học?
  - $\text{CH}_2=\text{CH}-\text{CH}_3$ ;
  - $\text{CH}_3-\text{CH}_2-\text{CH}=\text{CH}-\text{CH}_3$ ;
  - $\begin{array}{c} \text{CH}_3-\text{C}=\text{CH}-\text{CH}_3 \\ | \\ \text{CH}_3 \end{array}$ ;
  - $\text{CH}_2=\text{CH}-\text{CH}_2-\text{CH}_3$ .

## II ĐẶC ĐIỂM CẤU TẠO CỦA ETHYLENE VÀ ACETYLENE

### 1. Ethylene

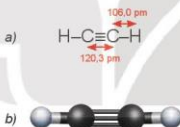
Phân tử ethylene ( $C_2H_4$ ) có 2 nguyên tử carbon và 4 nguyên tử hydrogen đều nằm trên một mặt phẳng. Liên kết đôi C=C gồm một liên kết  $\sigma$  và một liên kết  $\pi$ .



Hình 16.2. Công thức cấu tạo (a) và mô hình phân tử (b) của ethylene

### 2. Acetylene

Phân tử acetylene ( $C_2H_2$ ) có 2 nguyên tử carbon và 2 nguyên tử hydrogen nằm trên một đường thẳng, góc liên kết CCH là  $180^\circ$ . Liên kết ba C $\equiv$ C bao gồm một liên kết  $\sigma$  và hai liên kết  $\pi$ .



Hình 16.3. Công thức cấu tạo (a) và mô hình phân tử (b) của acetylene

## III TÍNH CHẤT VẬT LÝ

Nhiệt độ sôi, nhiệt độ nóng chảy và khối lượng riêng của alkene, alkyne không khác nhiều với alkane tương ứng. Các alkene, alkyne là những hợp chất không có mùi và đều nhẹ hơn nước.

Ở nhiệt độ thường, phần lớn các alkene và alkyne từ C<sub>2</sub> đến C<sub>4</sub> ở trạng thái khí, từ C<sub>5</sub> đến C<sub>17</sub> ở trạng thái lỏng và từ C<sub>18</sub> trở lên ở trạng thái rắn. Chúng không tan hoặc rất ít tan trong nước, tan trong một số dung môi hữu cơ.

### EM CÓ BIẾT

Ở nhiệt độ thường, độ tan của acetylene trong acetone là 2,79 gam/100 gam dung môi và trong dimethylformamide (DMF) là 5,1 gam/100 gam dung môi. Ở áp suất 20 bar, độ tan của acetylene là 68,9 gam/100 gam acetone và 62,8 gam/100 gam DMF. Vì vậy, các dung môi này được sử dụng trong các bình khí nén để lưu trữ acetylene.

**Bảng 16.2. Tính chất vật lí của một số alkene, alkyne<sup>(1)</sup>**

Alkene	Nhiệt độ nóng chảy (°C)	Nhiệt độ sôi (°C)	Khối lượng riêng (g/cm <sup>3</sup> )	Alkyne	Nhiệt độ nóng chảy (°C)	Nhiệt độ sôi (°C)	Khối lượng riêng (g/cm <sup>3</sup> )
ethene	-169	-105	-	ethyne	-81	-83	-
propene	-185	-47,8	-	propyne	-102,7	-23,2	-
but-1-ene	-185	-6,3	-	but-1-yne	-126	8,1	-
trans-but-2-ene	-106	0,9	-	but-2-yne	-32	27	0,691
cis-but-2-ene	-139	3,7	-	pent-1-yne	-106	40,2	0,690
pent-1-ene	-165	30	0,641	pent-2-yne	-109	56,1	0,711

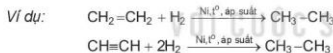
## IV TÍNH CHẤT HOÁ HỌC CỦA ALKENE, ALKYNE

Các liên kết  $\pi$  ở liên kết đôi (alkene) và liên kết ba (alkyne) kém bền vững, dễ bị đứt ra để tạo thành các liên kết mới. Vì vậy, các liên kết bội là trung tâm gây ra các phản ứng đặc trưng của hydrocarbon không no: phản ứng cộng, phản ứng trùng hợp, phản ứng oxi hoá.

### 1. Phản ứng cộng

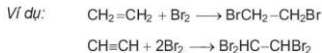
#### a) Phản ứng cộng hydrogen

Hydrogen hoá alkene và alkyne thu được alkane tương ứng. Phản ứng thường được thực hiện dưới áp suất cao, nhiệt độ cao và có mặt các chất xúc tác kim loại như platinum, nickel và palladium.



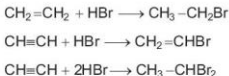
#### b) Phản ứng cộng halogen

Khi cho alkene hoặc alkyne phản ứng với dung dịch bromine, dung dịch sẽ bị mất màu.



#### c) Phản ứng cộng hydrogen halide

Phản ứng cộng hydrogen halide vào alkene và alkyne tạo thành halogenoalkane tương ứng.



### EM CÓ BIẾT

Hydrogen hoá acetylene, tùy vào điều kiện áp suất, nhiệt độ và xúc tác, có thể nhận được sản phẩm là ethylene, ethane.

Phản ứng cộng chlorine vào ethylene tạo ra 1,2-dichloroethane, là chất trung gian để sản xuất vinyl chloride (VC), nguyên liệu tổng hợp poly(vinyl chloride) (PVC).

<sup>(1)</sup> Nguồn: <http://pubchem.ncbi.nlm.nih.gov>.



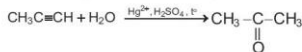
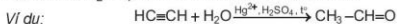
d) Phản ứng cộng nước (hydrate hoá)

Phản ứng cộng nước vào alkene hay còn gọi là hydrate hoá alkene tạo ra alcohol.  
Phản ứng thường sử dụng xúc tác phosphoric acid hoặc sulfuric acid.



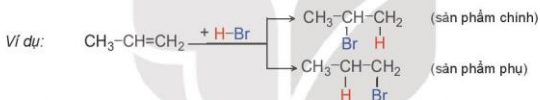
Phản ứng này được thực hiện ở quy mô công nghiệp để sản xuất ethanol.

Phản ứng cộng một phân tử HOH vào alkene diễn ra khi có mặt của xúc tác là muối Hg(II) trong H<sub>2</sub>SO<sub>4</sub>, tạo thành aldehyde hoặc ketone.



**Quy tắc Markovnikov (Mác-cốp-nhi-cốp)**

Phản ứng cộng một tác nhân không đối xứng HX như HBr, HCl, HI, HOH, ... vào liên kết bội, nguyên tử hydrogen sẽ ưu tiên cộng vào nguyên tử carbon có nhiều hydrogen hơn và X sẽ cộng vào nguyên tử carbon có ít hydrogen hơn.



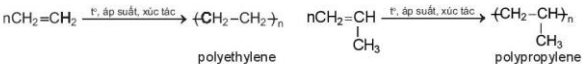
Phản ứng cộng nước vào propene với xúc tác acid được thực hiện ở quy mô công nghiệp để sản xuất isopropanol.

Phản ứng cộng acid, cộng nước vào alkyne cũng tuân theo quy tắc Markovnikov.

**2. Phản ứng trùng hợp của alkene**

Phản ứng trùng hợp alkene là quá trình cộng hợp liên tiếp nhiều phân tử alkene giống nhau hoặc tương tự nhau (gọi là monomer) tạo thành phân tử có phân tử khối lớn (gọi là polymer).

Ví dụ: Phản ứng trùng hợp ethylene và propylene tạo thành polyethylene (PE) và polypropylene (PP).



n được gọi là hệ số trùng hợp.

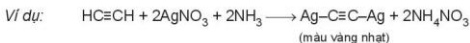
Phản ứng trùng hợp alkene có ứng dụng quan trọng để sản xuất vật liệu polymer.



3. Viết phương trình hoá học của các phản ứng:
- Propene tác dụng với hydrogen, xúc tác nickel.
  - Propene tác dụng với nước, xúc tác  $H_3PO_4$ .
  - 2-Methylpropene tác dụng với nước, xúc tác acid  $H_3PO_4$ .
  - But-1-ene tác dụng với HCl.
4. Trong các chất sau, những chất nào làm mất màu nước bromine: propane, propene, propyne, 2-methylpropene?

### 3. Phản ứng của alk-1-yne với $AgNO_3$ trong $NH_3$

Các alkyne có liên kết ba ở đầu mạch (alk-1-yne) có khả năng tham gia phản ứng với dung dịch  $AgNO_3$  trong  $NH_3$  tạo thành kết tủa.



Phản ứng này dùng để nhận biết các alkyne có liên kết ba ở đầu mạch.

### 4. Phản ứng oxi hoá

#### a) Phản ứng oxi hoá không hoàn toàn

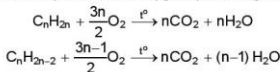
Các alkene và alkyne có khả năng làm mất màu dung dịch thuốc tím, đây là phản ứng oxi hoá không hoàn toàn.



Phản ứng oxi hoá không hoàn toàn alkene được ứng dụng để sản xuất các dẫn xuất chứa oxygen của hydrocarbon trong công nghiệp.

#### b) Phản ứng cháy

Alkene và alkyne đều dễ cháy khi có mặt oxygen, phản ứng toả nhiều nhiệt:



Acetylene cháy trong oxygen tạo ra ngọn lửa có nhiệt độ cao, có thể lên tới trên 3 330 °C.

### EM CÓ BIẾT

Đèn xì oxygen – acetylene được ứng dụng để cắt và hàn kim loại rất phổ biến trong những thập kỉ trước. Hiện nay, do sự phát triển của công nghệ hàn hồ quang nên việc sử dụng acetylene để hàn kim loại giảm đáng kể. Tuy nhiên, thiết bị hàn oxygen – acetylene khá linh hoạt, có thể được sử dụng ở những nơi không thể tiếp cận được điện và cần nguồn nhiệt cao.



Hình 16.4. Đèn xì oxygen – acetylene



**Thí nghiệm 1: Điều chế và thử tính chất hoá học của ethylene**

*Chuẩn bị:* cân 96°, dung dịch sulfuric acid đặc, đá bọt; bình cầu có nhánh 250 mL, ống nghiệm (1) chứa khoảng 2 mL dung dịch  $\text{KMnO}_4$  loãng, ống nghiệm (2) chứa khoảng 2 mL nước  $\text{Br}_2$  loãng, ống dẫn thủy tinh hình chữ L, ống dẫn thủy tinh đầu vuốt nhọn, giá đỡ ống nghiệm, nguồn nhiệt, que đóm, lưới tản nhiệt, bình thủy tinh chứa dung dịch  $\text{NaOH}$ .



Hình 16.5. Điều chế ethylene và thử tính chất

*Tiến hành:*

- Cho vài viên đá bọt, 20 mL cân 96° vào bình cầu. Rót 40 mL dung dịch  $\text{H}_2\text{SO}_4$  đặc vào ống đong, sau đó rót từ  $\text{H}_2\text{SO}_4$  đặc từ ống đong qua phễu vào bình cầu để tránh sự toả nhiệt quá mạnh.
- Lắp bộ dụng cụ như Hình 16.5.
- Đun nóng đến khi ethylene sinh ra và sục ngay vào các ống nghiệm (1) và (2).
- Thay ống dẫn khí thủy tinh hình chữ L bằng ống dẫn thủy tinh có đầu vuốt nhọn. Dùng que đóm đang cháy để đốt ethylene ở đầu ống dẫn khí.

*Lưu ý:* Dung dịch sulfuric acid đặc rơi vào da sẽ gây bỏng nặng, cần cẩn thận khi sử dụng.

Hãy giải thích hiện tượng và viết phương trình hoá học của phản ứng xảy ra.

**Thí nghiệm 2: Điều chế và thử tính chất hoá học của acetylene**

*Chuẩn bị:* đất đèn (chứa  $\text{CaC}_2$ ), nước tinh khiết; ống nghiệm chứa khoảng 2 mL dung dịch  $\text{KMnO}_4$  loãng, ống nghiệm chứa khoảng 2 mL dung dịch nước  $\text{Br}_2$  loãng, bình cầu có nhánh 250 mL, ống dẫn thủy tinh hình chữ L, ống dẫn thủy tinh đầu vuốt nhọn, giá đỡ ống nghiệm, que đóm, bình thủy tinh chứa dung dịch  $\text{NaOH}$ .



Hình 16.6. Điều chế acetylene và thử tính chất

Tiến hành:

- Cho khoảng 5 g đất đèn vào bình cầu có nhánh và cho nước cất vào phễu nhỏ giọt. Lắp dụng cụ như Hình 16.6 (chú ý đuôi của phễu nhỏ giọt không chạm vào chất rắn).
- Mở khoá phễu nhỏ giọt để nước chảy từ từ xuống, khi acetylene sinh ra được sục ngay vào các ống nghiệm chứa dung dịch  $\text{KMnO}_4$  và nước  $\text{Br}_2$  đã chuẩn bị ở trên đến khi dung dịch mất màu.
- Thay ống dẫn khí thủy tinh hình chữ L bằng ống dẫn thủy tinh có đầu vuốt nhọn. Dùng que đóm đang cháy để đốt acetylene sinh ra ở đầu ống dẫn khí.

Hãy giải thích hiện tượng và viết phương trình hoá học của các phản ứng xảy ra.



5. Hãy trình bày phương pháp hoá học nhận biết ba khí sau: ethane, ethylene, acetylene.

6. Viết phương trình hoá học của các phản ứng:


- Propene tác dụng với dung dịch  $\text{KMnO}_4$ .
- Propyne tác dụng với dung dịch  $\text{AgNO}_3/\text{NH}_3$ .



## ĐIỀU CHẾ

### 1. Alkene

Trong phòng thí nghiệm, ethylene được điều chế từ phản ứng dehydrate ethanol:

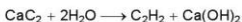


Trong công nghiệp, alkene C<sub>2</sub> – C<sub>4</sub> được điều chế từ quá trình cracking alkane trong các nhà máy lọc dầu.


Các alkene này còn có thể được sản xuất từ quá trình dehydrogen xúc tác với nguyên liệu là khí dầu mỏ (ethane, propane và butane). Dehydrogen butane tạo ra butadiene và các đồng phân butene.

### 2. Alkyne

Acetylene được điều chế từ phản ứng giữa calcium carbide với nước:



Ngoài ra, acetylene còn được điều chế bằng cách nhiệt phân methane ở nhiệt độ 1 500°C, làm lạnh nhanh để tách acetylene ra khỏi hỗn hợp với hydrogen:





## ỨNG DỤNG



## EM CÓ BIẾT

• Quá trình hô hấp của quả chuối sau thu hoạch diễn ra khá mạnh mẽ, quá trình này sẽ sản sinh rất nhiều khí ethylene.

• Các alkene được dùng làm monomer để tổng hợp thành polymer như PE, PP, cao su; nguyên liệu đầu để tổng hợp các hợp chất hữu cơ như alcohol, aldehyde, các dẫn xuất halogen và các chất khác.

Ethylene và acetylene được dùng làm nguyên liệu để chuyển hoá thành các monomer như styrene, vinyl chloride, vinyl acetate, acrylonitrile, ... để tổng hợp các polymer.

Các alkyne là nguyên liệu sản xuất một số dược phẩm như thuốc kháng virus Efavirenz, thuốc kháng nấm Terbinafine, ...



Hình 16.7. Khi ethylene sinh ra từ chuối sẽ làm cho chua xanh mau chín

## EM ĐÃ HỌC

- Công thức tổng quát của alkene:  $C_nH_{2n}$  ( $n \geq 2$ ); alkyne:  $C_nH_{2n-2}$  ( $n \geq 2$ ).
- Trạng thái, nhiệt độ sôi và tính tan của một số alkene, alkyne.
- Alkene và alkyne có các đồng phân cấu tạo (đồng phân vị trí liên kết bội, alkene từ C4 và alkyne từ C5 có đồng phân mạch carbon); alkene từ C4 có thể có đồng phân hình học.
- Alkene, alkyne có thể tham gia phản ứng cộng, phản ứng oxi hoá; alk-1-yne có thể tham gia phản ứng với dung dịch  $AgNO_3/NH_3$ .
- Quy tắc Markovnikov: khi cộng HX vào liên kết bội, nguyên tử hydrogen sẽ ưu tiên cộng vào nguyên tử carbon có nhiều hydrogen hơn và X sẽ cộng vào nguyên tử carbon có ít hydrogen hơn.
- Phản ứng trùng hợp alkene.
- Phương pháp điều chế ethylene, acetylene.
- Alkene, alkyne được ứng dụng rộng rãi để sản xuất các hoá chất và vật liệu có ứng dụng trong công nghiệp và đời sống.

## EM CÓ THỂ

Vận dụng các kiến thức về alkene, alkyne để giải thích được các vai trò quan trọng của alkene và alkyne trong công nghiệp hoá học, công nghiệp dược phẩm, vật liệu,...

## ARENE (HYDROCARBON THƠM)

### MỤC TIÊU

- Nêu được khái niệm về arene.
- Viết được công thức và gọi tên một số arene.
- Trình bày được đặc điểm về tính chất vật lí, trạng thái tự nhiên của một số arene, đặc điểm liên kết và hình dạng phân tử benzene.
- Trình bày được tính chất hoá học đặc trưng của arene (hoặc qua mô tả thí nghiệm): phản ứng thế của benzene và toluene; phản ứng cộng chlorine, hydrogen vào vòng benzene; phản ứng oxi hoá hoàn toàn, oxi hoá nhóm alkyl.
- Thực hiện được (hoặc quan sát qua video hoặc qua mô tả) thí nghiệm nitro hoá benzene, cộng chlorine vào benzene, oxi hoá benzene và toluene bằng dung dịch  $KMnO_4$ ; mô tả các hiện tượng thí nghiệm và giải thích được tính chất hoá học của arene.
- Trình bày được ứng dụng của arene và đưa ra được cách ứng xử thích hợp đối với việc sử dụng arene trong việc bảo vệ sức khoẻ con người và môi trường.
- Trình bày được phương pháp điều chế arene trong công nghiệp.



Làm thế nào có thể lựa chọn và sử dụng các sản phẩm được sản xuất từ arene và dẫn xuất của nó an toàn, thân thiện với môi trường?

### 1 KHÁI NIỆM VÀ DANH PHÁP

#### 1. Khái niệm

Arene hay còn gọi là hydrocarbon thơm là những hydrocarbon trong phân tử có chứa một hay nhiều vòng benzene.

Benzene có công thức  $C_6H_6$  là một hydrocarbon thơm đơn giản và điển hình nhất.

Benzene và các đồng đẳng của nó hợp thành dãy đồng đẳng của benzene có công thức chung là  $C_nH_{2n-6}$  ( $n \geq 6$ ).

#### 2. Công thức cấu tạo và danh pháp

Một số arene, gốc aryl thường gặp có công thức cấu tạo và tên gọi như sau:



benzene



methylbenzene  
(toluene)



vinylbenzene  
(styrene)



naphthalene

Tên gốc aryl	
	phenyl
	benzyl



1,2-dimethylbenzene  
(*o*-xylene)



1,3-dimethylbenzene  
(*m*-xylene)



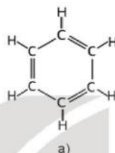
1,4-dimethylbenzene  
(*p*-xylene)

(*o*-, *m*-, *p*- là viết tắt của các từ tương ứng *ortho*-, *meta*-, *para*- chỉ vị trí 2, 3, 4 của nhóm thế thứ hai).

## II ĐẶC ĐIỂM CẤU TẠO CỦA BENZENE

Phân tử benzene có 6 nguyên tử carbon tạo thành hình lục giác đều, tất cả nguyên tử carbon và hydrogen đều nằm trên một mặt phẳng, các góc liên kết đều bằng  $120^\circ$ , độ dài liên kết carbon – carbon đều bằng 139 pm.

Để đơn giản, benzene thường được biểu diễn bởi các kiểu công thức dưới đây:



Hình 17.1. Công thức cấu tạo (a) và mô hình phân tử (b) của benzene

## III TÍNH CHẤT VẬT LÝ VÀ TRẠNG THÁI TỰ NHIÊN

Benzene, toluene, xylene, styrene ở điều kiện thường là chất lỏng không màu, trong suốt, dễ cháy và có mùi đặc trưng. Naphthalene là chất rắn màu trắng, có mùi đặc trưng (có thể phát hiện được ở nồng độ thấp).

Các arene không phân cực hoặc kém phân cực nên không tan trong nước và thường nhẹ hơn nước, tan được trong các dung môi hữu cơ.

Bảng 17.1. Tính chất vật lý của một số arene<sup>(1)</sup>

Arene	Nhiệt độ nóng chảy ( $^\circ\text{C}$ )	Nhiệt độ sôi ( $^\circ\text{C}$ )	Khối lượng riêng ( $\text{g}/\text{cm}^3$ )
Benzene	5,5	80,1	0,878
Toluene	-95,0	110,6	0,867
<i>o</i> -Xylene	-25,2	144	0,880
<i>m</i> -Xylene	-47,4	139	0,864
<i>p</i> -Xylene	13,3	138	0,861
Styrene	-30,0	145	0,909
Naphthalene	80,26	218	1,0253 (20 $^\circ\text{C}$ ) 0,9625 (100 $^\circ\text{C}$ )

<sup>(1)</sup> Nguồn: <http://pubchem.ncbi.nlm.nih.gov>.

Benzene, toluene, xylene (được gọi chung là BTX) có trong dầu mỏ với hàm lượng thấp. Khi chưng cất dầu thô thường nhận được phân đoạn có chứa các arene này. Naphthalene và các arene đa vòng khác có trong dầu mỏ và nhựa than đá.



1. Hãy so sánh nhiệt độ sôi của benzene, toluene, o-xylene (Bảng 17.1) và giải thích.

## IV TÍNH CHẤT HOÁ HỌC

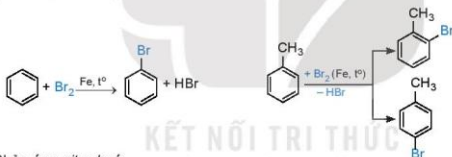
### 1. Phản ứng thế

Arene có thể tham gia phản ứng thế nguyên tử hydrogen ở vòng benzene như phản ứng halogen hoá, nitro hoá,...

**Quy tắc thế:** Khi benzene có nhóm thế alkyl ( $-CH_3$ ,  $-C_2H_5$ , ...), các phản ứng thế nguyên tử hydrogen ở vòng benzene xảy ra dễ dàng hơn so với benzene và ưu tiên thế vào vị trí số 2 hoặc số 4 (vị trí *ortho* hoặc *para*) so với nhóm alkyl.

#### a) Phản ứng halogen hoá

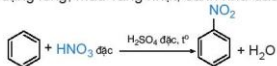
Các arene tham gia phản ứng thế nguyên tử hydrogen gắn với vòng thơm bằng halogen (chlorine, bromine) ở nhiệt độ cao khi có mặt bột sắt.



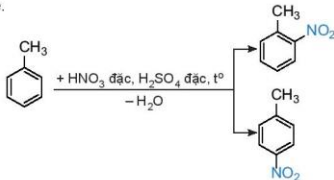
#### b) Phản ứng nitro hoá

Phản ứng nitro hoá là phản ứng trong đó một hay nhiều nguyên tử hydrogen ở vòng benzene được thay thế bằng nhóm nitro ( $-\text{NO}_2$ ).

Benzene được nitro hoá bằng hỗn hợp  $\text{HNO}_3$  đặc và  $\text{H}_2\text{SO}_4$  đặc ở nhiệt độ không quá  $50^\circ\text{C}$  tạo nitrobenzene dạng lỏng, màu vàng nhạt, sánh như dầu:



Toluene được nitro hoá tạo thành hỗn hợp hai sản phẩm chính là *ortho* và *para*-nitrotoluene.





## EM CÓ BIẾT

Nitrobenzene được ứng dụng trong nông nghiệp để tổng hợp chất kích thích tăng trưởng thực vật, kích thích cây ra hoa. Nitrobenzene là nguyên liệu để sản xuất aniline, tiền chất để tổng hợp polyaniline, cao su nhân tạo, thuốc trừ sâu, thuốc nhuộm azo và đặc biệt là nguyên liệu tổng hợp được phẩm.

2,4,6-Trinitrotoluene (thường gọi là TNT) là một trong những chất nổ đã từng được sử dụng phổ biến nhất trong quân sự, công nghiệp và khai thác mỏ.

TNT không hoà tan trong nước nên có thể sử dụng được trong môi trường ẩm ướt. Để kích nổ TNT cần được khơi mào bằng kip nổ. Hiện nay, chất nổ dùng cho quân sự là amatol (hỗn hợp của TNT với ammonium nitrate).

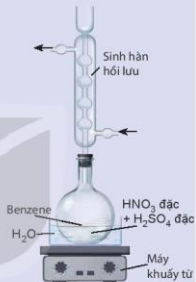


### Nghiên cứu phản ứng nitro hoá benzene

Phản ứng nitro hoá benzene được thực hiện như sau:

- Cho con từ vào bình cầu dung tích 250 mL, thêm khoảng 30 mL  $H_2SO_4$  đặc, làm lạnh trong chậu nước đá rồi thêm từ từ vào khoảng 30 mL  $HNO_3$ , sau đó thêm tiếp khoảng 10 mL benzene và lắp sinh hàn hồi lưu.
- Đun cách thủy hỗn hợp phản ứng trên bếp từ đến  $80^\circ C$  trong khoảng 60 phút (Hình 17.2).
- Để nguội rồi cho hỗn hợp vào phễu chiết, quan sát thấy chất lỏng tách thành hai lớp, lớp trên là sản phẩm phản ứng, lớp dưới là dung dịch hỗn hợp hai acid.
- Chiết lấy lớp chất lỏng phía trên, thêm khoảng 100 mL nước lạnh vào phễu chiết để rửa acid, thu được chất lỏng màu vàng, nặng hơn nước và nằm ở phần dưới của phễu chiết.

Hãy cho biết chất lỏng màu vàng là chất gì và giải thích.



Hình 17.2. Thí nghiệm nitro hoá benzene



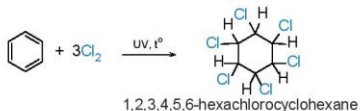
2. Viết phương trình phản ứng của ethylbenzene với các tác nhân sau:

- a)  $Br_2/Fe, t^\circ$ ;      b)  $HNO_3$  đặc/ $H_2SO_4$  đặc.

### 2. Phản ứng cộng

#### a) Phản ứng cộng chlorine

Phản ứng cộng chlorine vào benzene trong điều kiện có ánh sáng tử ngoại và đun nóng, sản phẩm thu được là 1,2,3,4,5,6-hexachlorocyclohexane.





### Nghiên cứu phản ứng cộng chlorine vào benzene

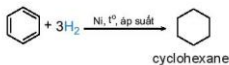
Phản ứng cộng chlorine vào benzene được tiến hành như sau:

Dẫn một lượng nhỏ khí chlorine vào bình nón chứa một ít benzene, đẩy kín lại rồi đưa bình ra ngoài ánh nắng. Trong bình xuất hiện khói trắng và trên thành bình thấy xuất hiện một lớp bột màu trắng.

Hãy cho biết lớp bột màu trắng trên thành bình là chất gì. Giải thích.

#### b) Phản ứng cộng hydrogen

Phản ứng cộng hydrogen vào benzene tạo thành cyclohexane. Phản ứng xảy ra ở điều kiện áp suất cao và nhiệt độ cao, với sự có mặt của các chất xúc tác dị thể như platinum, nickel.

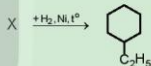


Phản ứng này được sử dụng trong công nghiệp để sản xuất cyclohexane.



3. Viết phương trình hoá học của phản ứng xảy ra khi hydrogen hoá hoàn toàn toluene và *p*-xylene, sử dụng xúc tác nickel.

4. Hydrogen hoá hoàn toàn arene X (công thức phân tử  $\text{C}_8\text{H}_{10}$ ) có xúc tác nickel thu được sản phẩm là ethylcyclohexane.

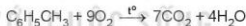


Viết công thức cấu tạo của X.

### 3. Phản ứng oxi hoá

#### a) Phản ứng oxi hoá hoàn toàn (phản ứng cháy)

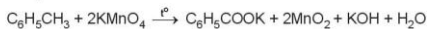
Các arene như benzene, toluene, xylene dễ cháy và toả nhiều nhiệt.



#### b) Phản ứng oxi hoá nhóm alkyl

Toluene và các alkylbenzene khác có thể bị oxi hoá bởi các tác nhân oxi hoá như dung dịch  $\text{KMnO}_4$ .

Ví dụ:



### EM CÓ BIẾT

Benzoic acid và sodium benzoate có khả năng ngăn ngừa sự phát triển của nấm mốc nên được sử dụng làm chất bảo quản thực phẩm (thường được kí hiệu là E210 và E211).

Hình 17.3. Sodium benzoate (E211) có trong thành phần của một loại thực phẩm đóng hộp

INGREDIENTS		
Water,	Mango	Pulp/Juice
Concentrate,	Sugar,	Citric Acid
(E240),	Ascorbic Acid	(E300),
Sorbic Acid	(E202),	Potassium Sorbate
(E202),	Sodium Benzoate	(E211).
Allergens: None		
*NOT A PLACE NAME FROM SUNLIGHT		



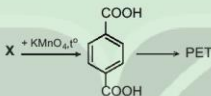
**Nghiên cứu phản ứng oxi hoá toluene và benzene bằng dung dịch  $KMnO_4$**

- Cho vào hai ống nghiệm, mỗi ống 1 mL dung dịch  $KMnO_4$  0,05 M và 1 mL dung dịch  $H_2SO_4$  2M.
- Cho tiếp vào ống (1) 1 mL benzene, ống nghiệm (2) 1 mL toluene. Lắc đều và đậy cả hai ống nghiệm bằng nút có ống thủy tinh thẳng.
- Đun cách thủy hai ống nghiệm trong nồi nước nóng. Ống nghiệm (2) màu tím nhạt dần và mất màu, ống nghiệm (1) vẫn giữ nguyên màu tím.

Nhận xét khả năng phản ứng của benzene và toluene với  $KMnO_4$ . Giải thích.



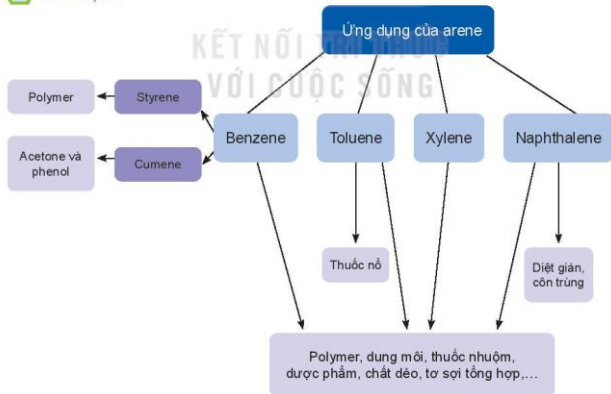
5. Terephthalic acid là nguyên liệu để tổng hợp nhựa poly(ethylene terephthalate) (PET) dùng để sản xuất tơ sợi, chai nhựa. Terephthalic acid có thể được tổng hợp từ arene X có công thức phân tử  $C_8H_{10}$ , bằng cách oxi hoá X bởi dung dịch thuốc tím:



Hãy xác định công thức cấu tạo của X.



**ỨNG DỤNG**



### Cách ứng xử thích hợp với việc sử dụng arene

Arene (chủ yếu là benzene, toluene và xylene) là nguồn nguyên liệu để tổng hợp nhiều loại hoá chất và vật liệu hữu cơ quan trọng, có nhiều ứng dụng trong đời sống.

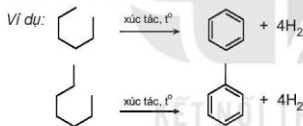
Tuy nhiên, arene là những chất độc nên khi làm việc với arene cần tuân thủ đúng quy tắc an toàn. Benzene là chất làm tăng nguy cơ gây ung thư và các bệnh khác, vì vậy không được tiếp xúc trực tiếp với hoá chất này.

Đặc biệt, các thuốc bảo vệ thực vật (thuốc trừ sâu, trừ cỏ) thế hệ cũ là dẫn xuất của benzene đều có tác hại đối với sức khoẻ con người và gây ô nhiễm môi trường, do vậy cần hết sức thận trọng khi sử dụng. Không được sử dụng các chất đã bị cấm như DDT (dichlorodiphenyltrichloroethane) hay 666 (1,2,3,4,5,6-hexachlorocyclohexane), thay vào đó là những thuốc thế hệ mới vừa hiệu quả vừa an toàn.

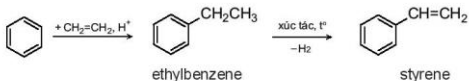
Ngày nay, các nhà khoa học nghiên cứu và đưa ra công nghệ tổng hợp hữu cơ an toàn, thân thiện môi trường và hướng đến các nguồn nguyên liệu nguồn gốc thiên nhiên.

### VI ĐIỀU CHẾ

Trong công nghiệp, benzene, toluene được điều chế từ quá trình reforming phân đoạn dầu mỏ chứa các alkane và cycloalkane C<sub>6</sub> – C<sub>8</sub>.



Ethylbenzene được điều chế từ phản ứng giữa benzene và ethylene với xúc tác acid rắn là zeolite.

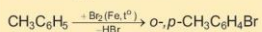



Naphthalene được điều chế chủ yếu bằng phương pháp chưng cất nhựa than đá.


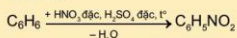
### EM DÃ HỌC

- Arene là những hydrocarbon trong phân tử có chứa một hay nhiều vòng benzene.
- Benzene, toluene, xylene, styrene ở điều kiện thường là chất lỏng không màu, trong suốt, dễ cháy và có mùi đặc trưng. Naphthalene là chất rắn kết tinh màu trắng, có mùi đặc trưng. Các arene không tan trong nước và thường nhẹ hơn nước, tan trong các dung môi hữu cơ.
- Phản ứng thế vào vòng thơm benzene

#### Halogen hoá



#### Nitro hoá

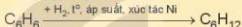


- Phản ứng cộng

#### Cộng chlorine



#### Cộng hydrogen



- Phản ứng oxi hoá

#### Phản ứng cháy

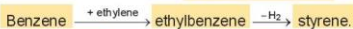
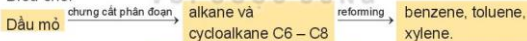
Các arene dễ cháy và toả nhiều nhiệt.

#### Phản ứng oxi hoá nhóm alkyl

- Ứng dụng của arene: nguyên liệu đầu để tổng hợp polymer, dung môi, thuốc nhuộm, dược phẩm, chất dẻo, tơ sợi tổng hợp....

Arene có độc tính, cần được sử dụng một cách hợp lý: hạn chế sử dụng thuốc bảo vệ thực vật và chỉ sử dụng thuốc thế hệ mới.


- Điều chế:



### EM CÓ THỂ

Trình bày về tầm quan trọng của arene trong công nghiệp hoá học, dược phẩm, sản xuất thuốc bảo vệ thực vật,...

1 HỆ THỐNG HOÁ KIẾN THỨC

HYDROCARBON				
	Alkane	Alkene	Alkyne	Arene
Công thức tổng quát	$C_nH_{2n+2}$ ( $n \geq 1$ )	$C_nH_{2n}$ ( $n \geq 2$ )	$C_nH_{2n-2}$ ( $n \geq 2$ )	Đồng đẳng của benzene $C_nH_{2n-6}$ ( $n \geq 6$ )
Đặc điểm cấu tạo phân tử	<ul style="list-style-type: none"> <li>Mạch hở, chỉ có liên kết đơn</li> <li>Có đồng phân mạch carbon</li> </ul>	<ul style="list-style-type: none"> <li>Mạch hở, có 1 liên kết đôi</li> <li>Có đồng phân: mạch carbon, vị trí liên kết đôi, đồng phân hình học</li> </ul>	<ul style="list-style-type: none"> <li>Mạch hở, có 1 liên kết ba</li> <li>Có đồng phân: mạch carbon, vị trí liên kết ba</li> </ul>	<ul style="list-style-type: none"> <li>Có vòng benzene: </li> <li>Có đồng phân mạch carbon của alkyl, vị trí các nhóm alkyl,...</li> </ul>
Tính chất hoá học	<ul style="list-style-type: none"> <li>Phản ứng thế halogen</li> <li>Phản ứng cracking</li> <li>Phản ứng reforming</li> <li>Phản ứng oxi hoá</li> </ul>	<ul style="list-style-type: none"> <li>Phản ứng cộng (<math>H_2</math>, <math>Br_2</math>, <math>HX</math>, <math>H_2O</math>)</li> <li>Phản ứng trùng hợp</li> <li>Phản ứng oxi hoá</li> </ul>	<ul style="list-style-type: none"> <li>Phản ứng cộng (<math>H_2</math>, <math>Br_2</math>, <math>HX</math>, <math>H_2O</math>)</li> <li>Phản ứng alk-1-yne với <math>AgNO_3/NH_3</math></li> <li>Phản ứng oxi hoá</li> </ul>	<ul style="list-style-type: none"> <li>Phản ứng thế (halogen hoá, nitro hoá)</li> <li>Phản ứng cộng (<math>Cl_2</math>, <math>H_2</math>)</li> <li>Phản ứng oxi hoá</li> </ul>
Ứng dụng	<ul style="list-style-type: none"> <li>Nhiên liệu: xăng, diesel, nhiên liệu phân lực</li> <li>Nguyên liệu: vaseline, nến, sáp, sản xuất hoá chất</li> </ul>	<ul style="list-style-type: none"> <li>Tổng hợp polymer</li> <li>Ethylene: kích thích quả mau chín</li> <li>Nguyên liệu sản xuất hoá chất</li> </ul>	<ul style="list-style-type: none"> <li>Đèn xi oxygen – acetylene</li> <li>Nguyên liệu sản xuất hoá chất</li> </ul>	<ul style="list-style-type: none"> <li>Tổng hợp polymer</li> <li>Toluene: sản xuất thuốc nổ</li> <li>Nguyên liệu sản xuất hoá chất</li> </ul>

HYDROCARBON	
Alkane	
Điều chế	<ul style="list-style-type: none"> <li>• Dầu mỏ <math>\xrightarrow{\text{chưng cất phân đoạn}}</math> các sản phẩm alkane khác nhau</li> <li>• Khí thiên nhiên</li> </ul>
Alkene	
<ul style="list-style-type: none"> <li>• Trong phòng thí nghiệm: ethylene được điều chế từ phản ứng dehydrate ethanol.</li> <li>• Trong công nghiệp: Alkane <math>\xrightarrow{\text{cracking}}</math> alkene</li> </ul>	
Alkyne	Arene
<ul style="list-style-type: none"> <li>• Acetylene được điều chế từ phản ứng giữa calcium carbide với nước.</li> <li>• Methane <math>\xrightarrow{1500^\circ\text{C}}</math> acetylene</li> </ul>	<ul style="list-style-type: none"> <li>• Alkane <math>\xrightarrow{\text{reforming}}</math> benzene, toluene, xylene</li> <li>• Nhựa than đá <math>\xrightarrow{\text{chưng cất}}</math> naphthalene</li> </ul>

### LUYỆN TẬP

**Câu 1.** Phát biểu nào sau đây là không đúng?

- A. Trong phân tử hydrocarbon, số nguyên tử hydrogen luôn là số chẵn.  
 B. Trong phân tử alkene, liên kết đôi gồm một liên kết  $\sigma$  và một liên kết  $\pi$ .  
 C. Hydrocarbon no là hydrocarbon mà trong phân tử chỉ có liên kết đơn.  
 D. Công thức chung của hydrocarbon no, mạch hở có dạng  $C_nH_{2n}$ .

**Câu 2.** Hai hydrocarbon A và B có cùng công thức phân tử là  $C_5H_{12}$  tác dụng với chlorine thì A chỉ tạo ra một dẫn xuất monochlorine duy nhất, còn B có thể tạo ra 4 dẫn xuất monochlorine. Tên gọi của A và B lần lượt là

- A. 2,2-dimethylpropane và 2-methylbutane.  
 B. 2,2-dimethylpropane và pentane.  
 C. 2-methylbutane và 2,2-dimethylpropane.  
 D. 2-methylbutane và pentane.

**Câu 3.** Gas, nhiên liệu phổ biến hiện nay có thành phần chính là propane và butane. Nhiệt lượng giải phóng khi đốt cháy hoàn toàn 1 kg một loại gas là khoảng 50 400 kJ.

a) Biết để làm nóng 1 kg nước lên 1 độ thì cần cung cấp nhiệt lượng là 4 200 J. Để đun sôi 30 kg nước từ nhiệt độ 20 °C cần cung cấp bao nhiêu kJ nhiệt?

- A. 2 520 kJ.      B. 5 040 kJ.      C. 10 080 kJ.      D. 6 048 kJ.

b) Cần đốt cháy hoàn toàn bao nhiêu kg gas để cung cấp đủ nhiệt lượng trên, biết hiệu suất hấp thụ nhiệt đạt 80%?

- A. 0,20 kg.      B. 0,25 kg.      C. 0,16 kg.      D. 0,40 kg.

**Câu 4.** Styrene phản ứng với bromine tạo thành sản phẩm có công thức phân tử  $C_8H_8Br_2$ . Hãy viết công thức cấu tạo của hợp chất này.

**Câu 5.** Reforming octane ( $C_8H_{18}$ ) thu được các arene có công thức phân tử  $C_8H_{10}$ . Hãy viết công thức cấu tạo của các arene này.

### MỤC TIÊU

- Nêu được khái niệm dẫn xuất halogen.
- Viết được công thức cấu tạo, gọi tên theo danh pháp thay thế và danh pháp thường của một vài dẫn xuất halogen thường gặp.
- Nêu được đặc điểm về tính chất vật lí của một số dẫn xuất halogen.
- Trình bày được tính chất hoá học cơ bản của dẫn xuất halogen: phản ứng thế nguyên tử halogen; phản ứng tách hydrogen halide theo quy tắc Zaitsev.
- Thực hiện được (hoặc quan sát video) thí nghiệm thủy phân bromoethane; mô tả các hiện tượng thí nghiệm, giải thích được tính chất hoá học của dẫn xuất halogen.
- Trình bày được ứng dụng của các dẫn xuất halogen; tác hại của việc sử dụng các hợp chất chlorofluorocarbon (CFC) trong công nghệ làm lạnh. Đưa ra được cách ứng xử thích hợp đối với việc lạm dụng các dẫn xuất halogen trong đời sống và sản xuất.



Nhiều dẫn xuất halogen được sử dụng làm thuốc chữa bệnh, thuốc bảo vệ thực vật, chất làm lạnh,... Vậy dẫn xuất halogen là gì?



### KHÁI NIỆM, DANH PHÁP

#### 1. Khái niệm

Khi thay thế nguyên tử hydrogen trong phân tử hydrocarbon bằng nguyên tử halogen, được dẫn xuất halogen của hydrocarbon.

Công thức tổng quát của dẫn xuất halogen:

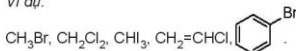


R: gốc hydrocarbon

X: F, Cl, Br, I

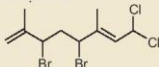
n: số nguyên tử halogen

Ví dụ:



### EM CÓ BIẾT

Hàng nghìn các dẫn xuất halogen đã được tách ra từ nhiều loại sinh vật biển khác nhau như rong, tảo biển, san hô,... Chúng có các hoạt tính sinh học rất quý giá như khả năng điều trị bệnh ung thư và nhiều bệnh khác.



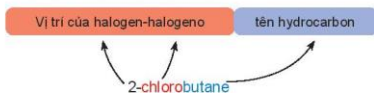
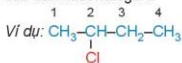
**Hình 19.1.** Dẫn xuất halogen tách ra từ tảo biển đỏ chi *Laurencia* có tác dụng chống ung thư vòm họng



## 2. Danh pháp

### a) Danh pháp thay thế

Tên theo danh pháp thay thế của dẫn xuất halogen:

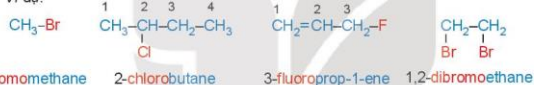


Halogeno: Đuôi “-ine” trong tên halogen được đổi thành đuôi “-o”.

Chú ý:

- Nếu halogen chỉ có một vị trí duy nhất thì không cần số chỉ vị trí halogen.
- Mạch carbon được ưu tiên đánh số từ phía gần nhóm thế hơn (từ nguyên tử halogen hoặc từ nhánh alkyl).
- Nếu có liên kết bội thì ưu tiên đánh số từ phía gần liên kết bội.
- Nếu có nhiều nguyên tử halogen thì cần thêm độ bội (di, tri, tetra, ...) trước "halogeno".

Ví dụ:



### b) Tên thông thường

Một số dẫn xuất halogen thường gặp được gọi theo tên thông thường như chloroform ( $\text{CHCl}_3$ ), bromoform ( $\text{CHBr}_3$ ), iodoform ( $\text{CHI}_3$ ),  $\text{CCl}_4$  (carbon tetrachloride).

### EM CÓ BIẾT


Một số dẫn xuất halogen đơn giản được gọi tên theo danh pháp gốc – chức:

Tên gốc hydrocarbon + halide



1. Viết các đồng phân cấu tạo của dẫn xuất halogen có công thức phân tử  $\text{C}_4\text{H}_9\text{Cl}$  và gọi tên theo danh pháp thay thế.

2. Gọi tên theo danh pháp thay thế các dẫn xuất halogen sau đây:





- Thêm 2 mL dung dịch NaOH 10% vào ống nghiệm (1).
- Lắc nhẹ ống nghiệm rồi ngâm vào cốc nước nóng khoảng 5 phút, thỉnh thoảng lắc đều ống nghiệm, để nguội rồi lấy khoảng 1 mL chất lỏng ở phần trên ống nghiệm (1) và chuyển sang ống nghiệm (2).
- Trung hoà base dư ở ống nghiệm (2) sau khi nhỏ dung dịch AgNO<sub>3</sub> bằng dung dịch HNO<sub>3</sub> (thử bằng giấy chỉ thị pH) rồi nhỏ thêm vài giọt dung dịch AgNO<sub>3</sub> 1%, quan sát thấy có kết tủa vàng nhạt xuất hiện.

Trả lời câu hỏi và thực hiện yêu cầu sau:

1. Tại sao ban đầu hỗn hợp lại tách thành hai lớp, bromoethane nằm ở lớp nào?
2. Kết tủa xuất hiện ở ống nghiệm (2) sau khi thêm dung dịch AgNO<sub>3</sub> vào là chất gì? Tại sao cần phải trung hoà dung dịch base dư trước khi cho dung dịch AgNO<sub>3</sub> 1% vào ống nghiệm (2)?
3. Dự đoán sản phẩm và viết phương trình hoá học của các phản ứng xảy ra trong quá trình thí nghiệm.

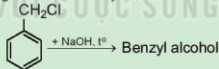
Các dẫn xuất halogen có thể tham gia phản ứng với dung dịch kiềm, nguyên tử halogen bị thay thế bởi nhóm OH<sup>-</sup>, tạo thành alcohol theo phản ứng:



(X = Cl, Br, I; X liên kết với nguyên tử carbon no)<sup>(1)</sup>.

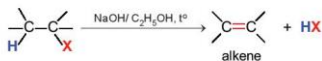


4. Benzyl alcohol là một hợp chất có tác dụng kháng khuẩn, chống vi sinh vật kí sinh trên da (chấy, rận,...) nên được sử dụng rộng rãi trong mỹ phẩm, dược phẩm. Benzyl alcohol thu được khi thủy phân benzyl chloride trong môi trường kiềm. Hãy xác định công thức của benzyl alcohol.



## 2. Phản ứng tách hydrogen halide

Các dẫn xuất monohalogen của alkane có thể bị tách hydrogen halide tạo thành alkene theo sơ đồ sau:



Phản ứng xảy ra khi đun nóng dẫn xuất halogen với base mạnh như NaOH, RONA trong dung môi alcohol.

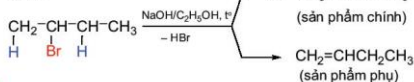


<sup>(1)</sup> Nguyên tử carbon no là nguyên tử carbon liên kết với các nguyên tử khác bằng các liên kết đơn.

Phản ứng tách xảy ra theo quy tắc tách Zaitsev (Zai-xép):

Trong phản ứng tách hydrogen halide, nguyên tử halogen bị tách ưu tiên cùng với nguyên tử hydrogen ở carbon bên cạnh có bậc cao hơn.

Ví dụ:



- Viết phương trình hoá học xảy ra khi đun nóng 2-chloropropane ( $\text{CH}_3\text{CHClCH}_3$ ) với sodium hydroxide trong ethanol.
- Thực hiện phản ứng tách hydrogen bromide của hợp chất 2-bromo-2-methylbutane thu được những alkene nào? Xác định sản phẩm chính của phản ứng.

## ỨNG DỤNG

### 1. Một số ứng dụng tiêu biểu của dẫn xuất halogen

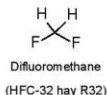


### 2. Dẫn xuất halogen với sức khoẻ và môi trường

#### a) CFC và tầng ozone

Một số dẫn xuất halogen chứa đồng thời chlorine, fluorine như  $\text{CF}_2\text{Cl}_2$ ,  $\text{CFCl}_3$ ,  $\text{C}_2\text{F}_4\text{Cl}_2$ ,...; được gọi chung là chlorofluorocarbon (viết tắt là CFC). Các hợp chất này trước đây được sử dụng phổ biến trong các hệ thống làm lạnh như tủ lạnh, máy điều hoà nhiệt độ, hệ thống làm lạnh công nghiệp; chất đẩy trong các bình xịt,... Tuy nhiên do ảnh hưởng gây hại đến tầng ozone nên CFC bị hạn chế và cấm sử dụng (Nghị định thư Montréal, 1987). Hiện nay CFC được thay thế bởi các dẫn xuất halogen không chứa chlorine như hydrofluorocarbon (HFC), hydrofluorolefin (HFO).

Năm 2019, báo cáo của các nhà khoa học cho thấy lỗ thủng ozone đang dần được thu hẹp và dự kiến tầng ozone sẽ được phục hồi hoàn toàn vào năm 2070. Việc chúng ta chọn lựa, sử dụng các sản phẩm không chứa CFC (CFC free) cũng góp phần vào việc tái tạo tầng ozone của Trái Đất.



Hình 19.2. R32 – chất làm lạnh đang được sử dụng phổ biến hiện nay

b) Thuốc trừ sâu, thuốc diệt cỏ và chất kích thích sinh trưởng thực vật

Nhiều dẫn xuất của chlorine trước đây được sử dụng phổ biến trong nông nghiệp dùng làm thuốc bảo vệ thực vật, chất kích thích sinh trưởng như thuốc trừ sâu, diệt côn trùng (dichlorodiphenyltrichloroethane – DDT, hexachlorocyclohexane – 666), thuốc diệt cỏ, làm rụng lá (2,4-dichlorophenoxyacetic acid – 2,4-D; 2,4,5-trichlorophenoxyacetic acid – 2,4,5-T),...

Tuy nhiên, do đặc tính khó phân huỷ, tồn dư lâu trong môi trường và có tác hại đến sức khoẻ con người nên các loại hợp chất này hiện nay bị hạn chế hoặc bị cấm sử dụng tại nhiều quốc gia. Để giảm thiểu tác động đến môi trường và con người, xu hướng trong nông nghiệp hiện nay là hướng tới một nền "nông nghiệp xanh" với việc giảm thiểu, tránh lạm dụng thuốc bảo vệ thực vật hoá học và thay thế dần bằng thuốc bảo vệ thực vật có nguồn gốc sinh học thân thiện với môi trường. Ngoài ra, các quy trình canh tác không sử dụng phân bón hoá học và thuốc bảo vệ thực vật hoá học cũng đang dần được áp dụng phổ biến trong nông nghiệp.



1. Sưu tầm tranh, ảnh, tài liệu minh họa cho các ứng dụng của dẫn xuất halogen trong thực tế cuộc sống.
2. Hiện nay, điều hoà, tủ lạnh thường sử dụng một số loại chất làm lạnh phổ biến như R22 ( $\text{CHClF}_2$ ), R32 ( $\text{CH}_2\text{F}_2$ ), R410A (50%  $\text{CH}_2\text{F}_2$  và 50%  $\text{CHF}_2\text{-CF}_3$ ). Loại chất làm lạnh nào không nên sử dụng? Giải thích.
3. Hãy tìm hiểu và cho biết thành phần thuốc bảo vệ thực vật thường dùng ở Việt Nam. Các thuốc này có nguồn gốc hoá học hay sinh học? Lựa chọn và sử dụng các loại thuốc bảo vệ thực vật như thế nào để bảo đảm an toàn, hiệu quả?

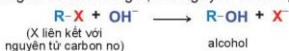
### EM ĐÃ HỌC

- Công thức tổng quát của dẫn xuất halogen:  $RX_n$ .
- Danh pháp thay thế của dẫn xuất halogen:

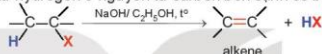
Vị trí của halogen-halogeno

tên hydrocarbon

- Dẫn xuất halogen có nhiệt độ nóng chảy và nhiệt độ sôi cao hơn hydrocarbon có phân tử khối tương đương; khó tan trong nước, tan tốt trong các dung môi hữu cơ.
- Dẫn xuất halogen có khả năng bị thế nguyên tử halogen:



- Phản ứng tách HX theo quy tắc Zaitsev: Nguyên tử halogen bị tách ưu tiên cùng với nguyên tử hydrogen ở nguyên tử carbon bên cạnh có bậc cao hơn.



- Ứng dụng của dẫn xuất halogen: dung môi, vật liệu polymer, chất làm lạnh, dược phẩm, thuốc bảo vệ thực vật, chất bảo vệ thực vật, kích thích sinh trưởng,...

### EM CÓ THỂ

- Giải thích được tác hại của: các chất CFC đến tầng ozone, một số loại thuốc bảo vệ thực vật có hại đến sức khỏe con người và môi trường.
- Đọc và nhận biết được thành phần của các sản phẩm gia dụng có chứa các dẫn xuất halogen của hydrocarbon, từ đó hiểu được giá trị ứng dụng của các hợp chất này và biết sử dụng các đồ dùng trong gia đình đúng cách, đảm bảo an toàn.
- Lựa chọn các sản phẩm gia dụng không chứa CFC, các thuốc bảo vệ thực vật an toàn để bảo vệ sức khỏe và môi trường sống.

**MỤC TIÊU**

- Nêu được khái niệm alcohol; công thức tổng quát của alcohol no, đơn chức, mạch hở; khái niệm về bậc của alcohol; đặc điểm liên kết và hình dạng phân tử của methanol, ethanol.
- Viết được công thức cấu tạo, gọi tên theo danh pháp thay thế một số alcohol đơn giản, tên thông thường của một vài alcohol thường gặp.
- Trình bày được đặc điểm về tính chất vật lí của alcohol, giải thích được ảnh hưởng của liên kết hydrogen đến nhiệt độ sôi và khả năng hoà tan trong nước của các alcohol.
- Trình bày được tính chất hoá học của alcohol: phản ứng thế nguyên tử H của nhóm -OH; phản ứng tạo thành alkene hoặc ether; phản ứng oxi hoá alcohol bậc I, bậc II thành aldehyde, ketone bằng CuO; phản ứng cháy.
- Thực hiện được các thí nghiệm đốt cháy ethanol, glycerol tác dụng với copper(II) hydroxide; mô tả được các hiện tượng thí nghiệm và giải thích được tính chất hoá học của alcohol.
- Trình bày được ứng dụng của alcohol, tác hại của việc lạm dụng rượu bia và đồ uống có cồn; Nêu thái độ, cách ứng xử của cá nhân với việc bảo vệ sức khoẻ bản thân, gia đình và cộng đồng.
- Trình bày được phương pháp điều chế ethanol bằng phương pháp hydrate hoá ethylene, lên men tinh bột; điều chế glycerol từ propylene.



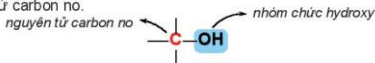
Từ xa xưa con người đã biết lên men các loại ngũ cốc, hoa quả để tạo ra các đồ uống có cồn (có chứa ethanol – một alcohol quen thuộc). Ngày nay, alcohol được sử dụng phổ biến trong nhiều lĩnh vực khác nhau như làm dung môi, nguyên liệu hoá học, nhiên liệu, xăng sinh học, ... Vậy alcohol là gì và có những tính chất đặc trưng nào?



**1 KHÁI NIỆM, DANH PHÁP**

**1. Khái niệm**

Alcohol là những hợp chất hữu cơ trong phân tử có chứa nhóm hydroxy (-OH) liên kết với nguyên tử carbon no.

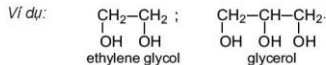


Alcohol no, đơn chức, mạch hở trong phân tử có một nhóm -OH liên kết với gốc alkyl, có công thức tổng quát là  $C_nH_{2n+1}OH$  ( $n \geq 1$ ).

Ví dụ:  $CH_3-OH$ ;  $CH_3-CH_2-OH$ ; ...



methanol
ethanol

Nếu alcohol có hai hay nhiều nhóm -OH thì các alcohol đó được gọi là các alcohol đa chức (polyalcohol).



Bậc của alcohol là bậc của nguyên tử carbon liên kết với nhóm hydroxy. Ta có alcohol bậc I, alcohol bậc II và alcohol bậc III (Bảng 20.1).

**Bảng 20.1.** Bậc của alcohol

Alcohol	Công thức tổng quát	Ví dụ
Bậc I	$\begin{array}{c} \text{H} \\   \\ \text{R}-\text{C}-\text{OH} \\   \\ \text{H} \end{array}$	$\text{CH}_3-\text{CH}_2-\text{OH}$ ; 
Bậc II	$\begin{array}{c} \text{R}' \\   \\ \text{R}-\text{C}-\text{OH} \\   \\ \text{H} \end{array}$	$\begin{array}{c} \text{CH}_3 \\   \\ \text{CH}_3-\text{C}-\text{OH} \\   \\ \text{H} \end{array}$ ; 
Bậc III	$\begin{array}{c} \text{R}' \\   \\ \text{R}-\text{C}-\text{OH} \\   \\ \text{R}'' \end{array}$	$\begin{array}{c} \text{CH}_3 \\   \\ \text{CH}_3-\text{C}-\text{OH} \\   \\ \text{CH}_3 \end{array}$

(R, R', R'' là các gốc hydrocarbon.)

## EM CÓ BIẾT

Trong tinh dầu của nhiều loại thảo mộc chứa các alcohol có bậc khác nhau. Những alcohol này có mùi thơm dễ chịu nên được sử dụng phổ biến làm hương liệu, mỹ phẩm.



geraniol  
(tinh dầu  
hoa hồng)



citronellol  
(tinh dầu sả)



menthol  
(tinh dầu  
bạc hà)



$\alpha$ -terpineol  
(tinh dầu  
tràm, thông)



borneol  
(tinh dầu  
long não)

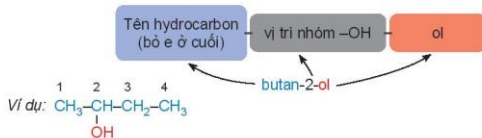


- Viết các đồng phân cấu tạo của alcohol có công thức  $\text{C}_4\text{H}_9\text{OH}$  và xác định bậc của các alcohol đó.

## 2. Danh pháp

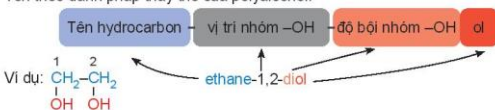
### a) Danh pháp thay thế

Tên theo danh pháp thay thế của monoalcohol:



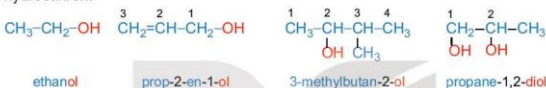


Tên theo danh pháp thay thế của polyalcohol:



Chú ý:

- Nếu nhóm -OH chỉ có một vị trí duy nhất thì không cần số chỉ vị trí nhóm -OH.
- Mạch carbon được ưu tiên đánh số từ phía gần nhóm -OH hơn.
- Nếu mạch carbon có nhánh thì cần thêm tên nhánh ở phía trước.
- Nếu có nhiều nhóm -OH thì cần thêm độ bội (di, tri,...) trước "ol" và giữ nguyên tên hydrocarbon.

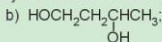
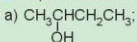


**Bảng 20.2.** Tên theo danh pháp thay thế và tên thông thường của một số alcohol

Công thức cấu tạo	Tên theo danh pháp thay thế	Tên thông thường
$\text{CH}_3\text{OH}$	methanol	methyl alcohol
$\text{CH}_3\text{CH}_2\text{OH}$	ethanol	ethyl alcohol
$\text{CH}_3\text{CH}_2\text{CH}_2\text{OH}$	propan-1-ol	propyl alcohol
$\begin{matrix} \text{CH}_3\text{CHCH}_3 \\   \\ \text{OH} \end{matrix}$	propan-2-ol	isopropyl alcohol
$\begin{matrix} \text{CH}_2-\text{CH}_2 \\   \quad   \\ \text{OH} \quad \text{OH} \end{matrix}$	ethane-1,2-diol	ethylene glycol
$\begin{matrix} \text{CH}_2-\text{CH}-\text{CH}_2 \\   \quad   \quad   \\ \text{OH} \quad \text{OH} \quad \text{OH} \end{matrix}$	propane-1,2,3-triol	glycerol



2. Gọi tên theo danh pháp thay thế các alcohol dưới đây:



3. Viết công thức cấu tạo của các alcohol có tên gọi dưới đây:

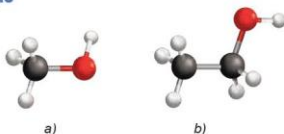
a) pentan-1-ol;

b) but-3-en-1-ol;

c) 2-methylpropan-2-ol;

d) butane-2,3-diol.

## II ĐẶC ĐIỂM CẤU TẠO



Hình 20.1. Mô hình phân tử của methanol (a) và ethanol (b)

Trong phân tử alcohol, các liên kết O–H và C–O đều phân cực về phía nguyên tử oxygen do oxygen có độ âm điện lớn.



Vì vậy, trong các phản ứng hoá học, alcohol thường bị phân cắt ở liên kết O–H hoặc liên kết C–O.

## III TÍNH CHẤT VẬT LÝ

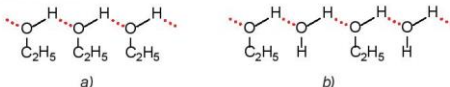
Các hợp chất propane, dimethyl ether và ethanol có phân tử khối gần tương đương nhau và có một số tính chất như sau:

	CH <sub>3</sub> CH <sub>2</sub> CH <sub>3</sub> propane	CH <sub>3</sub> OCH <sub>3</sub> dimethyl ether	CH <sub>3</sub> CH <sub>2</sub> OH ethanol
Phân tử khối	44	46	46
t <sub>s</sub> (°C)	-42,1	-24,9	78,3
Độ tan (g/100 g nước)	không tan	7,4	tan vô hạn

Hãy giải thích tạo sao ethanol có nhiệt độ sôi cao hơn và tan trong nước tốt hơn so với hai chất còn lại.

Ở điều kiện thường, các alcohol no, đơn chức từ C1 đến C12 ở trạng thái lỏng, các alcohol từ C13 trở lên ở trạng thái rắn. Các polyalcohol như ethylene glycol, glycerol là chất lỏng sánh, nặng hơn nước và có vị ngọt.

Alcohol có nhiệt độ sôi cao hơn các hydrocarbon, dẫn xuất halogen có phân tử khối tương đương và dễ tan trong nước do các phân tử alcohol có thể tạo liên kết hydrogen với nhau và với nước.



Hình 20.2. Liên kết hydrogen giữa các phân tử ethanol (a) và giữa ethanol với nước (b)

Khi số nguyên tử carbon trong phân tử tăng lên, độ tan trong nước của alcohol giảm nhanh do gốc hydrocarbon là phần kỵ nước tăng lên.

**Bảng 20.3.** Nhiệt độ sôi và độ tan của một số alcohol <sup>(1)</sup>

Alcohol	Nhiệt độ sôi (°C)	Độ tan (g/100g nước ở 20°C)
CH <sub>3</sub> OH	64,7	tan vô hạn
CH <sub>3</sub> CH <sub>2</sub> OH	78,3	tan vô hạn
CH <sub>3</sub> CH <sub>2</sub> CH <sub>2</sub> OH	97,2	tan vô hạn
CH <sub>3</sub> CH <sub>2</sub> CH <sub>2</sub> CH <sub>2</sub> OH	117,7	8,3
CH <sub>3</sub> CH <sub>2</sub> CH <sub>2</sub> CH <sub>2</sub> CH <sub>2</sub> OH	138	2,2
HOCH <sub>2</sub> CH <sub>2</sub> OH	197	tan vô hạn
HOCH <sub>2</sub> CH(OH)CH <sub>2</sub> OH	290	tan vô hạn



4. Từ số liệu ở Bảng 20.3, em hãy giải thích tại sao trong dãy alcohol no, đơn chức, mạch hở, nhiệt độ sôi của các alcohol tăng dần từ C1 đến C5 còn độ tan trong nước giảm dần từ C3 đến C5.



#### IV TÍNH CHẤT HOÁ HỌC

##### 1. Phản ứng thế nguyên tử H của nhóm –OH

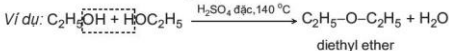
Liên kết O–H phân cực nên trong một số phản ứng, nguyên tử hydrogen trong nhóm hydroxy có thể bị thay thế.

Alcohol phản ứng với các kim loại mạnh như sodium, potassium giải phóng khí hydrogen:




##### 2. Phản ứng tạo ether

Khi đun nóng alcohol với H<sub>2</sub>SO<sub>4</sub> đặc ở nhiệt độ thích hợp thì thu được ether<sup>(2)</sup>.



##### 3. Phản ứng tạo alkene

Khi cho hơi alcohol no, đơn chức, mạch hở đi qua bột Al<sub>2</sub>O<sub>3</sub> nung nóng hoặc đun alcohol với H<sub>2</sub>SO<sub>4</sub> đặc, H<sub>3</sub>PO<sub>4</sub> đặc, alcohol bị tách nước tạo thành alkene:

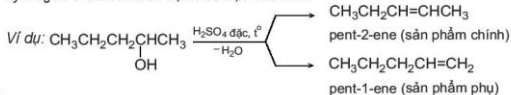


<sup>(1)</sup> Nguồn: *Organic chemistry, T.W.Graham Solomons, Craig B. Fryhle, Scott A. Snyder, John Wiley & Sons, 2016.*

<sup>(2)</sup> Ether là hợp chất hữu cơ có hai gốc hydrocarbon liên kết với nguyên tử oxygen.

Phản ứng tách nước của alcohol tạo alkene ưu tiên theo quy tắc Zaitsev:

Trong phản ứng tách nước của alcohol, nhóm  $-OH$  bị tách ưu tiên cùng với nguyên tử hydrogen ở carbon bên cạnh có bậc cao hơn.

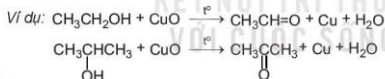
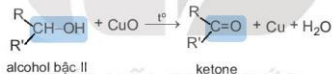


5. Đun nóng butan-2-ol với sulfuric acid đặc thu được các alkene nào? Sản phẩm nào là sản phẩm chính.

#### 4. Phản ứng oxi hoá

##### a) Oxi hoá không hoàn toàn

Khi phản ứng với các chất oxi hoá (ví dụ:  $\text{CuO}$ ), các alcohol bị oxi hoá không hoàn toàn tạo thành các sản phẩm khác nhau tùy theo bậc của alcohol; alcohol bậc I bị oxi hoá thành aldehyde, alcohol bậc II bị oxi hoá thành ketone, alcohol bậc III không bị oxi hoá trong điều kiện này.



6. Viết công thức cấu tạo sản phẩm của phản ứng khi oxi hoá các alcohol sau bằng  $\text{CuO}$  đun nóng:

a)  $\text{CH}_3\text{OH}$ ;

b)  $\text{CH}_3\text{CH}(\text{OH})\text{CH}_2\text{CH}_3$ .

##### b) Phản ứng cháy của alcohol



**Thí nghiệm: Nghiên cứu về phản ứng cháy của alcohol**

*Chuẩn bị:* cón  $90^\circ$  (cón y tế), bát sứ, que đóm dài khoảng 20 cm.

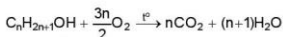
*Tiến hành:* Lấy khoảng 1 mL ethanol (chú ý không lấy nhiều hơn) cho vào bát sứ.

Đốt cháy que đóm và đưa ngọn lửa vào gần miệng bát sứ để đốt cháy ethanol.

*Lưu ý:* Cần thận bồng khi thực hiện thí nghiệm đốt cháy cón.

Quan sát hiện tượng và viết phương trình hoá học của phản ứng xảy ra.

Các alcohol có thể bị đốt cháy trong không khí tạo thành carbon dioxide, hơi nước và toả nhiệt:

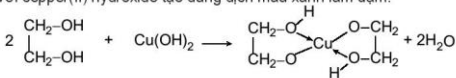


Ví dụ:  $C_2H_5OH(l) + 3O_2(g) \xrightarrow{t^o} 2CO_2(g) + 3H_2O(g) \quad \Delta_f H_{298}^o = -1367 \text{ kJ/mol}$

Ethanol được sử dụng phổ biến làm nhiên liệu cho đèn cồn, bếp cồn hoặc phối trộn với xăng để làm nhiên liệu cho động cơ đốt trong.

## 5. Phản ứng riêng của polyalcohol với $Cu(OH)_2$

Các polyalcohol có các nhóm  $-OH$  liên kề như ethylene glycol, glycerol có thể tác dụng với copper(II) hydroxide tạo dung dịch màu xanh lam đậm.



ethylene glycol      copper(II) hydroxide

Vi vậy, phản ứng này có thể dùng để nhận biết các polyalcohol có các nhóm  $-OH$  liên kề.



**Thí nghiệm:** Copper(II) hydroxide tác dụng với alcohol đa chức

*Chuẩn bị:* dung dịch  $CuSO_4$  2%, dung dịch NaOH 10%, ethanol, glycerol; 2 ống nghiệm.

*Tiến hành:*

- Cho vào 2 ống nghiệm, mỗi ống khoảng 1 mL dung dịch  $CuSO_4$  2% và 1 mL dung dịch NaOH 10%.
- Lắc nhẹ 2 ống nghiệm rồi nhỏ vào từng ống:
  - Ống nghiệm (1): 5 giọt ethanol.
  - Ống nghiệm (2): 5 giọt glycerol.
- Lắc đều cả 2 ống nghiệm.

*Quan sát hiện tượng xảy ra ở từng ống nghiệm, giải thích và viết phương trình hoá học.*



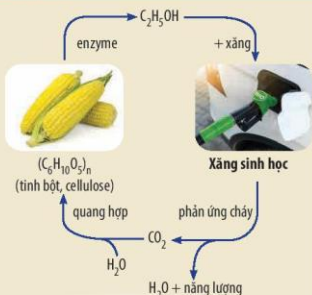
7. Viết phương trình hoá học của phản ứng giữa methanol với sodium.
8. Nêu phương pháp hoá học để phân biệt methanol và ethylene glycol.

**EM CÓ BIẾT**

**Xăng sinh học**

Xăng sinh học (gasohol hay biogasoline) được tạo ra bằng cách phối trộn ethanol với xăng thông thường theo một tỉ lệ nhất định. Ví dụ xăng E5 RON 92 gồm 5% ethanol và 95% xăng RON 92 về thể tích. Gọi là xăng sinh học vì ethanol dùng để phối trộn với xăng được điều chế thông qua quá trình lên men các sản phẩm hữu cơ như tinh bột, cellulose.

Việc sử dụng xăng sinh học góp phần bảo vệ môi trường do giảm sự phụ thuộc vào nguồn nhiên liệu hoá thạch và thay thế bằng nguồn nhiên liệu tái tạo thân thiện với môi trường.



Hình 20.3. Chu trình khép kín của ethanol trong xăng sinh học

**ỨNG DỤNG**

1. Ứng dụng của alcohol



2. Ảnh hưởng của rượu, bia và đồ uống có cồn đến sức khoẻ con người

Sau khi uống đồ uống có cồn, ethanol sẽ được hấp thụ vào cơ thể thông qua hệ tiêu hoá. Một phần ethanol sẽ được hấp thụ tại da dày, ruột non, thẩm thấu vào máu và được đưa đến các cơ quan trong cơ thể, phần còn lại sẽ được chuyển hoá ở gan.

Việc lạm dụng rượu, bia quá mức sẽ gây ảnh hưởng nghiêm trọng đến sức khoẻ con người như tổn thương hệ thần kinh, rối loạn tâm thần, viêm gan, xơ gan, viêm loét dạ dày, viêm tụy... Trong thời gian mang thai, nếu người mẹ lạm dụng rượu, bia thì sẽ gây độc cho thai nhi, có thể gây dị tật ở trẻ.



9. Một đơn vị cồn tương đương 10 mL (hoặc 7,89 gam) ethanol nguyên chất. Theo khuyến cáo của ngành y tế, để đảm bảo sức khoẻ mỗi người trưởng thành không nên uống quá 2 đơn vị cồn mỗi ngày. Vậy mỗi người trưởng thành không nên uống quá bao nhiêu mL rượu 40° một ngày?



#### EM CÓ BIẾT

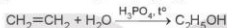
Nhiều tai nạn giao thông nghiêm trọng xảy ra do lạm dụng rượu, bia. Hiện nay, nhiều quốc gia, trong đó có Việt Nam nghiêm cấm sử dụng rượu, bia khi điều khiển các phương tiện giao thông và xử phạt nghiêm khắc đối với những người vi phạm.



## VI ĐIỀU CHẾ

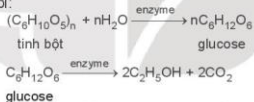
### 1. Hydrate hoá alkene

Các alcohol có thể được điều chế bằng phản ứng hydrate hoá alkene. Phương pháp này được sử dụng phổ biến trong công nghiệp để điều chế ethanol:



### 2. Điều chế ethanol bằng phương pháp sinh hoá

Khi lên men tinh bột, enzyme sẽ phân giải tinh bột thành glucose, sau đó glucose sẽ chuyển hoá thành ethanol:

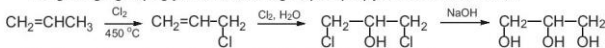


Ngoài các sản phẩm chứa tinh bột (gạo, ngô, sắn, ...), người ta còn sử dụng các phế phẩm của công nghiệp đường, chế phẩm thủy phân cellulose, ... để sản xuất ethanol.

Phương pháp sinh hoá được sử dụng phổ biến để sản xuất các đồ uống có cồn, điều chế ethanol làm nhiên liệu sinh học.

### 3. Điều chế glycerol

Trong công nghiệp, glycerol được tổng hợp từ propylene theo sơ đồ sau:



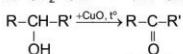
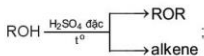


Ngoài ra, glycerol còn thu được khi thủy phân chất béo trong quá trình sản xuất xà phòng.



10. Viết phương trình hoá học của các phản ứng trong sơ đồ điều chế glycerol từ propylene.

### EM DỄ HỌC

- Alcohol là những hợp chất hữu cơ trong phân tử có chứa nhóm  $-OH$  liên kết với nguyên tử carbon no.
- Công thức tổng quát của alcohol no, đơn chức, mạch hở:  $C_nH_{2n+1}OH$  ( $n \geq 1$ ).
- Bậc của alcohol là bậc của nguyên tử C liên kết với nhóm  $-OH$ .
- So với hydrocarbon và dẫn xuất halogen có phân tử khối tương đương, các alcohol thường có nhiệt độ sôi cao hơn và dễ tan trong nước.
- Tính chất hoá học:



- Điều chế ethanol từ  $C_2H_4$  hoặc từ tinh bột (lên men). Điều chế glycerol từ propene.

### EM CÓ THỂ

- Giải thích được nguyên nhân nhiệt độ sôi của alcohol cao hơn so với hydrocarbon, dẫn xuất halogen có phân tử khối tương đương; tính tan trong nước và các tính chất hoá học đặc trưng của alcohol.
- Sử dụng phù hợp nguồn nhiên liệu sinh học từ ethanol góp phần bảo vệ môi trường.
- Biết được tác hại của rượu, bia và đồ uống có cồn, từ đó tránh lạm dụng các loại đồ uống này để bảo vệ sức khỏe.

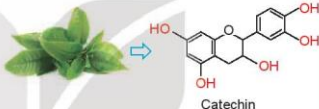


**MỤC TIÊU**

- Nêu được khái niệm về phenol, tên gọi, công thức cấu tạo một số phenol đơn giản, đặc điểm cấu tạo và hình dạng phân tử của phenol.
- Nêu được tính chất vật lý của phenol.
- Trình bày được tính chất hoá học cơ bản của phenol: phản ứng thế H ở nhóm -OH, phản ứng thế ở vòng thơm.
- Thực hiện được (hoặc quan sát video, hoặc qua mô tả: thí nghiệm của phenol với sodium hydroxide, sodium carbonate, với nước bromine) với HNO<sub>3</sub> đặc trong H<sub>2</sub>SO<sub>4</sub> đặc; mô tả hiện tượng thí nghiệm, giải thích được tính chất hoá học của phenol.
- Trình bày được ứng dụng của phenol và điều chế phenol (từ cumene và từ nhựa than đá).



Catechin là một hợp chất phenol có trong lá chè xanh. Catechin có tác dụng chống oxi hoá, diệt khuẩn, kháng viêm, ngăn ngừa một số bệnh về tim mạch, cao huyết áp, tiểu hầu, làm chậm quá trình lão hoá,... Vậy hợp chất phenol là gì và có các tính chất đặc trưng nào?

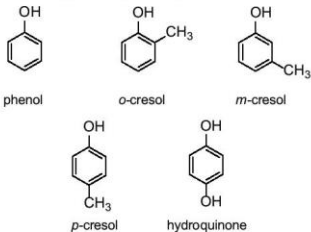


**KHÁI NIỆM**

Phenol là những hợp chất hữu cơ trong phân tử có nhóm -OH liên kết trực tiếp với nguyên tử carbon của vòng benzenê.

Hợp chất phenol đơn giản nhất có công thức là C<sub>6</sub>H<sub>5</sub>OH cũng có tên gọi riêng là phenol.

Tên thông thường của một số phenol:

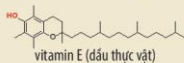
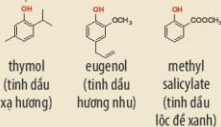


**EM CỐ BIẾT**

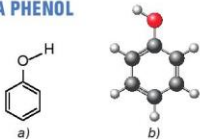
**Các hợp chất thiên nhiên chứa phenol**

Trong tự nhiên, các hợp chất phenol tồn tại khá phổ biến trong nhiều loài thực vật.

Ví dụ:



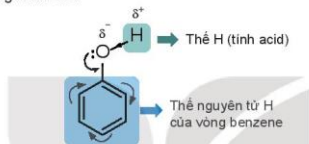
## II ĐẶC ĐIỂM CẤU TẠO CỦA PHENOL



Hình 21.1. Công thức cấu tạo (a) và mô hình phân tử (b) của phenol

Trong phân tử phenol, do ảnh hưởng của vòng benzene nên liên kết O–H của phenol phân cực mạnh hơn so với alcohol, vì vậy phenol thể hiện tính acid yếu.

Ngoài ra, do có vòng benzene nên phenol có thể tham gia phản ứng thế nguyên tử hydrogen của vòng benzene.



## III TÍNH CHẤT VẬT LÝ

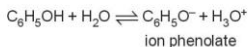
Ở điều kiện thường, phenol là chất rắn không màu, nóng chảy ở 43 °C, sôi ở 181,8 °C.

Phenol ít tan trong nước ở điều kiện thường (độ tan trong nước ở 25 °C: 8,42 g/100 g nước), tan nhiều khi đun nóng (tan vô hạn ở 66 °C); tan tốt trong các dung môi hữu cơ như ethanol, ether và acetone. Phenol độc và có thể gây bỏng khi tiếp xúc với da nên phải cẩn thận khi sử dụng.

## IV TÍNH CHẤT HOÁ HỌC

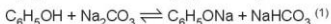
### 1. Phản ứng thế nguyên tử H của nhóm –OH (tính acid của phenol)

Trong dung dịch nước, phenol phân li theo cân bằng sau:



Phenol là một acid yếu, dung dịch phenol không làm đổi màu quỳ tím.

Phenol có thể phản ứng được với kim loại kiềm, dung dịch base, muối sodium carbonate,...



(1) Phenol có tính acid mạnh hơn nấc hai của carbonic acid ( $\text{H}_2\text{CO}_3$ ) nên có thể phản ứng được với muối carbonate.



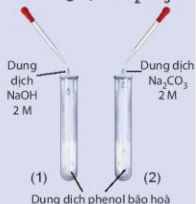
**Nghiên cứu phản ứng của phenol với dung dịch NaOH và dung dịch Na<sub>2</sub>CO<sub>3</sub>**

Thí nghiệm phenol tác dụng với dung dịch NaOH và với dung dịch Na<sub>2</sub>CO<sub>3</sub> được tiến hành như sau:

- Cho vào hai ống nghiệm, mỗi ống nghiệm khoảng 1 mL dung dịch phenol bão hoà (có màu trắng đục).
- Cho khoảng 1 mL dung dịch NaOH 2 M vào ống nghiệm (1) và lắc đều.
- Cho khoảng 1 mL dung dịch Na<sub>2</sub>CO<sub>3</sub> 2 M vào ống nghiệm (2) và lắc đều.

Cả hai ống nghiệm đều quan sát được dung dịch từ màu trắng đục chuyển sang trong suốt.

Hãy giải thích các hiện tượng xảy ra.



**Hình 21.2.** Thí nghiệm phản ứng của phenol với dung dịch NaOH và dung dịch Na<sub>2</sub>CO<sub>3</sub>



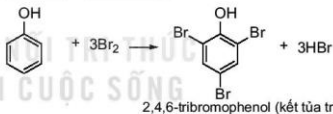
1. Hãy giải thích tại sao phenol có thể phản ứng được với dung dịch NaOH còn alcohol thì không phản ứng với dung dịch NaOH.

**2. Phản ứng thế ở vòng thơm**

Phenol có thể tham gia phản ứng thế nguyên tử hydrogen của vòng benzene. Phản ứng thế ưu tiên vào vị trí 2, 4 và 6 (*ortho* và *para*).

a) **Phản ứng bromine hoá**

Phenol phản ứng với nước bromine tạo sản phẩm thế 2,4,6-tribromophenol ở dạng kết tủa màu trắng.



Do ảnh hưởng của nhóm -OH, phản ứng thế nguyên tử hydrogen ở vòng benzene của phenol xảy ra dễ dàng hơn so với benzene.



**Phản ứng của phenol với nước bromine**

Phản ứng của phenol với nước bromine được tiến hành như sau:

- Cho khoảng 1,0 mL dung dịch phenol 5% vào ống nghiệm.
- Nhỏ vài giọt nước bromine bão hoà vào ống nghiệm, lắc đều. Nước bromine mất màu và xuất hiện kết tủa trắng.

Hãy giải thích hiện tượng xảy ra và viết phương trình hoá học của phản ứng.



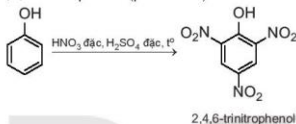
**Hình 21.3.** Phenol phản ứng với nước bromine



- So sánh điều kiện phản ứng bromine hoá vào vòng benzene của phenol và benzene. Từ đó, rút ra nhận xét khả năng thế nguyên tử hydrogen ở vòng benzene của phenol so với benzene.
- Viết phương trình hoá học của phản ứng xảy ra khi cho 4-methylphenol tác dụng với nước bromine.

b) Phản ứng nitro hoá

Phenol phản ứng với dung dịch nitric acid đặc trong dung dịch sulfuric acid đặc tạo thành sản phẩm 2,4,6-trinitrophenol (picric acid):



**Nghiên cứu phản ứng nitro hoá phenol – tổng hợp picric acid**

Thí nghiệm nitro hoá phenol được tiến hành như sau:

- Cho 0,5 g phenol và khoảng 1,5 mL H<sub>2</sub>SO<sub>4</sub> đặc vào ống nghiệm, đun nhẹ hỗn hợp trong khoảng 10 phút để thu được chất lỏng đồng nhất.
- Để nguội ống nghiệm rồi ngâm bình trong cốc nước đá.
- Nhỏ từ từ 3 mL dung dịch HNO<sub>3</sub> đặc vào hỗn hợp và lắc đều. Nút bằng bông tằm dung dịch NaOH.
- Đun cách thủy hỗn hợp trong nồi nước nóng 15 phút.
- Làm lạnh hỗn hợp rồi đem pha loãng hỗn hợp với khoảng 10 mL nước cất, picric acid kết tủa ở dạng tinh thể màu vàng.

Hãy giải thích hiện tượng xảy ra và viết phương trình hoá học của phản ứng.

Chú ý: Thí nghiệm thực hiện trong tủ hút hoặc nơi thoáng khí. Cần thận trọng khi làm việc với dung dịch HNO<sub>3</sub> đặc và dung dịch H<sub>2</sub>SO<sub>4</sub> đặc.



**ỨNG DỤNG**

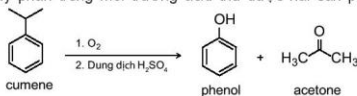


## EM CÓ BIẾT

Phenol được sử dụng chủ yếu làm nguyên liệu để tổng hợp các vật liệu nhựa, chất dẻo, tơ sợi. Từ phenol tổng hợp bisphenol A để sản xuất nhựa polycarbonate; tổng hợp cyclohexanon để sản xuất nylon-6,6; nhựa phenolformaldehyde;...

## VI ĐIỀU CHẾ

Phenol được tổng hợp từ cumene (isopropylbenzene) bằng phản ứng oxi hoá bởi oxygen rồi thủy phân trong môi trường acid thu được hai sản phẩm là phenol và acetone:



Hiện nay, phần lớn phenol và acetone đều được sản xuất trong công nghiệp theo phương pháp này.

Ngoài ra, phenol còn được điều chế từ nhựa than đá.



Sưu tầm, tìm hiểu thông tin và trình bày một số ứng dụng của phenol trong đời sống và trong sản xuất.

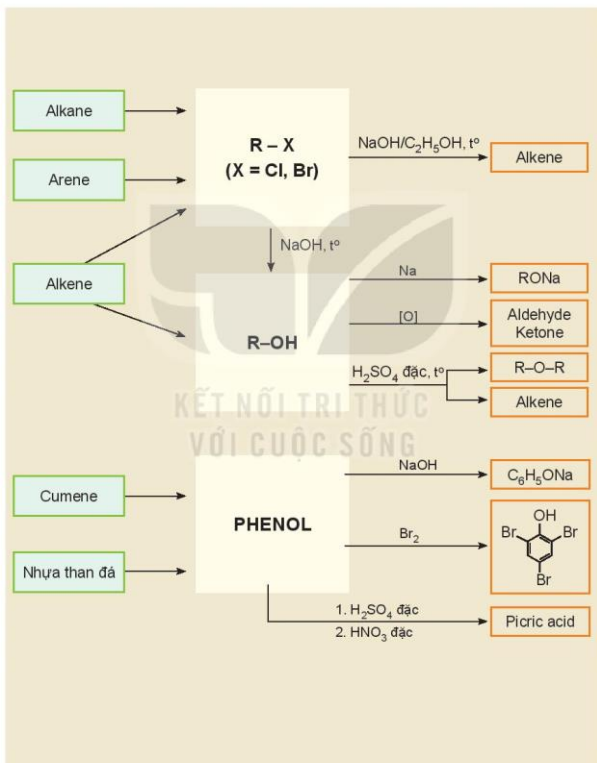
### EM ĐÃ HỌC

- Phenol là những hợp chất hữu cơ trong phân tử có nhóm -OH liên kết trực tiếp với nguyên tử carbon của vòng benzene.
- Phenol là chất rắn, không màu, ít tan trong nước ở điều kiện thường, tan nhiều khi đun nóng, có tính độc, có thể gây bỏng khi tiếp xúc với da.
- Tính chất hoá học của phenol:
  - Phenol có tính acid yếu.
  - Phản ứng thế ở vòng benzene.
- Phenol được dùng làm nguyên liệu để sản xuất chất dẻo, tơ sợi, mĩ phẩm, dược phẩm, phẩm nhuộm, thuốc sát trùng, thuốc diệt cỏ,....
- Phenol được điều chế từ cumene, nhựa than đá.

### EM CÓ THỂ

- Tuân thủ các quy tắc về an toàn khi làm việc với phenol.
- Sưu tầm một số sản phẩm có phenol trong thành phần để trình bày về các ứng dụng đa dạng của phenol trong cuộc sống.

1 HỆ THỐNG HOÁ KIẾN THỨC



**LUYỆN TẬP**

**Câu 1.** Cho các hợp chất: hexane, bromoethane, ethanol, phenol. Trong số các hợp chất này, hợp chất tan tốt nhất trong nước là

- A. hexane.                      B. bromoethane.                      C. ethanol.                      D. phenol.

**Câu 2.** Phản ứng thủy phân dẫn xuất halogen trong môi trường kiềm thuộc loại phản ứng gì?



- A. Phản ứng thế.                      B. Phản ứng cộng.  
C. Phản ứng tách.                      D. Phản ứng oxi hoá.

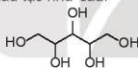
**Câu 3.** Cho các phát biểu sau về phenol:

- a) Phenol có nhiệt độ sôi cao hơn ethanol.  
b) Phenol tác dụng được với dung dịch NaOH.  
c) Phenol phản ứng được với dung dịch  $Na_2CO_3$ .  
d) Phản ứng thế vào vòng thơm của phenol dễ hơn thế vào vòng benzene.

Trong số các phát biểu trên, số phát biểu đúng là

- A. 1.                      B. 2.                      C. 3.                      D. 4.

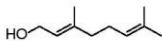
**Câu 4.** Xylitol là một hợp chất hữu cơ được sử dụng như một chất tạo ngọt tự nhiên, có vị ngọt như đường nhưng có hàm lượng calo thấp nên được đưa thêm vào các sản phẩm chăm sóc răng miệng như kẹo cao su, kẹo bạc hà, thực phẩm ăn kiêng cho người bị bệnh tiểu đường. Xylitol có công thức cấu tạo như sau:



- a) Xylitol thuộc loại hợp chất alcohol đơn chức hay đa chức?  
a) Dự đoán xylitol có tan tốt trong nước không? Giải thích.

**Câu 5.** Hợp chất X hiện nay được sử dụng phổ biến trong công nghiệp làm lạnh để thay thế CFC do X không gây hại đến tầng ozone. Biết thành phần của X chứa 23,08% C, 3,84% H và 73,08% F về khối lượng và có phân tử khối là 52. Hãy xác định công thức cấu tạo của X.

**Câu 6.** Geraniol là một alcohol không no có trong tinh dầu hoa hồng, tinh dầu sả và nhiều loại tinh dầu thảo mộc khác.



Công thức cấu tạo của geraniol

- a) Geraniol thuộc loại alcohol bậc mấy?  
b) Geraniol được hoà tan vào ethanol cùng một số hương liệu khác để làm nước hoa. Hãy giải thích tại sao geraniol tan tốt trong ethanol.

**Câu 7.** Thực hiện phản ứng tách nước các alcohol có cùng công thức phân tử  $C_6H_{11}OH$  thu được sản phẩm chính là 2-methylbut-2-ene. Hãy xác định công thức cấu tạo của các alcohol này.

CHƯƠNG

6

# HỢP CHẤT CARBONYL – CARBOXYLIC ACID

BÀI  
23

## HỢP CHẤT CARBONYL

### MỤC TIÊU

- Nêu được khái niệm hợp chất carbonyl (aldehyde và ketone).
- Gọi được tên theo danh pháp thay thế một số hợp chất carbonyl đơn giản (C1–C5), tên thông thường một vài hợp chất carbonyl thường gặp.
- Mô tả được đặc điểm liên kết của nhóm chức carbonyl, hình dạng phân tử của methanal, ethanal.
- Nêu được đặc điểm về tính chất vật lí (trạng thái, nhiệt độ sôi, tính tan) của hợp chất carbonyl.
- Trình bày được tính chất hoá học của aldehyde, ketone: phản ứng khử (với  $\text{NaBH}_4$  hoặc  $\text{LiAlH}_4$ ; phản ứng oxy hoá aldehyde (với nước bromine, thuốc thử Tollens,  $\text{Cu}(\text{OH})_2/\text{OH}^-$ ); phản ứng cộng vào nhóm carbonyl (với HCN); phản ứng tạo iodoform.
- Thực hiện được (hoặc quan sát qua video, hoặc qua mô tả) các thí nghiệm: phản ứng tráng bạc, phản ứng với  $\text{Cu}(\text{OH})_2/\text{OH}^-$ , phản ứng tạo iodoform từ acetone; mô tả hiện tượng thí nghiệm, giải thích tính chất hoá học của hợp chất carbonyl và xác định hợp chất có chứa nhóm  $\text{CH}_3\text{CO}^-$ .
- Trình bày được ứng dụng của hợp chất carbonyl và phương pháp điều chế acetaldehyde bằng cách oxy hoá ethylene, điều chế acetone từ cumene.



Các aldehyde, ketone tạo nên mùi thơm đặc trưng của các loài động vật và thực vật. Nhiều aldehyde, ketone đóng vai trò quan trọng đối với cơ thể: tế bào trong võng mạc giúp mắt tiếp nhận ánh sáng được tạo thành từ aldehyde, các hormone giới tính nam và nữ là các ketone. Vậy, hợp chất carbonyl là gì và chúng có những tính chất nào?



### KHÁI NIỆM, DANH PHÁP

#### 1. Khái niệm

Hợp chất carbonyl là các hợp chất hữu cơ trong phân tử có chứa nhóm chức carbonyl ( $\text{>C=O}$ ). Nhóm chức carbonyl có trong aldehyde, ketone,...

Aldehyde là hợp chất hữu cơ có nhóm  $-\text{CHO}$  liên kết với nguyên tử carbon (trong gốc hydrocarbon hoặc  $-\text{CHO}$ ) hoặc nguyên tử hydrogen.

Ketone là hợp chất hữu cơ có nhóm  $\text{>C=O}$  liên kết với hai gốc hydrocarbon.





Hình 23.1. Cinnamaldehyde là một hợp chất aldehyde có trong tinh dầu quế



Hình 23.2. Menthone là một hợp chất ketone có trong tinh dầu bạc hà

**EM CÓ BIẾT**

Trong tự nhiên, các hợp chất chứa nhóm chức aldehyde và ketone tồn tại khá phổ biến trong tinh dầu của nhiều loài cây cỏ.

Ví dụ:



citrionellal  
(tinh dầu chanh)



perillaldehyde  
(tinh dầu tía tô)



piperitone  
(tinh dầu khuynh diệp)

**2. Danh pháp**

a) *Danh pháp thay thế*

Tên gọi theo danh pháp thay thế của aldehyde đơn chức và ketone đơn chức:

**Tên aldehyde**

Ví dụ:  $\text{CH}_3\text{-CH}_2\text{-CH=O}$

Tên hydrocarbon  
(bỏ e ở cuối)

al

propanal

**Tên ketone**

Ví dụ:  $\overset{1}{\text{CH}_3}\text{-}\overset{2}{\text{C}}\text{(=O)}\text{-}\overset{3}{\text{CH}_2}\text{-}\overset{4}{\text{CH}_2}\text{-}\overset{5}{\text{CH}_3}$

Tên hydrocarbon  
(bỏ e ở cuối)

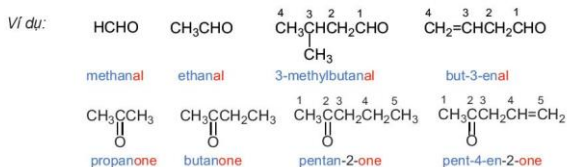
vị trí nhóm C=O

one

pentan-2-one

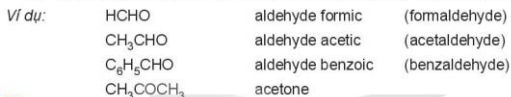
Chú ý:

- Mạch carbon là mạch dài nhất chứa nhóm  $\text{>C=O}$ .
- Mạch carbon được đánh số từ nhóm  $\text{-CHO}$  (đối với aldehyde) hoặc từ phía gần nhóm  $\text{>C=O}$  hơn (đối với ketone).
- Đối với ketone, nếu nhóm  $\text{>C=O}$  chỉ có một vị trí duy nhất thì không cần số chỉ vị trí nhóm  $\text{>C=O}$ .
- Nếu mạch carbon có nhánh thì cần thêm vị trí và tên nhánh ở phía trước.



b) Tên gọi thông thường

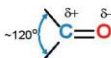
Một số aldehyde, ketone đơn giản được gọi theo tên thông thường có nguồn gốc lịch sử. Tên thông thường của các aldehyde có nguồn gốc từ tên của acid tương ứng.



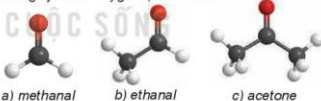
- Viết các công thức cấu tạo và gọi tên theo danh pháp thay thế của hợp chất carbonyl có công thức phân tử C<sub>4</sub>H<sub>8</sub>O
- Viết công thức cấu tạo của các hợp chất carbonyl có tên gọi dưới đây:  
a) propanal; b) 3-methylbut-2-enal;  
c) pentan-2-one; d) 3-methylbutan-2-one.

II ĐẶC ĐIỂM CẤU TẠO

Liên kết đôi C=O phân cực về phía nguyên tử oxygen (Hình 23.3).



Hình 23.3. Cấu trúc nhóm carbonyl



Hình 23.4. Mô hình phân tử của một số hợp chất carbonyl

III TÍNH CHẤT VẬT LÍ



Cho biết các hợp chất dưới đây có khối lượng phân tử gần tương đương nhau và có nhiệt độ sôi như sau:



t<sub>b</sub> (°C):                      -0,5                      49                      97,1

So sánh nhiệt độ sôi của hợp chất carbonyl với alkane và alcohol có khối lượng phân tử tương đương. Dựa vào khả năng tạo liên kết hydrogen và sự phân cực của phân tử để giải thích.

Các aldehyde, ketone có nhiệt độ sôi cao hơn các hydrocarbon có khối lượng phân tử tương đương do trong phân tử chứa nhóm carbonyl phân cực làm cho phân tử aldehyde, ketone phân cực nên có nhiệt độ sôi cao hơn.

Ở nhiệt độ thường, các aldehyde có phân tử khối nhỏ (methanal, ethanal) ở trạng thái khí, các hợp chất carbonyl thông dụng khác ở trạng thái lỏng.

Các aldehyde, ketone có mạch carbon ngắn tan tốt trong nước. Khi số nguyên tử carbon tăng thì độ tan của hợp chất carbonyl giảm dần.

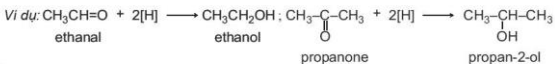
**Bảng 23.1. Nhiệt độ sôi và tính tan của một số hợp chất carbonyl<sup>(1)</sup>**

	Công thức	Tên	Nhiệt độ sôi (°C)	Độ tan trong nước ở 20 °C (g/100 g)
aldehyde	HCHO	methanal	-21	tan vô hạn
	CH <sub>3</sub> CHO	ethanal	20	tan vô hạn
	CH <sub>3</sub> CH <sub>2</sub> CHO	propanal	49	20
	CH <sub>3</sub> CH <sub>2</sub> CH <sub>2</sub> CHO	butanal	76	7
ketone	CH <sub>3</sub> COCH <sub>3</sub>	propanone	56	tan vô hạn
	CH <sub>3</sub> COCH <sub>2</sub> CH <sub>3</sub>	butanone	80	26
	CH <sub>3</sub> CH <sub>2</sub> COCH <sub>2</sub> CH <sub>3</sub>	pentan-3-one	101	5

## IV TÍNH CHẤT HOÁ HỌC

### 1. Phản ứng khử

Các hợp chất carbonyl bị khử bởi các tác nhân khử như NaBH<sub>4</sub>, LiAlH<sub>4</sub>,... (kí hiệu: [H]) tạo thành các alcohol tương ứng: aldehyde bị khử tạo thành alcohol bậc I, ketone bị khử tạo thành alcohol bậc II.



3. Khử các hợp chất carbonyl sau bởi NaBH<sub>4</sub>, hãy viết công thức cấu tạo của các sản phẩm:

- |              |                         |
|--------------|-------------------------|
| a) propanal; | b) 2-methylbutanal;     |
| c) butanone; | d) 3-methylbutan-2-one. |

<sup>(1)</sup> Nguồn: Organic chemistry, William H. Brown, Cengage Learning, 2018.

## EM CÓ BIẾT

Muscone là hợp chất ketone tạo nên mùi thơm đặc trưng của xạ hương và được sử dụng phổ biến trong công nghiệp nước hoa, mỹ phẩm và y học. Trước đây, xạ hương tự nhiên được lấy từ tuyến thơm của hươu xạ.

Tuy nhiên, để bảo vệ loài hươu xạ, ngày nay xạ hương được tổng hợp bằng con đường hoá học. Dưới đây là một phương pháp tổng hợp muscone, trong đó giai đoạn đầu là phản ứng khử hợp chất ketone thành alcohol bởi tác nhân khử  $\text{NaBH}_4$ .



## 2. Phản ứng oxi hoá aldehyde

Aldehyde dễ bị oxi hoá bởi các tác nhân oxi hoá thông thường như:  $\text{Br}_2/\text{H}_2\text{O}$ ,  $[\text{Ag}(\text{NH}_3)_2]\text{OH}$ ,  $\text{Cu}(\text{OH})_2/\text{OH}^-$ , ....

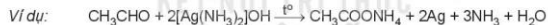
### a) Oxi hoá aldehyde bởi nước bromine

Aldehyde bị oxi hoá bởi nước bromine tạo thành carboxylic acid.



### b) Oxi hoá aldehyde bởi thuốc thử Tollens

Thuốc thử Tollens là phức chất của ion  $\text{Ag}^+$  với ammonia, có công thức  $[\text{Ag}(\text{NH}_3)_2]\text{OH}$ . Ion  $\text{Ag}^+$  trong thuốc thử Tollens đóng vai trò là chất oxi hoá:



Phản ứng tạo thành lớp bạc sáng bóng bám vào bình phản ứng, vì vậy phản ứng này còn được gọi là *phản ứng tráng bạc*.

Ketone không bị oxi hoá bởi thuốc thử Tollens, vì vậy có thể dùng thuốc thử Tollens để phân biệt aldehyde với ketone và các hợp chất khác.



### Thí nghiệm phản ứng của aldehyde với thuốc thử Tollens

**Chuẩn bị:** dung dịch  $\text{CH}_3\text{CHO}$  5%, dung dịch  $\text{AgNO}_3$  1%, dung dịch  $\text{NH}_3$  5%, cốc nước nóng, ống nghiệm.

**Tiến hành:**

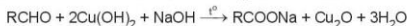
- Cho khoảng 1 mL dung dịch  $\text{AgNO}_3$  1% vào ống nghiệm, thêm vài giọt dung dịch  $\text{NaOH}$  10%.
- Thêm từ từ dung dịch  $\text{NH}_3$  5% vào ống nghiệm và lắc đều đến khi kết tủa tan hoàn toàn.
- Nhỏ vài giọt dung dịch  $\text{CH}_3\text{CHO}$  5% vào ống nghiệm, lắc đều.

- Đặt ống nghiệm vào cốc chứa nước nóng (khoảng 70 – 80 °C), để yên khoảng 5 phút.

*Giải thích hiện tượng quan sát được và viết phương trình hoá học của phản ứng xảy ra.*

**c) Oxi hoá aldehyde bằng copper(II) hydroxide**


Aldehyde có thể bị oxi hoá bởi copper(II) hydroxide  $\text{Cu}(\text{OH})_2$  trong môi trường kiềm khi đun nóng tạo thành kết tủa copper(I) oxide ( $\text{Cu}_2\text{O}$ ) màu đỏ gạch:



**Nghiên cứu phản ứng oxi hoá aldehyde bằng copper(II) hydroxide**

Thí nghiệm oxi hoá  $\text{CH}_3\text{CHO}$  bằng  $\text{Cu}(\text{OH})_2$  được tiến hành như sau:

- Cho khoảng 0,5 mL dung dịch  $\text{CuSO}_4$  5% và khoảng 1 mL dung dịch  $\text{NaOH}$  10% vào ống nghiệm, lắc đều hỗn hợp.
- Thêm khoảng 1 mL  $\text{CH}_3\text{CHO}$  5% vào ống nghiệm, lắc đều ống nghiệm.
- Đun nóng nhẹ ống nghiệm trên ngọn lửa đèn cồn. Hỗn hợp phản ứng chuyển dần từ màu xanh lam sang màu đỏ gạch.



*Trả lời câu hỏi và thực hiện yêu cầu sau:*

1. Khi cho dung dịch  $\text{CuSO}_4$  vào dung dịch  $\text{NaOH}$ , hỗn hợp tạo kết tủa màu xanh lam, kết tủa đó là chất gì?
2. Viết phương trình hoá học của các phản ứng xảy ra trong thí nghiệm trên.

**Hình 23.6.** Phản ứng của  $\text{CH}_3\text{CHO}$  với  $\text{CuSO}_4$  trong dung dịch  $\text{NaOH}$



4. Viết phương trình hoá học của phản ứng giữa  $\text{HCHO}$  với các tác nhân sau:
  - a) Thuốc thử Tollens;
  - b)  $\text{Cu}(\text{OH})_2/\text{NaOH}$ .

**3. Phản ứng cộng**

Hợp chất carbonyl có thể tham gia phản ứng cộng với  $\text{HCN}$  vào liên kết đôi  $\text{C}=\text{O}$ .

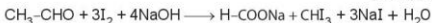
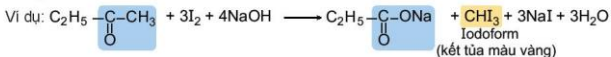


Ví dụ:



#### 4. Phản ứng tạo iodoform

Các hợp chất aldehyde, ketone có nhóm methyl cạnh nhóm carbonyl có thể phản ứng với  $\text{I}_2$  trong môi trường kiềm.



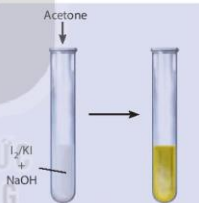
Phản ứng tạo sản phẩm kết tủa iodoform nên phản ứng này được gọi là *phản ứng iodoform* và được dùng để nhận biết các aldehyde, ketone có nhóm methyl cạnh nhóm carbonyl.



#### Nghiên cứu phản ứng tạo iodoform từ acetone

Phản ứng tạo iodoform từ acetone được tiến hành như sau:

- Cho khoảng 2 mL dung dịch  $\text{I}_2$  bão hoà trong KI vào ống nghiệm.
- Thêm khoảng 2 mL dung dịch NaOH 2 M.
- Thêm tiếp khoảng 0,5 mL acetone vào hỗn hợp trên và lắc đều ống nghiệm, quan sát thấy xuất hiện kết tủa màu vàng.

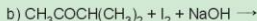


Hình 23.7. Phản ứng iodoform

Viết phương trình hoá học của phản ứng xảy ra.



5. Hoàn thành các phản ứng sau:



6. Trong các hợp chất sau, hợp chất nào tham gia phản ứng iodoform?

a) methanal;

b) ethanal;

c) butanone;

d) pentan-3-one.

**V ỨNG DỤNG**



Hãy tìm hiểu và trình bày ứng dụng của một số aldehyde.



a) Keo phenolformaldehyde dùng trong công nghiệp gỗ dán



b) Các vật dụng được sản xuất từ nhựa melamine



c) Các mẫu sinh vật được bảo quản trong formal

**Hình 23.8.** Một số ứng dụng của formaldehyde

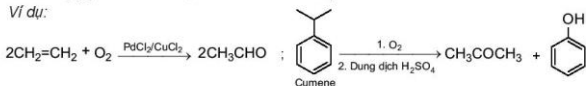
**EM CÓ BIẾT**

Một lượng nhỏ acetone được tạo ra trong cơ thể con người qua quá trình chuyển hoá chất béo không hoàn toàn. Ở người khoẻ mạnh, acetone được hình thành ở gan và được chuyển hoá gần như hoàn toàn, chỉ có một lượng rất nhỏ xuất hiện trong nước tiểu. Sự hiện diện của acetone bất thường trong nước tiểu là một dấu hiệu của bệnh tiểu đường và được phát hiện qua việc xét nghiệm nước tiểu (chỉ số KET).

**VI ĐIỀU CHẾ**

Một số hợp chất carbonyl được tổng hợp trong công nghiệp bằng phương pháp oxi hoá các hydrocarbon, oxi hoá ethylene thành acetaldehyde, oxi hoá cumene thành acetone (quy trình cumene, xem Bài 21. Phenol).

Ví dụ:



### EM ĐÃ HỌC

- Aldehyde là hợp chất hữu cơ có nhóm  $-CHO$  liên kết với nguyên tử carbon (trong gốc hydrocarbon hoặc  $-CHO$ ) hoặc nguyên tử hydrogen.

Ketone là hợp chất hữu cơ có nhóm  $>C=O$  liên kết với hai gốc hydrocarbon.

- Tên gọi theo danh pháp thay thế:

Aldehyde đơn chức: Tên hydrocarbon (bỏ e ở cuối) al

Ketone đơn chức: Tên hydrocarbon (bỏ e ở cuối) vị trí nhóm  $C=O$  one

- Cấu trúc nhóm carbonyl:  $-120^\circ$  

- Các aldehyde, ketone có nhiệt độ sôi cao hơn các hydrocarbon có phân tử khối tương đương. Các aldehyde, ketone có mạch carbon ngắn tan tốt trong nước.

Phản ứng khử: Aldehyde +  $2[H]$   $\rightarrow$  Alcohol bậc I

Ketone +  $2[H]$   $\rightarrow$  Alcohol bậc II

Phản ứng oxi hoá aldehyde: Aldehyde  $\xrightarrow{[O]}$  Carboxylic acid

Phản ứng cộng: 

Phản ứng tạo iodoform:



- Ứng dụng của aldehyde và ketone: formaldehyde dùng để sản xuất vật liệu nhựa, keo dán, sơn, chất nổ, bảo quản mẫu sinh vật,...; acetaldehyde dùng để sản xuất acetic acid, acetic anhydride,...; acetone dùng làm dung môi, sản xuất chloroform, bisphenol-A,...
- Điều chế aldehyde và ketone bằng cách oxi hoá hydrocarbon.

### EM CÓ THỂ

- Vận dụng các kiến thức về hợp chất carbonyl để giải thích: các ứng dụng của các aldehyde, ketone trong cuộc sống như quá trình sản xuất gương, làm dung môi,...
- Tìm hiểu về ứng dụng các hợp chất aldehyde, ketone có trong tự nhiên và vai trò của một số aldehyde, ketone quan trọng trong cơ thể người.



**MỤC TIÊU**

- Nêu được khái niệm về carboxylic acid.
- Viết được công thức cấu tạo và gọi tên một số acid theo danh pháp thay thế (C1-C5) và, một vài acid thường gặp theo tên thông thường.
- Trình bày được đặc điểm cấu tạo và hình dạng phân tử acetic acid.
- Nêu và giải thích được đặc điểm về tính chất vật lí (trạng thái, nhiệt độ sôi, tính tan) của carboxylic acid.
- Trình bày được tính chất hoá học cơ bản của carboxylic acid: Thể hiện tính acid (phản ứng với chất chỉ thị; phản ứng với kim loại, oxide kim loại, base, muối) và phản ứng ester hoá.
- Thực hiện được thí nghiệm về phản ứng của acetic acid (hoặc citric acid) với quỳ tím, sodium carbonate (hoặc calcium carbonate), magnesium; điều chế ethyl acetate (hoặc quan sát qua video thí nghiệm); mô tả được các hiện tượng thí nghiệm và giải thích được tính chất hoá học của carboxylic acid.
- Trình bày được ứng dụng của một số carboxylic acid thông dụng và phương pháp điều chế carboxylic acid (điều chế acetic acid bằng phương pháp lên men giấm và phản ứng oxy hoá alkane).



Vị chua của giấm và các loại quả như khế, chanh, táo, me,... đều được tạo bởi carboxylic acid. Vậy carboxylic acid chứa nhóm chức nào và có các tính chất đặc trưng gì?



**KHÁI NIỆM, DANH PHÁP**

1. Khái niệm



Nhiều carboxylic acid tồn tại trong tự nhiên. Hãy nhận xét đặc điểm chung về cấu tạo của các carboxylic acid dưới đây:

**HCOOH** ←  
formic acid  
(có trong nọc kiến)



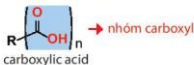
→ **CH<sub>3</sub>COOH**  
acetic acid  
(có trong giấm)

**CH<sub>3</sub>CH<sub>2</sub>CH<sub>2</sub>COOH** ←  
butyric acid  
(có trong bơ)



→ **COOH**  
**COOH**  
oxalic acid  
(có trong quả khế)

Carboxylic acid là các hợp chất hữu cơ trong phân tử có nhóm -COOH liên kết với nguyên tử carbon (trong gốc hydrocarbon hoặc -COOH) hoặc nguyên tử hydrogen.



Công thức của các carboxylic acid đơn chức thường được viết ở dạng thu gọn là RCOOH.

Ví dụ:  $\text{CH}_3\text{COOH}$ ,  $\text{CH}_2=\text{CHCOOH}$ ,  $\text{C}_6\text{H}_5\text{COOH}$ .

## 2. Danh pháp

### a) Danh pháp thay thế

Tên theo danh pháp thay thế của carboxylic acid đơn chức:

Tên hydrocarbon tương ứng (tính cả nhóm  $-\text{COOH}$ )  
(bỏ e ở cuối) oic acid

Ví dụ:  $\text{HCOOH}$  methanoic acid     $\text{CH}_3\text{CH}_2\text{CH}_2\text{COOH}$  butanoic acid     $\text{CH}_2=\text{CHCOOH}$  propenoic acid

Chú ý:

- Mạch chính là mạch carbon dài nhất chứa nhóm  $-\text{COOH}$  và được đánh số bắt đầu từ nhóm  $-\text{COOH}$ .
- Nếu mạch carbon có nhánh thì cần thêm vị trí và tên nhánh ở phía trước.

Ví dụ:  $\begin{matrix} 3 & 2 & 1 \\ \text{CH}_3 & -\text{CH} & -\text{COOH} \\ & | \\ & \text{CH}_3 \end{matrix}$  2-methylpropanoic acid     $\begin{matrix} 4 & 3 & 2 & 1 \\ \text{CH}_3 & -\text{CH} & -\text{CH}_2 & -\text{COOH} \\ & | \\ & \text{CH}_3 \end{matrix}$  3-methylbutanoic acid     $\begin{matrix} 4 & 3 & 2 & 1 \\ \text{CH}_3 & -\text{C} & =\text{CH} & -\text{COOH} \\ & | \\ & \text{CH}_3 \end{matrix}$  3-methylbut-2-enoic acid

### b) Tên thông thường

Tên thông thường của carboxylic acid thường xuất phát từ nguồn gốc tìm ra chúng trong tự nhiên.

**Bảng 24.1.** Tên theo danh pháp thay thế, tên thông thường của một số carboxylic acid và nguồn gốc của tên gọi

Công thức cấu tạo	Tên theo danh pháp thay thế	Tên thông thường	Nguồn gốc
$\text{HCOOH}$	methanoic acid	formic acid	formica (La-tinh): con kiến
$\text{CH}_3\text{COOH}$	ethanoic acid	acetic acid	acetum (La-tinh): giấm ăn
$\text{CH}_3\text{CH}_2\text{COOH}$	propanoic acid	propionic acid	propion (Hy Lạp): chất béo đầu tiên
$\text{CH}_3(\text{CH}_2)_{14}\text{COOH}$	hexadecanoic acid	palmitic acid	palma (La-tinh): cây cọ
$\text{CH}_3(\text{CH}_2)_{16}\text{COOH}$	octadecanoic acid	stearic acid	stear (Hy Lạp): chất béo dạng rắn
$\text{C}_6\text{H}_5\text{COOH}$	phenylmethanoic acid	benzoic acid	benzoin: tên một loại nhựa cây
$\text{HOOC}-\text{COOH}$	ethanedioic acid	oxalic acid	oxalis: tên một chi của thực vật



- Viết các công thức cấu tạo và gọi tên theo danh pháp thay thế của các acid có công thức  $C_4H_8COOH$ .
- Viết công thức cấu tạo của các carboxylic acid có tên gọi dưới đây:
  - pentanoic acid;
  - but-3-enoic acid;
  - 2-methylbutanoic acid;
  - 2,2-dimethylpropanoic acid.



## ĐẶC ĐIỂM CẤU TẠO

Nhóm carboxyl gồm có nhóm hydroxy ( $-O-H$ ) liên kết với nhóm carbonyl ( $\text{>C=O}$ ). Nhóm  $\text{>C=O}$  là nhóm hút electron nên liên kết  $O-H$  trong carboxylic acid phân cực hơn so với alcohol, phenol. Nhóm  $-COOH$  có thể phân li ra  $H^+$  nên tính chất hoá học đặc trưng của carboxylic acid là tính acid.



Hình 24.1. Cấu tạo nhóm carboxyl (a) và mô hình phân tử acetic acid (b)



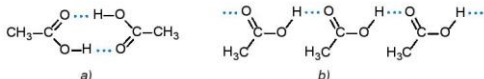
## TÍNH CHẤT VẬT LÝ



Tại sao trong các hợp chất hữu cơ có phân tử khối xấp xỉ nhau dưới đây, carboxylic acid có nhiệt độ sôi cao nhất?

Loại hợp chất	alkane	aldehyde	alcohol	carboxylic acid
Công thức cấu tạo	$CH_3CH_2CH_2CH_3$	$CH_3CH_2CHO$	$CH_3CH_2CH_2OH$	$CH_3COOH$
M	58	58	60	60
$t_s$ ( $^{\circ}C$ ) <sup>(1)</sup>	-0,5	49	97,2	118

Phân tử carboxylic acid chứa nhóm carboxyl phân cực. Các phân tử carboxylic acid liên kết hydrogen với nhau tạo thành dạng dimer hoặc dạng liên phân tử.



Hình 24.2. Liên kết hydrogen dạng dimer (a) và dạng liên phân tử (b) của acetic acid

<sup>(1)</sup> Nguồn: *Organic chemistry: A Short Course*, Harold Hart, Christopher M. Hadad, Leslie E. Craine, Cengage Learning, 2011.

Do vậy, carboxylic acid có nhiệt độ sôi cao hơn so với hydrocarbon, alcohol, hợp chất carbonyl có phân tử khối tương đương.

Carboxylic acid mạch ngắn là chất lỏng ở nhiệt độ phòng, carboxylic acid mạch dài là chất rắn dạng sáp. Carboxylic acid thường có mùi chua nồng.

Carboxylic acid mạch ngắn tan tốt trong nước. Khi tăng số nguyên tử carbon trong gốc hydrocarbon thì độ tan của các carboxylic acid giảm.

**Bảng 24.2.** Nhiệt độ sôi và tính tan của một số carboxylic acid<sup>(1)</sup>

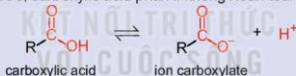
Công thức	Tên gọi	Nhiệt độ nóng chảy (°C)	Nhiệt độ sôi (°C)	Độ tan trong nước ở 25 °C (g/100 g)
HCOOH	methanoic acid	8	101	tan vô hạn
CH <sub>3</sub> COOH	ethanoic acid	17	118	tan vô hạn
CH <sub>3</sub> CH <sub>2</sub> COOH	propanoic acid	-22	141	tan vô hạn
CH <sub>3</sub> CH <sub>2</sub> CH <sub>2</sub> COOH	butanoic acid	-8	164	tan vô hạn
CH <sub>3</sub> CH <sub>2</sub> CH <sub>2</sub> CH <sub>2</sub> COOH	pentanoic acid	-34	186	4,97
CH <sub>3</sub> CH <sub>2</sub> CH <sub>2</sub> CH <sub>2</sub> CH <sub>2</sub> COOH	hexanoic acid	-1,5	205	1,0
CH <sub>3</sub> CH <sub>2</sub> CH <sub>2</sub> CH <sub>2</sub> CH <sub>2</sub> CH <sub>2</sub> COOH	decanoic acid	31	270	0,01

## IV TÍNH CHẤT HOÀ HẠC

### 1. Tính acid



Trong dung dịch nước, carboxylic acid phân li không hoàn toàn theo cân bằng:



Hằng số cân bằng của phương trình phân li một số carboxylic acid được cho trong Bảng 24.3.

**Bảng 24.3.** Hằng số cân bằng của phương trình phân li một số carboxylic acid<sup>(1)</sup>

Carboxylic acid	Hằng số cân bằng của phương trình phân li carboxylic acid	Phần trăm phân li (dung dịch 0,1 M) (%)
HCOOH	$1,8 \cdot 10^{-4}$	4,2
CH <sub>3</sub> COOH	$1,8 \cdot 10^{-5}$	1,3
CH <sub>3</sub> CH <sub>2</sub> COOH	$1,3 \cdot 10^{-5}$	1,2
CH <sub>3</sub> CH <sub>2</sub> CH <sub>2</sub> COOH	$1,5 \cdot 10^{-5}$	1,2

Hãy nhận xét về khả năng phân li của carboxylic acid. Chúng là các acid mạnh hay yếu và có các phản ứng đặc trưng nào?

<sup>(1)</sup> Nguồn: Organic chemistry: A Short Course, Harold Hart, Christopher M. Hadad, Leslie E. Craine, Cengage Learning, 2011.



**Thí nghiệm: Tính acid của acetic acid**

*Chuẩn bị:* dung dịch acetic acid 10%, dung dịch  $\text{Na}_2\text{CO}_3$  10%, bột Mg; ống nghiệm, giấy quỳ.

*Tiến hành:*

1. Phản ứng với chất chỉ thị:

Nhỏ một giọt dung dịch acetic acid 10% lên mẫu giấy quỳ.

*Quan sát và mô tả sự thay đổi màu sắc của giấy quỳ.*

2. Phản ứng với kim loại:

– Cho 1 – 2 mL dung dịch acetic acid 10% vào ống nghiệm (1).

– Thêm tiếp một ít bột Mg vào ống nghiệm (1).

*Quan sát và mô tả hiện tượng xảy ra trong ống nghiệm (1).*

3. Phản ứng với muối:

– Cho 1 – 2 mL dung dịch  $\text{Na}_2\text{CO}_3$  10% vào ống nghiệm (2).

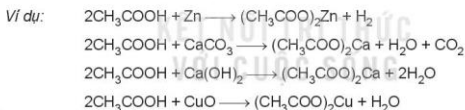
– Thêm tiếp 1 – 2 mL dung dịch acetic acid 10% vào ống nghiệm (2).

*Thực hiện yêu cầu sau:*

*Quan sát và mô tả hiện tượng xảy ra trong ống nghiệm (2).*

Viết phương trình hoá học của các phản ứng xảy ra trong các thí nghiệm trên và giải thích hiện tượng.

Trong dung dịch nước, chỉ một phần nhỏ carboxylic acid phân li thành ion, vì vậy carboxylic acid là những acid yếu. Chúng thể hiện đầy đủ tính chất của acid.



4. Viết phương trình hoá học phản ứng giữa acetic acid với các chất sau:

a) Ca;      b)  $\text{Cu}(\text{OH})_2$ ;      c) CaO;      d)  $\text{K}_2\text{CO}_3$ .

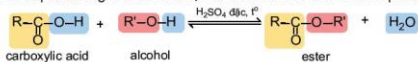
5. a) Khi có cặn màu trắng (thành phần chính là  $\text{CaCO}_3$ ) bám ở đáy ấm đun nước, với nước, thiết bị vệ sinh,... có thể dùng giấm để loại bỏ các vết cặn này. Hãy giải thích.

b) Các đồ vật bằng đồng sau một thời gian để trong không khí thường bị xỉn màu, dùng khăn thấm một ít giấm rồi lau các đồ vật này, chúng sáng bóng trở lại. Hãy giải thích.

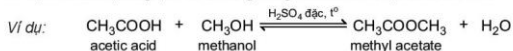
(1) Nguồn: General, Organic and Biological Chemistry, Sixth Edition, H. Stephen Stoker, Cengage Learning, 2013.

## 2. Phản ứng ester hoá

Carboxylic acid phản ứng với alcohol tạo thành ester và nước theo phản ứng:



Phản ứng giữa carboxylic acid và alcohol được gọi là *phản ứng ester hoá*. Phản ứng có đặc điểm thuận nghịch và thường dùng sulfuric acid đặc làm xúc tác.



### Nghiên cứu phản ứng ester hoá – điều chế ethyl acetate

Điều chế ethyl acetate trong phòng thí nghiệm được tiến hành như sau:

- Cho khoảng 2 mL ethanol và 2 mL acetic acid tuyệt đối vào ống nghiệm, lắc đều hỗn hợp.
- Thêm khoảng 1 mL dung dịch  $\text{H}_2\text{SO}_4$  đặc, lắc nhẹ để các chất trộn đều với nhau.
- Kẹp ống nghiệm vào kẹp gỗ rồi đặt ống nghiệm vào cốc nước nóng (khoảng  $60^\circ\text{C}$  –  $70^\circ\text{C}$ ) trong khoảng 5 phút, thỉnh thoảng lắc đều hỗn hợp. Sau đó lấy ống nghiệm ra khỏi cốc nước nóng, để nguội hỗn hợp rồi rót sang ống nghiệm khác chứa 5 mL dung dịch muối ăn bão hòa.


*Thực hiện yêu cầu:*

1. Mô tả hiện tượng, viết phương trình hoá học của phản ứng ester hoá xảy ra trong thí nghiệm trên.
2. Vai trò của sulfuric acid trong thí nghiệm trên là gì?

### EM CÓ BIẾT

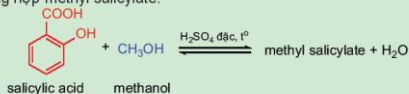
Nhiều hợp chất ester tạo nên mùi hương đặc trưng của các loại hoa quả.

Ví dụ:






6. Methyl butyrate là ester tạo mùi đặc trưng của quả táo, em hãy viết phương trình hoá học của phản ứng điều chế methyl butyrate từ carboxylic acid và alcohol tương ứng.
7. Methyl salicylate là hợp chất thuộc loại ester được dùng làm cao dán giảm đau, kháng viêm ngoài da. Methyl salicylate được tổng hợp từ phản ứng ester hoá giữa salicylic acid và methanol. Hãy hoàn thành phương trình hoá học của phản ứng tổng hợp methyl salicylate:



## V ĐIỀU CHẾ

### 1. Phương pháp lên men giấm

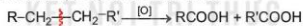
Phương pháp lên men được sử dụng từ thời xa xưa để làm giấm. Nguyên liệu thường là các loại rượu như rượu gạo, rượu táo, rượu vang,.... Quá trình lên men nhờ vi khuẩn acetobacter (men giấm) chuyển hoá ethanol thành acetic acid bởi oxygen không khí.



Trong công nghiệp, người ta cung cấp thêm oxygen để tăng tốc độ phản ứng lên men.

### 2. Phương pháp oxi hoá alkane

Các alkane bị oxi hoá cắt mạch tạo thành các acid:



## VI ỨNG DỤNG



Em hãy tìm hiểu và trình bày ứng dụng của một carboxylic acid.

### EM ĐÃ HỌC

- Carboxylic acid là các hợp chất hữu cơ trong phân tử có nhóm  $-\text{COOH}$  liên kết với nguyên tử carbon (trong gốc hydrocarbon hoặc  $-\text{COOH}$ ) hoặc nguyên tử hydrogen.

Có thể biểu diễn công thức của carboxylic acid đơn chức dưới dạng  $\text{RCOOH}$ .

- Danh pháp thay thế của carboxylic acid đơn chức:

Tên hydrocarbon mạch chính (tính cả nhóm  $-\text{COOH}$ )  
(bỏ e ở cuối)

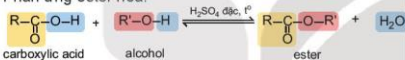
ic acid

- Nhóm  $-\text{COOH}$  có liên kết  $\text{O}-\text{H}$  phân cực:  $\text{R}-\overset{\text{O}}{\parallel}{\text{C}}-\overset{\delta^-}{\text{O}}-\overset{\delta^+}{\text{H}}$

Nhóm  $-\text{COOH}$  có thể phân li thành  $\text{H}^+$  nên tính chất hoá học đặc trưng của carboxylic acid là tính acid.

- Carboxylic acid mạch ngắn là chất lỏng, tan tốt trong nước. Carboxylic acid mạch dài là chất rắn và ít tan trong nước.

- Phản ứng ester hoá:




- Điều chế:

- Phương pháp lên men giấm:



- Phương pháp oxi hoá alkane:



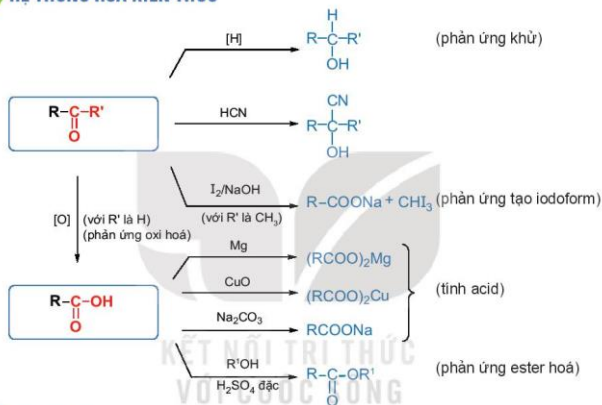
- Ứng dụng: vật liệu sản xuất polymer, dược phẩm, dung môi, hương liệu, phụ gia thực phẩm, chất tẩy rửa,...

### EM CÓ THỂ

- Biết cách làm giấm bằng phương pháp lên men để sử dụng trong gia đình.
- Vận dụng các tính chất của carboxylic acid để giải thích các ứng dụng của chúng trong đời sống: tẩy cặn ở đáy ấm, loại bỏ các lớp gỉ bám trên bề mặt kim loại,...



I HỆ THỐNG HOÁ KIẾN THỨC



II LUYỆN TẬP

Câu 1. Cho bốn hợp chất sau: ethanol, propanal, acetone, acetic acid.

a) Chất nào trong các chất trên có nhiệt độ sôi cao nhất?

b) Trình bày cách phân biệt các chất trên bằng phương pháp hoá học.

Câu 2. Viết công thức cấu tạo và gọi tên theo danh pháp thay thế của các aldehyde, ketone có công thức phân tử  $C_4H_8O$  và carboxylic acid có công thức phân tử  $C_4H_8O_2$ .

Câu 3. Viết công thức cấu tạo của các hợp chất có tên gọi dưới đây:

a) 3-methylbutanal;

b) pentan-2-one;

c) pentanoic acid;

d) 2-methylbutanoic acid.

Câu 4. Hãy viết các phương trình hoá học để chứng minh các aldehyde vừa có tính oxi hoá, vừa có tính khử.

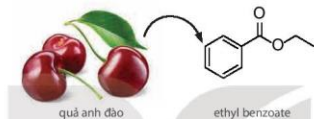
**Câu 5.** Xác định sản phẩm của các phản ứng sau:

- a) propanal + 2[H]  $\longrightarrow$
- b) ethanal + AgNO<sub>3</sub> + NH<sub>3</sub> + H<sub>2</sub>O  $\longrightarrow$
- c) butanone + HCN  $\longrightarrow$
- d) propanone + I<sub>2</sub>  $\xrightarrow{\text{NaOH}}$

**Câu 6.** Viết phương trình phản ứng giữa propanoic acid với các chất sau:

- a) Zn;
- b) MgO;
- c) CaCO<sub>3</sub>;
- d) CH<sub>3</sub>OH/H<sub>2</sub>SO<sub>4</sub> đặc.

**Câu 7.** Ethyl benzoate là hợp chất chính tạo mùi thơm của quả anh đào (cherry). Hãy viết phương trình hoá học của phản ứng tổng hợp ethyl benzoate từ carboxylic acid và alcohol tương ứng.



**Câu 8.** Cho 12 g acetic acid phản ứng với 12 g ethanol (có H<sub>2</sub>SO<sub>4</sub> đặc làm xúc tác) thu được 8 g ester. Tính hiệu suất phản ứng ester hoá.

**Câu 9.** Trong thành phần của bột vệ sinh lồng máy giặt thường có mặt citric acid (acid chanh). Hãy giải thích vai trò của citric acid trong trường hợp này.

KẾT NỐI TRI THỨC  
VỚI CUỘC SỐNG

## GIẢI THÍCH MỘT SỐ THUẬT NGỮ DÙNG TRONG SÁCH

	THUẬT NGỮ	Trang
<b>C</b>	<i>Chất chỉ thị màu acid-base</i> : chất có màu sắc biến đổi phụ thuộc vào pH của dung dịch.	23
<b>K</b>	<i>Khí thiên nhiên</i> : khí chứa trong các mỏ khí riêng biệt, thành phần chính gồm các alkane nhẹ, chủ yếu là methane.	82
<b>N</b>	<i>NO<sub>x</sub> thiên liệu</i> : các oxide của nitrogen tạo thành khí nguyên tố nitrogen trong nhiên liệu hoặc sinh khối kết hợp với oxygen trong không khí.	38
	<i>NO<sub>x</sub> tức thời</i> : các oxide của nitrogen tạo thành khí nitrogen trong không khí tác dụng với các gốc tự do.	38
<b>P</b>	<i>Phản ứng cộng</i> : phân tử chất hữu cơ kết hợp với phân tử khác để tạo thành một phân tử lớn hơn.	96
	<i>Phản ứng tạo iodoform</i> : phản ứng giữa các aldehyde, ketone có nhóm methyl cạnh nhóm carbonyl với iodine trong môi trường kiềm tạo kết tủa iodoform màu vàng.	142
	<i>Phản ứng tách</i> : phản ứng trong đó nguyên tử hoặc nhóm nguyên tử bị tách ra khỏi phân tử hợp chất hữu cơ cùng với nguyên tử hoặc nhóm nguyên tử khác trong phân tử đó.	115
	<i>Phản ứng thế</i> : phản ứng trong đó nguyên tử hoặc một nhóm nguyên tử trong phân tử hữu cơ bị thay thế bởi một nguyên tử hoặc một nhóm nguyên tử khác.	86
	<i>Phản ứng trùng hợp</i> : phản ứng kết hợp liên tiếp nhiều phân tử nhỏ giống nhau hoặc tương tự nhau tạo thành những phân tử lớn hơn (polymer).	97
<b>T</b>	<i>Thuốc thử Tollens</i> : dung dịch chứa phức chất của ion Ag <sup>+</sup> với ammonia có công thức [Ag(NH <sub>3</sub> ) <sub>2</sub> ]OH dùng để nhận biết nhóm chức aldehyde.	140

---

*Nhà xuất bản Giáo dục Việt Nam xin trân trọng cảm ơn các tác giả có tác phẩm, tư liệu được sử dụng, trích dẫn trong cuốn sách này.*

---

**Chịu trách nhiệm xuất bản:**

Chủ tịch Hội đồng Thành viên NGUYỄN ĐỨC THÁI  
Tổng Giám đốc HOÀNG LÊ BÁCH

**Chịu trách nhiệm nội dung:**

Tổng biên tập PHẠM VĨNH THÁI

Biên tập nội dung: NGUYỄN THANH GIANG – PHÙNG THỊ PHƯƠNG LIÊN  
NGUYỄN VĂN NGUYỄN

Biên tập mỹ thuật: NGUYỄN BÍCH LA

Thiết kế sách: PHẠM THỊ MINH THU

Trình bày bìa: NGUYỄN BÍCH LA

Minh họa: BÙI VIỆT DUY

Sửa bản in: PHẠM THỊ TÍNH

Chế bản: CTCP MĨ THUẬT VÀ TRUYỀN THÔNG

---

**Bản quyền © (2022) thuộc Nhà xuất bản Giáo dục Việt Nam.**

---

Xuất bản phẩm đã đăng kí quyền tác giả. Tất cả các phần của nội dung cuốn sách này đều không được sao chép, lưu trữ, chuyển thể dưới bất kì hình thức nào khi chưa có sự cho phép bằng văn bản của Nhà xuất bản Giáo dục Việt Nam.

**HOÀ HỌC 11**

**Mã số:**

In ... bản, (QĐ ...) khổ 19 x 26,5 cm.

Đơn vị in: ...

Cơ sở in: ...

Số ĐKXB: 183-2022/CXBIPH/11-62/GD.

Số QĐXB: .../QĐ - GD - HN ngày ... tháng ... năm 20...

In xong và nộp lưu chiểu tháng ... năm 20...

Mã số ISBN:



HUÂN CHƯƠNG HỒ CHÍ MINH

## BỘ SÁCH GIÁO KHOA LỚP 11 – KẾT NỐI TRI THỨC VỚI CUỘC SỐNG

1. Ngữ văn 11, tập một
2. Ngữ văn 11, tập hai
3. Chuyên đề học tập Ngữ văn 11
4. Toán 11, tập một
5. Toán 11, tập hai
6. Chuyên đề học tập Toán 11
7. Lịch sử 11
8. Chuyên đề học tập Lịch sử 11
9. Địa lí 11
10. Chuyên đề học tập Địa lí 11
11. Giáo dục Kinh tế và Pháp luật 11
12. Chuyên đề học tập Giáo dục Kinh tế và Pháp luật 11
13. Vật lí 11
14. Chuyên đề học tập Vật lí 11
15. Hoá học 11
16. Chuyên đề học tập Hoá học 11
17. Sinh học 11
18. Chuyên đề học tập Sinh học 11
19. Công nghệ 11 – Công nghệ cơ khí
20. Chuyên đề học tập Công nghệ 11 – Công nghệ cơ khí
21. Công nghệ 11 – Công nghệ chăn nuôi
22. Chuyên đề học tập Công nghệ 11 – Công nghệ chăn nuôi
23. Tin học 11 – Định hướng Khoa học máy tính
24. Tin học 11 – Định hướng Tin học ứng dụng
25. Chuyên đề học tập Tin học 11 – Định hướng Tin học ứng dụng
26. Chuyên đề học tập Tin học 11 – Định hướng Khoa học máy tính
27. Mĩ thuật 11 – Thiết kế môi trường đa phương tiện
28. Mĩ thuật 11 – Thiết kế đồ họa
29. Mĩ thuật 11 – Thiết kế thời trang
30. Mĩ thuật 11 – Thiết kế môi trường sân khấu, điện ảnh
31. Mĩ thuật 11 – Lễ hội và lịch sử mĩ thuật
32. Mĩ thuật 11 – Điêu khắc
33. Mĩ thuật 11 – Kiến trúc
34. Mĩ thuật 11 – Hội họa
35. Mĩ thuật 11 – Đồ họa (tranh in)
36. Mĩ thuật 11 – Thiết kế công nghiệp
37. Chuyên đề học tập Mĩ thuật 11
38. Âm nhạc 11
39. Chuyên đề học tập Âm nhạc 11
40. Hoạt động trải nghiệm, hướng nghiệp 11
41. Giáo dục thể chất 11 – Bóng chuyền
42. Giáo dục thể chất 11 – Bóng đá
43. Giáo dục thể chất 11 – Cầu lông
44. Giáo dục thể chất 11 – Bóng rổ
45. Giáo dục quốc phòng và an ninh 11
46. Tiếng Anh 11 – Global Success – Sách học sinh

### Các đơn vị đầu mối phát hành

- **Miền Bắc:** CTCP Đầu tư và Phát triển Giáo dục Hà Nội  
CTCP Sách và Thiết bị Giáo dục miền Bắc
- **Miền Trung:** CTCP Đầu tư và Phát triển Giáo dục Đà Nẵng  
CTCP Sách và Thiết bị Giáo dục miền Trung
- **Miền Nam:** CTCP Đầu tư và Phát triển Giáo dục Phương Nam  
CTCP Sách và Thiết bị Giáo dục miền Nam  
CTCP Sách và Thiết bị Giáo dục Cửu Long

Sách điện tử: <http://hanhtrangso.nxbgd.vn>

Kích hoạt để mở học liệu điện tử. Cao lớp nhũ trên tem để nhận mã số. Truy cập <http://hanhtrangso.nxbgd.vn> và nhập mã số tại biểu tượng của khóa.



Giá: .... đ

Toàn bộ Ebook có trên website Blogtailieu.com đều có bản quyền thuộc về tác giả, **Blog Tài Liệu** không thu hay yêu cầu khoản phí nào, khuyến khích các bạn nếu có khả năng hãy mua sách để ủng hộ tác giả. **Blog Tài Liệu** Trân trọng cảm ơn các bạn quan tâm trang [blogtailieu.com](http://blogtailieu.com)

**SHOPEE.VN**

**TIKI.VN**

## HƯỚNG DẪN TẢI BẢN ĐẸP

[Blogtailieu.com/huong-dan-co-ban](http://Blogtailieu.com/huong-dan-co-ban)

Nội dung cập nhật liên tục trên blog tài liệu

Nguồn tài liệu:

**Học10.vn**

**Hành trang số. nxbgd.vn**