



TRẦN NAM DŨNG (Tổng Chủ biên)
KHÚC THÀNH CHÍNH (Chủ biên)
ĐINH THỊ XUÂN DUNG – NGUYỄN KÍNH ĐỨC
ĐINH THỊ KIM LAN – HUỖNH THỊ KIM TRANG

TOÁN

SACHHOC.COM



TẬP HAI



NHÀ XUẤT BẢN GIÁO DỤC VIỆT NAM



TRẦN NAM DŨNG (Tổng Chủ biên)
KHÚC THÀNH CHÍNH (Chủ biên)
ĐINH THỊ XUÂN DUNG – NGUYỄN KÍNH ĐỨC
ĐINH THỊ KIM LAN – HUỲNH THỊ KIM TRANG

Toán



TẬP HAI

Chân trời sáng tạo



NHÀ XUẤT BẢN GIÁO DỤC VIỆT NAM

HƯỚNG DẪN SỬ DỤNG SÁCH

PHÉP CỘNG CÁC SỐ TRONG PHẠM VI 10 000

Cộng các số có bốn chữ số như thế nào?



Đặt ví dụ tương tự bằng cách viết bốn chữ số.

$$1421 + 2815 = 7$$



$$1421 + 2815 = 3936$$

- 1 cộng 5 bằng 6, viết 6.
- 2 cộng 1 bằng 3, viết 3.
- 4 cộng 8 bằng 12, viết 2.
- 1 cộng 2 bằng 3, viết 3.

Mỗi bài học thường có các phần sau:

Cùng học tìm tòi, khám phá, dựa vào kiến thức cũ để hình thành kiến thức mới.

Thực hành các kiến thức, kỹ năng ở phần Cùng học.

Luyện tập và vận dụng kiến thức, kỹ năng vừa học.

Một số kí hiệu khác được dùng trong sách:



Bạn ong vui vẽ gợi ý hoặc làm mẫu.



Tham gia các hoạt động toán học vui, đơn giản.



Khám phá những vấn đề mới liên quan đến kiến thức vừa học.



Thử thách và phát triển năng lực toán học.



Giới thiệu một số địa danh và giá trị lịch sử - văn hoá của đất nước.



Các hoạt động tham khảo tạo thêm cơ hội giúp học sinh kết nối kiến thức đã học với thực tiễn cuộc sống.

Các lệnh yêu cầu viết được thực hiện trên bảng con hoặc vở bài tập.

Hãy bảo quản, giữ gìn sách giáo khoa để dành tặng các em học sinh lớp sau!



Lời nói đầu

Các em học sinh thân mến!

Bước sang lớp 3, các em đã lớn hơn và mong muốn hiểu biết nhiều hơn.

Sách **Toán 3** cũng chứa đựng nhiều nội dung mới mẻ và thú vị hơn. Chẳng hạn, các em có thể tính toán với số sách hàng chục nghìn cuốn trong thư viện; các em biết đo nhiệt độ trong lớp học, biết tính chu vi phòng học; các em có thể thống kê chiều cao của các bạn học sinh trong lớp; ...

Sách **Toán 3** sẽ giúp các em tự tìm tòi, khám phá và học tập một cách sáng tạo theo năng lực của mình.

Ở trường, em học Toán cùng bạn bè và thầy cô. Ở nhà, em chia sẻ những điều đã học với người thân để tìm hiểu về cuộc sống xung quanh.

Sách **Toán 3** như người bạn thân thiết giúp các em biết yêu thương mọi người và hiểu thêm về đất nước Việt Nam tươi đẹp.

Chúc các em mỗi ngày đến trường là một ngày vui.

Các tác giả

MỤC LỤC

3. CÁC SỐ ĐẾN 10 000.....	6
Chục nghìn	7
Các số có bốn chữ số	10
So sánh các số có bốn chữ số.....	12
Phép cộng các số trong phạm vi 10 000.....	14
Phép trừ các số trong phạm vi 10 000.....	16
Em làm được những gì?	18
Tháng, năm	20
Gam	22
Mi-li-lít.....	24
Nhân số có bốn chữ số với số có một chữ số	26
Chia số có bốn chữ số cho số có một chữ số	29
Em làm được những gì?	32
Góc vuông, góc không vuông.....	33
Hình chữ nhật.....	35
Hình vuông	36
Chu vi hình tam giác, chu vi hình tứ giác	37
Chu vi hình chữ nhật.....	38
Chu vi hình vuông	40
Bảng thống kê số liệu.....	42
Các khả năng xảy ra của một sự kiện	46
Em làm được những gì?	47
Thực hành và trải nghiệm: Tính chu vi sàn phòng học, chu vi sân trường ...	49

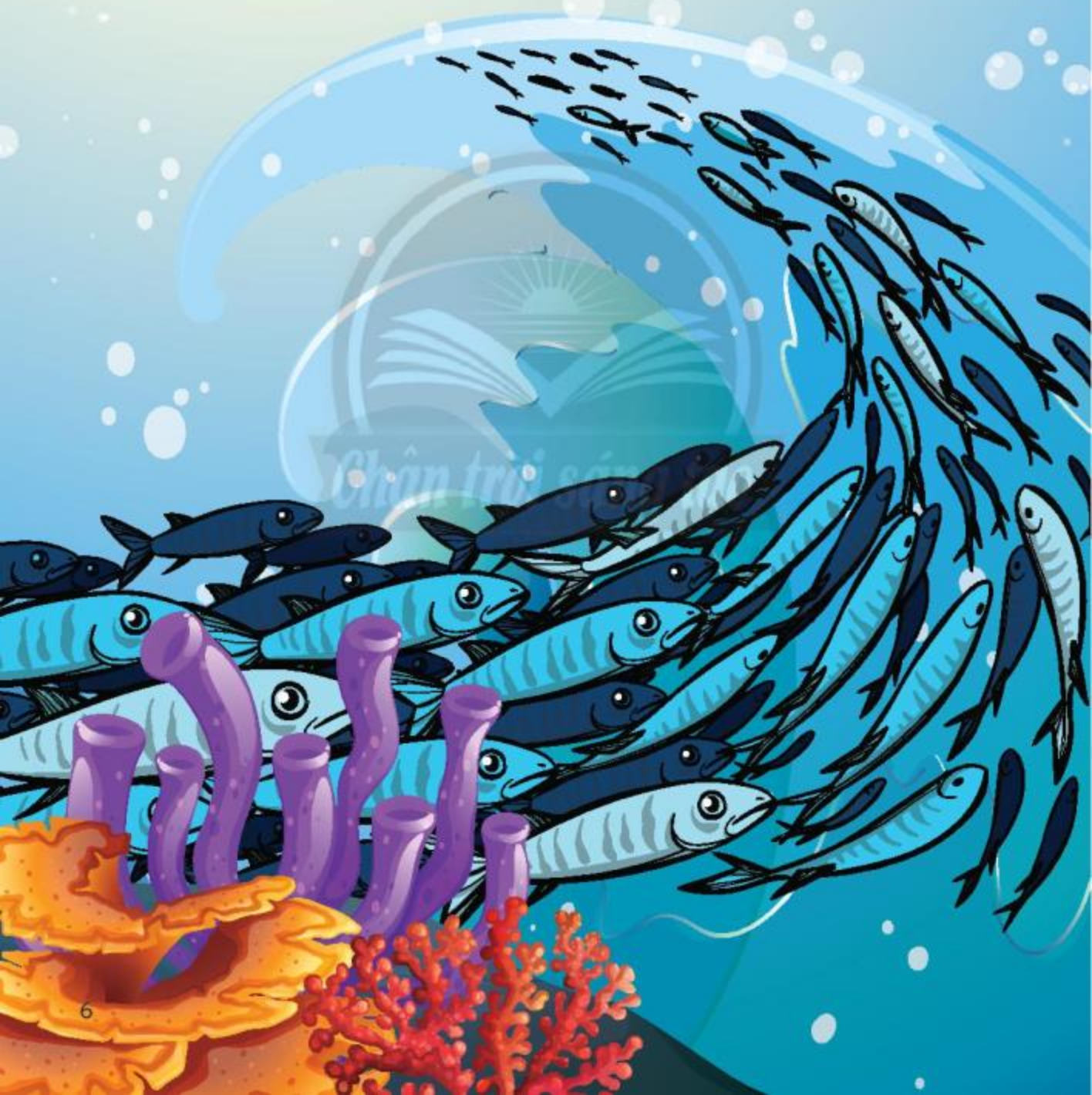
4. CÁC SỐ ĐẾN 100 000 50

Trăm nghìn.....	51
Các số có năm chữ số.....	53
So sánh các số có năm chữ số.....	56
Phép cộng các số trong phạm vi 100 000.....	58
Phép trừ các số trong phạm vi 100 000.....	60
Em làm được những gì?.....	62
Nhân số có năm chữ số với số có một chữ số.....	63
Chia số có năm chữ số cho số có một chữ số.....	65
Em làm được những gì?.....	68
Diện tích của một hình.....	69
Xăng-ti-mét vuông.....	70
Diện tích hình chữ nhật.....	72
Diện tích hình vuông.....	74
Tiền Việt Nam.....	75

ÔN TẬP CUỐI NĂM..... 78

Thực hành và trải nghiệm: Hội chợ.....	86
Bảng thuật ngữ.....	91

3. CÁC SỐ ĐẾN 10 000



CHỤC NGHÌN

Đếm.



10 đơn vị = 1 chục



10 chục = 1 trăm


Mười, hai mươi, ba mươi, ..., một trăm.

Một, hai, ba, ..., mười.



10 trăm = 1 nghìn

Một trăm, hai trăm, ba trăm, ..., một nghìn.



Một nghìn, hai nghìn, ba nghìn, ..., **mười nghìn.**

10 nghìn
hay 1 chục nghìn
(1 vạn)
10 000

1 a) Viết và đọc các số tròn nghìn trong bảng dưới đây.

	Viết số	Đọc số
	1000	một nghìn
	?.	?.
	?.	?.

b) Viết và đọc các số tròn nghìn từ 1000 đến 10 000.

2 Có mấy nghìn, mấy trăm, mấy chục và mấy đơn vị?

Mẫu:

Hàng			
Nghìn	Trăm	Chục	Đơn vị
4	2	7	3

a)

b)

Hàng			
Nghìn	Trăm	Chục	Đơn vị
?.	?.	?.	?.

Hàng			
Nghìn	Trăm	Chục	Đơn vị
?.	?.	?.	?.

3 Lấy các thẻ 1000, 100, 10, 1 phù hợp với mỗi bảng sau.

a)

b)

Hàng			
Nghìn	Trăm	Chục	Đơn vị
1	9	5	4

Hàng			
Nghìn	Trăm	Chục	Đơn vị
2	0	2	2

- 1 Đếm các thẻ số và cho biết có mấy nghìn, mấy trăm, mấy chục và mấy đơn vị.



- 2 Nói theo mẫu.
Mẫu: 7204

7204 gồm 7 nghìn,
2 trăm và 4 đơn vị.




a) 6825

b) 2834


c) 901

- 3 Hình ảnh nào có số khối lập phương phù hợp với mỗi bảng?


Hàng			
Nghìn	Trăm	Chục	Đơn vị
1	2	3	4




Hàng			
Nghìn	Trăm	Chục	Đơn vị
1	2	4	3




Hàng			
Nghìn	Trăm	Chục	Đơn vị
2	1	3	4



Hàng			
Nghìn	Trăm	Chục	Đơn vị
2	1	4	3



CÁC SỐ CÓ BỐN CHỮ SỐ



Hàng			
Nghìn	Trăm	Chục	Đơn vị
?.	?.	?.	?.

Viết số: 5273

Đọc số: Năm nghìn hai trăm bảy mươi ba.

Viết số thành tổng: $5273 = 5000 + 200 + 70 + 3$

1. Viết số, đọc số (theo mẫu).

Nghìn	Trăm	Chục	Đơn vị	Viết số	Đọc số
				6594	sáu nghìn năm trăm chín mươi tư
				?.	?.
				?.	?.
				?.	?.

SO SÁNH CÁC SỐ CÓ BỐN CHỮ SỐ



Ở mỗi bảng bên, ngọn núi nào cao hơn?

Tên núi	Chiều cao
Bà Đen	986 m
Bạch Mã	1444 m

Tên núi	Chiều cao
Phan Xi Păng	3143 m
Pu Ta Leng	3096 m

So sánh 986 và 1444.



Hình nào ít khối lập phương hơn?



986 ? 1444

Số có ít chữ số hơn thì bé hơn.



So sánh 3143 và 3096.



So sánh từng cặp chữ số ở cùng một hàng, kể từ trái sang phải.

3 1 4 3
3 0 9 6

giống nhau khác nhau: $1 > 0$

3143 ? 3096

Cặp chữ số đầu tiên khác nhau: Số có chữ số lớn hơn thì lớn hơn.



1 $>, <, =$

a) $792 \text{ ? } 1000$

b) $6321 \text{ ? } 6132$

c) $8153 \text{ ? } 8159$

$625 \text{ ? } 99$

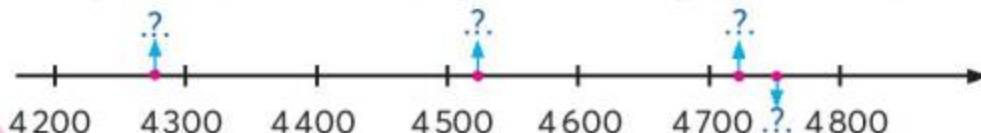
$4859 \text{ ? } 4870$

$1061 \text{ ? } 1000 + 60 + 1$

2 Cho bốn số: 4725, 4275, 4752, 4527.

a) Sắp xếp các số trên theo thứ tự từ bé đến lớn.

b) Tìm vị trí của mỗi số đã cho trên tia số trong hình dưới đây.



1 Trả lời các câu hỏi.

- a) Bể thứ nhất chứa được 2100 l nước, bể thứ hai chứa được 1200 l nước. Bể nào chứa được nhiều nước hơn?
- b) Anh Hai đã chạy được 750 m, anh Ba đã chạy được 1 km. Quãng đường đã chạy được của ai dài hơn?

2 Quan sát bảng bên, trả lời các câu hỏi.

- a) Hai ngọn núi Bạch Mã và Pu Ta Leng, ngọn núi nào cao hơn?
- b) Ngọn núi nào cao nhất?
- c) Sắp xếp tên các ngọn núi theo thứ tự từ cao đến thấp.

Tên núi	Chiều cao
Bà Đen	986 m
Bạch Mã	1444 m
Phan Xi Păng	3143 m
Pu Ta Leng	3096 m

3 Làm tròn số đến hàng nghìn.

Ví dụ:

7075, 7152, 7260, 7301, 7485 $\xrightarrow{\hspace{2cm}}$ 7000
7522, 7608, 7743, 7800, 7950 $\xrightarrow{\hspace{2cm}}$ 8000

Làm tròn số đến hàng nghìn

- a) Làm tròn số 4 521 đến hàng nghìn thì được số ?.
- b) Làm tròn số 6 480 đến hàng nghìn thì được số ?.
- c) Làm tròn số 2 634 đến hàng nghìn thì được số ?.



Chân trời sáng tạo

Trang trại có bao nhiêu con bò?

Số con bò của trang trại là số có bốn chữ số.

- Nếu làm tròn số này đến hàng nghìn thì được số 10000.
- Nếu gạch bỏ chữ số hàng nghìn thì được số lớn nhất có ba chữ số.



Phan Xi Păng (tỉnh Lào Cai) và Pu Ta Leng (tỉnh Lai Châu) là hai ngọn núi cao nhất và nhì nước ta.



Ngọn núi Phan Xi Păng hùng vĩ.

PHÉP CỘNG CÁC SỐ TRONG PHẠM VI 10 000

Cộng các số có bốn chữ số như thế nào?



Đặt tính và tính như cộng các số có ba chữ số.



$$1421 + 2515 = ?$$

$$\begin{array}{r} 1421 \\ + 2515 \\ \hline 3936 \end{array}$$

$$1421 + 2515 = 3936$$

- 1 cộng 5 bằng 6, viết 6.
- 2 cộng 1 bằng 3, viết 3.
- 4 cộng 5 bằng 9, viết 9.
- 1 cộng 2 bằng 3, viết 3.

$$1421 + 2719 = ?$$

$$\begin{array}{r} 1421 \\ + 2719 \\ \hline 4140 \end{array}$$

$$1421 + 2719 = 4140$$

- 1 cộng 9 bằng 10, viết 0, **nhớ 1**.
- 2 cộng 1 bằng 3, **thêm 1** bằng 4, viết 4.
- 4 cộng 7 bằng 11, viết 1, **nhớ 1**.
- 1 cộng 2 bằng 3, **thêm 1** bằng 4, viết 4.

1

Đặt tính rồi tính.

$$2153 + 5433$$

$$1675 + 3309$$

$$6722 + 966$$

$$3905 + 4185$$

$$465 + 619$$

$$880 + 7077$$

1 Số?

Số hạng	1180	458	3268	1523	671
Số hạng	458	1180	1523	3268	225
Tổng	1638	?.	?.	?.	?.

2 Tính nhẩm.

$5000 + 2000 + 1000$

$1800 + 1200 + 6000$

$4000 + 3000 + 3000$

$4900 + 500 + 100$

3 >, <, =

a) $3000 + 800 + 20 + 5$?. 3825

b) $9100 + 380 + 15$?. 9500

c) $6000 + 4$?. 4600

d) $2000 + 70 + 8$?. 2780

4

Gia đình bác Tám thu hoạch măng cụt và xoài. Măng cụt cân được 2320 kg. Khối lượng xoài nhiều hơn măng cụt là 520 kg. Hỏi gia đình bác Tám thu hoạch được tất cả bao nhiêu ki-lô-gam măng cụt và xoài?

**5 Số?**

Thành phố Hồ Chí Minh

1726 km



Thủ đô Hà Nội

320 km



Thị xã Sa Pa (tỉnh Lào Cai)

Quãng đường từ Thành phố Hồ Chí Minh đến thị xã Sa Pa, đi qua Thủ đô Hà Nội, dài ?. km.



Tỉnh Lào Cai có 25 dân tộc cùng sinh sống. Dãy núi Hoàng Liên Sơn ở Lào Cai có đỉnh Phan Xi Păng được gọi là nóc nhà của Việt Nam.

PHÉP TRỪ CÁC SỐ TRONG PHẠM VI 10 000

Trừ các số có bốn chữ số như thế nào?



Đặt tính và tính như trừ các số có ba chữ số.

$$3936 - 1421 = ?$$

$$\begin{array}{r} 3936 \\ - 1421 \\ \hline 2515 \end{array}$$

$$3936 - 1421 = 2515$$

- 6 trừ 1 bằng 5, viết 5.
- 3 trừ 2 bằng 1, viết 1.
- 9 trừ 4 bằng 5, viết 5.
- 3 trừ 1 bằng 2, viết 2.

$$4140 - 1421 = ?$$

$$\begin{array}{r} 4140 \\ - 1421 \\ \hline 2719 \end{array}$$

$$4140 - 1421 = 2719$$

- 0 không trừ được 1, lấy 10 trừ 1 bằng 9, viết 9, **nhớ 1**.
- 2 **thêm 1** bằng 3, 4 trừ 3 bằng 1, viết 1.
- 1 không trừ được 4, lấy 11 trừ 4 bằng 7, viết 7, **nhớ 1**.
- 1 **thêm 1** bằng 2, 4 trừ 2 bằng 2, viết 2.

1 Đặt tính rồi tính.

$$9852 - 3741$$

$$6373 - 2536$$

$$2509 - 328$$

$$1542 - 701$$

$$8172 - 658$$

$$4739 - 1427$$

1 Số?

a) $4719 - 2307 = ?$
 $? - 2412 = 2307$

b) $2164 - 815 = ?$
 $? - 1349 = 815$

2 Chọn giá trị phù hợp với biểu thức.

$4857 - 657$

2053

$2819 - 1411$

2327

$5918 - 3865$

4200

$6231 - 3904$

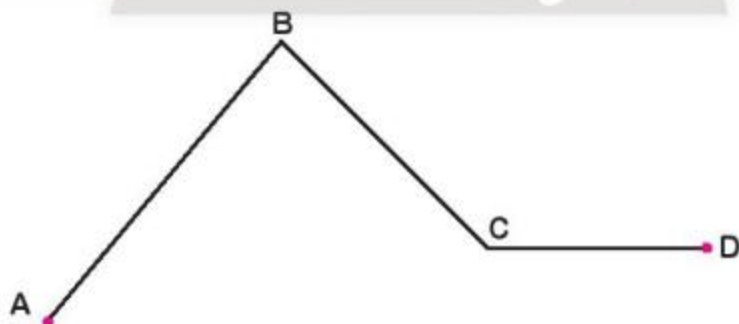
1408

3

Mùa hoa năm nay, bà Tư thu hoạch được 5193 bông hồng đỏ và 3463 bông hồng vàng. Hỏi số bông hồng đỏ bà Tư thu hoạch được nhiều hơn số bông hồng vàng là bao nhiêu?



4 Số?



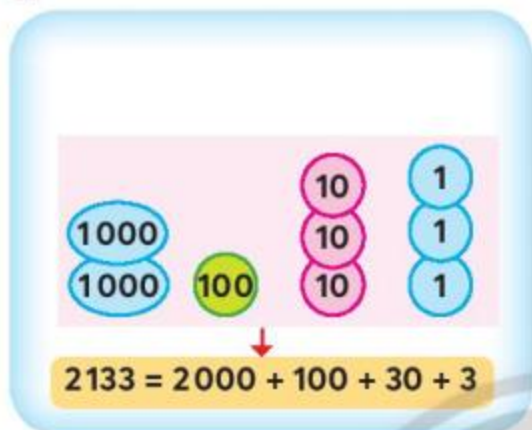
Cho biết:

- Chiều dài đường gấp khúc ABCD là 1200 mm.
 - Chiều dài đường gấp khúc ABC là 900 mm.
 - Chiều dài đường gấp khúc BCD là 700 mm.
- Độ dài đoạn thẳng BC là $?.$ mm.

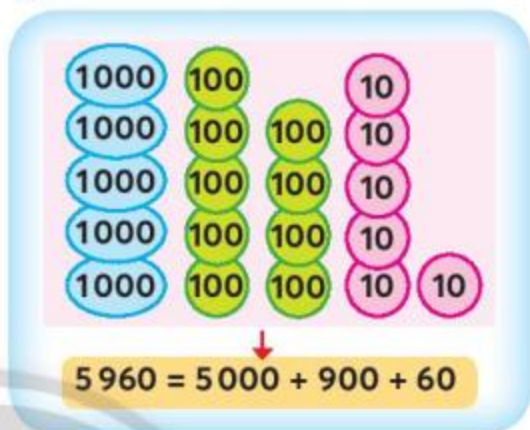
EM LÀM ĐƯỢC NHỮNG GÌ?

1 Câu nào đúng, câu nào sai?

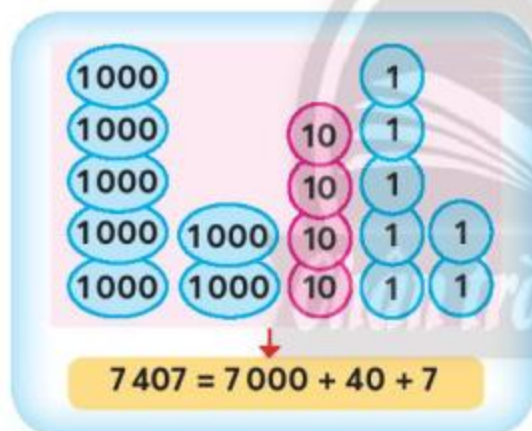
a)



b)



c)



d)



2 Chọn ý trả lời đúng.

a) $700 + \text{?.} = 1600$

A. 2300

B. 900

C. 1300

b) $\text{?.} + 7350 = 9500$

A. 2150

B. 2250

C. 2850

c) $8000 - \text{?.} = 600$

A. 8600

B. 8400

C. 7400

d) $\text{?.} - 4730 = 5170$

A. 9900

B. 10000

C. 440

3 Đặt tính rồi tính.

a) $6\ 381 + 1\ 071$

b) $833 + 1\ 548$

c) $5\ 486 - 2\ 485$

d) $2\ 617 - 1\ 909$

4 Thay dấu $?$ bằng dấu phép tính thích hợp (+, -, ×, :).

a) $200 \times 5 \text{ ?} 800 = 200$

b) $200 : 5 \text{ ?} 800 = 840$

c) $1\ 000 : 2 \text{ ?} 500 = 0$

d) $5\ 000 \times 0 \text{ ?} 8 = 0$

5 Trong một đợt dịch bệnh, Nhà nước đã cung cấp lương thực cho các gia đình khó khăn ở một khu vực. Lần thứ nhất cung cấp 2 350 kg gạo, lần thứ hai ít hơn lần thứ nhất 450 kg gạo. Hỏi cả hai lần khu vực đó đã được cung cấp bao nhiêu ki-lô-gam gạo?



6 Số?

Tuyến đường sắt Bắc – Nam (Hà Nội – Thành phố Hồ Chí Minh) đi qua nhiều tỉnh và thành phố, trong đó có thành phố Vinh (tỉnh Nghệ An).

Tuyến đường sắt	Chiều dài
Hà Nội – Thành phố Hồ Chí Minh	1726 km
Hà Nội – Vinh	319 km
Vinh – Thành phố Hồ Chí Minh	? km



Nghệ An có đường bờ biển dài 82 km với nhiều bãi tắm đẹp thu hút khách du lịch quốc tế như bãi biển Cửa Lò, Cửa Hội.



Bãi biển Cửa Lò (Nghệ An)



Cùng người thân tìm vị trí tỉnh Nghệ An trên bản đồ (trang 88). Từ Nghệ An đến Thành phố Hồ Chí Minh, theo đường bờ biển, phải đi qua bao nhiêu tỉnh, thành phố?

THÁNG, NĂM

Một năm có bao nhiêu tháng? Mỗi tháng có bao nhiêu ngày?

Quan sát
tờ lịch.



Năm 2023

Tháng 1							Tháng 2							Tháng 3							Tháng 4							
Thứ Hai	Thứ Ba	Thứ Tư	Thứ Năm	Thứ Sáu	Thứ Bảy	Chủ nhật	Thứ Hai	Thứ Ba	Thứ Tư	Thứ Năm	Thứ Sáu	Thứ Bảy	Chủ nhật	Thứ Hai	Thứ Ba	Thứ Tư	Thứ Năm	Thứ Sáu	Thứ Bảy	Chủ nhật	Thứ Hai	Thứ Ba	Thứ Tư	Thứ Năm	Thứ Sáu	Thứ Bảy	Chủ nhật	
						1			1	2	3	4	5			1	2	3	4	5							1	2
2	3	4	5	6	7	8	6	7	8	9	10	11	12	6	7	8	9	10	11	12	3	4	5	6	7	8	9	
9	10	11	12	13	14	15	13	14	15	16	17	18	19	13	14	15	16	17	18	19	10	11	12	13	14	15	16	
16	17	18	19	20	21	22	20	21	22	23	24	25	26	20	21	22	23	24	25	26	17	18	19	20	21	22	23	
23	24	25	26	27	28	29	27	28	27	28	29	30	31	24	25	26	27	28	29	30	24	25	26	27	28	29	30	
30	31																											

Tháng 5							Tháng 6							Tháng 7							Tháng 8												
Thứ Hai	Thứ Ba	Thứ Tư	Thứ Năm	Thứ Sáu	Thứ Bảy	Chủ nhật	Thứ Hai	Thứ Ba	Thứ Tư	Thứ Năm	Thứ Sáu	Thứ Bảy	Chủ nhật	Thứ Hai	Thứ Ba	Thứ Tư	Thứ Năm	Thứ Sáu	Thứ Bảy	Chủ nhật	Thứ Hai	Thứ Ba	Thứ Tư	Thứ Năm	Thứ Sáu	Thứ Bảy	Chủ nhật						
						1				1	2	3	4							1	2							1	2	3	4	5	6
8	9	10	11	12	13	14	5	6	7	8	9	10	11	3	4	5	6	7	8	9	7	8	9	10	11	12	13						
15	16	17	18	19	20	21	12	13	14	15	16	17	18	10	11	12	13	14	15	16	14	15	16	17	18	19	20						
22	23	24	25	26	27	28	19	20	21	22	23	24	25	17	18	19	20	21	22	23	21	22	23	24	25	26	27						
29	30	31	26	27	28	29	30	24	25	26	27	28	29	30	28	29	30	31	28	29	30	31											

Tháng 9							Tháng 10							Tháng 11							Tháng 12									
Thứ Hai	Thứ Ba	Thứ Tư	Thứ Năm	Thứ Sáu	Thứ Bảy	Chủ nhật	Thứ Hai	Thứ Ba	Thứ Tư	Thứ Năm	Thứ Sáu	Thứ Bảy	Chủ nhật	Thứ Hai	Thứ Ba	Thứ Tư	Thứ Năm	Thứ Sáu	Thứ Bảy	Chủ nhật	Thứ Hai	Thứ Ba	Thứ Tư	Thứ Năm	Thứ Sáu	Thứ Bảy	Chủ nhật			
						1							1				1	2	3	4	5							1	2	3
4	5	6	7	8	9	10	2	3	4	5	6	7	8	6	7	8	9	10	11	12	4	5	6	7	8	9	10			
11	12	13	14	15	16	17	9	10	11	12	13	14	15	13	14	15	16	17	18	19	11	12	13	14	15	16	17			
18	19	20	21	22	23	24	16	17	18	19	20	21	22	20	21	22	23	24	25	26	18	19	20	21	22	23	24			
25	26	27	28	29	30	23	24	25	26	27	28	29	27	28	29	30	25	26	27	28	29	30	31	25	26	27	28	29	30	31

Một năm có 12 tháng.

Mỗi tháng có 30, 31 hoặc 28, 29 ngày.

1 Hãy kể tên các tháng trong năm.

2 Đọc số ngày của từng tháng trong bảng dưới đây.

THÁNG 1 31 ngày	THÁNG 2 28 hoặc 29 ngày	THÁNG 3 31 ngày	THÁNG 4 30 ngày	THÁNG 5 31 ngày	THÁNG 6 30 ngày
THÁNG 7 31 ngày	THÁNG 8 31 ngày	THÁNG 9 30 ngày	THÁNG 10 31 ngày	THÁNG 11 30 ngày	THÁNG 12 31 ngày

1 Xem lịch năm nay và trả lời câu hỏi.

- Hôm nay là thứ mấy, ngày, tháng, năm nào?
- Tháng sau là tháng mấy, có bao nhiêu ngày?
- Sinh nhật của Bác Hồ là ngày nào? Sinh nhật Bác năm nay vào thứ mấy?

2 Xem ba tờ lịch sau của năm 2024 và trả lời câu hỏi.

2024

Tháng 1						
Thứ Hai	Thứ Ba	Thứ Tư	Thứ Năm	Thứ Sáu	Thứ Bảy	Chủ nhật
1	2	3	4	5	6	7
8	9	10	11	12	13	14
15	16	17	18	19	20	21
22	23	24	25	26	27	28
29	30	31				

Tháng 2						
Thứ Hai	Thứ Ba	Thứ Tư	Thứ Năm	Thứ Sáu	Thứ Bảy	Chủ nhật
			1	2	3	4
5	6	7	8	9	10	11
12	13	14	15	16	17	18
19	20	21	22	23	24	25
26	27	28	29			

Tháng 3						
Thứ Hai	Thứ Ba	Thứ Tư	Thứ Năm	Thứ Sáu	Thứ Bảy	Chủ nhật
				1	2	3
4	5	6	7	8	9	10
11	12	13	14	15	16	17
18	19	20	21	22	23	24
25	26	27	28	29	30	31

- Ngày 1 tháng 1 là thứ mấy?
- Ngày 3 tháng 2 là thứ mấy? Tháng 2 có bao nhiêu ngày?
- Ngày 8 tháng 3 là thứ mấy?

3 Câu nào đúng, câu nào sai?

- Nếu hôm nay là thứ Sáu thì 7 ngày nữa cũng là thứ Sáu.
- Ngày 31 tháng 6 là sinh nhật của một bạn trong lớp em.
- 1 năm = 12 tháng, 1 tháng = 30 ngày.
- Các tháng có 31 ngày là: tháng 1, tháng 3, tháng 5, tháng 7, tháng 8, tháng 10 và tháng 12.



Tháng nào có bao nhiêu ngày?

Em nắm hai bàn tay, đọc theo các chấm tròn, từ trái qua phải, lần lượt từ tháng 1 đến tháng 12.


- Các tháng tương ứng chấm tròn màu đỏ: 31 ngày.
- Các tháng tương ứng chấm tròn màu xanh dương: 30 ngày hoặc 28; 29 ngày (tháng 2).

Chỗ lồi của đốt xương chỉ tháng có 31 ngày.



GAM

Cái bắp cải cân nặng 1 kg.



Quả cà tím cân nặng chưa tới 1 kg.

Quả cà tím cân nặng bao nhiêu?

Gam là một đơn vị đo khối lượng.

Gam viết tắt là g.

$$1000 \text{ g} = 1 \text{ kg}$$

1 Viết số đo khối lượng (xem mẫu).

Mẫu:



2 Nhận biết các quả cân 100 g, 200 g, 500 g, 1 kg.

Nâng lần lượt các quả cân và đọc số đo trên quả cân.

3 Ước lượng và thực hành cân.

- Chọn bốn vật, ví dụ: chai nước 1 l, hộp bút, sách Toán 3, cặp sách. Ước lượng từng vật (nặng hơn, nhẹ hơn hay nặng bằng 1 kg).
- Cân rồi ghi chép khối lượng từng vật. Sắp xếp các vật từ nhẹ đến nặng.

1 Số?

a) $2 \text{ kg} = \text{?. g}$
 $5 \text{ kg} = \text{?. g}$

b) $3000 \text{ g} = \text{?. kg}$
 $7000 \text{ g} = \text{?. kg}$

c) $1 \text{ kg } 400 \text{ g} = \text{?. g}$
 $2500 \text{ g} = \text{?. kg ?. g}$

2 Thay ? bằng kg hay g?



3 Số?



- a) 5 hộp sữa cân nặng ?. g.
b) 1 hộp sữa cân nặng ?. g.

4 Lượng sữa trong hộp cân nặng 380 g.

Vỏ hộp sữa cân nặng 52 g. Hỏi cả hộp sữa cân nặng bao nhiêu gam?



Chim ruồi ong là loài chim tí hon, có con chỉ dài khoảng 5 cm và nặng chưa tới 2 g.



MI-LI-LÍT

Chai này đựng
1 l nước.



Cốc này đựng
bao nhiêu nước?

Mi-li-lít là một đơn vị đo dung tích.

Mi-li-lít viết tắt là ml.

$$1000 \text{ ml} = 1 \text{ l}$$



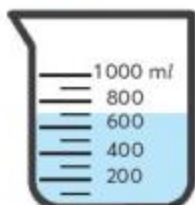
1 ml nước khoảng
20 giọt nước.



1

Mỗi bình đựng bao nhiêu nước? (Viết theo mẫu.)

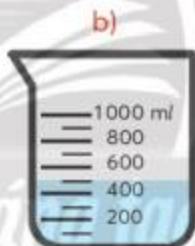
Mẫu:



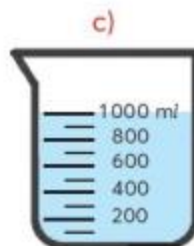
700 ml



..?



..?



..?

2

Đọc dung tích ghi trên một vài hộp sữa, chai nước.

3

Dùng bình có vạch chia mi-li-lít để nhận biết dung tích của một cốc nước, dung tích bình nước của em.

Đoán xem cốc nước
này đựng bao nhiêu
mi-li-lít nước.



Đổ cốc nước đầy
vào bình có vạch
chia mi-li-lít không
chứa nước.

1 Số?

a) $3\text{ l} = ?\text{ ml}$
 $7\text{ l} = ?\text{ ml}$

b) $2000\text{ ml} = ?\text{ l}$
 $5000\text{ ml} = ?\text{ l}$

c) $1\text{ l } 500\text{ ml} = ?\text{ ml}$
 $3600\text{ ml} = ?\text{ l } ?\text{ ml}$

2 Thay ? bằng l hay ml?

a)



Một thìa (muỗng) nhỏ chứa khoảng 5 ? mật ong.

b)



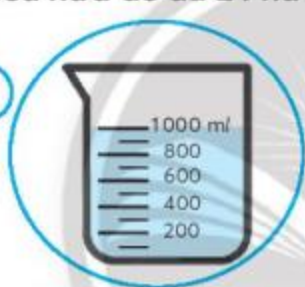
500 ? nước

c)



500 ? nước

3 Mỗi bình biểu thị lượng nước các bạn đã uống. Mỗi bạn cần uống thêm bao nhiêu nữa để đủ 2 l nước?




Vân cần uống thêm ? nước.



Tuấn cần uống thêm ? nước.



4 Mỗi bạn sẽ lấy hai bình nào để hai bạn có lượng nước bằng nhau?



A



B



C



D



- 1 thìa nhỏ (còn gọi là thìa cà phê) chứa khoảng 5 ml chất lỏng.
- 1 l nước nặng khoảng 1 kg.



NHÂN SỐ CÓ BỐN CHỮ SỐ VỚI SỐ CÓ MỘT CHỮ SỐ

$4213 \times 2 = ?$

Thực hiện phép nhân này như thế nào?

Đặt tính rồi tính như nhân số có ba chữ số.



$4213 \times 2 = ?$

$$\begin{array}{r} 4213 \\ \times 2 \\ \hline 8426 \end{array}$$

$4213 \times 2 = 8426$

- 2 nhân 3 bằng 6, viết 6.
- 2 nhân 1 bằng 2, viết 2.
- 2 nhân 2 bằng 4, viết 4.
- 2 nhân 4 bằng 8, viết 8.

$1524 \times 3 = ?$

$$\begin{array}{r} 1524 \\ \times 3 \\ \hline 4572 \end{array}$$

$1524 \times 3 = 4572$

- 3 nhân 4 bằng 12, viết 2, nhớ 1.
- 3 nhân 2 bằng 6, thêm 1 bằng 7, viết 7.
- 3 nhân 5 bằng 15, viết 5, nhớ 1.
- 3 nhân 1 bằng 3, thêm 1 bằng 4, viết 4.

1

Đặt tính rồi tính.

1221×4

2000×5

810×8

1105×9

1060×6

2618×2

1 Tính nhẩm.

a) 50×2
 500×2
 5000×2

b) 20×4
 200×4
 2000×4

2 Số?

$1020 \xrightarrow{\times 8} ?$

$? \xrightarrow{: 5} 610$

$1703 \xrightarrow{\times 5} ?$

$? \xrightarrow{: 7} 1402$

3 $>, <, =$

- a) 1080×9 ? 1020×9
b) $2 \times 1000 \times 5$? $1000 \times 2 \times 5$
c) 2400×2 ? $(200 + 4000) \times 2$

4 Tìm giá trị thích hợp của mỗi biểu thức.

a) $800 \times 4 + 1800$

b) $2700 \times 3 - 5100$

c) $(1200 + 300) \times 6$

d) $10000 - 1600 \times 5$

9000

3000

2000

5000

5

Trong kho có 10 000 kg gạo. Người ta dùng 6 xe để chuyển gạo trong kho đến các cửa hàng. Biết mỗi xe chở 1500 kg gạo. Hỏi trong kho còn lại bao nhiêu ki-lô-gam gạo?



6

Hôm qua bạn Nam đã uống 1 l nước và 2 chai nước, mỗi chai 500 ml. Hỏi hôm qua bạn Nam đã uống bao nhiêu lít nước?



Chỉ đường cho bạn Gấu đi theo các phép tính có kết quả lớn hơn 1000 để tìm được mật ong.

Bắt đầu



5×1000	600×2	$2000 - 900$	130×8
7×150	$1350 - 250$	$1200 - 170$	$300 + 701$
$620 + 180$	$780 + 300$	$600 + 410$	120×9
$1500 - 450$	5×200	900×3	$1570 - 570$



CHIA SỐ CÓ BỐN CHỮ SỐ CHO SỐ CÓ MỘT CHỮ SỐ

$1218 : 3 = ?$

$$\begin{array}{r} 1218 \quad | \quad 3 \\ 01 \quad | \quad 406 \\ 18 \quad | \\ 0 \end{array}$$

$1218 : 3 = 406$

Cách trình bày khác các phép chia đã học.



Ở mỗi lượt chia: nhân rồi trừ nhẩm.



- 12 chia 3 được 4, viết 4.
4 nhân 3 bằng 12;
12 trừ 12 bằng 0.
- Hạ 1; 1 chia 3 được 0, viết 0.
0 nhân 3 bằng 0;
1 trừ 0 bằng 1.
- Hạ 8, được 18;
18 chia 3 được 6, viết 6.
6 nhân 3 bằng 18;
18 trừ 18 bằng 0.

$8725 : 2 = ?$

$$\begin{array}{r} 8725 \quad | \quad 2 \\ 07 \quad | \quad 4362 \\ 12 \quad | \\ 05 \quad | \\ 1 \end{array}$$

$8725 : 2 = 4362 \text{ (dư 1)}$

- Chân trời sáng tạo*
- 8 chia 2 được 4, viết 4.
4 nhân 2 bằng 8;
8 trừ 8 bằng 0.
 - Hạ 7; 7 chia 2 được 3, viết 3.
3 nhân 2 bằng 6;
7 trừ 6 bằng 1.
 - Hạ 2, được 12;
12 chia 2 được 6, viết 6.
6 nhân 2 bằng 12;
12 trừ 12 bằng 0.
 - Hạ 5; 5 chia 2 được 2, viết 2.
2 nhân 2 bằng 4;
5 trừ 4 bằng 1.

1 Đặt tính rồi tính.

$8444 : 7$

$2000 : 4$

$3814 : 8$

$9108 : 9$

$1060 : 5$

$5618 : 6$

1 Số?

Số bị chia	8840	?.	3352	?.
Số chia	4	4	8	8
Thương	2210	2210	?.	409

2 Đúng hay sai? Sửa các câu sai cho đúng.

a)
$$\begin{array}{r} 2473 \\ 07 \overline{) 309} \\ 73 \\ 1 \end{array}$$

b)
$$\begin{array}{r} 7704 \\ 50 \overline{) 856} \\ 54 \\ 0 \end{array}$$

c)
$$\begin{array}{r} 9048 \\ 004 \overline{) 316} \\ 18 \\ 0 \end{array}$$

3 Câu nào đúng, câu nào sai?

a) Mỗi hộp sữa nặng 432 g. Vậy 3 hộp sữa như thế nặng hơn 1 kg.

b) Chia đều 5400 ml mật ong cho 8 gia đình. Mỗi gia đình được hơn 1 l mật ong.

4 Số?

a)
$$\begin{array}{c} 1000 \\ \downarrow \times 7 \\ \text{?.} \\ \downarrow -2000 \\ \text{?.} \end{array}$$

b)
$$\begin{array}{c} \text{?.} \\ \downarrow + 500 \\ \text{?.} \\ \downarrow \times 8 \\ 8000 \end{array}$$

c)
$$\begin{array}{c} \text{?.} \\ \downarrow : 5 \\ 2000 \\ \downarrow : 4 \\ \text{?.} \end{array}$$

Chân trời sáng tạo

5 Cô Lê lau dọn 6 căn phòng hết 3 giờ. Hỏi cô Lê mất bao nhiêu phút để lau dọn 1 căn phòng, biết thời gian lau dọn mỗi căn phòng là như nhau?





Ai dành nhiều thời gian đọc sách hơn?
Cuối tuần hai chị em An và Bình thường dành ra một khoảng thời gian để đọc sách. Bình đọc sách từ 15 giờ 45 phút đến 16 giờ 45 phút. Chị An đọc sách từ 16 giờ 30 phút đến 18 giờ 30 phút. Người dành nhiều thời gian cho việc đọc sách hơn là: .?.



Số?

Một con voi cân nặng 5 000 kg. Khối lượng con voi gấp 4 lần khối lượng con hươu cao cổ.
Con hươu cao cổ nặng .?. kg.



Năm 1990 ước tính số voi hoang dã của Việt Nam có gần 2 000 con. Hiện nay Việt Nam chỉ còn chưa đến 150 con voi hoang dã. Những con voi này phân bố ở 8 tỉnh: Sơn La, Nghệ An, Hà Tĩnh, Quảng Nam, Đắk Lắk, Đắk Nông, Đồng Nai và Bình Phước.

Bản Đôn (tỉnh Đắk Lắk) là nơi có đàn voi rừng và voi nhà nhiều nhất Việt Nam với số lượng khoảng 100 con voi rừng và gần 50 con voi nhà.



Voi ở Bản Đôn



Tìm vị trí các tỉnh có voi hoang dã sống ở nước ta trên bản đồ (trang 88).

EM LÀM ĐƯỢC NHỮNG GÌ?

1 Chọn ý trả lời đúng.

a) $?. \times 8 = 1600$

A. 8800

B. 2000

C. 200

b) $?. : 6 = 600$

A. 3600

B. 606

C. 100

c) $3 \times ?. = 9000$

A. 3000

B. 2700

C. 300

2 Tìm các biểu thức có giá trị bằng nhau.

5000×1

1530×2

4000×2

$1530 + 1530$

4×2000

$5000 : 1$

3 Đặt tính rồi tính.

a) 1342×2

b) 1605×6

c) $3603 : 3$

d) $6879 : 9$

4 Số?

Số đã cho	3280	2210	?
Gấp lên 2 lần	6560	?	3352

- 5 Một trang trại nuôi bò và gà, trong đó có 1020 con bò. Số con gà trang trại nuôi gấp 8 lần số con bò. Hỏi trang trại đó nuôi tất cả bao nhiêu con bò và gà?



- 6 An có 1 l sữa, An để phần ông bà 500 ml sữa, phần còn lại An rót đều vào 2 cốc. Hỏi mỗi cốc đựng bao nhiêu mi-li-lít sữa?



Số?

Quan sát hình ảnh bên.

Chó cân nặng $?.$ kg.

Mèo cân nặng $?.$ kg $?.$ g.



Gấp đôi là gấp 2 lần.

Tôi nặng gấp đôi bạn Gà.



Tôi nặng 2500 g.

Bạn Gà nặng gấp đôi tôi.

GÓC VUÔNG, GÓC KHÔNG VUÔNG



Hai kim ở mỗi đồng hồ tạo thành hình ảnh góc.



• Góc vuông

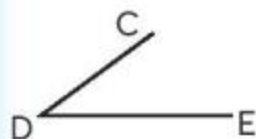


Góc đỉnh O;
cạnh OA, OB.



Góc đỉnh M;
cạnh MP, MQ.

• Góc không vuông



Góc đỉnh ?.;
cạnh ?., ?.



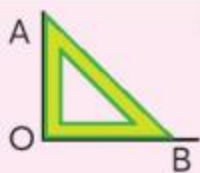
Góc đỉnh ?.;
cạnh ?., ?.

• Dụng cụ kiểm tra góc vuông, vẽ góc vuông



Ê-ke

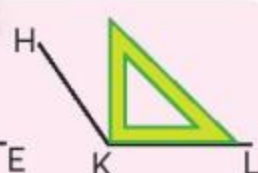
Chân trời sáng tạo



Các góc đỉnh O và đỉnh M
là các góc vuông.



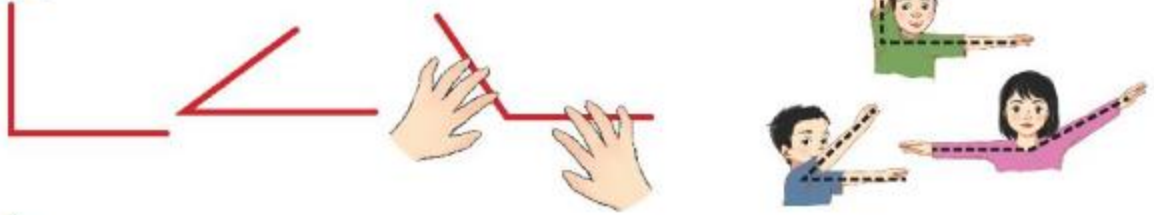
Các góc đỉnh D và đỉnh K
là các góc không vuông.



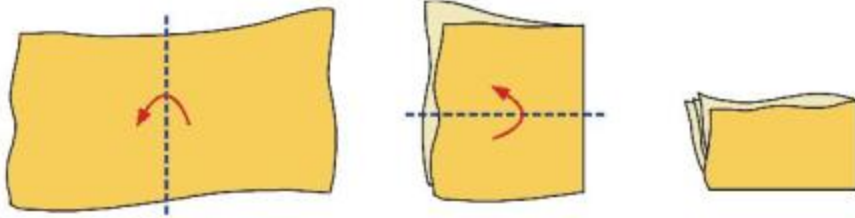
Vẽ góc vuông



1 Tạo hình góc vuông, góc không vuông.



2 Gấp tờ giấy theo hình sau để được góc vuông.

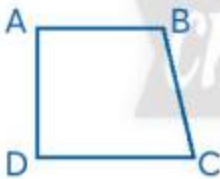


3 Dùng ê-ke kiểm tra xem góc nào dưới đây là góc vuông.

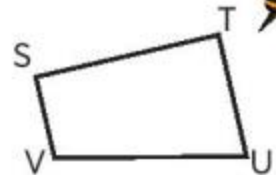
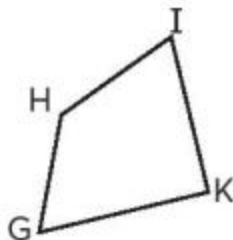
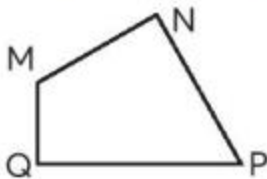


4 Dùng ê-ke kiểm tra để biết mỗi hình sau có mấy góc vuông rồi nói theo mẫu.

Mẫu:



Tứ giác ABCD có 4 góc, trong đó có 2 góc vuông là: góc đỉnh A và góc đỉnh D.



5 Dùng ê-ke vẽ một góc vuông.

1 Chọn ý trả lời đúng.

Số góc vuông trong hình bên là:

- A. 1
- B. 2
- C. 3
- D. 4



HÌNH CHỮ NHẬT



Miếng gỗ nào hình chữ nhật?



Tìm hiểu về góc và cạnh của hình chữ nhật ABCD.

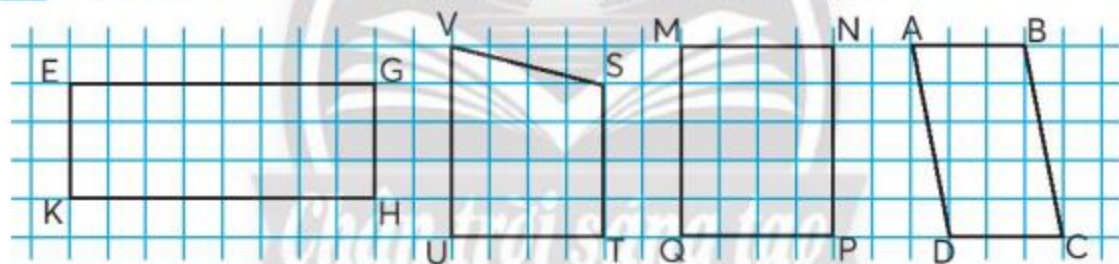
- Dùng ê-ke để nhận biết 4 góc đỉnh A, B, C, D có là góc vuông không.
- So sánh độ dài các cạnh: $AB \text{ ? } CD$; $AD \text{ ? } BC$.

Hình chữ nhật có:

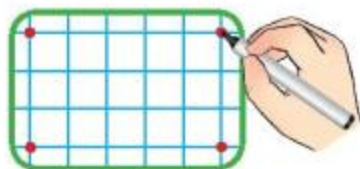
- 4 góc vuông;
- 2 cạnh dài có độ dài bằng nhau,
- 2 cạnh ngắn có độ dài bằng nhau.

• Độ dài cạnh dài gọi là *chiều dài*, độ dài cạnh ngắn gọi là *chiều rộng*.

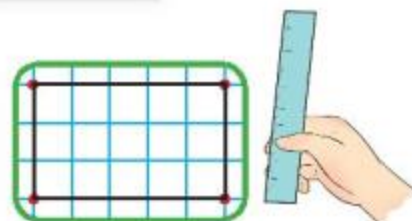
1 Trong các hình dưới đây, hình nào là hình chữ nhật?



2 Vẽ hình chữ nhật trên bảng con.



Vẽ 4 đỉnh của hình chữ nhật.



Dùng thước thẳng vẽ các cạnh.

1 Số?



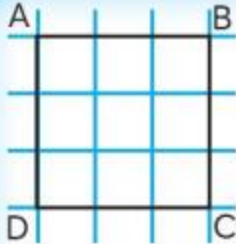
Khung cửa sổ có dạng hình chữ nhật.



HÌNH VUÔNG



Miếng bìa nào hình vuông?



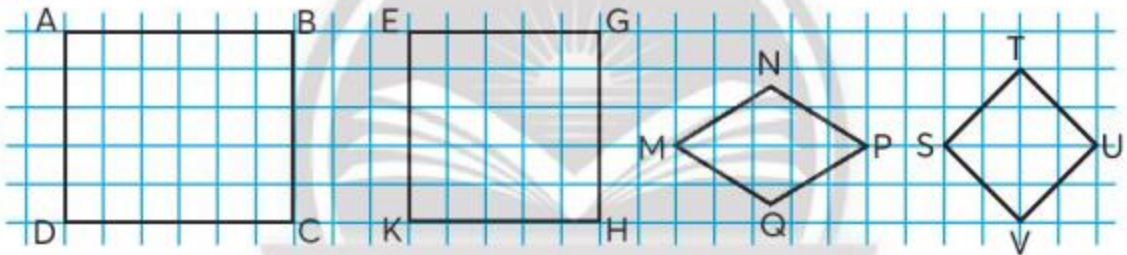
Tìm hiểu về góc và cạnh của hình vuông ABCD:

- Dùng ê-ke để nhận biết 4 góc đỉnh A, B, C, D có là góc vuông không.
- So sánh độ dài các cạnh: AB ? BC ? CD ? DA.

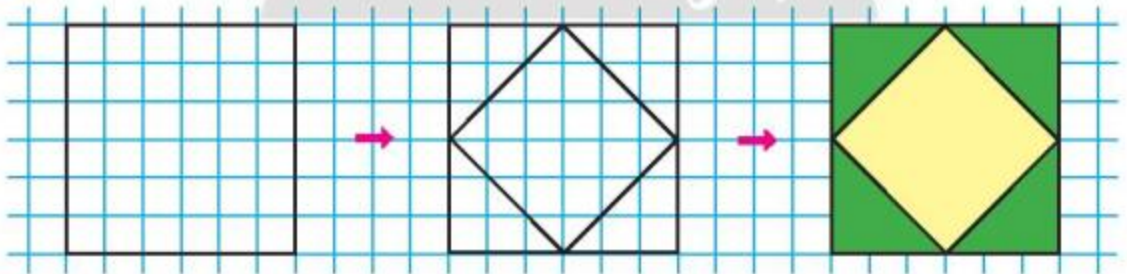
Hình vuông có:

- 4 góc vuông;
- 4 cạnh có độ dài bằng nhau.

1 Trong các hình dưới đây, hình nào là hình vuông?

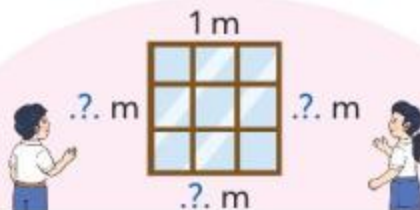


2 Vẽ và trang trí hình vuông trên giấy kẻ ô vuông.



1 Số?

Khung cửa sổ trong hình dưới đây có dạng hình vuông.

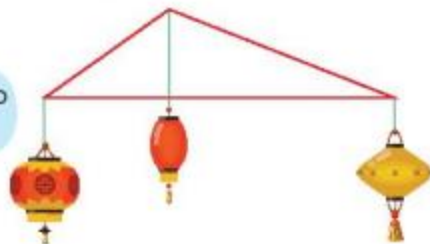


CHU VI HÌNH TAM GIÁC, CHU VI HÌNH TỨ GIÁC

Người ta uốn một đoạn dây thép thành khung hình tam giác.

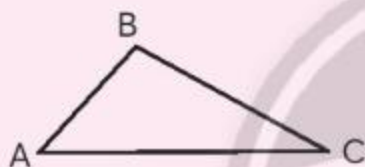
Đoạn dây thép đó dài bao nhiêu nhĩ?

Ta có thể đo rồi tính



Tính chu vi của hình tam giác, hình tứ giác là tính tổng độ dài các cạnh của mỗi hình đó.

Ví dụ 1: Tính chu vi hình tam giác ABC, biết: $AB = 2 \text{ cm}$, $BC = 3 \text{ cm}$, $CA = 4 \text{ cm}$.



Bài giải

Chu vi hình tam giác ABC là:

$$2 + 3 + 4 = 9 \text{ (cm).}$$

Đáp số: 9 cm.

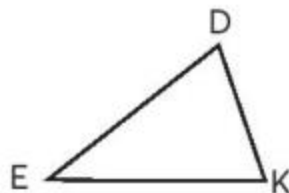
Ví dụ 2: Tính chu vi hình tứ giác DEKI, biết: $DE = 2 \text{ cm}$, $EK = 2 \text{ cm}$, $KI = 3 \text{ cm}$, $ID = 4 \text{ cm}$.



Bài giải

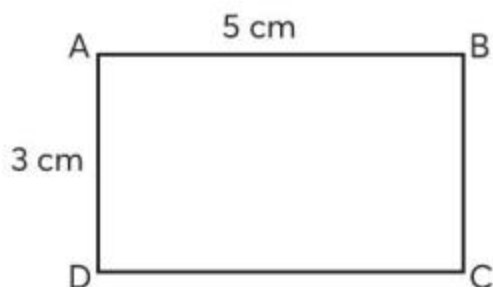
..?

- Đo độ dài các cạnh DE, EK, KD.
 - Tính chu vi hình tam giác DEK.



- Tính chu vi hình tứ giác có độ dài mỗi cạnh là 17 dm.
- Một vùng đất hình tứ giác có độ dài các cạnh lần lượt là 76 km, 51 km, 48 km và 75 km. Tính chu vi vùng đất đó.

CHU VI HÌNH CHỮ NHẬT



• Tính chu vi hình chữ nhật ABCD:

$$5 + 3 + 5 + 3 = 16 \text{ (cm)}$$

$$\text{hoặc } (5 + 3) + (5 + 3) = 16 \text{ (cm)}$$

$$\text{hoặc } (5 + 3) \times 2 = 16 \text{ (cm).}$$

• Muốn tính chu vi hình chữ nhật, ta lấy chiều dài cộng với chiều rộng (cùng đơn vị đo) rồi nhân với 2.

1 Tính chu vi hình chữ nhật.

Chiều dài hình chữ nhật	27 cm	52 m	225 cm
Chiều rộng hình chữ nhật	12 cm	34 m	1 m
Chu vi hình chữ nhật	?.	?.	?. cm

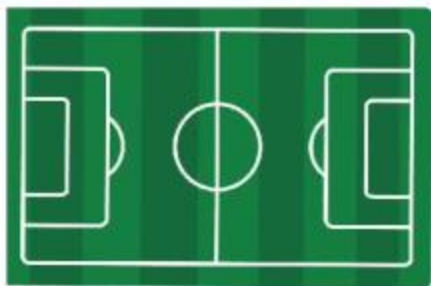
2 Số?

Chu vi hình chữ nhật	84 cm	146 dm	?.
Nửa chu vi hình chữ nhật	?.	?.	45 km

(Nửa chu vi hình chữ nhật là tổng của chiều dài và chiều rộng hình chữ nhật đó.)

1

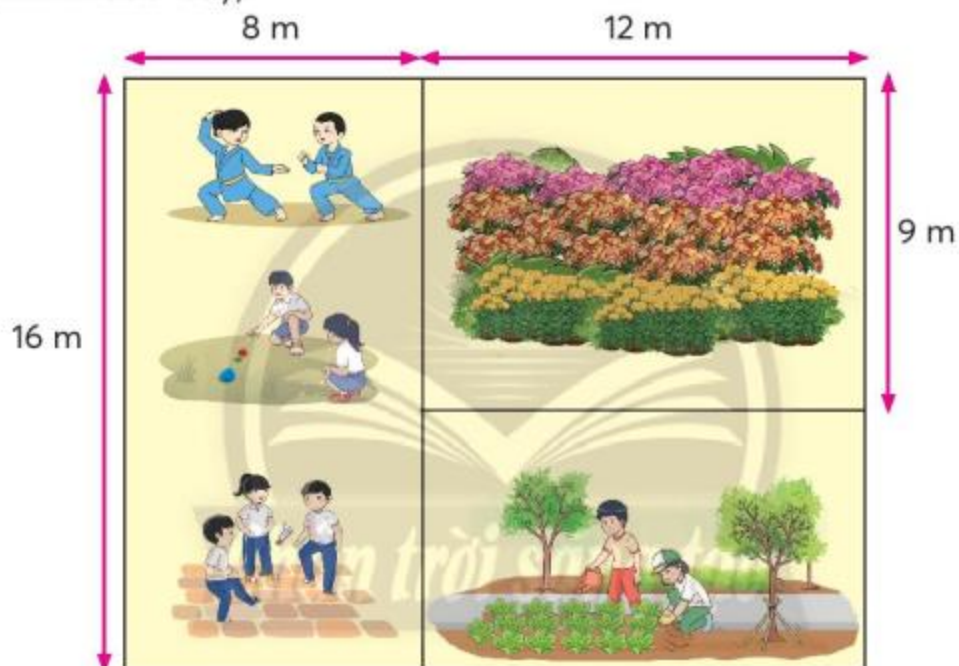
Một sân bóng đá hình chữ nhật có chiều dài 105 m, chiều rộng 68 m. Tính chu vi sân bóng đá đó.



2

Nêu số đo thích hợp.

Một khu đất gồm sân chơi, vườn hoa và vườn rau đều là hình chữ nhật (xem hình dưới đây).

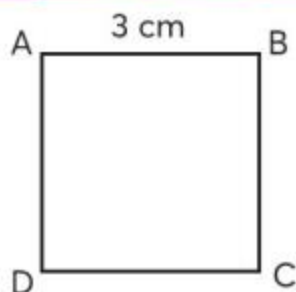


Hình chữ nhật	Sân chơi	Vườn hoa	Vườn rau	Cả khu đất
Chiều dài	..?	..?	..?	..?
Chiều rộng	..?	..?	..?	..?
Chu vi	..?	..?	..?	..?



- Ước lượng chiều dài và chiều rộng của một số vật có dạng hình chữ nhật (bìa một quyển sách, mặt bàn, khung cửa, ...).
- Dùng thước đo để kiểm tra kết quả ước lượng.
- Tính chu vi mỗi hình chữ nhật đó.

CHU VI HÌNH VUÔNG



Làm sao để tính chu vi hình vuông ABCD?

Chỉ cần đo một cạnh thì sẽ tính được.

Tính thế nào nhỉ?



• Tính chu vi hình vuông ABCD:

$$3 + 3 + 3 + 3 = 12 \text{ (cm)}$$

$$\text{hoặc } 3 \times 4 = 12 \text{ (cm).}$$

• Muốn tính chu vi hình vuông, ta lấy độ dài một cạnh nhân với 4.

1

Tính chu vi hình vuông.

Cạnh hình vuông	10 cm	52 m	107 m
Chu vi hình vuông	?.	?.	?.

2

Tính độ dài cạnh hình vuông.

Chu vi hình vuông	28 cm	80 mm	64 km
Cạnh hình vuông	?.	?.	?.



Nam dùng ống hút giấy để làm khung tranh như hình bên.

Trong ba ống hút dưới đây, ống hút nào cắt ra vừa đủ làm khung tranh đó?



- A
- B
- C

1

Bạn Hiếu dùng một sợi dây gắn các ngôi sao để trang trí một vòng theo khung tranh hình vuông (xem hình). Cạnh của khung tranh dài 50 cm. Hỏi sợi dây đó dài bao nhiêu mét?



2

Chọn ý trả lời đúng.

Mỗi tấm ảnh của các bạn trong tổ đều là hình vuông cạnh 8 cm. Hình vuông lớn được ghép bởi 9 tấm ảnh như thế có chu vi là:

- A. 32 cm
- B. 96 cm
- C. 288 cm



3

Nêu số đo thích hợp.

Chu vi hình chữ nhật	40 cm
Nửa chu vi hình chữ nhật	..?
Chiều dài hình chữ nhật	12 cm
Chiều rộng hình chữ nhật	..?



- Ước lượng độ dài cạnh của một số vật có dạng hình vuông (viên gạch, mặt bàn, khung cửa sổ, ...).
- Dùng thước đo để kiểm tra kết quả ước lượng.
- Tính chu vi mỗi hình vuông đó.

BẢNG THỐNG KÊ SỐ LIỆU

Dưới đây là những món quà của học sinh khối lớp 3 gửi tặng đồng bào vùng lũ.



Các bạn học sinh kiểm đếm số lượng các món quà. Với mỗi món quà, các bạn lại vẽ một vạch lên bảng.

Dưới đây là kết quả kiểm đếm và ghi chép số lượng từng loại quà.

Gạo: IIII III (8 bao)

Nước uống: IIII III (8 bình)

Mì ăn liền: IIII IIII II (12 thùng)

Dầu ăn: IIII (5 can)

Đường: IIII II (7 gói)

Sữa: IIII IIII (9 hộp)

Hãy đọc kết quả kiểm đếm và hoàn thiện bảng thống kê dưới đây.

Bảng thống kê các món quà của khối lớp 3

Loại quà	Gạo (bao)	Nước uống (bình)	Mì ăn liền (thùng)	Dầu ăn (can)	Đường (gói)	Sữa (hộp)
Số lượng	.?.	.?.	.?.	.?.	.?.	.?.

Bảng trên có hai hàng:

- Hàng trên: Ghi tên các loại quà.
- Hàng dưới: Ghi số lượng mỗi loại quà.

Dựa vào bảng đã hoàn thiện, trả lời các câu hỏi sau.

- Có bao nhiêu loại quà, đó là những loại nào?
- Mỗi loại quà có số lượng là bao nhiêu?

- 1** Dưới đây là bảng thống kê số sản phẩm mỗi lớp đã làm từ các chai nhựa đã qua sử dụng.

Sản phẩm \ Lớp	3A	3B	3C
Chậu cây	5	8	7
Hộp đựng bút	7	6	8

- a) Mỗi lớp đã làm được bao nhiêu sản phẩm từng loại?
 b) Lớp nào làm được nhiều hộp đựng bút nhất?
 c) Tổng số chậu cây cả ba lớp làm được là bao nhiêu?



- 2** Trong buổi liên hoan cuối năm, lớp 3D có 36 người tham dự. Các bạn dự tính: mỗi người ăn 1 quả chuối, 2 cái bánh và 5 quả chôm chôm. Hãy thống kê số thức ăn lớp 3D cần chuẩn bị cho buổi liên hoan.

Thức ăn	Chuối (quả)	Bánh (cái)	Chôm chôm (quả)
Số lượng	?.	?.	?.



- 1** Dưới đây là bảng thống kê số cây đã trồng trong vườn trường của các lớp khối 3.

Lớp	3A	3B	3C	3D
Số cây	40	25	45	28

- a) Lớp nào trồng được nhiều cây nhất? Lớp nào trồng được ít cây nhất?
 b) Hai lớp 3A và 3C trồng được tất cả bao nhiêu cây?
 c) Lớp 3C trồng được nhiều hơn lớp 3B bao nhiêu cây?

- 2** Dưới đây là chiều cao của bốn ngọn núi cao nhất Việt Nam:
 3096 m; 3046 m; 3143 m; 3076 m.

- a) Trong bảng thống kê sau, tên các ngọn núi được viết theo thứ tự từ cao đến thấp. Hãy thay dấu .?. bởi các số liệu trên để có bảng thống kê chiều cao của bốn ngọn núi cao nhất Việt Nam.

Ngọn núi	Phan Xi Păng	Pu Ta Leng	Pu Si Lung	Ky Quan San
Chiều cao	?. m	?. m	?. m	?. m

- b) Ngọn núi Phan Xi Păng cao hơn ngọn núi Pu Si Lung bao nhiêu mét?
 c) Ngọn núi Ky Quan San thấp hơn ngọn núi Pu Ta Leng bao nhiêu mét?

- 3** Mừng ngày 20 tháng 11, các bạn khối lớp 3 đã tham dự các cuộc thi và đạt được các giải sau đây:

Văn nghệ: 3 giải nhất và 2 giải ba.

Kể chuyện: 2 giải nhất, 1 giải nhì và 4 giải ba.

Cờ vua: 1 giải nhất và 2 giải nhì.

Hãy thay dấu .?. bởi các số thích hợp để có bảng thống kê các giải của khối lớp 3 đạt được.

Giải \ Môn	Văn nghệ	Kể chuyện	Cờ vua
Nhất	3	?.	?.
Nhì	0	?.	?.
Ba	2	?.	?.



Tìm hiểu về việc đọc sách của học sinh (tiến hành theo từng tổ).

• Thu thập

Từ đầu năm học đến nay, em đã đọc được bao nhiêu cuốn sách, truyện?

• Ghi chép

Lần lượt mỗi bạn trong tổ thông báo tên các cuốn sách, truyện đã đọc; đại diện mỗi tổ ghi chép các số liệu của tổ mình.

• Hoàn thiện bảng thống kê số liệu (giáo viên cung cấp mẫu)

Ví dụ: Bảng thống kê số sách, truyện đã đọc của học sinh tổ .?.

Tên học sinh	.?.	.?.	.?.	.?.	.?.	.?.	.?.	.?.	.?.
Số sách, truyện	.?.	.?.	.?.	.?.	.?.	.?.	.?.	.?.	.?.

Dựa vào bảng thống kê đã hoàn chỉnh, trả lời các câu hỏi.

- Mỗi bạn trong tổ đọc được bao nhiêu cuốn sách, truyện?
- Bạn nào đọc được nhiều sách, truyện nhất?
Bạn nào đọc được ít sách, truyện nhất?

Chân trời sáng tạo



CÁC KHẢ NĂNG XẢY RA CỦA MỘT SỰ KIỆN

Khi tung một đồng tiền xu, hai khả năng xảy ra là:

Sự kiện
mặt sấp xuất hiện
có thể xảy ra.



Mặt sấp xuất hiện
(mặt có số 5 000)



Mặt ngửa xuất hiện
(mặt có hình Quốc huy)

- 1** Mỗi hộp có hai quả bóng (như hình vẽ). Không nhìn vào hộp, lấy ra một quả bóng.
Hãy nói các khả năng xảy ra về màu của quả bóng được lấy (dùng các từ *có thể, chắc chắn, không thể*).

Mẫu:



– Quả bóng lấy ra *có thể* màu đỏ.

– Quả bóng lấy ra *có thể* màu xanh.

– Quả bóng lấy ra *không thể* màu vàng.

a)



b)




- 1** Câu nào đúng, câu nào sai?

Trong hộp có ba thẻ **2** **3** **4**. Không nhìn vào hộp, lấy ra một thẻ.

- a) Có thể lấy được thẻ mang số 3.
b) Chắc chắn lấy được thẻ mang số bé hơn 4.
c) Không thể lấy được thẻ mang số 1.

- 2** Bạn Vinh quay bánh xe ở hình bên, khi bánh xe dừng lại, kim có thể chỉ vào phần hình tròn màu gì?



EM LÀM ĐƯỢC NHỮNG GÌ?

1 Đặt tính rồi tính.

- a) $7864 + 329$ b) $5017 - 4808$ c) 1205×6 d) $2916 : 9$

2 Câu nào đúng, câu nào sai?

- a) Chu vi một hình chữ nhật gấp 2 lần tổng của chiều dài và chiều rộng hình chữ nhật đó.
b) Chu vi một hình vuông gấp 2 lần độ dài cạnh hình vuông đó.
c) Số 2000 gấp lên 3 lần thì được số 600.
d) Số 6000 giảm đi 3 lần thì được số 2000.

3

Một bàn bóng bàn dành cho trẻ em có mặt là hình chữ nhật, chiều dài 152 cm, chiều rộng 71 cm. Tính chu vi mặt bàn đó.



4

Chọn ý trả lời thích hợp.

a)



Bạn gái cân nặng:

- A. 30 kg
B. 30 g

b)



Tờ giấy cân nặng:

- A. 1 kg
B. 1 g

c)



Quyển sách Toán 3:

- A. nặng hơn 1 kg.
B. nhẹ hơn 1 kg.

d)



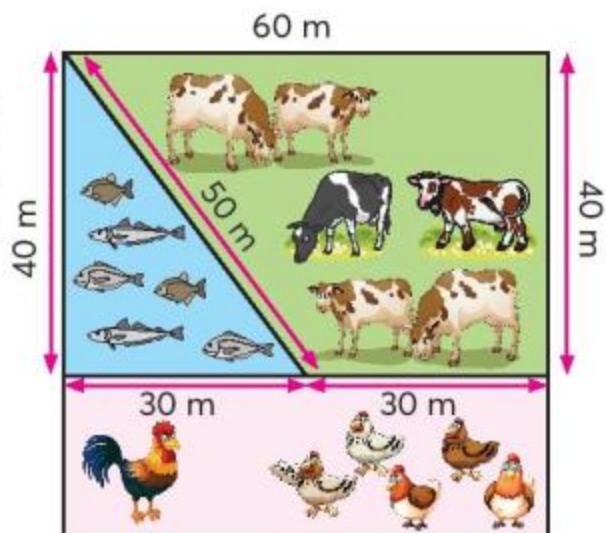
Cục tẩy:

- A. nặng hơn 1 g.
B. nhẹ hơn 1 g.

5 Số?

Gia đình Nam dự định nuôi cá, trồng cỏ cho bò và nuôi gà trên một khu đất hình vuông. Hình vẽ bên dựa trên ý kiến của bạn Nam. Theo hình vẽ, Nam tính được:

- a) Chu vi ao cá là: .?. m.
- b) Chu vi vườn cỏ là: .?. m.
- c) Chu vi trại gà là: .?. m.
- d) Chu vi cả khu đất là: .?. m.



6 Quan sát tờ lịch bên.

a) **Số?**

Theo thứ tự từ đầu tháng đến cuối tháng, các ngày thứ Bảy của tháng 4 năm 2023 là: .?. ; .?. ; .?. ; .?. ; .?.

b) **Trả lời các câu hỏi sau.**

- Tháng 4 năm 2023 có mấy ngày Chủ nhật?
- Chủ nhật cuối cùng là ngày nào?
- Ngày 16 là Chủ nhật thứ mấy trong tháng?

Tháng 4 NĂM 2023

Thứ Hai	Thứ Ba	Thứ Tư	Thứ Năm	Thứ Sáu	Thứ Bảy	Chủ nhật
					1	2
3	4	5	6	7	8	9
10	11	12	13	14	15	16
17	18	19	20	21	22	23
24	25	26	27	28	29	30

7 Có thể, chắc chắn hay không thể?

Trong hộp có hai khối lập phương màu hồng và màu vàng (xem hình).



Không nhìn vào hộp, lấy ra một khối lập phương.

- a) .?. lấy được khối lập phương màu vàng.
- b) .?. lấy được khối lập phương màu hồng.
- c) .?. lấy được khối lập phương màu đỏ.

THỰC HÀNH VÀ TRẢI NGHIỆM

TÍNH CHU VI SÀN PHÒNG HỌC, CHU VI SÂN TRƯỜNG

Thực hành theo nhóm, mỗi nhóm thực hiện một trong hai hoạt động dưới đây.

1. Tính chu vi sàn phòng học

a) Thảo luận

- Sàn phòng học có dạng hình gì?
- Để tính chu vi sàn phòng học cần biết các số đo nào?
- Thống nhất dụng cụ đo (có thể dùng thước mét, đo bằng bước chân, dựa vào các viên gạch hình vuông lát nền).
- Phân công nhiệm vụ: đo, tính toán, chuẩn bị các nội dung sẽ trình bày trước lớp.

b) Thực hiện các nhiệm vụ được phân công.

c) Trình bày các nội dung đã thực hiện trước lớp.

Kết quả giữa các nhóm có giống nhau không? Vì sao?

2. Tính chu vi sân trường

a) Thảo luận


- Sân trường có dạng hình gì?
- Nếu sân trường có dạng hình vuông hay hình chữ nhật thì cần biết các số đo nào?
- Nếu sân trường không có dạng hình vuông hay hình chữ nhật thì đo chu vi sân trường bằng cách nào?
- Thống nhất đo các khoảng cách bằng bước chân.
- Phân công nhiệm vụ: đo, tính toán, chuẩn bị các nội dung sẽ trình bày trước lớp.

b) Thực hiện các nhiệm vụ được phân công.

c) Trình bày nội dung đã thực hiện trước lớp.

Kết quả giữa các nhóm có giống nhau không? Vì sao?

4. CÁC SỐ ĐẾN 100 000



TRĂM NGHÌN

Đếm.

Một nghìn, hai nghìn, ba nghìn, ..., mười nghìn.

Mười nghìn, hai mươi nghìn, ba mươi nghìn, ..., một trăm nghìn.

1 nghìn 10 nghìn (1 vạn)

100 nghìn (10 vạn)
100 000

1 a) Viết và đọc các số tròn chục nghìn trong bảng dưới đây.

	Viết số	Đọc số
	10 000	mười nghìn
	?.	?.
	?.	?.

b) Viết và đọc các số tròn chục nghìn từ 10 000 đến 100 000.

2 Số?

Hàng				
Chục nghìn	Nghìn	Trăm	Chục	Đơn vị
?.	?.	?.	?.	?.

3 Lấy các thẻ **10 000** **1 000** **100** **10** **1** phù hợp với mỗi bảng sau.

a)

Hàng				
Chục nghìn	Nghìn	Trăm	Chục	Đơn vị
2	0	8	3	1

b)

Hàng				
Chục nghìn	Nghìn	Trăm	Chục	Đơn vị
1	3	5	0	7




Quan sát các thẻ số dưới đây.

Số?

Có ?. chục nghìn, ?. nghìn, ?. trăm, ?. chục và ?. đơn vị.

CÁC SỐ CÓ NĂM CHỮ SỐ



Hàng				
Chục nghìn	Nghìn	Trăm	Chục	Đơn vị
?.	?.	?.	?.	?.


Viết số: 45 273

Đọc số: Bốn mươi lăm nghìn hai trăm bảy mươi ba.

Viết số thành tổng: $45\ 273 = 40\ 000 + 5\ 000 + 200 + 70 + 3$

1 Dùng 10 000, 1000, 100, 10, 1 thể hiện số.

Mẫu: 21459



2 chục nghìn,
1 nghìn,
4 trăm,
5 chục,
9 đơn vị



- a) 48 131
- b) 97 254
- c) 18 546

1 Làm theo mẫu.

Đọc số	Viết số	Hàng				
		Chục nghìn	Nghìn	Trăm	Chục	Đơn vị
Năm mươi nghìn tám trăm sáu mươi bảy	50 867	5	0	8	6	7
Chín mươi hai nghìn không trăm linh một	?.	?.	?.	?.	?.	?.
?.	13 105	?.	?.	?.	?.	?.
?.	45 115	?.	?.	?.	?.	?.
?.	?.	9	9	9	9	9

2 Tìm các số còn thiếu rồi đọc các số trong bảng.

89 991	89 992	89 993	?.	?.	89 996	?.	89 998	89 999	90 000
90 001	?.	90 003	90 004	?.	?.	90 007	?.	90 009	?.
?.	90 012	?.	?.	90 015	?.	90 017	90 018	?.	?.

3 Viết số thành tổng (theo mẫu).

Mẫu: $24\ 042 = 20\ 000 + 4\ 000 + 40 + 2$

a) 31 820

b) 10 405

c) 9 009

4 Viết tổng thành số (theo mẫu).

Mẫu: $20\ 000 + 500 + 9 = 20\ 509$


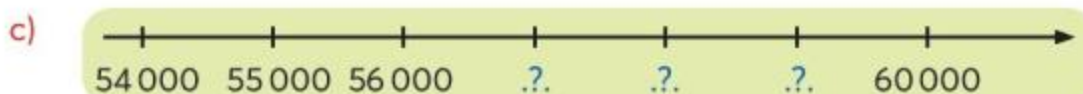
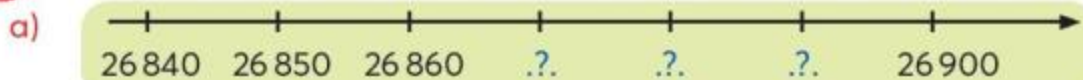
a) $80\ 000 + 9\ 000 + 1$

b) $60\ 000 + 5\ 000 + 50$

c) $90\ 000 + 1\ 000 + 200$

d) $40\ 000 + 4$

5 Số?



Các bạn đi đến đâu?

Tớ đi theo các số có chữ số 8 ở hàng nghìn.

Tớ đi theo các số có chữ số 3 ở hàng trăm.



Mai



Bình

18 213	10 367	77 318	20 348
68 085	82 358	52 300	43 000
58 001	38 408	90 350	30 300
20 000	68 303	28 000	15 300
70 000	50 000	98 113	89 315



Câu lạc bộ



Công viên nước



Thư viện



Sân bóng đá

SO SÁNH CÁC SỐ CÓ NĂM CHỮ SỐ

So sánh các số có năm chữ số có khó không?


Chắc cũng như so sánh các số có bốn chữ số.



• So sánh 2743 và 10520



Hình nào ít khối lập phương hơn?



2743 ? 10520



Số có ít chữ số hơn thì bé hơn.



• So sánh 13359 và 12807



So sánh từng cặp chữ số ở cùng một hàng, kể từ trái sang phải.

1	3	3	5	9
1	2	8	0	7
↑	↑			

giống nhau khác nhau: $3 > 2$

13359 ? 12807

Cặp chữ số đầu tiên khác nhau: Số có chữ số lớn hơn thì lớn hơn.



1 >, <, =

a) $3792 \text{ ? } 10000$

$215 \text{ ? } 1000$

c) $74280 \text{ ? } 74288$

$20306 \text{ ? } 20000 + 300 + 6$

b) $96321 \text{ ? } 95132$

$59901 \text{ ? } 59703$

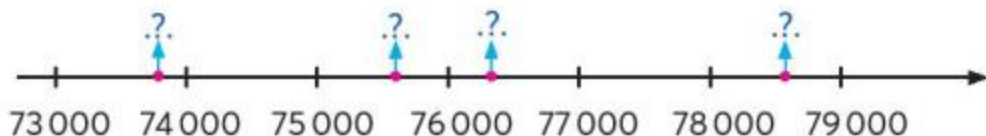
d) $68015 \text{ ? } 70000$

$40070 \text{ ? } 40000 + 100$

2

Cho bốn số: 75 638; 73 856; 76 385; 78 635.

- a) Sắp xếp các số trên theo thứ tự từ lớn đến bé.
b) Tìm vị trí của mỗi số đã cho trên tia số.



1

Thay chữ số thích hợp vào ? .

- a) $78\ 659 < 7? \ 825$
b) $27\ 184 > 27 \ ? \ 93$

2

Câu nào đúng, câu nào sai?

- a) An cao 124 cm, Bình cao 1 m 24 cm. Hai bạn cao bằng nhau.
b) Sáng nay Hùng đã uống được 750 ml nước, Cường đã uống được hơn 1 l nước. Hùng đã uống được ít nước hơn Cường.
c) Bao đậu xanh cân nặng 20 kg 500 g, bao gạo cân nặng 25 kg. Bao đậu xanh cân nặng hơn bao gạo.

3

Làm tròn số đến hàng chục nghìn.

Ví dụ:

30 715, 31 528, 32 605, 33 901, 34 285 $\xrightarrow{\hspace{2cm}}$ 30 000
 35 202, 36 119, 37 453, 38 109, 39 505 $\xrightarrow{\hspace{2cm}}$ 40 000

Làm tròn số đến hàng chục nghìn

- a) Làm tròn số 94 162 đến hàng chục nghìn thì được số ?.
b) Làm tròn số 69 801 đến hàng chục nghìn thì được số ?.
c) Làm tròn số 26 034 đến hàng chục nghìn thì được số ?.



Thay ★ bằng số thích hợp.

- a) $78\ 309 = 70\ 000 + 8\ 000 + \star + 9$ b) $18\ 300 = 10\ 000 + \star + 300$
c) $90\ 000 + 8\ 000 + \star = 98\ 020$ d) $40\ 000 + \star + 60 = 45\ 060$

PHÉP CỘNG CÁC SỐ TRONG PHẠM VI 100 000

$$31421 + 12515 = ?$$



Thực hiện như
phép cộng trong
phạm vi 10 000.

$$\begin{array}{r} 31421 \\ + 12515 \\ \hline 43936 \end{array}$$

$$31421 + 12515 = 43936$$

- 1 cộng 5 bằng 6, viết 6.
- 2 cộng 1 bằng 3, viết 3.
- 4 cộng 5 bằng 9, viết 9.
- 1 cộng 2 bằng 3, viết 3.
- 3 cộng 1 bằng 4, viết 4.

$$39421 + 12385 = ?$$

$$\begin{array}{r} 39421 \\ + 12385 \\ \hline 51806 \end{array}$$

$$39421 + 12385 = 51806$$

- 1 cộng 5 bằng 6, viết 6.
- 2 cộng 8 bằng 10, viết 0, **nhớ 1**.
- 4 cộng 3 bằng 7, **thêm 1** bằng 8, viết 8.
- 9 cộng 2 bằng 11, viết 1, **nhớ 1**.
- 3 cộng 1 bằng 4, **thêm 1** bằng 5, viết 5.

1

Đặt tính rồi tính.

$$28136 + 30742$$

$$10508 + 5010$$

$$62517 + 36531$$

$$7712 + 80854$$

1 $>, <, =$

- a) $80\,000 + 800 + 8$.?. $88\,000$
b) $65\,000 + 200$.?. $60\,000 + 5\,200$
c) $40\,000 + 4\,000$.?. $8\,000$
d) $33\,000 + 300$.?. $3\,333$

2 Mỗi số là giá trị của biểu thức nào?

A $3\,000 + 5\,000 + 7\,000$

100 000

B $61\,000 + (4\,100 + 4\,900)$

15 000

C $(14\,000 + 36\,000) + 50\,000$

70 000

3 Chọn ý trả lời đúng.

a) .?. $- 11\,800 = 6\,900$

A. 80 800

B. 18 700

C. 17 700

b) .?. $- 43\,050 = 17\,350$

A. 56 800

B. 60 300

C. 60 400

c) .?. $+ 7\,000 = 10\,000$

A. 3 000

B. 17 000

C. 8 000

d) $2\,000 +$.?. $= 82\,000$

A. 9 000

B. 80 000

C. 100 000

4

Một gia đình nuôi bò sữa, tháng thứ nhất bán được 17 250 l sữa, tháng thứ hai bán được nhiều hơn tháng thứ nhất 270 l sữa. Hỏi cả hai tháng gia đình đó bán được bao nhiêu lít sữa?



PHÉP TRỪ CÁC SỐ TRONG PHẠM VI 100 000

$$43936 - 31421 = ?$$



Thực hiện như
phép trừ trong
phạm vi 10 000.

$$\begin{array}{r} 43936 \\ - 31421 \\ \hline 12515 \end{array}$$

- 6 trừ 1 bằng 5, viết 5.
- 3 trừ 2 bằng 1, viết 1.
- 9 trừ 4 bằng 5, viết 5.
- 3 trừ 1 bằng 2, viết 2.
- 4 trừ 3 bằng 1, viết 1.

$$43936 - 31421 = 12515$$

$$51806 - 39421 = ?$$

$$\begin{array}{r} 51806 \\ - 39421 \\ \hline 12385 \end{array}$$

- 6 trừ 1 bằng 5, viết 5.
- 0 không trừ được 2, lấy 10 trừ 2 bằng 8, viết 8, **nhớ 1**.
- 4 **thêm 1** bằng 5, 8 trừ 5 bằng 3, viết 3.
- 1 không trừ được 9, lấy 11 trừ 9 bằng 2, viết 2, **nhớ 1**.
- 3 **thêm 1** bằng 4, 5 trừ 4 bằng 1, viết 1.

$$51806 - 39421 = 12385$$

1

Đặt tính rồi tính.

$$93257 - 31045$$

$$85462 - 4130$$

$$62086 - 31863$$

$$29471 - 6259$$

1 Tính nhẩm.

- a) $73\,000 - 3\,000 + 10\,000$
- b) $25\,000 - (4\,000 + 1\,000)$
- c) $47\,000 + (5\,000 - 2\,000)$

2 Số?

Số bị trừ	83 118	?.	83 118	31 523
Số trừ	42 107	42 107	?.	30 608
Hiệu	41 011	41 011	41 011	?.

- 3 Một người đi từ tỉnh Cà Mau đến Thủ đô Hà Nội theo đường bộ, người đó đã đi qua Thành phố Hồ Chí Minh.



Cà Mau



Thành phố Hồ Chí Minh



Thủ đô Hà Nội

Số?

Quãng đường	Độ dài
Cà Mau – Hà Nội	2034 km
Cà Mau – Thành phố Hồ Chí Minh	308 km
Thành phố Hồ Chí Minh – Hà Nội	?. km



thú thách

Thay dấu ?. bằng dấu phép tính thích hợp (+; -; x; :).

- a) $50\,000 \text{ ?} 20\,000 = 30\,000$
- b) $50\,000 \text{ ?} 30\,000 = 80\,000$
- c) $400 \text{ ?} 5 = 2\,000$
- d) $(2\,000 + 6\,000) \text{ ?} 4 = 2\,000$



đất nước em

Rừng U Minh Hạ, vườn quốc gia ở tỉnh Cà Mau, là khu bảo tồn thiên nhiên với hơn 250 loài thực vật, 180 loài chim và 20 loài bò sát phổ biến.



hoạt động thực tế

Tìm vị trí tỉnh Cà Mau trên bản đồ (trang 88).

EM LÀM ĐƯỢC NHỮNG GÌ?

1 Mỗi số được viết thành tổng nào?

46 705

$40\,000 + 6\,000 + 70 + 5$

46 075

$40\,000 + 600 + 70 + 5$

40 675

$40\,000 + 6\,000 + 700 + 5$

2 $>, <, =$

a) $29\,150$? $29\,000 + 15$

b) $18\,628$? $8\,620 + 10\,000$

c) $81\,097$? $81\,000 + 970$

d) $44\,000 - (40\,000 + 4\,000)$? 0

3 Đặt tính rồi tính.

a) $65\,801 + 12\,178$

b) $27\,613 + 1\,548$

c) $57\,486 - 2\,485$

d) $23\,617 - 4\,135$

4 Chọn ý trả lời đúng.

a) $4\,000 + ? = 10\,000$

A. 6 000

B. 60 000

C. 14 000

b) $? + 10\,600 = 11\,000$

A. 21 600

B. 1 400

C. 400

c) $80\,000 - ? = 60\,000$

A. 2 000

B. 20 000

C. 4 000

d) $? - 25\,000 = 50\,000$

A. 25 000

B. 50 000

C. 75 000

5

Một thư viện có 10 792 quyển sách. Trong đó sách lịch sử là 2 540 quyển, sách khoa học là 3 650 quyển, còn lại là sách văn học. Hỏi thư viện đó có bao nhiêu quyển sách văn học?



NHÂN SỐ CÓ NĂM CHỮ SỐ VỚI SỐ CÓ MỘT CHỮ SỐ

$14213 \times 2 = ?$

$$\begin{array}{r} 14213 \\ \times 2 \\ \hline 28426 \end{array}$$

$14213 \times 2 = 28426$

- 2 nhân 3 bằng 6, viết 6.
- 2 nhân 1 bằng 2, viết 2.
- 2 nhân 2 bằng 4, viết 4.
- 2 nhân 4 bằng 8, viết 8.
- 2 nhân 1 bằng 2, viết 2.

$31524 \times 3 = ?$

$$\begin{array}{r} 31524 \\ \times 3 \\ \hline 94572 \end{array}$$

$31524 \times 3 = 94572$

- 3 nhân 4 bằng 12, viết 2, **nhớ 1**.
- 3 nhân 2 bằng 6, **thêm 1** bằng 7, viết 7.
- 3 nhân 5 bằng 15, viết 5, **nhớ 1**.
- 3 nhân 1 bằng 3, **thêm 1** bằng 4, viết 4.
- 3 nhân 3 bằng 9, viết 9.

1

Đặt tính rồi tính.

20300×3

10810×6

10109×9

809×8

13090×6

13014×7

1

Tính nhẩm.

30×3

3000×3

30000×3

50×4

500×4

5000×4

2 Tìm các biểu thức có giá trị bằng nhau.

A $15\,000 \times 4$

L $8 \times 8\,070$

B $8\,070 \times 8$

M $9\,100 \times 3 \times 2$

C $9\,100 \times (3 \times 2)$

N $30\,000 + 30\,000$

D $5\,000 \times 4 + 43\,000$

O $7 \times 9\,000$


3 Nêu số đo thích hợp.

Cạnh hình vuông	10 cm	120 cm	800 cm	2100 cm	10500 cm
Chu vi hình vuông	40 cm	?.	?.	?.	?.

4 Ngày đầu người ta nhập về kho 36 250 quả trứng, ngày hôm sau nhập về số trứng gấp 2 lần ngày đầu. Hỏi ngày hôm sau người ta nhập về kho bao nhiêu quả trứng?



5 Nhà của Hà cách trường 5 400 m. Hằng ngày đi học, Hà đi từ nhà đến trường rồi lại đi từ trường về nhà. Một tuần Hà đi học 5 ngày. Hỏi trong một tuần đi học, Hà phải đi bao nhiêu ki-lô-mét?



Chữ số?

$$\begin{array}{r}
 2 \quad ? \quad 1 \quad 5 \quad ? \\
 \times \qquad \qquad \qquad 3 \\
 \hline
 ? \quad 1 \quad ? \quad ? \quad 6
 \end{array}$$

CHIA SỐ CÓ NĂM CHỮ SỐ CHO SỐ CÓ MỘT CHỮ SỐ

$94572 : 3 = ?$

$$\begin{array}{r} 94572 \quad | \quad 3 \\ 04 \quad \quad | \quad 31524 \\ 15 \quad \quad | \\ 07 \quad \quad | \\ 12 \quad \quad | \\ 0 \end{array}$$

$94572 : 3 = 31524$

- 9 chia 3 được 3, viết 3.
3 nhân 3 bằng 9; 9 trừ 9 bằng 0.
- Hạ 4; 4 chia 3 được 1, viết 1.
1 nhân 3 bằng 3; 4 trừ 3 bằng 1.
- Hạ 5, được 15; 15 chia 3 được 5, viết 5.
5 nhân 3 bằng 15; 15 trừ 15 bằng 0.
- Hạ 7; 7 chia 3 được 2, viết 2.
2 nhân 3 bằng 6; 7 trừ 6 bằng 1.
- Hạ 2, được 12; 12 chia 3 được 4, viết 4.
4 nhân 3 bằng 12; 12 trừ 12 bằng 0.

$25641 : 4 = ?$

$$\begin{array}{r} 25641 \quad | \quad 4 \\ 16 \quad \quad | \quad 6410 \\ 04 \quad \quad | \\ 01 \quad \quad | \\ 1 \end{array}$$

$25641 : 4 = 6410 \text{ (dư 1)}$

- 25 chia 4 được 6, viết 6.
6 nhân 4 bằng 24; 25 trừ 24 bằng 1.
- Hạ 6, được 16; 16 chia 4 được 4, viết 4.
4 nhân 4 bằng 16; 16 trừ 16 bằng 0.
- Hạ 4; 4 chia 4 được 1, viết 1.
1 nhân 4 bằng 4; 4 trừ 4 bằng 0.
- Hạ 1; 1 chia 4 được 0, viết 0.
0 nhân 4 bằng 0; 1 trừ 0 bằng 1.

1

Đặt tính rồi tính.

$12510 : 5$

$80911 : 8$

$48090 : 6$

$63728 : 9$

$56714 : 7$

$65819 : 2$

1 Tính nhẩm.

$10\ 000 : 5$

$60\ 000 : 6$

$70\ 000 : 7$

$72\ 000 : 8$

$63\ 000 : 9$

$28\ 000 : 2$

2 Số?

Số bị chia	88 412	19 040	?.	?.
Số chia	4	7	8	3
Thương	?.	?.	1507	7126

3 $>, <, =$

a) $15\ 000 : 3 : 2$?. 15 000

b) $80\ 000 : 4 \times 2$?. 5 000

c) $10\ 000 \times 6 : 2$?. 30 000

d) $40\ 000 : 5 : 2$?. 9 000

4 Chọn ý trả lời đúng.

a) ?. : 4 = 6 900

A. 27 600

B. 2760

C. 1725

b) ?. : 8 = 1704

A. 213

B. 8 632

C. 13 632

c) ?. \times 6 = 12 000

A. 72 000

B. 2 000

C. 7 200

d) $5 \times$?. = 18 000

A. 90 000

B. 3 600

C. 9 000

5

Một cửa hàng gạo nhập về 6 xe gạo, mỗi xe chở 3 000 kg gạo. Số gạo này được đóng thành từng túi, mỗi túi 5 kg gạo. Hỏi cửa hàng đã đóng được bao nhiêu túi gạo?



6

Mẹ chia đều 2 l nước trái cây cho 5 người.
Hỏi mỗi người sẽ được chia bao nhiêu mi-li-lít
nước trái cây?



Trò chơi **Bin-gô**

- Mỗi học sinh một thẻ bin-gô có kẻ sẵn ô số.
- Giáo viên lần lượt đọc và viết các phép tính lên bảng (nhân, chia các số tròn nghìn với số có 1 chữ số trong phạm vi 100 000). Học sinh tính rồi khoanh vào số chỉ kết quả trên thẻ.
- Bạn nào khoanh đủ ba số theo một hàng (hàng dọc, hàng ngang hay hàng chéo) thì thắng cuộc và hô lớn "Bin-gô!". Giáo viên và cả lớp cùng kiểm tra kết quả các phép tính của bạn thắng cuộc.

$21000 : 3$

Chân trời sáng tạo

Bin-gô!

2000	1000	3000	2000	8000	9000
15000	0	21000	5000	10000	6000
6000	9000	8000	1000	3000	14000

4000	12000	8000
25000	1000	6000
7000	3000	10000

EM LÀM ĐƯỢC NHỮNG GÌ?

1 Tính nhẩm.

$30\,000 \times 2$

$60\,000 : 2$

$60\,000 : 3$

$4\,000 \times 8$

$32\,000 : 8$

$32\,000 : 4$

$7\,000 \times 9$

$63\,000 : 9$

$63\,000 : 7$

2 Đặt tính rồi tính.

a) $10\,615 \times 6$

b) $4\,091 \times 4$

c) $72\,618 : 3$

d) $39\,155 : 9$

3 Tìm các biểu thức có giá trị bằng nhau.

A $120 : 4$

B 100×5

C 2×100

D 410×6

K $200 : 1$

L 6×410

T $5 \times (60 + 40)$

M $120 : 2 : 2$

4 Thay ?. bằng từ hay số thích hợp.

Bạn Yến ngủ từ 9 giờ tối đến 6 giờ sáng hôm sau. Bạn Oanh ngủ từ 9 giờ 30 phút tối đến 6 giờ sáng hôm sau. Thời gian ngủ của bạn ?. nhiều hơn bạn ?. là ?. phút.

5 Số?

Số đã cho	30 000	2 000	?.	528
Gấp lên 3 lần	90 000	?.	3 000	?.

6 Ông Tư thu hoạch được 30 000 kg khoai tây, gấp 2 lần số khoai tây ông Năm thu hoạch được. Hỏi cả ông Tư và ông Năm thu hoạch được tất cả bao nhiêu ki-lô-gam khoai tây?



Vẹt mẫu đơn là giống vẹt xuất xứ từ châu Phi. Chúng là một trong những loài có kích thước nhỏ nhất trong họ nhà vẹt.

Thường thì mỗi con vẹt mẫu đơn dài khoảng 14 cm, nặng khoảng 47 g.

Nhiệt độ nơi ở thích hợp của vẹt cần phải đạt khoảng từ 33 °C đến 35 °C.



DIỆN TÍCH CỦA MỘT HÌNH



Nền nhà nằm trong khu đất.



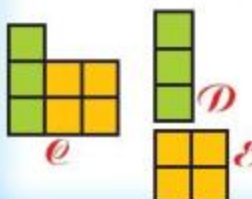
• Diện tích hình tam giác bé hơn diện tích hình tứ giác.

Hình tam giác nằm hoàn toàn trong hình tứ giác.



• Diện tích hình A bằng diện tích hình B .

Hình A và hình B đều gồm 5 ô vuông như nhau.



• Diện tích hình E bằng tổng diện tích hai hình D và E .

Các ô vuông như nhau. Đếm số ô vuông mỗi hình.

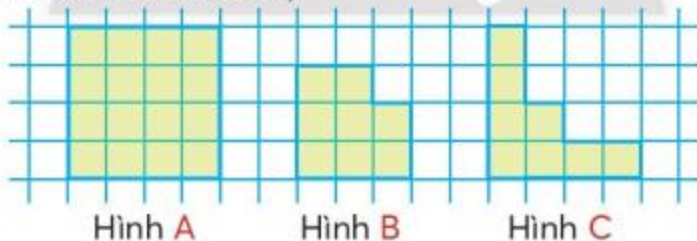
1 So sánh diện tích một số hình phẳng trong bộ đồ dùng học tập.

Mẫu:



- Diện tích hình tam giác bé hơn diện tích hình tròn.
- Diện tích hình tròn lớn hơn diện tích hình tam giác.

2 Quan sát các hình dưới đây.



a) Mỗi hình gồm bao nhiêu ô vuông?

b) Lớn hơn, bé hơn hay bằng?

- Diện tích hình B ?.. diện tích hình A .
- Diện tích hình A ?.. diện tích hình C .
- Diện tích hình B ?.. diện tích hình C .

c) Tổng hay hiệu?

- Diện tích hình A bằng ?.. diện tích hai hình B và C .

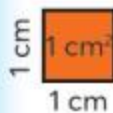


XĂNG-TI-MÉT VUÔNG

Để đo chu vi ta dùng đơn vị đo độ dài.



Để đo diện tích ta dùng đơn vị nào?



- Xăng-ti-mét vuông là một đơn vị đo diện tích.
- Xăng-ti-mét vuông viết tắt là cm^2 .
- 1 cm^2 là diện tích của hình vuông có cạnh dài 1 cm.

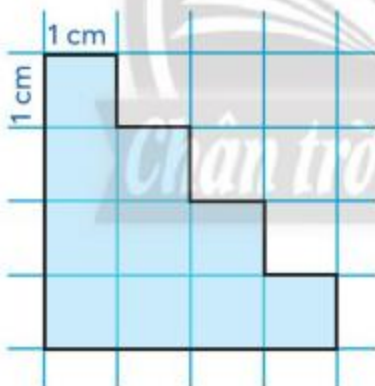
1 Viết các số đo diện tích.

Mẫu: Năm xăng-ti-mét vuông: 5 cm^2 .

- Mười bảy xăng-ti-mét vuông: .?.
- Một trăm tám mươi tư xăng-ti-mét vuông: .?.
- Sáu trăm chín mươi lăm xăng-ti-mét vuông: .?.

2 Viết và đọc số đo diện tích mỗi hình A, B, C (theo mẫu).

Mẫu:

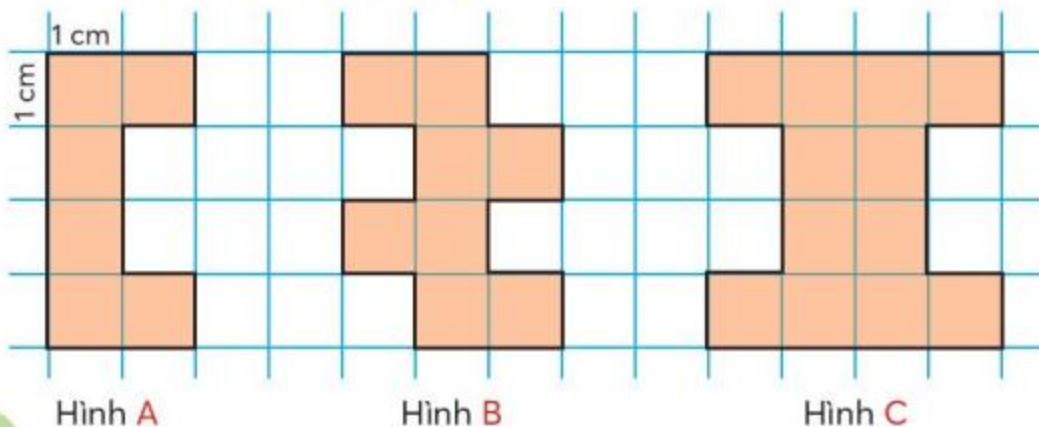


Có 10 ô vuông, mỗi ô vuông có diện tích 1 cm^2 .



Viết: 10 cm^2 .

Đọc: Mười xăng-ti-mét vuông.

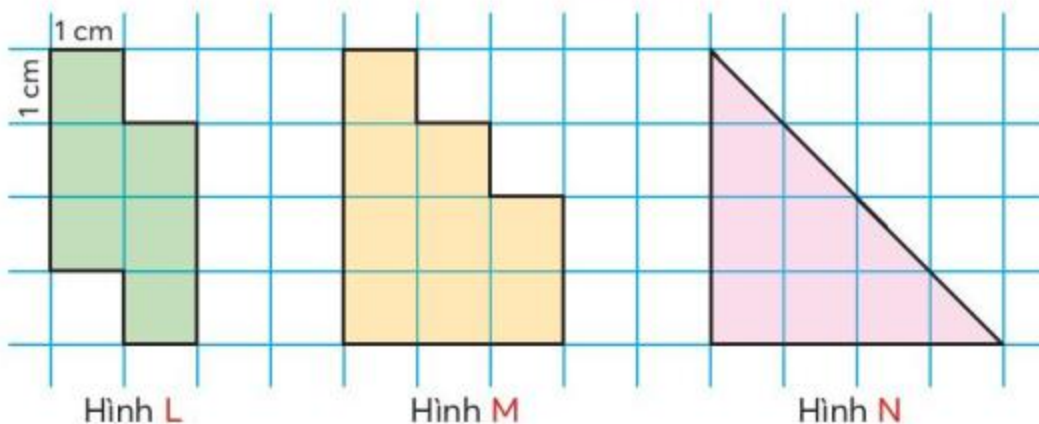


Hình A

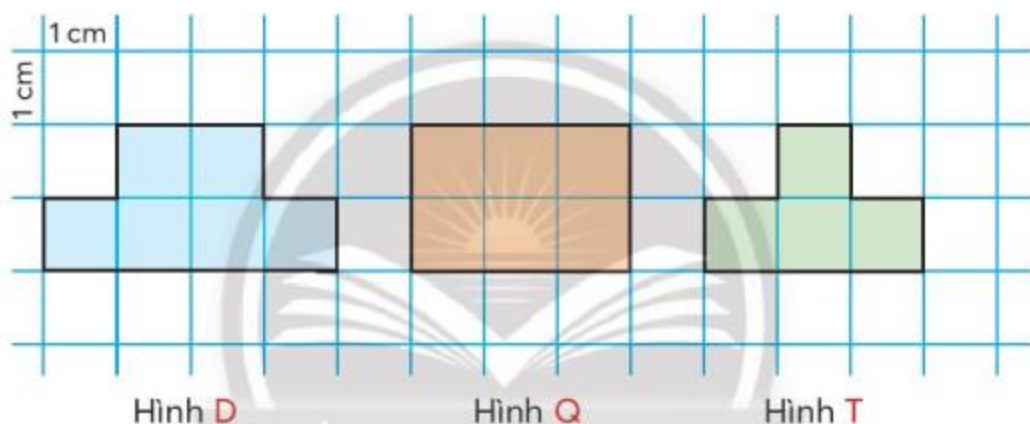
Hình B

Hình C

1 Viết và đọc số đo diện tích mỗi hình **L, M, N**.



2 Quan sát các hình sau.



a) Số?

Hình	Diện tích	Chu vi
D	?. cm ²	?. cm
Q	?. cm ²	?. cm
T	?. cm ²	?. cm

b) Hình nào?

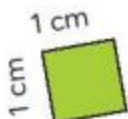
- Hình ? và hình ? có diện tích bằng nhau nhưng chu vi khác nhau.
- Hình ? và hình ? có chu vi bằng nhau nhưng diện tích khác nhau.

3 Số?

Người ta cắt một miếng giấy hình chữ nhật có diện tích 20 cm² thành 2 mảnh giấy có diện tích bằng nhau. Diện tích mỗi mảnh giấy là ? cm².

DIỆN TÍCH HÌNH CHỮ NHẬT

Tính diện tích hình chữ nhật có chiều dài 5 cm, chiều rộng 3 cm.



Dùng các mảnh giấy hình vuông cạnh 1 cm xếp kín hình chữ nhật.



Chia hình chữ nhật thành các ô vuông diện tích 1 cm².



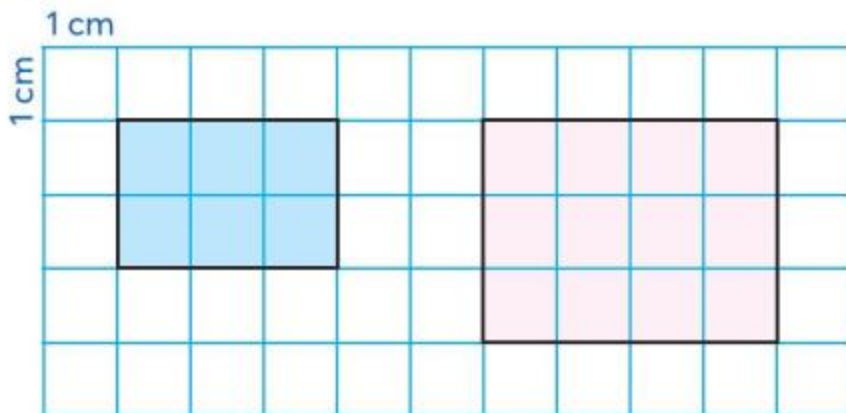
- Tính số ô vuông diện tích 1 cm²:
Mỗi hàng có mấy ô vuông?
Có tất cả mấy hàng?
Viết phép tính:
 $5 \times 3 = 15$ (ô vuông).
- Diện tích hình chữ nhật:
 $5 \times 3 = 15$ (cm²).

Muốn tính diện tích hình chữ nhật ta lấy chiều dài nhân với chiều rộng (cùng đơn vị đo).

1 Thực hành trên giấy kẻ ô vuông.

- a) Vẽ rồi tô màu các hình chữ nhật theo mẫu.

Mẫu:



- b) Tính diện tích mỗi hình chữ nhật trên.

1 Số?

Chiều dài hình chữ nhật	18 cm	25 cm	8 cm	.?. cm
Chiều rộng hình chữ nhật	5 cm	6 cm	.?. cm	9 cm
Diện tích hình chữ nhật	.?. cm ²	.?. cm ²	32 cm ²	153 cm ²

2 Tính (theo mẫu).

Chiều dài hình chữ nhật	8 cm	31 cm	72 cm
Chiều rộng hình chữ nhật	7 cm	9 cm	6 cm
Diện tích hình chữ nhật	$8 \times 7 = 56$ (cm ²)	.?.	.?.
Chu vi hình chữ nhật	$(8 + 7) \times 2 = 30$ (cm)	.?.	.?.

3 Quan sát bức tranh hình chữ nhật dưới đây và thực hiện yêu cầu.**a) Số?**

Bức tranh	Ước lượng	Đo
Chiều dài	.?. cm	.?. cm
Chiều rộng	.?. cm	.?. cm

b) Tính.

Diện tích bức tranh.

Chu vi bức tranh.



DIỆN TÍCH HÌNH VUÔNG

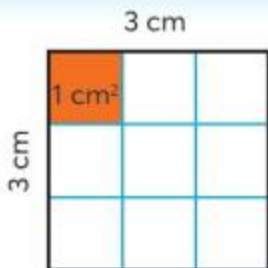
Tính diện tích hình vuông cạnh 3 cm.

Chia hình vuông thành các ô vuông diện tích 1 cm².

Dùng các mảnh giấy hình vuông cạnh 1 cm xếp kín hình vuông.



Tương tự cách tìm diện tích hình chữ nhật.



- Tính số ô vuông diện tích 1 cm²:
Mỗi hàng có mấy ô vuông?
Có tất cả mấy hàng?
Viết phép tính:
 $3 \times 3 = 9$ (ô vuông).
- Diện tích hình vuông:
 $3 \times 3 = 9$ (cm²).

Muốn tính diện tích hình vuông ta lấy độ dài một cạnh nhân với chính nó.

1 Tính (theo mẫu).

Cạnh hình vuông	9 cm	6 cm	8 cm
Diện tích hình vuông	$9 \times 9 = 81$ (cm ²)	?.	?.
Chu vi hình vuông	$9 \times 4 = 36$ (cm)	?.	?.

2 Quan sát bức tranh hình vuông bên.

- Đo độ dài cạnh bức tranh: ?. cm.
- Tính.
 - Diện tích bức tranh.
 - Chu vi bức tranh.



TIỀN VIỆT NAM



Các tờ tiền nào đã giới thiệu ở lớp 2?



Quan sát hai mặt của mỗi tờ tiền dưới đây.



- 1 Đọc số ghi trên mỗi tờ tiền trên để biết mệnh giá của các tờ tiền.
- 2 Đọc chữ ghi trên mỗi tờ tiền sau để biết mệnh giá của các tờ tiền.



3 Đếm rồi nói (theo mẫu).



Hai nghìn đồng, bốn nghìn đồng, ..., mười nghìn đồng. Có tất cả mười nghìn đồng.



a)



b)



c)



4 Kiểm đếm số lượng các tờ tiền có trong bài 3.

Bảng thống kê các tờ tiền

Loại tiền	50 000 đồng	20 000 đồng	10 000 đồng	5000 đồng	2000 đồng	1000 đồng
Số tờ	1 tờ	?.	?.	?.	?.	?.

1 Nếu có 50 000 đồng thì em mua được những đồ vật nào dưới đây?



18 000 đồng



60 000 đồng



42 000 đồng



49 000 đồng



36 000 đồng



6 000 đồng



8 000 đồng



21 000 đồng



24 000 đồng

2 Giá tiền 1 kg cà chua là 17 000 đồng. Với số tiền 50 000 đồng, mẹ có thể mua được 2 kg cà chua không?



Có thể lấy các tờ tiền nào để vừa đúng giá tiền mỗi đồ vật?

a)



b)



Em cùng người thân đi chợ hay siêu thị để tập tính tiền.


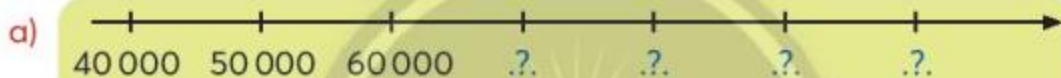
ÔN TẬP CUỐI NĂM

ÔN TẬP CÁC SỐ TRONG PHẠM VI 100 000

1 Thực hiện các yêu cầu sau.

- a) Đọc số: 68 754, 90 157, 16 081, 2 023, 495.
b) Viết số.
- Bảy mươi nghìn sáu trăm ba mươi tám.
 - Chín trăm linh năm.
 - Sáu nghìn hai trăm bảy mươi.
 - Một trăm nghìn.
- c) Viết các số 741, 2 084, 54 692 thành tổng (theo mẫu).
Mẫu: $36\,907 = 30\,000 + 6\,000 + 900 + 7$.

2 Số?



3 Câu nào đúng, câu nào sai?

- a) Số 91171 đọc là *chín mươi một nghìn một trăm bảy mươi một*.
b) Số tám nghìn không trăm năm mươi tư viết là 80504.
c) Số gồm 3 chục nghìn và 3 chục viết là 3030.
d) $2050 = 2000 + 50$.

4 Tìm số phù hợp với mỗi tổng.

A $20\,000 + 700$

B $20\,000 + 7\,000$

C $20\,000 + 7$

D $20\,000 + 70$

S 20 070

T 20 007

U 20 700

V 27 000

5 Chọn ý trả lời đúng.

- a) Số liền trước của số 10 000 là:
A. 99 999 B. 9 999 C. 10 001
- b) Số 20 760 là:
A. số tròn chục nghìn B. số tròn nghìn C. số tròn chục
- c) Làm tròn số 45 279 đến hàng chục nghìn thì được số:
A. 40 000 B. 45 000 C. 50 000
- d) Số lớn nhất có năm chữ số là:
A. 10 000 B. 99 999 C. 100 000

6 Sắp xếp các số sau theo thứ tự từ bé đến lớn.

54 726, 9 895, 56 034, 54 717.



Thay các tấm bìa có dấu $.?$ bằng hai tấm bìa nào bên dưới để được các số sắp xếp theo thứ tự từ lớn đến bé?

71403 $.?$ $.?$ 34107

 31710  74301  37014  41370  73401



Trò chơi

Nói các số tròn chục, tròn trăm, tròn nghìn, tròn chục nghìn
(trong phạm vi 100 000).

Đây là trò chơi dành cho cả lớp.

- Lần lượt từng bạn, mỗi bạn nói một số theo yêu cầu của quản trò.

Ví dụ:

Quản trò: "Nói các số tròn nghìn từ bé đến lớn, bắt đầu từ 80 000".

Các bạn lần lượt nói các số: 80 000, 81 000, 82 000, ..., 100 000.

- Nếu bạn nào nói sai thì bạn đó dừng chơi. Sau một số lượt chơi, các bạn nói sai làm các động tác theo lời một bài hát (cả lớp hát).

Một con vịt xòe ra
hai cái cánh, ...



ÔN TẬP CÁC PHÉP TÍNH

1 Đặt tính rồi tính.

a) $37\,652 + 4\,239$

b) $77\,208 - 68\,196$

c) $10\,813 \times 6$

d) $8\,438 : 7$

2 Tính nhẩm.

a) $2 \times (3\,000 + 2\,000)$

b) $12\,000 : 3 : 4$

c) $19\,000 - 3\,000 \times 3$

d) $(10\,000 - 10\,000) : 8$

3 Mỗi hình che số nào?

a) $1200 + \square = 2000$

b) $\triangle - 1700 = 1800$

c) $\triangle \times 5 = 2000$

d) $\bigcirc : 3 = 800$

4 Chọn số phù hợp với mỗi câu.

Số 618 gấp lên 3 lần
thì được số:

854

Số 618 giảm đi 3 lần
thì được số:

185

Thêm 236 đơn vị vào số 618
thì được số:

1854

Bớt 433 đơn vị ở số 618
thì được số:

206

5 Chọn ý trả lời đúng.

a) Kết quả của phép tính $21\,724 \times 4$ là:

A. 86896

B. 84896

C. 84886

b) Giá trị của biểu thức $1850 - 850 : 5$ là:

A. 200

B. 1833

C. 1680

c) Khối lớp 3 của một trường tiểu học có 7 lớp. Nếu có thêm 1 học sinh lớp 3 nữa thì mỗi lớp vừa đủ 35 em. Khối lớp 3 của trường đó có:

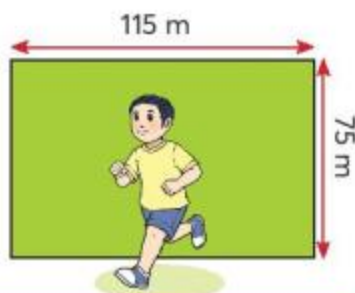
A. 244 học sinh.

B. 245 học sinh.

C. 246 học sinh.

6

Anh Hai đặt kế hoạch mỗi ngày chạy được 2 km. Hôm nay anh Hai chạy 6 vòng xung quanh một sân tập thể thao hình chữ nhật có chiều dài 115 m, chiều rộng 75 m. Hỏi ngày hôm nay anh Hai có đạt được kế hoạch đã đề ra không?




7

Giải bài toán theo tóm tắt sau.

Tóm tắt

Con lợn nặng: 160 kg

Con bò nặng : $\left. \begin{array}{l} \text{---} \\ \text{---} \end{array} \right\} ? \text{ kg}$



8

a) Dùng cả năm chữ số 3, 4, 1, 7, 5 để viết:

- Số lớn nhất có năm chữ số.
- Số bé nhất có năm chữ số.

b) Tính tổng hai số vừa viết.

9

Chữ số?

a)

$$\begin{array}{r} 71?42 \\ - \quad ?52? \\ \hline ?31?5 \end{array}$$

Chân trời sáng tạo

b)

$$\begin{array}{r} 4?2 \\ \times \quad 3 \\ \hline ??8? \end{array}$$



Số?

Có một loài chuột túi khi mới sinh ra chỉ nặng 1 g nhưng khi trưởng thành nặng đến 90 kg. Chuột túi trưởng thành nặng gấp ?. lần lúc mới sinh.



Số?

Em có biết đường biên giới nước ta trên đất liền dài khoảng bao nhiêu ki-lô-mét không?

ÔN TẬP HÌNH HỌC VÀ ĐO LƯỜNG

1 Số?

- a) $1\text{ m} = \text{?. dm}$ $1\text{ km} = \text{?. m}$
 $\quad = \text{?. cm}$ $1\text{ dm} = \text{?. cm}$
 $\quad = \text{?. mm}$ $1\text{ cm} = \text{?. mm}$
- b) $1\text{ kg} = \text{?. g}$
 $1\text{ l} = \text{?. ml}$
- c) $1\text{ năm} = \text{?. tháng}$ Các tháng có 31 ngày là tháng .?.
 $1\text{ tuần} = \text{?. ngày}$ Các tháng có 30 ngày là tháng .?.
 $1\text{ ngày} = \text{?. giờ}$ Tháng có 28 hay 29 ngày là tháng .?.
 $1\text{ giờ} = \text{?. phút}$

2 Chọn ý trả lời đúng.

- a) $7\text{ m } 3\text{ cm} = \text{?.}$
A. 73 cm B. 703 cm C. 730 cm
- b) $3\text{ kg } 500\text{ g} = \text{?.}$
A. 530 g B. 800 g C. 3500 g
- c) 3 chai như nhau đựng được 1500 ml. Mỗi chai đó đựng được .?.
A. 500 ml B. 4500 ml C. 2000 ml
- d) 3 ngày = .?.
A. 36 giờ B. 72 giờ C. 180 giờ

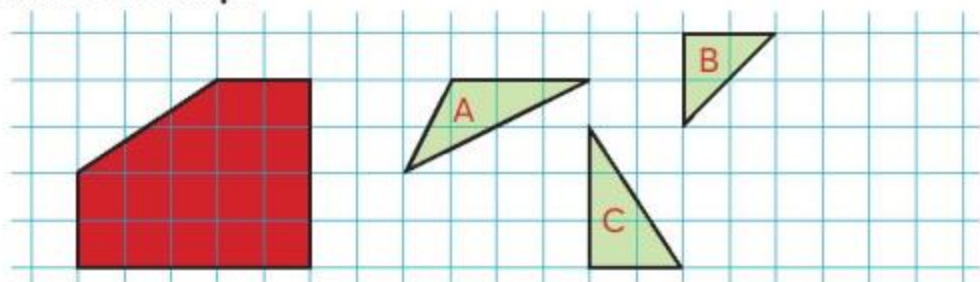
3 Câu nào đúng, câu nào sai?

- a) 18 cm^2 đọc là mười tám xăng-ti-mét hai.
- b) Trong bình của Mai có 450 ml nước, bình của Hiệp có 650 ml nước. Cả hai bình có 1 l nước.
- c) Cả lớp cùng ăn cơm trưa lúc 10 giờ 40 phút.
Trân ăn xong lúc 10 giờ 55 phút, Ngọc ăn xong lúc 11 giờ 5 phút.
Trân ăn cơm xong trước Ngọc 10 phút.

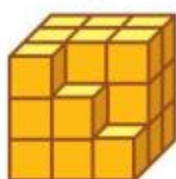
4 Câu nào đúng, câu nào sai?

- a) Trung điểm của đoạn thẳng có thể không nằm trên đoạn thẳng đó.
- b) Trong một hình tròn, độ dài đường kính bằng một nửa độ dài bán kính.
- c) Tổng của chiều dài và chiều rộng của hình chữ nhật bằng một nửa chu vi hình chữ nhật đó.
- d) Hình vuông có 4 góc vuông và 4 cạnh dài bằng nhau.

- 5 Hình nào trong các hình màu xanh ghép với hình màu đỏ thì được một hình chữ nhật?



- 6 Hình nào trong các hình màu xanh ghép với hình màu vàng thì được một khối lập phương?



- 7 Nói theo mẫu.

Mẫu:



Đồng hồ đúng giờ



Đồng hồ màu xanh chậm 5 phút.



Đồng hồ màu vàng nhanh 7 phút.





Đồng hồ đúng giờ



- 8 Đọc nhiệt độ.

Đây là nhiệt độ buổi trưa và buổi đêm trong một ngày tại một địa phương. Nhiệt độ nào là của buổi trưa?

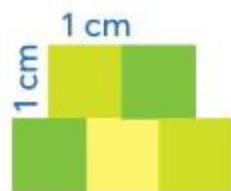




Số?

Hồng dùng 5 miếng giấy hình vuông cạnh 1 cm xếp thành hình A.

- Diện tích hình A là: $?. \text{ cm}^2$.
- Chu vi hình A là: $?. \text{ cm}$.



Hình A



- Trong bức tranh sau, những vật nào có dạng các hình khối đã học?
- Khối lập phương, khối hộp chữ nhật, mỗi khối có mấy đỉnh, mấy cạnh, mấy mặt?




Tìm những vật có dạng các hình khối đã học xung quanh nơi em ở.



ÔN TẬP VỀ MỘT SỐ YẾU TỐ THỐNG KÊ VÀ XÁC SUẤT

- 1** Một nhân viên theo dõi việc nhập gạo vào kho, cứ mỗi bao gạo được nhập vào kho thì nhân viên lại vẽ một vạch vào sổ.

Dưới đây là kết quả kiểm đếm và ghi chép số lượng bao từng loại gạo.

Gạo Nàng hương: 

Gạo Tài nguyên: 

Gạo Tám xoan: 

Gạo ST 25: 

Gạo Một bụi: 



Hãy đọc kết quả kiểm đếm và hoàn thiện bảng thống kê dưới đây.

(Mỗi bao gạo đều cân nặng 50 kg.)

BẢNG SỐ LIỆU CÁC LOẠI GẠO NHẬP KHO

Loại gạo	Nàng hương	Tài nguyên	Tám xoan	ST 25	Một bụi
Số bao	7	?.	?.	?.	?.
Khối lượng	350 kg	?.	?.	?.	?.

Dựa vào bảng thống kê đã hoàn thiện để trả lời các câu hỏi.

- Loại gạo nào nhập về nhiều nhất?
- Loại gạo nào nhập về ít nhất?

- 2** Câu nào đúng, câu nào sai?

Các khả năng xảy ra khi xe ô tô di chuyển đến ngã tư:

- Xe có thể rẽ trái.
- Xe có thể rẽ phải.
- Xe có thể đi thẳng.



Việt Nam là một trong các nước xuất khẩu gạo nhiều nhất trên thế giới.

Gạo ST 25 của Việt Nam được đánh giá là một trong những loại gạo ngon nhất trên thế giới.

THỰC HÀNH VÀ TRẢI NGHIỆM

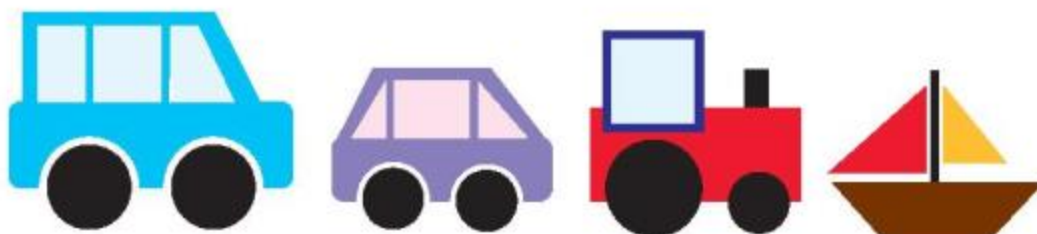
HỘI CHỢ

1. Chuẩn bị

- Giấy trắng, giấy kẻ ô vuông, giấy màu, bút màu, thước kẻ, com-pa, kéo.
- Mỗi tổ vẽ rồi cắt để có hình một số mặt hàng bày bán tại hội chợ và các tờ tiền dùng để mua, bán.

(Vẽ hình tròn bằng com-pa; vẽ hình vuông, hình chữ nhật trên giấy kẻ ô.)

Một số hình vẽ để tham khảo



100 đồng

200 đồng

500 đồng

1000 đồng

2000 đồng

5 000 đồng

10 000 đồng

20 000 đồng

50 000 đồng

100 000 đồng

2. Hội chợ

- Ba nhóm bán hàng, mỗi nhóm vài bạn.

Nhiệm vụ: Viết giá bán cho mỗi mặt hàng, mời khách mua hàng, tính tiền, đổi tiền.

- Các bạn còn lại đóng vai người đi mua hàng.

Trái cây tươi ngon,
mời các bạn mua.



1 kg táo được
5 quả giống nhau.

Mỗi quả bao nhiêu
tiền nhỉ?



2 quyển truyện
cổ tích thì bao
nhiêu tiền?

Lấy 2 chục
nghìn nhân 2 rồi
bớt đi 2 nghìn.



Tuyện danh nhân: 21 500 đồng / 1 quyển
Truyện cổ tích: 19 000 đồng / 1 quyển
Đội bóng lớp 3B: 17 900 đồng / 1 quyển
Nàng công chúa: 16 300 đồng / 1 quyển



Đẹp quá! Mua nhiều
có bớt không bạn?



Nếu mua từ 2 cái trở
lên thì mỗi cái bớt
500 đồng.

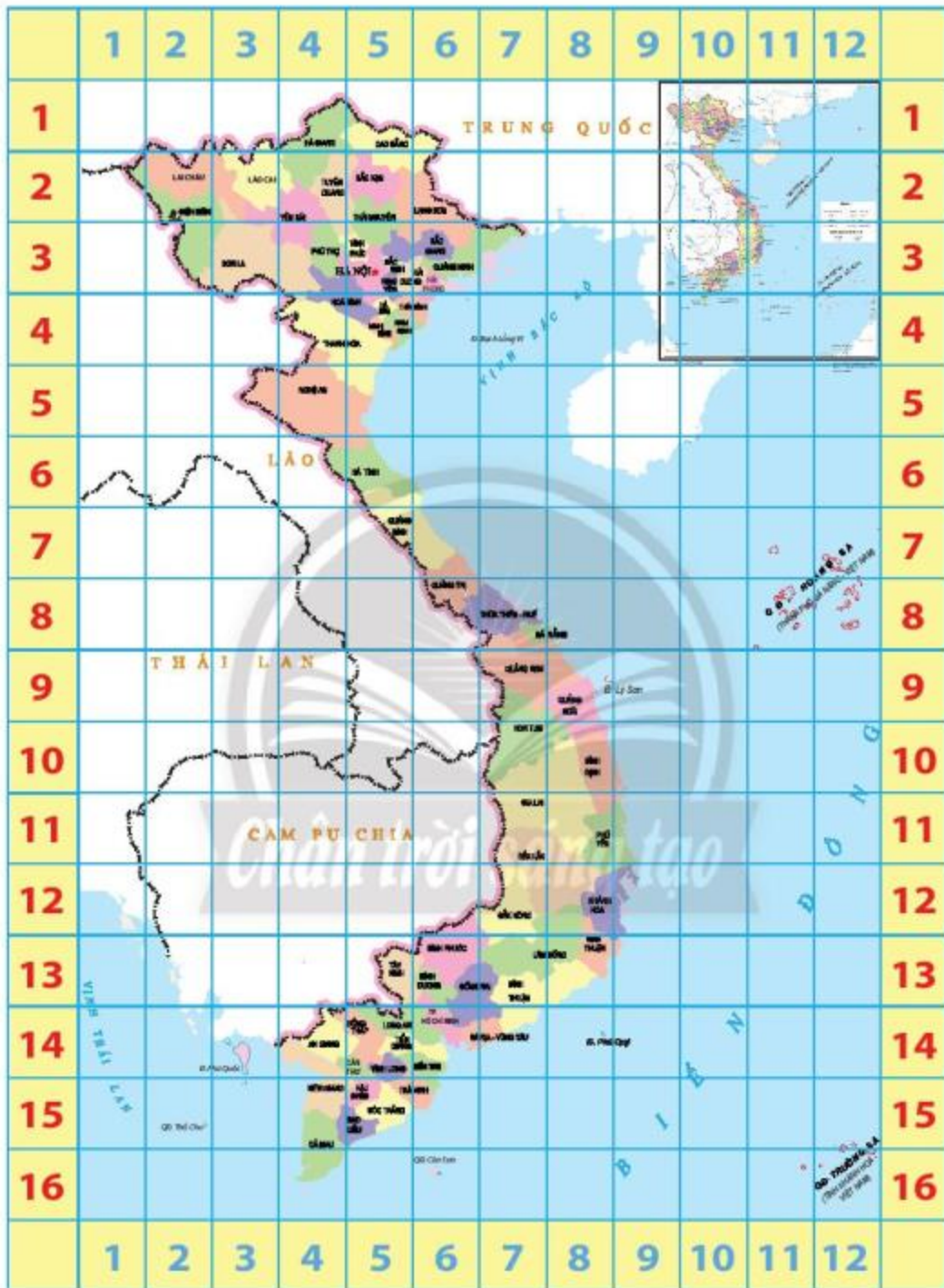


3. Tổng kết hội chợ

Một số bạn nói trước lớp về cách tính tiền nhanh, thuận tiện.

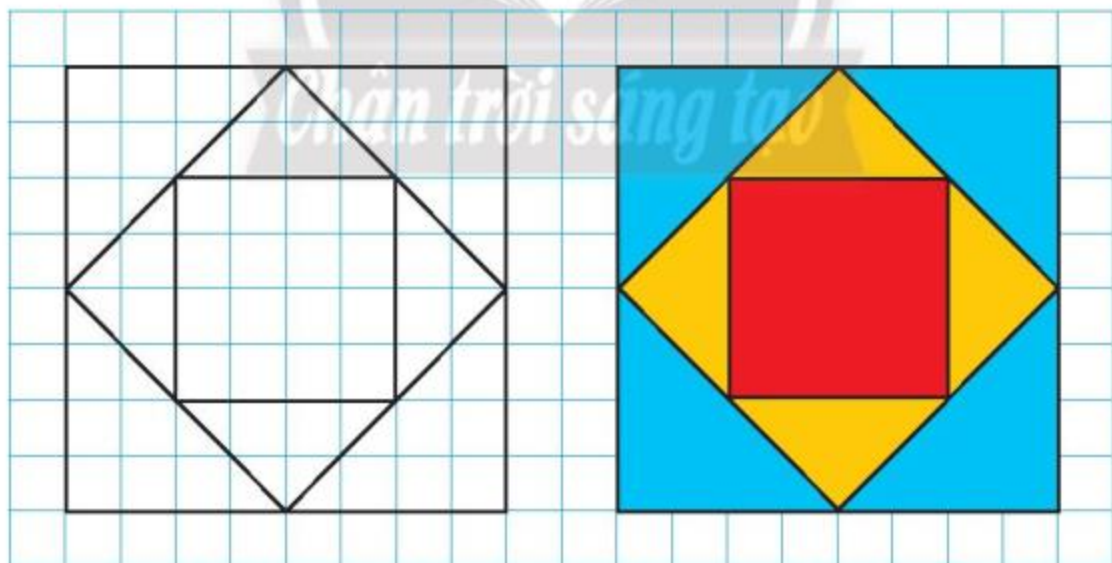
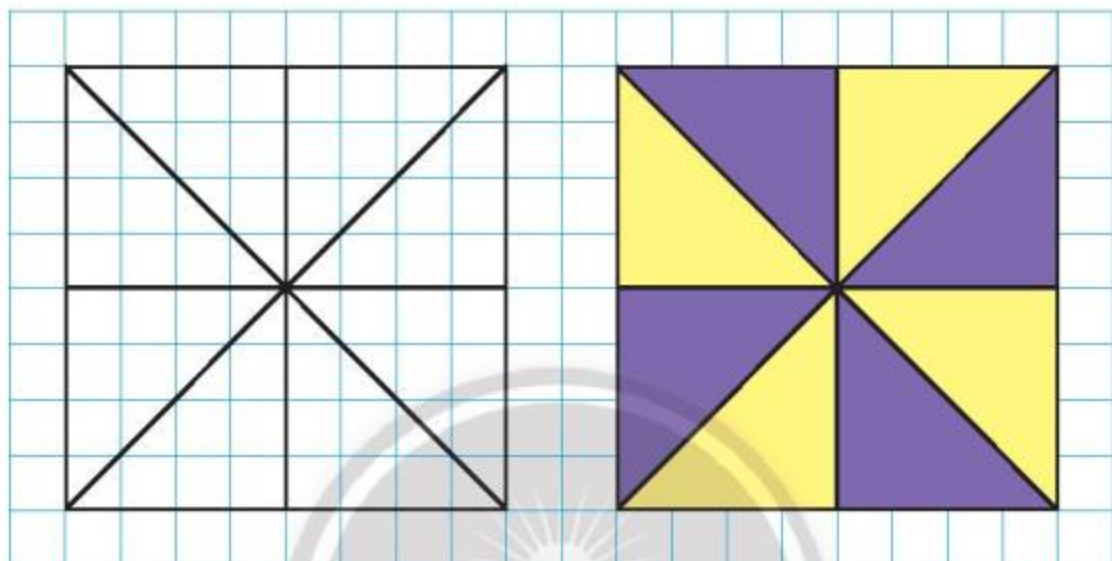
Các bạn chia sẻ về những tình huống vui trong lúc mua, bán.

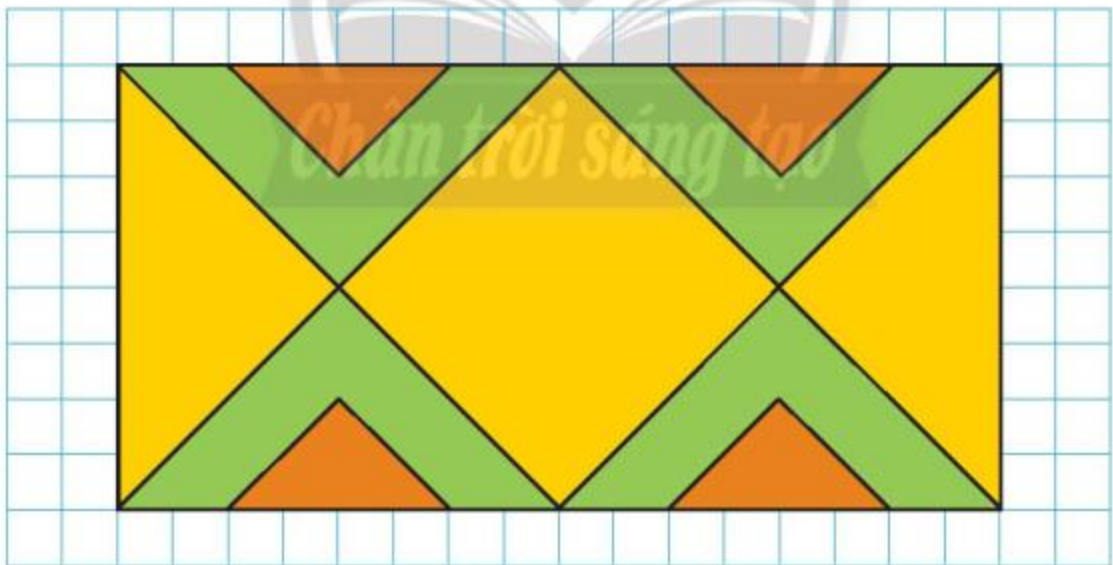
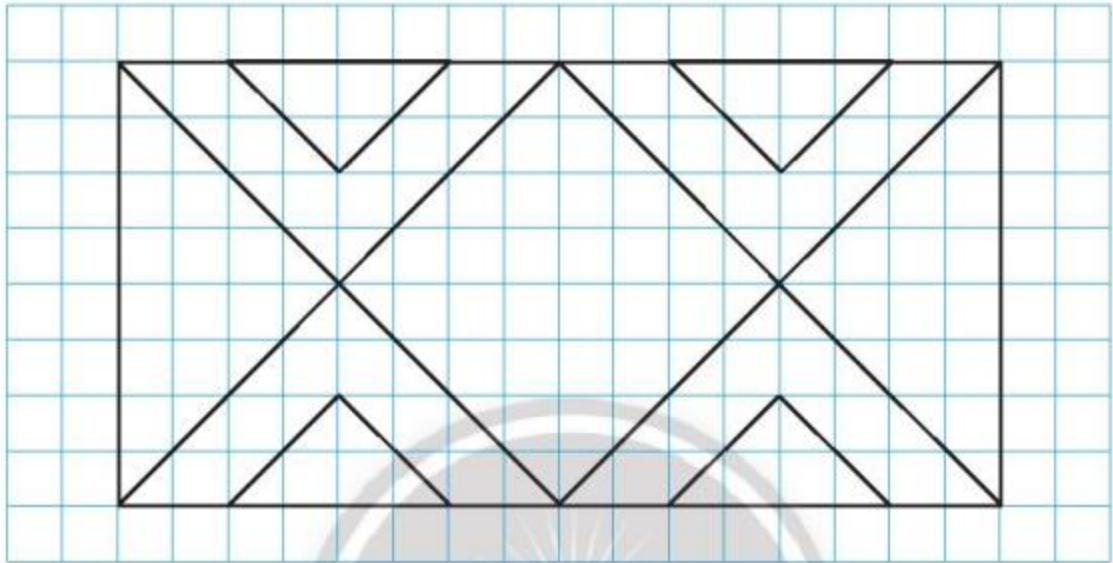
Đất nước em



Nguồn: Cục Đo đạc, Bản đồ và Thông tin địa lý Việt Nam

MỘT SỐ HÌNH MẪU VẼ TRANG TRÍ





Bảng thuật ngữ

Thuật ngữ	Trang
Bảng thống kê số liệu	42
Cạnh	35
Chiều dài	35
Chiều rộng	35
Chu vi	37
Chục nghìn	7
Diện tích	69
Gam	22
Góc	33

Thuật ngữ	Trang
Góc không vuông	33
Góc vuông	33
Mi-li-lít	24
Mười nghìn	7
Năm	20
Khả năng xảy ra	46
Tháng	20
Trăm nghìn	51
Xăng-ti-mét vuông	70

NGUỒN TRI THỨC

Trang	Nội dung	Nguồn tham khảo
11	Vịnh Hạ Long	http://dsvh.gov.vn/vinh-ha-long
12	Phan Xi Păng và Pu Ta Leng	Atlas địa lí Việt Nam và https://batxat.laocai.gov.vn/1263/28655/40761/259227/-cac-diem-du-lich/ngo-ngang-ve-dep-tren-dinh-ky-quan-san
23	Chim ruồi ong	Các siêu sao trong giới động vật, tác giả DK Derek Harvey, Nguyễn Việt Long dịch, Nhà xuất bản Dân trí, 2015
31	Voi hoang dã	https://cand.com.vn/cuoc-song-muon-mau/Cai-thien-buc-tranh-bao-ton-voi-Tay-Nguyen
44	4 ngọn núi cao nhất Việt Nam	Atlas địa lí Việt Nam và https://batxat.laocai.gov.vn/1263/28655/40761/259227/-cac-diem-du-lich/ngo-ngang-ve-dep-tren-dinh-ky-quan-san
68	Vẹt mẫu đơn	https://dictionary.cambridge.org/dictionary/english/lovebirds
81	Chuột túi	Các siêu sao trong giới động vật, tác giả DK Derek Harvey, Nguyễn Việt Long dịch, Nhà xuất bản Dân trí, 2015

*Nhà xuất bản Giáo dục Việt Nam xin trân trọng cảm ơn
các tác giả có tác phẩm, tư liệu được sử dụng, trích dẫn
trong cuốn sách này.*

Chịu trách nhiệm xuất bản:

Chủ tịch Hội đồng Thành viên NGUYỄN ĐỨC THÁI
Tổng Giám đốc HOÀNG LÊ BÁCH

Chịu trách nhiệm nội dung:

Tổng Giám đốc HOÀNG LÊ BÁCH

Biên tập nội dung: TRẦN THANH HÃ – NGUYỄN THỊ PHƯỚC THỌ

Biên tập mỹ thuật: ĐẶNG NGỌC HÃ

Thiết kế sách: ĐẶNG NGỌC HÃ – TÓNG THANH THẢO

Trình bày bìa: THÁI HỮU DƯƠNG

Minh họa: QUỐC HƯNG – THANH THẢO – NGỌC KHANG – NGỌC HÃ

Sửa bản in: TRẦN THANH HÃ – NGUYỄN THỊ PHƯỚC THỌ

Chế bản: CÔNG TY CP DỊCH VỤ XUẤT BẢN GIÁO DỤC GIA ĐỊNH

Bản quyền © (2022) thuộc Nhà xuất bản Giáo dục Việt Nam.

Xuất bản phẩm đã đăng kí quyền tác giả. Tất cả các phần của nội dung cuốn sách này đều không được sao chép, lưu trữ, chuyển thể dưới bất kì hình thức nào khi chưa có sự cho phép bằng văn bản của Nhà xuất bản Giáo dục Việt Nam.

TOÁN 3 – Tập hai (Chân trời sáng tạo)

Mã số:

In bản, (QĐ) khổ 19 x 26,5 cm.

Đơn vị in: địa chỉ

Cơ sở in: địa chỉ

Số ĐKXB:

Số QĐXB: .../QĐ- GD - HN ngày ... tháng ... năm 20...

In xong và nộp lưu chiểu tháng ... năm 20...

Mã số ISBN:



HUÂN CHƯƠNG HỒ CHÍ MINH



BỘ SÁCH GIÁO KHOA LỚP 3 – CHÂN TRỜI SÁNG TẠO

1. TIẾNG VIỆT 3 – TẬP MỘT
2. TIẾNG VIỆT 3 – TẬP HAI
3. TOÁN 3 – TẬP MỘT
4. TOÁN 3 – TẬP HAI
5. TIẾNG ANH 3 Family and Friends
(National Edition) – Student Book
6. TỰ NHIÊN VÀ XÃ HỘI 3
7. CÔNG NGHỆ 3
8. TIN HỌC 3
9. ĐẠO ĐỨC 3
10. ÂM NHẠC 3
11. MĨ THUẬT 3 (BẢN 1)
12. MĨ THUẬT 3 (BẢN 2)
13. HOẠT ĐỘNG TRẢI NGHIỆM 3 (BẢN 1)
14. HOẠT ĐỘNG TRẢI NGHIỆM 3 (BẢN 2)
15. GIÁO DỤC THỂ CHẤT 3

Chân trời sáng tạo

Các đơn vị đầu mối phát hành

- **Miền Bắc:** CTCP Đầu tư và Phát triển Giáo dục Hà Nội
CTCP Sách và Thiết bị Giáo dục miền Bắc
 - **Miền Trung:** CTCP Đầu tư và Phát triển Giáo dục Đà Nẵng
CTCP Sách và Thiết bị Giáo dục miền Trung
 - **Miền Nam:** CTCP Đầu tư và Phát triển Giáo dục Phương Nam
CTCP Sách và Thiết bị Giáo dục miền Nam
 - **Cửu Long:** CTCP Sách và Thiết bị Giáo dục Cửu Long
- Sách điện tử:** <http://hanhtrangso.nxbgd.vn>

Kích hoạt để mở học liệu điện tử: Cào lớp nhũ trên tem để nhận mã số. Truy cập <http://hanhtrangso.nxbgd.vn> và nhập mã số tại biểu tượng chia khoá.



Giá.....